

# Latihan Soal IPS UN dan Ujian SBMPTN/PTS 2016/2017



Smart, Creative  
and Entrepreneurial



**TERDAK PERDANA 2015**  
Prestasi Unggul Mahasiswa  
IPB (2015) PTS 2015  
Rapor Mahasiswa Terbaik  
IPB (2015) PTS 2015

**PTS TERDAK 2015**  
Dalam Bidang Ekonomi  
Prestasi Unggul Mahasiswa  
IPB (2015) PTS 2015  
Rapor Mahasiswa Terbaik  
IPB (2015) PTS 2015

**PTS UNGGULAN 2012**  
Rapor Unggul Mahasiswa  
IPB (2012) PTS 2012  
Rapor Mahasiswa Terbaik  
IPB (2012) PTS 2012

## Prakata

Mempersiapkan diri dalam menghadapi Ujian Nasional dan Ujian SNMPTN/PTS adalah proses yang pasti ditempuh oleh siswa SLTA sebelum melanjutkan ke jenjang pendidikan yang lebih tinggi. Buku Latihan Soal UN dan SMPTN/PTS 2016/2017 ini dapat dijadikan sebagai buku panduan belajar bagi siswa SLTA (SMA, SMK, dan MA) kelas XII.

Buku ini disusun atas kerjasama **Tim Universitas Esa Unggul** dan tim **MGMP Jakarta** yang terdiri dari 2 jenis buku soal IPA dan IPS. Buku ini juga dilengkapi dengan Standar Kompetensi Lulusan (SKL) pada masing-masing mata pelajaran. Kunci jawaban soal hanya diberikan kepada guru sekolah masing-masing sekolah melalui CD atau dapat di download di website Universitas Esa Unggul (<http://www.esaunggul.ac.id>).

Kami harapkan siswa SLTA kelas XII dapat memanfaatkan buku ini dengan baik, sehingga mampu menguasai materi dan penyelesaiannya. Selamat menghadapi Ujian Nasional dan semoga sukses !

Salam,

Tim Penyusun

**LATIHAN SOAL UN DAN UJIAN**

**SNMPTN/PTS 2016/2017**

Mata Pelajaran:  
Bahasa Indonesia  
Bahasa Inggris  
Matematika IPS  
Ekonomi  
Geografi  
Sosiologi

**BAHASA INDONESIA**

Pilihlah satu jawaban yang paling benar!

**Paragraf berikut untuk menjawab soal nomor 1 – 3, bacalah dengan cermat!**

Telkom memiliki program *IndiShcool* yang akan memasang akses poin di 100 ribu dari total 360 ribu sekolah pada 2013. (2) "Harganya sangat terjangkau untuk anak sekolah," ujar Oki, di sela acara *Global Youth Forum* di Nusa Dua, Bali, Kamis, 6 Desember 2012. (3) Jika 10 juta *hotspot* terpasang, kata Oky, Indonesia akan menjadi negara dengan akses poin terbanyak di dunia. (4) Saat ini, Indonesia hanya memiliki 100 ribu titik *WiFi* (jumlah akses poin jaringan nirkabel), masih kalah jauh ketimbang Cina yang memiliki 6 juta akses poin. (5) Korea memiliki dua juta akses poin, dan Singapura memiliki 500 ribu. (6) Korea dan Singapura kemungkinan tak akan menambah akses poin karena sudah jenuh dan semua wilayah terdapat *WiFi*. (7) Sasaran utama pemasangan akses poin berinternet melalui *Wifi* ini, yaitu pendidikan, pengusaha menengah dan kecil, serta layanan publik.. (8) "Paling kita bersaing dengan Cina dan India yang sama-sama memiliki wilayah luas," ujar

1. Kalimat fakta dalam paragraf tersebut adalah nomor ... .
 

A. (1), (2), dan (3)	C. (2), (5), dan (7)	E. (5), (7), dan (8)
B. (1), (4), dan (5)	D. (4), (6), dan (5)	
  
2. Kalimat yang tidak padu dalam paragraf tersebut adalah ... .
 

A. (1)	C. (5)	E. (8)
B. (3)	D. (7)	
  
3. Tujuan penulis dalam paragraf tersebut adalah ...
  - A. Mengintruksikan kepada warga sekolah agar memasang akses poin karena murah.
  - B. Menjelaskan bahwa pemasangan akses poin saat ini sangat mudah bagi anak sekolah.
  - C. Menginformasikan bahwa Telkom akan memasang akses poin di 100 ribu sekolah
  - D. Meyakinkan bahwa Telkom memiliki jaringan internet yang sangat luas.
  - E. Mempromosikan bahwa Telkom memiliki program akses poin yang sangat murah.

**Teks berikut untuk menjawab soal nomor 4 dan 5, bacalah dengan cermat!**

Kebijakan migas Indonesia berubah drastis ketika terbit UU Nomor 22 tahun 2001 tentang migas paska krisis yang menghantam Indonesia. Sejak itu sistem regulasi migas berubah 180 derajat. Kekuasaan dan kebijakan migas tidak lagi berada di Pertamina dan Kementerian ESDM, tetapi ke Badan Pengelola Migas (BP Migas, yang sudah dibubarkan oleh MA) di hulu dan Badan Pengatur Hilir Migas (BPH Migas) di hilir. Tentu dalam mengatur migas, kedua badan tersebut juga mengeluarkan berbagai kebijakan, namun sering kali bertabrakan dengan kebijakan yang dikeluarkan oleh Kementerian ESDM dan Kementrian lain. Demikian sebaliknya. Kontrak Karya dengan investor asing migas yang sebelum keluarnya UU No. 22/2001 dilakukan oleh Pertamina, berada di bawah kendali BP Migas hingga MK membubarkan BP Migas melalui Keputusan MK No. 36/PUU-X/2012.

4. Ide pokok paragraf tersebut adalah ...
  - A. perubahan kebijakan migas Indonesia
  - B. perubahan regulasi migas Indonesia
  - C. pengaturan migas yang drastis
  - D. pembubaran Badan Pengelola Migas
  - E. pengeluaran berbagai kebijakan di Indonesia
  
5. Mengapa MK membubarkan Badan Pengelola Migas (BP Migas)?
  - A. Kekuasaan dan kebijakan migas tidak lagi berada di Pertamina dan Kementerian ESDM.
  - B. Dengan munculnya UU Nomor 22 tahun 2001, membuat kebijakan migas Indonesia berubah drastis.
  - C. Kebijakan di BP Migas hulu dan BP Hilir Migas sering bertabrakan dengan Kementrian ESDM.
  - D. Kontrak Karya dengan investor asing migas yang sebelum keluarnya UU No. 22/2001 dilakukan oleh Pertamina.
  - E. Kementrian lain dan Kementrian ESDM sering megeluarkan kebijakan yang bertentangan dengan UU.

**Teks berikut untuk menjawab soal nomor 6 dan 7, bacalah dengan cermat!**

(1) Keputusan pemerintah mengharuskan kendaraan dinas menggunakan BBM tidak bersubsidi diabaikan di banyak daerah. (2) Aksi ini dilakukan di lingkungan Kabupaten Klaten, Jawa Tengah. (3) Demikian juga di Bojonegoro mobil pemerintah masih menggunakan BBM bersubsidi. (4) Di Batam, Kepulauan Riau juga kendaraan dinas masih mengisi



- D. investor asing
- E. masyarakat asing

Tabel berikut untuk menjawab soal nomor 12 dan 13, bacalah dengan cermat!

**JUMLAH TINGKAT PENDIDIKAN DI DESA MANDIRI**

TINGKAT PENDIDIKAN	TAHUN				
	2006	2007	2008	2009	2010
SD	113	113	111	110	107
SLTP	62	61	59	59	59
SLTPA	166	158	150	137	140
D3	1	1	1	1	3
S1	13	13	13	13	4
S2	0	0	0	0	0

12. Pernyataan yang sesuai dengan isi tabel tersebut adalah ...
- A. Tingkat pendidikan S2 di Desa Mandiri lebih banyak daripada D3.
  - B. Pendidikan S2 paling sulit diraih masyarakat Desa Mandiri.
  - C. Pendidikan SD di Desa Mandiri paling sulit untuk bekerja.
  - D. Tingkat pendidikan SLTP di Desa Mandiri lebih sedikit daripada SD.
  - E. Tingkat pendidikan SD jumlahnya lebih sedikit daripada D 3.
13. Simpulan isi tabel tersebut yang tepat adalah ...
- A. Pada umumnya masyarakat di Desa Mandiri tidak berpendidikan
  - B. Penduduk Desa Mandiri paling banyak berpendidikan SLTA
  - C. Pendidikan S 1 di Desa Mandiri paling sedikit sebagai pegawai.
  - D. SLTA merupakan lembaga pendidikan yang paling diminati.
  - E. Pendidikan S 2 kurang diminati masyarakat Desa Mandiri.

Teks berikut untuk menjawab soal nomor 14 dan 15, bacalah dengan cermat!

Setelah didengar Raja Sulaiman sembah landak itu, maka titah Raja Sulaiman,"Hai landak! Hampirlah engkau kepada aku! Aku hendak bertanya kepadamu, bahwa aku dipersembahkan raja jin air ma'al-hayat di dalam bejana. Betapa bicaramu? Baiklah aku minum atau jangankah diminum? Maka sembah landak"Ampun tuanku, beribu-ribu ampun! Patik ini binatang yang hina memohonkan ampun. Sekiranya duli Syam Alam santap air itu, terlalu baik. Umur Syah pun lanjut dan penyakit pun tiada di dalam tubuh dan muda selama-lamanya. Tetapi jahatnya ada juga. Maka titah Raja Sulaiman,"Apa jahatnya?". Maka sembah landak,"Jika duli Syah minum air itu, tiadalah Syah Alam mati hingga datang kepada hari kiamat tetapi istri yang dikasihi mati dahulu dan anak Syah Alam mati, cucu, cicit Syah Alam pun mati dan rakyat bala tentara duli Syah Alam sekalian habis, hingga duli tuanku seorang juga yang hidup. Apatah gunanya hidup yang demikian itu. Maka titah Nabi Sulaiman, sungguhlah katamu hai landak! Hidup yang demikian itu tiada gunanya,"...

14. Karakteristik sastra Melayu Klasik sesuai dengan kutipan hikayat tersebut adalah ...
- A. Seorang pemimpin meminta nasihat kepada anak buahnya.
  - B. Seorang bawahan memberi saran kepada atasannya
  - C. berkisah tentang seorang raja dan seekor binatang
  - D. cerita seorang raja yang gagah dan bijaksana
  - E. seekor binatang yang tidak mendengar nasihat raja
15. Nilai moral yang sesuai dengan hikayat tersebut adalah ...
- A. Minum air ma'al hayat itu membuat umur lanjut dan penyakit pun hilang.
  - B. Seseorang yang kekal hidupnya karena minum air ma'al.
  - C. Bertanya kepada binatang adalah komunikasi pada zaman dahulu.
  - D. Mendengarkan nasihat yang positif mendatangkan kebaikan
  - E. Berbuat sesuatu dengan mempertimbangkan adalah kebaikan.

Cermati kutipan cerpen berikut untuk menjawab soal nomor 16 s.d. 18!

" (1) Anakmu Moksa sudah melakukan sesuatu yang amat mengharukan hari ini," kata wanita itu dengan mata berkaca-kaca. " (2) Dia sama sekali tidak meminjam uang temannya untuk beli kado. (3) Tapi dia berusaha dengan cucur-keringatnya sendiri. (4) Dan kamu pasti akan terkejut kalau mendenqar apa yang sudah dikerjakannya untuk

mendapatkan uang."

(5) Tiba-tiba wanita itu tidak dapat menahan emosinya.(6) Ia menangis, tetapi bukan sedih. (7) Tangis haru karena gembira. (8) Dokter Sugianto jadi berdebar-debar.

(9) "Apa lagi yang dilakukan oleh Moksa? Dia mencuri?"

(10) Nyonya dokter berhenti menangis.

(11) "Masak mencuri!"

(12) "Habis apa? Kamu kok menangis?"

(13) "Aku menangis karena terharu."

(14) "Kenapa terharu?"

(15) "Sebab anakmu ngamen di dalam bus!"

(16) "Apa?"

(17) "Ngamen!"

MOKSA Cerpen Putu Wijaya

16. Watak Moksa dalam kutipan cerpen tersebut adalah ....
- |                  |                    |                   |
|------------------|--------------------|-------------------|
| A. pekerja keras | C. Tanggung Jawab  | E. Tidak tau malu |
| B. keras kepala  | D. Penuh perhatian |                   |
17. Pendeskripsikan watak Moksa dalam kutipan cerita tersebut adalah melalui ....
- |                            |                     |                        |
|----------------------------|---------------------|------------------------|
| A. perbincangan tokoh lain | C. Lingkungan tokoh | E. Ucapan-ucapan tokoh |
| B. tanggapan tokoh lain    | D. Pikiran tokoh    |                        |
18. Pembuktian latar tempat terdapat pada kalimat nomor . . . .
- |        |         |         |
|--------|---------|---------|
| A. (1) | C. (9)  | E. (15) |
| B. (4) | D. (12) |         |

**Cermati kutipan cerpen berikut untuk menjawab soal nomorn 19 dan 20!**

"Sukri!Jaga mulutmu. Kau ini apa-apaan. Pemuda tanpa modal. Jangan kau permainkan anakku. Apa yang telah kau beri kepadanya sebagai rasa kasih dan cintamu? Datang hampir tiap malam dengan janji-janji. Jangan kau memberi harapan-harapan yang tidak pasti kepada kami. Pergi kau! Biarkan anakku mencari jodoh yang lebih sempurna daripada kau."

"Orang tua terkutuk! Mata duitan. Apa bedanya kau dengan orangtua lain kalau kau berpikir seperti itu? Anakmu akan kau jual belikan?"

"Sukri! Sumarni adalah anakku. Berhak memilih yang terbaik untuknya."

"Apakah kau telah menganggap pemuda itu cukup baik?"

"Dia punya skuter. Dia punya modal untuk anakku, dan kau? Hanya janji-janji yang tidak terbukti."

"Kalau begitu, kau adalah orangtua yang memandang benda-benda."

"Semua orang tua akan bersikap begitu untuk kebahagiaan anak gadisnya."

"Tidak semua."

"Kalau begitu, aku tidak termasuk orangtua yang kamu harapkan."

Sukri Membawa Pisau Belati karya Hamsad Rangkuti

19. Konflik yang terdapat dalam kutipan cerpen tersebut adalah...
- Penolakan cinta seorang pemuda terhadap seorang gadis yang dicintainya.
  - Penolakan orangtua terhadap lamaran pemuda bernama Sukri
  - Perasaan marah Sukri kepada orang tua Sumarni karena dirinya dihina.
  - Sikap orangtua yang ingin membahagiakan anaknya dengan orang kaya.
  - Pengharapan orangtua terhadap seorang pemuda kekasih anaknya.
20. Keterkaitan watak dengan kehidupan masa kini sesuai dengan kutipan cerpen tersebut adalah ....
- seorang ayah yang menjodohkan anak gadisnya dengan laki-laki kaya
  - seorang calon mantu yang menyakiti calon mertuanya karena perbedaan pendapat
  - penyesalan seorang calon mantu atas perbuatannya kepada calon mertuanya.
  - seorang bapak yang tidak bertanggung jawab terhadap keluarganya.
  - orang tua yang memilih calon mantunya seorang laki-laki yang sempurna

Kutipan drama berikut untuk menjawab soal nomor 21 s.d. 22!

Satilawati : Engkau pengarang pengecut!  
 Ishak : (*terkejut*) Mengapa?...(*mengeluh*). Ah, engkau juga.  
 Satilawati : Pengecut. Sedikit diserang kritik orang, engkau hendak melarikan diri. Untuk menjaga nama, supaya jangan merosot. Aku sudah maklum.  
 Ishak : (*sambil menunjuk ke kanan*). Pergi dari padaku. Engkau pun boleh memusuhi aku. Untuk cita-cita aku bersedia mengurbankan segalanya. Juga cintaku.  
 Satilawati : (*merasa terhina*) Satu kali engkau berkata begitu, sepuluh kali aku akan pergi dari pada kau. apa yang kuharapkan daripadamu. Cita-citamu itu? Aku benci kepada pengarang... (*merasa terdorong berkata*). Sungguhpun ayahku pengarang pula.  
 Ishak : Satu lagi orang memusuhi aku, tidak apa. Pergilah satilawati. Rupamu yang molek jelita itu seperti menghadapi buku pengarang kolot bagiku sekarang. Pergilah Satilawati.

**Kejahatan Membalas Dendam karya Idrus**

21. Watak tokoh *Ishak* dalam penggalan drama tersebut adalah...
- A. Pengecut  
 B. Berpendirian  
 C. Egois  
 D. Jahat  
 E. Judes
22. Konflik dalam penggalan drama tersebut adalah....
- A. perasaan marah Ishak kepada Satilawati karena dianggap pengecut.  
 B. kekecewaan Satilawati karena ditinggal pergi sang kekasih  
 C. Perasaan marah Satilawati karena karangannya dianggap penghianat  
 D. Kekecewaan Ishak kepada ayah Satilawati karena dianggap pengarang kolot  
 E. Kekecewaan Ishak terhadap Satilawati karena ditinggal pergi

Puisi berikut untuk menjawab soal nomor 23 – 26. Bacalah dengan saksama!

**KAU**  
 .....  
 tidak Adam  
 tidak aku  
 tidak dayang-dayangmu  
 menggapai  
 menggapai-gapai ke  
 langit  
 mencari surgawi  
 mencari wa  
 mencari wu  
 mencari wi  
 mencari wa wu wi  
 mencari wi wu wa  
 yang hanya wa  
 yang hanya wu  
 yang hanya wi  
 yang hanya wa wu wi  
 yang hanya wi wu wa  
 kuku karang kuku kau kuku laut  
 kuku kau  
 kuku ombak kuku cahaya  
 .....  
**(Ibrahim Sattah)**

23. Ciri puisi komtemporer tersebut adalah ... .
- A. mementingkan bunyi  
 B. menonjolkan simbol  
 C. Menentang konvensional  
 D. Mementingkan bentuk  
 E. Bersifat minggu/mbeling
24. Makna lambang "surgawi" dalam puisi tersebut adalah ...
- A. cita-cita  
 B. keinginan  
 C. Kesenangan  
 D. Kebutuhan  
 E. Rezeki



25. Maksud isi puisi tersebut adalah ...
- A. Semua orang berusaha mencari kehidupan yang terbaik , namun Tuhan jualah yang menentukan nasibnya.
  - B. Tuhan akan memberikan yang terbaik asalkan manusia itu berusaha bekerja dan berdoa untuk meraihnya.
  - C. Semua orang harus menjalankan perintah Tuhan dan meninggalkan larangan-Nya agar hidup berbahagia.
  - D. Kita akan hidup berbahagia dengan menjalankan kehidupan kita secara sederhana, sabar, dan tawakal.
  - E. Tuhan akan murka terhadap manusia yang terlalu serakah dan egois dengan menunjukkan kehendak-Nya.
26. Suasana puisi tersebut adalah ... .
- A. Pasrah
  - B. Tawakal
  - C. Sedih
  - D. Semangat
  - E. Kecewa
27. Bacalah pantun berikut dengan cermat!

Baru diikat bunga tanjung  
Sama terikat bunga pandan  
Baru melihat adik kandung

Maksud isi pantun tersebut adalah ...

- A. Timbul semangat baru setelah adik kandungnya dilahirkan
  - B. Adik kandung yang terpisah sejak kecil, kemudian bertemu
  - C. Badan bertambah semangat melihat adik yang dilahirkan
  - D. Adik kandung yang dilahirkan,baru beretemu setelah besar
  - E. Rasa senang seseorang setelah bertemu kembali dengan adiknya
28. Bacalah gurindam berikut dengan cermat!

Apabila banyak mencat (mencacat?) orang  
Itulah tanda dirinya kurang

Maksud isi gurindam tersebut adalah orang yang ... .

- A. banyak kekurangan suka mencela orang lain
- B. suka menghina orang tidak disukai orang
- C. bodoh tidak suka menghargai orang lain
- D. pandai tidak pernah mencela orang lain
- E. orang yang cacat sukadihina orang lain

29. Bacalah paragraf berikut dengan cermat!

Harga daging sapi di pasar tradisional Palembang, Sumatra Selatan berkisar Rp100 rbu – Rp120 ribu per kilogram. Demikian juga di Kabupaten Tuban, Jawa Timur harga daging sapi di atas Rp100 ribu per kilogram. Kondisi harga daging sapi di Bali juga tidak jauh berbeda dengan di daerah tersebut. Harga daging sapi di Bali dilepas ke pasaran dengan harga Rp90 ribu – Rp100 ribu per kilogram. Begitu pula di Sukabumi, Jawa Barat harga daging sapi belum turun, yakni antara Rp95 ribu - Rp110 ribu per kilogram. ...

Kalimat simpulan yang tepat untuk melengkapi paragraf *generalisasi* tersebut adalah ...

- A. Dengan demikian pedagang daging pasti meraup untung yang sangat besar.
  - B. Oleh karena itu, tidak heran kalau masyarakat tidak mengonsumsi daging.
  - C. Oleh sebab itu, harga daging yang melambung membuat masyarakat susah.
  - D. Dengan demikian, harga daging sapi di sebagian daerah di Indonesia masih tinggi.
  - E. Dengan demikian, masyarakat kecil tidak mampu membeli daging.
30. Bacalah paragraf berikut dengan cermat!

Di Indonesia, memasuki tahun 2014 telah terjadi angin badai di beberapa perairan. Peristiwa itu mengakibatkan banjir di daerah sekitar pantai hingga berhari-hari. Akibatnya, para nelayan tidak bisa turun ke laut untuk mencari ikan sehingga mereka mengalami masa-masa paceklik. Belum lagi lebatnya curah hujan mengakibatkan banjir dan tanah longsor di beberapa daerah. ... .

Kalimat simpulan yang tepat untuk melengkapi paragraf *sebab akibat* tersebut adalah ...

- A. Pemerintah harus dapat mengantisipasi lingkungan yang sudah rusak.
- B. Karena itu, lingkungan yang rusak dapat menimbulkan bencana di mana-mana.

- C. Semua itu, berkaitan dengan pemanasan global akibat kerusakan lingkungan.
- D. Karena itu, masyarakat Indonesia harus berhati-hati dengan adanya banjir.
- E. Oleh sebab itu, pemerintah harus melakukan penanaman pohon kembali.

31. Bacalah silogisme rumpang berikut dengan cermat!

Premis Umum : Semua pengemudi kendaraan bermotor harus memiliki SIM  
Premis Khusus : Hengki adalah pengemudi kendaraan bermotor  
Kesimpulan : Hengki harus memiliki SIM

- Entimem yang tepat sesuai silogisme tersebut yang adalah ...
- A. Hengki selalu mengemudikan kendaraannya karena ia memiliki SIM.
  - B. Hengki harus memiliki SIM karena ia pengemudi kendaraan bermotor
  - C. Kendaraan bermotor dikemudikan Hengki karena ia memiliki SIM
  - D. SIM sangat t diperlukan Hengki dalam mengemudikan kendaraan.
  - E. Semua pengemudi tentu harus mempunyai SIM, tidak terkecuali Hengki.

32. Cermati kalimat-kalimat berikut!

- (2) Uang yang dibakar oleh pedagang tersebut berasal dari limbah yang dihasilkan oleh Bank Indonesia wilayah Solo.
- (3) Umumnya pedagang menggoreng jualannya di atas kompor menggunakan bahan bakar minyak tanah atau gas.
- (4) Tapi, di Solo pedagang tahu menggunakan bahan bakar uang.
- (5) Limbah uang yang digunakan oleh pedagang ini tidak mengalami masalah.
- (6) Bahkan, justru membantu BI dalam pengolahan limbah kantor.
- (7) Dalam sehari limbah yang dihasilkan BI Solo mencapai dua kuintal.

Urutan kalimat-kalimat tersebut sehingga menjadi paragraf padu yang tepat adalah ... .

- A. (1), (3), (2), (4), (6), (5)
- B. (2), (1), (3), (4), (5), (6)
- C. (2), (3), (1), (6), (4), (5)
- D. (4), (6), (5), (2), (3), (1)
- E. (4), (1), (6), (3), (2), (5)

33. Bacalah kutipan pidato rumpang berikut dengan cermat!

Teman-teman yang saya cintai!  
Sebenarnya kesadaran akan menjaga kebersihan lingkungan ada pada diri kita sendiri, kalau kita mau berusaha pasti kita bisa menjaga lingkungan di sekitar kita. Karena kalau bukan kita yang menjaga lingkungan, siapa lagi? ... .

Kalimat imbauan yang tepat untuk melengkapi teks pidato tersebut adalah ...

- A. Oleh sebab itu, sadarlah mulai sekarang mari kita jaga lingkungan tempat tinggal kita.
- B. Dengan demikian, buanglah sampah di tempat yang sudah disediakan.
- C. Tentu kita semua hendaknya tidak membuang sampah di sembarang tempat.
- D. Untuk itu, mari kita mulai membiasakan diri menjaga kebersihan lingkungan kita.
- E. Karena itu, jagalah kebersihan lingkungan agar kita tetap sehat.

34. Cermati paragraf berikut!

Pertanian yang berbasis pada faktor eksternal di atas memberi banyak dampak negatif terhadap ... lingkungan hidup, khususnya terhadap biodiversitas, polusi air, dan kontaminasi rantai ... . Fenomena ini menggambarkan secara implisit bahwa pertanian Indonesia tidaklah memenuhi ... keberlanjutan, baik secara ... , ekonomi, maupun ekologi.

Kata baku yang tepat untuk melengkapi paragraf tersebut adalah ... .

- A. kuwalitas, ekosistim, criteria, tehnologi
- B. kualitas, ekosistym, kreteria, technologi
- C. kwalitet, ekosistem, criteria, teknology
- D. kualitas, ekositim, kriteria, ehnologi
- E. kualitas, ekosistem, kriteria, teknologi

35. Cermati paragraf berikut

Salah satu masalah yang sering ditemui ketika menerapkan pertanian organik adalah kandungan bahan organik dan status hara tanah yang rendah. Petani organik ... masalah tersebut dengan ... pupuk hijau atau pupuk kandang. Kedua jenis pupuk itu adalah limbah organik yang telah mengalami ... sehingga menjadi tersedia bagi tanaman.

Kata berimbuhan yang tepat untuk melengkapi paragraf tersebut adalah ... .

- A. memikirkan, menaburkan, kebusukan
- B. menangani, diberi, dihancurkan
- C. melihat, membeli, kehancuran
- D. mengatasi, memberikan, penghancuran
- E. diatasi, diberikan, dihancurkan

36. Cermati paragraf berikut!

Akhir-akhir ini hujan deras turun di berbagai daerah. Hujan tersebut sering dibarengi angin kencang. Akibatnya banyak daerah yang terkena musibah. Misalnya, ... pada tumbang, ... rumah beterbangan. Dengan kejadian itu, tidak sedikit ... tertutup dan ... kehilangan tempat tinggalnya.

Kata ulang yang tepat untuk melengkapi paragraf tersebut adalah ...

- A. rumah-rumah, daun-daun, toko-toko, anak-anak
- B. kios-kios, rumah-rumah, pasar-pasar, gang-gang
- C. pohon-pohon, genting-genting, jalan-jalan, orang-orang
- D. pohon-pohon, daun-daun, tokok-toko, anak-anak
- E. gedung-gedung, genting-genting, tokok-toko, orang-orang

37. Cermati paragraf berikut!

Badu sebagai ... Pak Hardiman. Pak Hardiman mendidik Badu dengan ... . Karena itu, watak Badu menjadi anak yang ... .

Ungkapan yang tepat untuk melengkapi paragraf tersebut adalah ... .

- A. anak emas, ringan tangan, panjang tangan
- B. jantung hati, tangan besi, tebal muka
- C. belahan jiwa, panjang tangan, keras kepala
- D. anak angkat, tangan besi, keras kepala
- E. anak angkat, panjang tangan, ringan tangan

38. Cermati paragraf berikut!

Sebelum pensiun, Pak Deden sering dikunjungi saudara-saudaranya, baik saudara yang dekat maupun saudara yang sudah jauh. Kalau pulang, mereka sering diberi oleh-oleh dan uang yang tidak sedikit. Tapi, sekarang setelah Pak Deden pensiun, tidak ada lagi saudara-saudaranya yang mau berkunjung. Dengan demikina kehidupan Pak Deden seperti ...

Peribahasa yang tepat untuk melengkapi paragraf tersebut adalah ...

- A. Ada udang di balik batu
- B. Api dalam sekam
- C. Ada asap ada api
- D. Bara dengan sekam
- E. Ada gula ada semut

39. Cermati paragraf berikut!

Rumah Pak RW Duta Garden *kurang besar* . Halamannya *cukup luas*. Di halaman tersebut tumbuh pohon buah-buahan yang *kurang rindang*, seperti pohon mangga, rambutan, jambu air, sawo, dan lengkeng. Tampak buahnya *agak lebat* dan warna-warni. Tidak heran setiap orang yang lewat di depan rumah Pak RW merasa terkagum-kagum.

Perbaiki frasa ajektif dalam paragraf tersebut yang tepat adalah ...

- A. besar sekali, sangat luas, sangat rindang, sangat lebat
- B. cukup besar, sangat luas sekali, rindang sekali, lebat sekali
- C. agak besar, kurang luas, agak rindang, kurang lebat
- D. sangat besar, luas banget, agak rindang, lebat sekali
- E. besar sekali, agak luas, cukup rindang, sedikit lebat

40. Cermati paragraf berikut!

Kenaikan tarif parkir di dalam gedung (*off street*) menyebabkan parkir di badan jalan (*on street*) semakin marak. Hasil pemantauan di beberapa titik , parkir di dalam gedung dan perkantoran mengalami penurunan. *Namun*, jumlah kendaraan yang parkir di badan jalan meningkat drastis. *Untuk itu*, Pemerintah Provinsi DKI Jakarta didesak *sampai* menaikkan tarif parkir *on street*.

Perbaiki kata penghubung yang tercetak miring dalam paragraf tersebut yang tepat adalah ... .

- A. sedangkan, karena itu, untuk
- B. akan tetapi, maka itu, agar
- C. jikalau, dengan demikian, hingga
- D. kalau, sebab itu, sehingga
- E. akan tetapi, oleh sebab itu, hingga

41. Cermati ilustrasi pelamar pekerjaan berikut

Rini Angraeni lulusan S1 Ekonomi, bertempat tinggal di Jln. Delima Raya 11, Tanjung Duren, Jakarta Barat, lahir di Jakarta ta. 20 September 1986. melamar pekerjaan ke sebuah perusahaan di Jakarta Pusat.

Penulisan pemberian identitas pelamar sesuai ilustrasi tersebut adalah ...

Yang bertanda tangan di bawah saya:

- A. Nama : Rini Anggraeni, SE  
Tempat tgl.lahir : Jakarta, 20 September 1986  
Pendidika : S1 Ekonomi  
Alamat : Jln. Delima Raya 11, Tanjung Duren, Jakarta Barat
- B. nama : Rini Anggraeni, S.E.  
tempat tgl.lahir : Jakarta, 20 September 1986  
pendidika : S1 Ekonomi  
alamat : Jalan Delima Raya 11, Tanjung Duren, Jakarta Barat
- C. nama : Rini Anggraeni S.E.  
tempat tgl.lahir : Jakarta, 20 September 1986  
pendidika : S1 Ekonomi  
alamat : Jln. Delima Raya 11, Tanjung Duren, Jakarta Barat
- D. Nama : Rini Anggraeni, S.E.  
Tempat tgl.lahir : Jakarta, 20 September 1986  
Pendidika : S1 Ekonomi  
Alamat : Jalan. Delima Raya 11, Tanjung Duren, Jakarta Barat
- E. nama : Rini Anggraeni, SE  
tempat tgl.lahir : Jakarta, 20 September 1986  
pendidika : S1 Ekonomi  
alamat : Jalan. Delima Raya 11, Tanjung Duren, Jakarta Barat

42. *Sekian surat undangan ini, atas kerja samanya diucapkan banyak terima kasih.*

Perbaiki kalimat penutup surat undangan tersebut yang tepat adalah ...

- A. Sekian surat undangan ini, atas perhatiannya kami ucapkan banyak terima kasih.
- B. Demikian surat undangan ini, atas perhatiannya kami mengucapkan terima kasih.
- C. Demikian surat undangan ini, atas kehadirannya kami ucapkan terima kasih.
- D. Demikian surat undangan ini, atas kehadiran Bapak/Ibu kami mengucapkan terima kasih.
- E. Sekian surat undangan ini, atas kehadirannya kami ucapkan terima kasih.

43. Judul karangan berikut untuk menjawab soal nomor 43 - 45. Bacalah dengan cermat!

Saya akan mempresentasikan karangan yang berjudul meningkatkan hasil panen padi di desa limbangan.

Penulisan judul karangan dalam kalimat tersebut yang sesuai dengan EYD adalah ...

- A. Saya akan mempresentasikan karangan yang berjudul "meningkatkan hasil panen padi di desa limbangan".
- B. Saya akan mempresentasikan karangan yang berjudul *Meningkatkan Hasil Panen Padi di desa Limbangan*.
- C. Saya akan mempresentasikan karangan yang berjudul "Meningkatkan Hasil Panen Padi di Desa Limbangan".
- D. Saya akan mempresentasikan karangan yang berjudul "*Meningkatkan Hasil Panen Padi di Desa Limbangan*".
- E. Saya akan mempresentasikan karangan yang berjudul "*Meningkatkan Hasil Panen Padi di Desa Limbangan.*"

44. Latar belakang karya ilmiah sesuai dengan judul tersebut adalah ...

- A. Para petani di Desa Limbangan kurang dapat memanfaatkan lahan
- B. Setiap menanam pertanian para petani selalu gagal panen
- C. Padi di Desa Limbangan tumbuhnya kurang subur

LATIHAN SOAL UN DAN UJIAN SBMPTN / PTS 2016/2017

- D. Para petani perlu diberi penyuluhan agar hasil panen meningkat  
E. Hasil panen padi di Desa Limbangan selalu kurang memuaskan
45. Rumusan masalah karya ilmiah sesuai dengan judul tersebut adalah ...  
A. Sampai sejauh mana hasil panen padi di Desa Limbangan?  
B. Berapa ton rata-rata per hektar hasil panen padi di Desa Limbangan?  
C. Bagaimana cara meningkatkan hasil panen padi di Desa Limbangan?  
D. Bagaimana pengetahuan para petani terhadap teknik pertanian?  
E. Mengapa para petani di Desa Limbangan selalu gagal dalam panen padi?
46. Cermati puisi berikut!

Pemberani

Aku sudah lelah  
Menjadi bisu dan buta  
Oleh rasa takutku sendiri  
Rasa takut yang menguasai diri

Aku sudah lelah  
Terasing oleh kekalahan

....  
Terkepung oleh ketakutan

Aku ingin jadi pemberani  
Bebas berdiri diatas kakiku sendiri  
Lepas dari gravitasi yang ku pijak  
Terbang menembus batas

Aku tidak ingin jadi pengecut  
Yang harus mati jutaan kali oleh rasa takut  
Aku ingin jadi pemberani  
Yang cukup mati sekali,  
dengan bukti di genggam jari

Siti Fauziah

Majas yang tepat untuk melengkapi puisi tersebut adalah ...

- A. Terkubur oleh keegoisan  
B. Berlari tunggang-langgang  
C. Bermimpi siang malam  
D. Terhibur hati yang lara  
E. Berharap sepenuh hati

47. Cermati kutipan drama berikut!

**JOHARI**

1. Merah delima? (Johari kembali berpikir keras. Kemudian ia teringat sesuatu, lalu mencarinya di antara tumpukan kertas tersebut, tapi tidak ketemu) Tum! Tumiyah! Tumiyah...! (Tak ada sahutan, Johari lalu mengambil sisa tembakau tadi malam dan melinting, membakar, lalu menghirupnya dalam-dalam)  
2. Tumiyah! Tum! Hei! Apa kau lihat lembaran syair yang tadi malam kutarok di meja? Tum! Kau dengar aku Tum? (Tetap tak ada sahutan, Johari kemudian melanjutkan pekerjaannya)

**TUMIYAH**

3. Betul-betul kurang ajar itu anak! Pagi-pagi sudah mencuri! Dasar anak jadah! Kau tahu Pak Tua? Uangku 3000 perak yang kusimpan di lemari sudah dicuri oleh si Ujang, padahal uang itu akan kupakai untuk membeli minyak tanah! Dasar anak sinting! Anak setan!

**JOHARI**

4. ....

**TUMIYAH**

5. Mana aku tahu syairmu, pagi ini aku sedang kesal. Lagi pula, apa tidak ada pekerjaan lain selain meramal syair-syair sialanmu itu?

Kalimat yang tepat untuk melengkapi kutipan drama tersebut adalah ...

- A. Tumiyah, kenapa kau tidak mendengarkan permintaanku?  
B. Kau sudah tahu kan, aku ini sedang menulis syair?  
C. Kau tidak dengar Tumiyah, di mana pulpenku yang hitam?  
D. Heh, apa kau lihat lembaran syairku yang kusimpan di sini?  
E. Tumiyah, apa kau tidak mau membantuku menulis syair ini?

48. Bacalah penjelasan novel berikut dengan saksama!

Bab pertama novel *Sang Pemimpi* karya Andrea Hirata menceritakan bahwa dirinya yang dipanggil Ikal dan kedua temannya, Arai dan Jimbron adalah tiga remaja yang begitu nakalnya sehingga mereka sangat dibenci oleh Pak Mustar, tokoh antagonis dalam buku ini. Namun, pada bab-bab berikutnya pembaca akan melihat potongan-potongan kisah yang seperti berdiri sendiri, sehingga seolah-olah Andrea hanya membuat cerpen-cerpen dalam satu buku. Tapi sebenarnya pada setiap bab, mulai awal hingga akhir, memiliki hubungan yang sangat erat. Seperti mozaik-mozaik dalam kehidupan. Novel yang disajikan dengan bahasa yang cantik ini mampu menyihir pembaca sehingga pembaca bisa ikut merasakan kebahagiaan, semangat keputusasaan, dan kesedihan.

Kalimat resensi yang mengungkapkan kelemahan buku sesuai dengan ilustrasi tersebut adalah ... .

- A. Bahasa yang digunakan Andrea Hirata dalam novel *Sang Pemimpi* kurang menarik.
- B. Andrea Hirata dalam novelnya *Sang Pemimpin* kisah-kisahanya kurang berhubungan.
- C. Kisah tiap-tiap bab dalam novel *Sang Pemimpi* diungkapkan seolah-olah berdiri sendiri.
- D. Cerita yang diungkapkan Andrea Hirata dalam *Sang Pemimpin* tidak terjalin dengan baik.
- E. Amanat yang disampaikan melalui tokoh Ikal tidak memberikan contoh yang baik.

49. Cermati kutipan cerpen berikut!

Kami terus berdoa untuk keselamatan kami semua. Temanku yang pertama kali kesurupan dibawa ke orang pintar di dekat hotel kami menginap. Kami yang tetap berada di hotel berjaga-jaga apabila ada sesuatu terjadi. Guru-guru yang ikut berjaga menyarankan kami untuk tidur agar besok bisa beraktivitas kembali. Panitia dan guru pun bergantian menjaga kami semua.

Keesokan paginya, kami dibangunkan oleh guru-guru. Keadaan membaik, sudah tidak ada yang kesurupan lagi. Menurut cerita dari salah satu panitia, temanku yang pertama kali kesurupan sudah sembuh ketika dibawa kembali dari orang pintar. Kami pun melanjutkan aktivitas kami di Cibodas. Panitia membawa kami ke Kebun Raya Cibodas agar kami semua dapat bersantai dan melepaskan ketakutan yang ada tadi malam.

Cerpen *Pengalaman Menyeramkan* karya Eka Ayu Diah.

Kalimat kritik sastra yang sesuai dengan penjelasan paragraf tersebut adalah...

- A. Eka Ayu Diah menulis cerpen berjudul *Pengalaman Menyeramkan* dengan bahasa yang indah.
- B. *Pengalaman Menyeramkan* merupakan cerpen Eka Ayu Diah yang berhasil memikat pembacanya.
- C. Cerpen yang ditulis Eka Ayu Diah kurang menarik karena dikembangkan seperti narasi biasa.
- D. Eka Ayu Diah salah satu cerpenis yang mengungkapkan perasaan seorang wanita yang masih muda.
- E. Pengalaman Eka Ayu Diah ditulis dalam bentuk cerpen yang penuh dengan imajinasi.

50. Bacalah puisi berikut dengan saksama!

**HIDUP**

Terbangun sudah aku dari mimpi  
Suara burung menyambut hari berganti  
Namun aku masih bernyanyi  
Dan terus mewarnai kanvas hidup ini

Hidup memang penuh dengan omong kosong  
Semua dipenuhi dengan alasan dan bohong  
Tersungkur, diam, lalu bengong.....

Sebenarnya, hidup itu indah  
Walaupun penuh dengan masalah  
Janganlah kau isi dengan amarah  
Tertawalah... tersenyumlah.....

**Haryodi siswa SMA NEGERI**

Kalimat esai yang sesuai dengan puisi tersebut adalah ...

- A. Pengarang mengungkapkan idenya melalui puisi yang berjenis roman kehidupan.
- B. Amanat yang terkandung dalam puisi ini hanya ditujukan untuk para remaja.
- C. Haryodi sebagai seorang pelajar mengungkapkan pikirannya melalui makna lambing.
- D. Bahasa yang dipakai pengarang dalam puisi tersebut sulit dipahami
- E. Puisi "Hidup" termasuk puisi bebas tetapi mengandung rima akhir yang menarik.

**BAHASA INGGRIS**

Questions 1 – 3 are about the following news.

**California wildfires have destroyed more than 1,000 homes**

(CNN) One person died and 10 homes burned in a fire that started Saturday in California's Carmel Valley south of Monterey, fire officials said. Two nearby communities are under evacuation as the fire has burned 1,200 acres so far and is only 10% contained, according to the state wildfire fighting agency, Cal Fire.

Three other people have died so far in this summer's wildfires: a 72-year-old woman with multiple sclerosis who couldn't get out of her house, a 66-year-old man who didn't follow evacuation orders, and an elderly person who was found by cadaver dogs.

Two more large wildfires burning for days in Northern California have destroyed more than 1,000 homes and hundreds of outbuildings, fire authorities said.

The Valley Fire has consumed 585 homes as while raging through Lake, Napa and Sonoma counties over the course of a week. **It** has destroyed hundreds of other structures and scorched more than 70,000 acres of land, according to Cal Fire.

Another wildfire burning in a nearby area, the Butte Fire, has destroyed 511 residences and more than 330 outbuildings in the course of at least 10 days. Cal Fire's data was posted late Saturday.

Late Saturday, many of the other current fires burning in California were nearly 100% **contained**, and the Valley Fire and Butte Fire were mostly contained.

The American West has seen one of its worst fire seasons this year, burning through a particularly large area of the landscape, according to the National Interagency Fire Center. Nearly 9 million acres have gone up in flames so far this year compared with close to 3 million over the same period in 2014.

This year's tally is already higher than any other in the last decade. Four years of exceptional drought in California in particular have provided a lot of dry tinder for the flames.

CNN's Tony Marco contributed to this story.

1. What made the wildfire in California higher than the year before?
 

A. Due to exceptional drought	C. Due to difficulties in evacuation	E. Due to a lot of fires
B. Due to crowded housing	D. Due to late firefighters	
  
2. **It** has destroyed hundreds of other structures and scorched more than 70,000 acres of land. (paragraph 4). The word '**it**' refers to:
 

A. Lake county	C. Wildfire	E. The Butter fire
B. Sonoma county	D. The Valley fire	
  
3. Late Saturday, many of the other current fires burning in California were nearly 100% **contained**. The word '**contained**' has the closest meaning with:
 

A. Consisted	C. Unbounded	E. controlled
B. Flamed	D. Closed	

**Student Volunteers Needed!**

On Saturday, December 12th, from 10 A.M. until 4 P.M., Carverton Middle School will be holding a music festival in the school gymnasium. The special event will feature a variety of professional musicians and singers.

TASK	TIME	DATE
Make posters	1 P.M.–4 P.M.	December 5th
Set up gym	11 A.M.–4 P.M.	December 11th
Help performers	9 A.M.–4 P.M.	December 12th
Welcome guests	10 A.M.–2 P.M.	December 12th
Clean up gym	4 P.M.–7 P.M.	December 12th

Interested students should speak with Ms. Braxton, the music teacher. Students who would like to help at the festival must have written permission from a parent or guardian.





12. What is the purpose of Taman Siswa?
- A. To fight Dutch colonial rule                      C. To promote Indonesian culture    E. To emphasize traditional skills  
 B. To strengthen Indonesian                      D. To make Indonesia famous
13. Why was Ki Hadjar Dewantoro exiled to the Netherlands?
- A. Because of his article in the Indische Partij's De Express  
 B. Due to his activities in the socialist Indische Partij  
 C. Because he was a member of Sarekat Islam  
 D. Because of his relationship with western country  
 E. Because he was born into a noble family
14. What IS NOT TRUE about Taman Siswa?
- A. Ki Hajar Dewantoro was founder of Taman Siswa  
 B. The 1st Taman Siswa was established in 1922  
 C. In 1930 the Dutch colonial government subsidized Taman Siswa  
 D. Western subject was prohibited for Taman Siswa  
 E. Ki Hajar Dewantoro was deeply influenced by Maria Montessori
15. Dewantoro continued his leadership of Taman Siswa after the war and upon his death was **acclaimed** a national hero. The underlined word has the closest meaning with ...
- A. Praised    C. Declared    E. emphasized  
 B. Criticized    D. announced

**Questions 16 – 20 are about the following text.**

**Why Children Should Be Encouraged to Play Outside**

About twenty years ago, when the Internet was not so easily accessible, and daily life was not spammed with all kinds of gadgets and electronic toys, children used to spend much more time outdoors. Nowadays, however, children prefer to spend free time at home, as this way they can watch more TV, play Xbox or Playstation, play games on their parents' tablets, and so on. Although this may also be more comfortable for parents, as they can watch and control their child easier when at home, for a child's sake, it is better to encourage him or her to play outdoors.

According to a new study held in Australia, teenagers who are regularly engaged in moderate-to-vigorous outdoor activity tend to have better health and easier social interactions than their peers who prefer to stay at home and play games. On average, the difference in time spent outdoors for these two groups was about 2.5 hours

Indeed, as it has been discovered, outdoor activity does not just generally improve the way a child feels; there are a number of specific benefits a child or teenager receives from playing outdoors. Spending a lot of time outdoors helps teenagers avoid or reduce stress and feel more relaxed, have more confidence in themselves, boosts self-esteem and allows them to keep in touch with old friends and also make new ones.

What is also important, spending time outdoors helps children to develop skills connected to creativity and invention. According to Robin Moore, an expert in the design of play and learning environments, the objects of the outdoors grant children with limitless possibilities for playing, and each time a child steps outside, these games change, or new ones are invented. Creative skills that a child develops when playing outside can help him or her in the future – for example, when there is a need to solve a non-standard task, or come up with a new idea.

Although the popularity of gadgets and gaming consoles is beneficial for parents (since it is easier for them to control and watch their children when they are at home), for children's sake, it is better that they spend more time outdoors. Playing outside not only improves a child's general physical and psycho-emotional condition, but makes him or her physically stronger, more flexible, and self-confident. Playing outdoors positively affects self-esteem, helps a child to maintain a healthy weight, and develop social contacts. Moreover, playing outdoors contributes to the development of creative thinking and imagination. Therefore, parents should encourage their children to spend much more time outdoors.

16. What does the text tell us about?
- A. Differences of children activities in the past and at the present time  
 B. How to spend free time wiith children  
 C. The needs of physical activity to boost children's health  
 D. The benefits of playing outdoors for children  
 E. The objective of playing outdoors for children

17. The followings are some advantages for children playing outdoors, except:
- A. Parents can control their child easier
  - B. Children tend to have better health
  - C. Children can have more confidence
  - D. Children can be more creative
  - E. Outdoor activities help children avoid stress
18. How can playing outdoors help children in the future?
- A. By having more confidence
  - B. By developing their creativity
  - C. By building stronger bones and muscles
  - D. By spending their free time with others
  - E. By playing game in front of screen
19. What is the thesis of this essay?
- A. Outdoor activities encourage children to do social interactions
  - B. Indoor activities help parents to control their children
  - C. Parents need to accomodate outdoor activities for children
  - D. Comparing children activities in past and at the present time
  - E. It is better to encourage children to play outdoors
20. Rearrange the following sentences into the correct and meaningful paragraph!
- 1) If you don't have an account yet, create one.
  - 2) Sign in to get into your account in your mail provider.
  - 3) Click compose message button to start writing your email.
  - 4) Type the message you want to send just like typing a letter.
  - 5) You may add a title for your email by typing it in the subject bar below the address.
  - 6) When you finish typing, click send button. Your email will be sent to the desired address.
  - 7) Prior to writing, decide the receiving mail address by typing it on the address bar or browsing it in your contact database.

The best arrangement of sentences above is ....

- A. 1-2-4-5-7-3-6
- B. 2-1-3-7-5-4-6
- C. 3-7-4-5-1-2-6
- D. 4-3-2-1-5-7-6
- E. 7-3-4-2-1-5-6

**Questions 21 - 24 are about the following letter**

**The following are letters to the editor of a school newspaper.**

Students should be allowed to study without worrying about grades. Fortunately, most educators are becoming aware of the fact that students have different interests and abilities. However, the regimentation resulting from grades still exists. Grades often stifle creativity. Competing for better grades causes many students to turn down success on everyone. I do not demand as some extremists do, that grades should be abolished immediately. However, I do believe that less emphasis should be placed on grades. I hope that someday grades will become optional at Village High School, opportunities to pursue music, dramatics and sports. Grades impose an arbitrary standard.

*Magdalena Smith, President,*

**Drama Club**

Let's face the facts about grades. Grades perform three basic functions. First, grades motivate students to work at their highest level of competence. Second, they act as a reward for hardworking students and as a reprimand to students who do not work hard. Finally, grades are used as an effective standard by which to measure student achievement. Good grades help students to get jobs and to get into university. I've spoken with a number of students who have jobs, and most of them say that they were hired primarily on the basis of their grades. My grades helped me land a part-time job and will help me get into university next year. I think grades are extremely important at Village High School.

*Simon Harper, Member,*

**Science Club**

21. Simon Harper writes from the viewpoint of someone who:
- wants business to hire more students
  - believes in the benefits of good grades
  - is concerned about students' creativity
  - supports students' interests and abilities
  - doesn't work too hard at his studies
22. Which of the following statements is a fact about grades at Village High School?
- |                           |  |                              |
|---------------------------|--|------------------------------|
| A. They are not useful    | C. They foster unnecessary competition | E. They are currently in use |
| B. They stifle creativity | D. They should be optional             |                              |
23. Which of the following is NOT an opinion expressed by Magdalena Smith?
- Grades should be abolished.
  - Regimentation results from grades.
  - Grades impose arbitrary standards of success.
  - Students should be able to learn without worrying about grades.
  - Competition may discourage students from pursuing subjects such as drama and art
24. Grades often stifle creativity. The underlined word means:
- |              |             |          |
|--------------|-------------|----------|
| A. Stimulate | C. Restrain | E. boost |
| B. Encourage | D. Enhance  |          |

**Questions 25 - 26 are about the following invitation**

**Get ready for our team-building exercise!**

On Thursday, December 13, 2012, the company will hold a whole-day team-building exercise at the Claremont Beach Resort in San Diego.

The activities in the morning will be done in the following order: bounty-hunting, tug-of-war, boat-building, and team relay. After lunch, we will do puzzle-solving exercises in separate groupings.

We are doing these exercises to promote the following skills in the organization: creativity, innovation, flexibility, and teamwork. The full participation of everyone is encouraged.

Assembly will be at the campus cafeteria. We will have breakfast there at 6:30 a.m. and the company bus will leave at exactly 8:00 a.m. Casual dress and sports get-ups are musts. We will have lunch and snacks at the beach resort.

25. What should participants bring?
- |                    |                      |          |
|--------------------|----------------------|----------|
| A. Snacks          | C. Lunch             | E. boat. |
| B. Casual clothing | D. Crossword puzzles |          |
26. What is the purpose of the activity?
- |                                    |                                      |                            |
|------------------------------------|--------------------------------------|----------------------------|
| A. To improve company teamwork.    | C. To come up with new product ideas | E. To refresh the employee |
| B. To improve employee well-being. | D. To foster company loyalty.        |                            |

**Questions 27 - 28 are about the following explanation**

All butterflies have "complete metamorphosis". To grow into an adult they go some through its stages and each stage has a different goal.

A butterfly starts life as a very small, round, oval or cylindrical egg. The coolest thing about butterfly eggs, especially monarch butterfly eggs, is that if you look close enough you can actually see the tiny caterpillar growing inside of it. Butterfly eggs are usually laid on the leaves of plants, so if you are actively searching for these very tiny eggs, you will have to take some time and examine quite a few leaves in order to find some.

When the egg hatches, the caterpillar will start his work and eat the leaf they were born onto. This is really important because the mother butterfly needs to lay her eggs on certain type of leaf which the caterpillar will eat - each type of caterpillar likes only certain types of leaves. Since they are tiny and cannot travel to a new plant, the mother caterpillar needs to hatch its egg on the kind of leaf it wants to eat. Caterpillars need to eat and eat so they can grow quickly. When a caterpillar is born, they are extremely small. When they start eating, they instantly start growing and expanding. Their exoskeleton (skin) does not stretch or grow, so they grow by "molting" (shedding the outgrown skin) several times while it is growing.

The pupa stage is one of the coolest stages of a butterfly's life. As soon as a caterpillar has reached its full length or weight, it changes itself into a pupa, also known as a chrysalis. This is the stage of developing.

## LATIHAN SOAL UN DAN UJIAN SBMPTN / PTS 2016/2017

Finally, when the caterpillar has fully grown adult if you are lucky, you will see an adult butterfly emerge. When the butterfly emerges from the chrysalis, both of the wings are soft and folded against its body. The butterfly will be able to fly after the blood circulation reaches its wings.

27. The text is about ....
- A. the growth of a butterfly
  - B. the characteristics of a butterfly
  - C. the lifecycle of a butterfly
  - D. fully grown butterfly
  - E. the reproductive system of a butterfly
28. What will happen if the caterpillar has reached its full weight and length? It will ....
- A. lay eggs
  - B. start eating
  - C. search for food
  - D. form a chrysalis
  - E. emerge a beautiful butterfly

### The following Text is for questions no. 29 – 31

Everybody likes home sweet home however making office at home is possible and recommended. Of course home office will have both advantage and disadvantage. Therefore it is wise to consider the strengths and weaknesses to have a home office.

Some people will agree that having an office at home will make benefit. It saves time. We need no commuting which occasionally takes a long time. Besides we are free to set the work schedule. Having home office will save money as we need not to purchase or lease of office space from rent companies. What make it more flexible is that we can set part or all parts of our home just as a real office. What we need is only a wireless router to cover all parts of our house with Internet. We can run our business wherever part of house we want, from living room, bed room, veranda, etc even we can make sales or purchases by online shopping for things we need. Furthermore working at home might reduce stress, effort and time and divert it to other more productive things because while working, we are close to our families.

However making home as office also has some disadvantages. For some people, keeping the schedule is hard in flexible time. Such people type wills harder if they are working just from home. There will no clear border between working and breaking. Working just from home also reduces the possibility to meet new people. It is true that computer and Internet connection possibly relate people every time and everywhere but we will interact with them in a dimension which is not real face.

So considering carefully what we actually need in running our business is much recommended before choosing to have office at home or not.

29. What is the communicative purpose of the text?
- A. To tell about advantages of a home office
  - B. To persuade readers to have a home office
  - C. To explain how to do a home office
  - D. To discuss about having a home office
  - E. To critics a home office
30. The followings are people's opinion about home office, **EXCEPT**:
- A. We do not need to set the work schedule
  - B. Home office means we work at our home.
  - C. We will have no border between working and breaking.
  - D. We will get closer to our families
  - E. Keeping the schedule is hard in flexible time.
31. We need no **commuting** which occasionally takes a long time.  
The underlined word has the closest meaning with:
- A. Travelling
  - B. Changing
  - C. Transferring
  - D. riding
  - E. driving

### The following Text is for questions no. 32 - 34

Last night I caught "Eclipse" on PPV TV and a sillier, more inane movie I've never watched in ages. The back stories add nothing to the plot, Kristen Stewart is even more irritating if that's possible, and the whole "triangle" between Bella, Jacob and Edward is such a farce I couldn't help laughing. There is no triangle to speak of, actually; only Jake's inability to accept no for an answer. There were two things I liked about this film: one was the new actress who plays Victoria, and the other was Edward's touching explanation of why he insists on no sex before marriage: he wants to re-live the old-fashioned way of courtship he was cheated of when he was made a vampire. Kind of sweet, when you think about it.

Taken as a whole, however, "Eclipse" adds up to two hours of nothing. Even the intrusion of the evil Volturi toward the movie's end seems more like an afterthought tacked onto the story. "Twilight" and "New Moon" still occupy a place on my

Crappy Movies You Can't Help Watching list, but "Eclipse" has earned a spot on my other list of Crappy Movies I Don't Care If I Never Watch Again.

32. What does the writer think about the movie?
- It's not an interesting movie
  - The movie lasts too long
  - The writer wants to watch again
  - The plot was in a good sequence
  - It's kind of sweet memories
33. What is the good thing about the movie according to the writer?
- The back stories and the plot
  - A triangle speak between Bella, Jacob, Edward
  - The intrusion of the evil Volturi toward the movie's end
  - When Edward became Jake's friend
  - Edward's explanation on no sex before marriage
34. ... and the other was Edward's touching explanation of why he insists on no sex before marriage. The underline words means:
- |            |              |          |
|------------|--------------|----------|
| A. Need    | C. Challenge | E. agree |
| B. Enforce | D. approve   |          |

The following Text is for questions no. 35 – 37

### WHY DOESN'T A BEAR HAVE A LONG TAIL?

One afternoon, a mouse deer was sitting in a pit, eating nuts. He heard a tiger was coming closer and he thought the tiger was going to eat him. The mouse deer was very scared and his heart beat so hard. Then, an idea came to his mind and he made a loud noise of chewing nuts, saying, "Wow, how delicious is this tiger's eye!" He repeated it for five times.

Tiger, the king of jungle, was so scared to hear that and he moved back.

Tiger met a bear on the way and he said, "Hey, Bear. Do you hear what is the animal on the pit over there, eating tiger's eyes?"

Bear said, "I don't know, Your Majesty,"

Tiger said, "Then let's see."

Bear replied "But I'm scared, Your Majesty"

Tiger said, "Don't worry. Let's make a deal with me. We're going to stay together, uniting our tails. If anything happens, both of us will face it."



Tiger and Bear tied their tails and moved into the pit with full cautions because they were expecting to see a big enemy. The mouse deer was surprised again. He thought quickly and yelled, "Oh, that's the glutton tiger! His father owes us a white bear, now he will pay us with a black bear. Come on black, over here."

Bear was so surprised. "Hey, it's a Tiger's trick! He wanted to use me to pay his father's debt!"

Bear went into a panic, which also made Tiger panic because they were tied each other.

Accidentally, Tiger stepped on the Bear's tail, and then jumped. Bear was beaten on the ground hard, and his tail was cut off. That's why Bear doesn't have long tail.

Thus the mouse deer escaped from the tiger twice.

35. What does the last paragraph tell us about?
- The mouse deer can save himself from the bear
  - Both tiger and bear tied their tails
  - The panic tiger made the bear's tail cut off
  - A poor bear was left by the tiger
  - The tiger jumped on the bear's tail
36. Which of the following IS NOT the characteristic of the tiger?
- |            |            |             |
|------------|------------|-------------|
| A. Foolish | C. Nervous | E. Arrogant |
| B. Coward  | D. Selfish |             |

37. What can we learn from the story?
- A. Be calm in facing any problems.                      C. Don't worry be happy                      E. Don't be selfish toward others  
B. Be careful before stepping a head                      D. Frightening kills yourself

**The following Text is for questions no. 38 – 39**

8th January 2004

Dear Jane.

I hope you are feeling better Are you able to sit in the garden and enjoy the sunshine?

We all miss you in the office and look forward to your return. There have been a few changes since you went into hospital. Eric Johnson has now retired (lucky man) and Matthew has taken over Eric's job. He is struggling at the moment. He hopes you will return soon to rescue him from the muddle.

I thought you would like the book I'm sending you with this letter I saw it in the bookshop and thought it would make you laugh. I know you've always wanted to live in Greece. Anyway, I hope you enjoy it and find time to read it before you return to work Take it easy and look after yourself I'll write again soon.

Best regards

Sheila

38. Why did Sheila write that letter to Jane?
- A. Sheila informed Jane that Mathew has taken her job  
B. Sheila encouraged Jane to get well soon  
C. Sheila wanted Jane to read a book in the hospital  
D. Sheila told Jane that everybody missed her  
E. Sheila hopes Jane would help Mathew
39. Which of the following sentences is NOT stated in the text?
- A. Jane was in the hospital quite a long time  
B. Mathew is a new employee who takes Eric's job  
C. Eric Johnson was retired from that office  
D. Sheila sent Jane a letter, roses and a book about Greece.  
E. Jane enjoyed sitting in the garden under the sunshine

**The following Text is for questions no. 40 – 42**

Birds are interesting flying animals. They are vertebrates and warm blooded animals. They belong to aves class and they can be found all over the world.

Birds breathe with their air pocket. Beside as respiration organ, air pocket also can enlarge or reduce their weight when flying or swimming.

There are many kinds of birds. Each bird has special characteristics. They have different morphology according to their food and their habitat. Some of them eat seeds, pollen, fish or meat. There are some species that live in land and the others live in water. Land birds live on their nest.

Female birds have specific tasks. They lay eggs and feed their baby, beside that they look for foods for their baby.

40. What is the purpose of the text?
- A. To report about kind of birds                      C. To tell a story about birds                      E. To describe a flying animal.  
B. To inform us about birds                      D. To explain how birds fly
41. Which of the following information IS TRUE about the birds?
- A. Birds are vertebrates and cold blooded animals  
B. Birds can be found all over the world except in South Pole  
C. The air pocket help birds to breathe and to save their weight  
D. The air pocket will adjust their weight when flying or swimming  
E. Male birds look for food for their baby while the female feed them.
42. They have different morphology according to their food and their habitat.  
The sentence means ....
- A. Each birds has its special food and habitat  
B. The birds species depend on their characteristics  
C. Birds with different food and habitat have different species  
D. All birds have different food and habitat  
E. The birds' food and habitat determine their existence

**The following Text is for questions no. 43 - 45**

Nusa Dua is a lovely commune devoted to tourism. The most exclusive and well-known remedy in Bali offers the best in terms of tourist structures and services, well-built and efficient hotel complexes with exclusive facilities, golf course with international standards where worldwide competition are also held, luxurious shops and exclusive beaches for tourists only. Nusa Dua differs from the rest of the Bukit Peninsula. In place of cliffs, sandy soil descends to a long white beach stretching from Nusa Dua proper all the way to Tanjung Benoa harbor, five kilometers to the north. The beach at Nusa Dua is sheltered by coral reef which creates an ideal family beach, while Tanjung Benoa specializes in water sports.

43. What is the main idea of the text above?  
 A. The devoted commune of Nusa Dua                      C. The lovely beach of Nusa Dua    E. The Tanjung Benoa in Nusa Dua  
 B. The exclusive remedy in Bali                              D. The Bukit Peninsula in Nusa Dua
44. Tourists who want to enjoy banana boats and snorkeling should go to ....  
 A. Nusa Dua    C. Tanjung Benoa                                      E. Family beach  
 B. Bukit Peninsula    D. Coral reef
45. This clause is taken from the sentence "... **which** creates an ideal family beach" The word **which** refers to ....  
 A. Nusa Dua beach    C. Tanjung Benoa                                      E. Sandy soil  
 B. Coral reef    D. Bukit Peninsula

**Questions no. 46 and 47 has no relation with the text above.**

46. Rearrange the sentences below to make a coherent paragraph.  
 1. He lives in a small town and knows every family on his route.  
 2. Neil Moore has been a postman for 20 years.  
 3. At Christmas many families give him presents.  
 4. They appreciate his dedication and good service.  
 5. He has carried mail in heat and in cold, in rain and in snow.  
 6. He has delivered thousands of letters to homes on his mail route.  
 A. 1-2-3-4-5-6    C. 2-5-6-1-3-4    E. 2-6-5-1-4-3  
 B. 6-1-3-5-2-4    D. 4-5-6-3-2-1
47. 1. I answered reluctantly, "Because he is not Phil Collins!".  
 2. Willy is very inquisitive. He likes asking me everything he wants to know.  
 3. Willy asked me at once, "Dad, why is the policeman using a whistle, not a drum?"  
 4. Last week I took my five-year old son, Willy, to a musical instrument store.  
 5. On the way, he saw a policeman blowing his whistle to regulate the passing cars and other vehicles.  
 6. I wanted to buy him a set of junior drum because his drum teacher advised me to buy him one.  
 A good order of the sentences above is:  
 A. 4 - 6 - 2 - 5 - 3 - 1    C. 6 - 4 - 2 - 5 - 3 - 1    E. 5 - 3 - 1 - 4 - 6 - 2  
 B. 4 - 6 - 2 - 3 - 5 - 1    D. 6 - 4 - 2 - 1 - 3 - 5

**The following text is for questions no. 48 to 50**

**Complete the text with appropriate words.**

Nuclear power seems in some ways much (48) ... than other sources of energy. Take oil or coal as an example. When they are used in power stations, a great deal of smoke is (49) .... The smoke contains a great deal of acid. Even if the smoke is cleaned by filters, a lot of the acid still escapes into the air. This can be carried by clouds from power stations in England to Scandinavia. When it rains there, the acid comes down with the rain. (50) ..., the fish, in lakes and trees in forests begin to die.

48. A. Cleaner    C. Easier    E. dirtier  
 B. cheaper    D. harder
49. A. Inhaled    C. Produced    E. combined  
 B. performed    D. destroyed
50. A. However    C. Due to    E. As a result  
 B. Moreover    D. In spite of

MATEMATIKA IPS

- Pernyataan yang senilai dengan kalimat “Jika Fatah dan Ichwan datang maka semua siswa senang” adalah ....
  - Jika Fatah dan Ichwan tidak datang maka semua siswa tidak senang
  - Jika Fatah atau Ichwan tidak datang maka beberapa siswa tidak senang
  - Jika semua siswa senang maka Fatah dan Ichwan datang
  - Jika beberapa siswa tidak senang maka Fatah atau Ichwan tidak datang
  - Jika semua siswa tidak senang maka Fatah dan Ichwan tidak datang
- Negasi dari pernyataan “Setiap siswa harus mengikuti pelatihan atau penataran” adalah ....
  - Ada siswa yang tidak mengikuti pelatihan atau penataran
  - Setiap siswa tidak mengikuti pelatihan atau penataran
  - Setiap siswa tidak mengikuti pelatihan dan penataran
  - Ada siswa yang tidak mengikuti pelatihan atau penataran
  - Beberapa siswa harus mengikuti pelatihan dan penataran

- Diketahui :  
 Premis 1 : Jika Yusuf juara 1 maka Suci Gembira  
 Premis 2 : Suci tidak gembira atau Karel tertawa  
 Premis 3 : Karel tidak tertawa

Kesimpulan dari ke tiga premis di atas adalah ....

- Yusuf Juara 1
- Yusuf tidak Juara 1
- Karel tertawa
- Suci Gembira
- Suci tidak Gembira

- Bentuk sederhana dari :  $\frac{(2p^2q^2)^4}{(3p^{-3}q^{-2})^{-1}} = \dots$

- $\frac{8}{3}p^2q^{18}$
- $\frac{16}{3}p^2q^6$
- $\frac{32}{3}p^{11}q^{15}$
- $24p^{14}q^{18}$
- $48p^5q^6$

- Bentuk sederhana dari  $\frac{\sqrt{6} + \sqrt{5}}{\sqrt{6} - \sqrt{5}}$  adalah ....

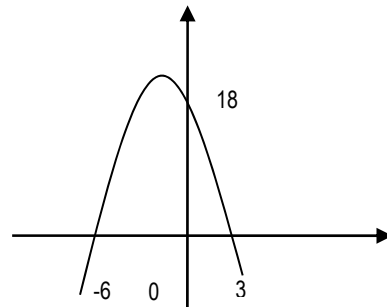
- $11 + \sqrt{30}$

- $11 + 2\sqrt{30}$
- $1 + \sqrt{30}$
- $1 + 2\sqrt{30}$
- $2\sqrt{30}$

- Diketahui  ${}^3\log 2 = x$ . Nilai dari  ${}^{32}\log \frac{1}{27}$  bila dinyatakan dalam x adalah ....

- $\frac{-3}{5x}$
- $\frac{-3x}{5}$
- $\frac{3x}{5}$
- $\frac{3}{5x}$
- $\frac{5}{3x}$

- Persamaan grafik fungsi kuadrat pada gambar di bawah ini adalah .....



- $y = -3x^2 + 6x - 36$
- $y = -2x^2 - 6x + 36$
- $y = -x^2 - 3x + 18$
- $y = -x^2 + 3x + 18$
- $y = -x^2 - 6x + 18$

- Diketahui fungsi  $f(x) = 3x^2 - x + 2$  dan  $g(x) = 2x - 3$ , maka  $(f \circ g)(x) = \dots$

- $6x^2 - 20x + 32$
- $6x^2 - 38x + 32$
- $6x^2 - 20x + 22$
- $12x^2 - 38x + 32$
- $12x^2 - 36x + 22$



LATIHAN SOAL UN DAN UJIAN SBMPTN / PTS 2016/2017

9. Jika diketahui  $f(x) = 2x + 4$ , dan  
 $(\text{gof})(x) = \frac{4x+6}{2x-5}$ ,  $x \neq \frac{5}{2}$ , maka fungsi  
 $g(x) = \dots$
- $\frac{2x-2}{x-9}$ ,  $x \neq 9$
  - $\frac{2x+2}{x-9}$ ,  $x \neq 9$
  - $\frac{8x+22}{4x+3}$ ,  $x \neq \frac{-3}{4}$
  - $\frac{8x+10}{4x+3}$ ,  $x \neq \frac{-3}{4}$
  - $\frac{8x+22}{4x-3}$ ,  $x \neq \frac{3}{4}$
10. Diketahui  $f(x) = \frac{5x+2}{3x-1}$ ,  $x \neq \frac{1}{3}$  Jika  $f^{-1}(x)$   
 adalah invers dari  $f(x)$  maka  $f^{-1}(2) = \dots$
- 2
  - 0
  - 4/11
  - 12/5
  - 4
11. Persamaan  $2x^2 - (3+p)x + 8 = 0$  mempunyai  
 dua akar real yang berlainan. Batas-batas  $p$  yang  
 memenuhi adalah....
- $-11 < p < 5$
  - $-5 < p < 11$
  - $2 < p < 5$
  - $p < -11$  atau  $p > 5$
  - $p < 2$  atau  $p > 5$
12. Akar-akar persamaan  $x^2 - 6x - 5 = 0$  adalah  
 $x_1$  dan  $x_2$ . Nilai dari  $\frac{1}{2x_1} + \frac{1}{2x_2} = \dots$
- 6/5
  - 3/5
  - 3/10
  - 3/10
  - 3/5
13. Persamaan kuadrat baru yang akar-akarnya 3 kali  
 akar-akar persamaan kuadrat  $x^2 - 2x + 3 = 0$   
 adalah ....
- $9x^2 - 6x + 27 = 0$
  - $3x^2 - 6x + 9 = 0$
  - $3x^2 - 6x + 27 = 0$
  - $x^2 - 6x + 9 = 0$
  - $x^2 - 6x + 27 = 0$
14. Himpunan penyelesaian dari  $2x^2 - x - 10 \leq 0$   
 adalah ....
- $\{x / -2 \leq x \leq \frac{5}{2}, x \in R\}$
  - $\{x / -4 \leq x \leq 5, x \in R\}$
  - $\{x / -\frac{5}{2} \leq x \leq 2, x \in R\}$
  - $\left\{ \begin{array}{l} x/x \leq -2 \text{ atau } x \leq \frac{5}{2}, x \in R \end{array} \right\}$
  - $\left\{ \begin{array}{l} x/x \leq -4 \text{ atau } x \leq 5, x \in R \end{array} \right\}$
15. Penyelesaian dari sistem persamaan berikut  
 $\begin{cases} 3x - 2y = 8 \\ 5x + y = 9 \end{cases}$  adalah  $p$  dan  $q$ , Nilai dari  $4p + 2q$   
 adalah ...
- 2
  - 6
  - 10
  - 22
  - 30
16. Dua tahun yang lalu umur ayah adalah 7 kali  
 umur anaknya. Empat tahun yang akan datang  
 jumlah umur mereka adalah 44 tahun. Maka umur  
 anak sekarang adalah .... Tahun
- 3
  - 4
  - 6
  - 7
  - 9
17. Nilai minimum dari  $2x + 5y$  yang memenuhi  
 pertidaksamaan  $x \geq 0$  ;  $y \geq 0$  ;  $x + y \geq 12$  ;  
 dan  $x + 2y \geq 16$  ; adalah ....
- 0
  - 24
  - 32
  - 36
  - 60
18. Setiap Kue Jenis I membutuhkan 50 gr gula dan  
 60 gr tepung sedangkan setiap Kue Jenis II  
 membutuhkan 100 gr gula dan 20 gr tepung. Jika  
 tersedia 3,5 Kg gula dan 2,2 kg tepung, maka  
 jumlah terbanyak kue yang dapat dibuat adalah  
 .... Unit
- 40
  - 45
  - 47
  - 50
  - 70
19. Diketahui  $A = \begin{pmatrix} 4 & 2 \\ x & 1 \end{pmatrix}$  ;  $B = \begin{pmatrix} -x & -1 \\ 3 & y \end{pmatrix}$  ; dan  
 $C = \begin{pmatrix} 10 & -9 \\ 7 & 2 \end{pmatrix}$ . Jika  $3A - B = C^T$  dan  $C^T$   
 adalah transpos dari matrik  $C$ , maka nilai  
 $x + y = \dots$
- 3
  - 1

- C. 1  
D. 6  
E. 23
20. Jika diketahui  $A = \begin{pmatrix} x & 2 \\ 1 & 3 \end{pmatrix}$  dan  $B = \begin{pmatrix} 1 & 4 \\ 1 & 0 \end{pmatrix}$  dan determinan dari matriks  $AB = -16$  maka nilai  $x = \dots$   
A. -12  
B. -3  
C. 1  
D. 2  
E. 12
21. Invers dari matrik  $A = \begin{pmatrix} -2 & 6 \\ -4 & 10 \end{pmatrix}$  adalah  $A^{-1} = \dots$   
A.  $-\frac{1}{4} \begin{pmatrix} 10 & -6 \\ 4 & -2 \end{pmatrix}$   
B.  $-\frac{1}{4} \begin{pmatrix} 2 & -4 \\ 6 & -10 \end{pmatrix}$   
C.  $\frac{1}{4} \begin{pmatrix} -10 & -6 \\ 4 & 2 \end{pmatrix}$   
D.  $\frac{1}{4} \begin{pmatrix} 2 & -4 \\ 6 & -10 \end{pmatrix}$   
E.  $\frac{1}{4} \begin{pmatrix} 10 & -6 \\ 4 & -2 \end{pmatrix}$
22. Diketahui deret aritmetika :  $4+7+10+13+\dots$ . Jumlah 15 suku pertama deret tersebut adalah....  
A. 285  
B. 345  
C. 375  
D. 385  
E. 425
23. Suku pertama barisan geometri adalah 4 sedangkan suku ke empat adalah  $\frac{4}{27}$ . Jumlah empat suku pertama barisan tersebut adalah ....  
A. 160/9  
B. 62/3  
C. 16  
D. 160/27  
E. 52/9
24. Harga jual sebuah mesin setiap bulannya mengalami penyusutan tetap sebesar Rp 200.000. Jika harga baru mesin tersebut Rp 30.000.000, maka harga mesin setelah digunakan selama 2 tahun adalah ....  
A. Rp 25.000.000  
B. Rp 25.200.000  
C. Rp 25.400.000  
D. Rp 29.600.000  
E. Rp 29.800.000
25. Nilai dari  $\lim_{x \rightarrow 2} \frac{x^2 + 2x - 8}{x^2 - x - 2} = \dots$   
A. -3  
B. -2  
C. 1  
D. 2  
E. 3
26. Nilai dari  $\lim_{x \rightarrow \infty} (2x + 1 - \sqrt{4x^2 - x}) = \dots$   
A.  $-\infty$   
B.  $\frac{3}{4}$   
C. 1  
D.  $\frac{5}{4}$   
E.  $\frac{5}{2}$
27. Diketahui  $f(x) = \frac{x^2 + 3}{2x + 1}$ ,  $x \neq -\frac{1}{2}$  jika  $f'(x)$  adalah turunan pertama dari  $f(x)$ , maka nilai dari  $f(0) + 2f'(0) = \dots$   
A. -10  
B. -9  
C. -7  
D. 3  
E. 15
28. Biaya untuk memproduksi  $x$  unit barang adalah  $\frac{1}{4}x^2 + 35x + 25$ . Jika setiap unit barang dijual dengan harga  $50 - \frac{1}{2}x$ , maka agar memperoleh keuntungan yang optimal, maka banyaknya barang yang diproduksi adalah .... unit  
A. 8  
B. 10  
C. 14  
D. 16  
E. 22
29. Hasil dari  $\int 4x(3x^2 - 2)^3 dx = \dots$   
A.  $x(3x^2 - 2)^4 + C$   
B.  $\frac{1}{3}(3x^2 - 2)^4 + C$   
C.  $\frac{1}{6}(3x^2 - 2)^4 + C$   
D.  $\frac{1}{4}(3x^2 - 2)^4 + C$   
E.  $\frac{2}{3}(3x^2 - 2)^4 + C$
30. Luas daerah yang dibatasi oleh kurva  $y = x^2 - 1$  dan  $y = x + 1$  adalah.... satuan luas  
A. 27/4  
B. 9/4  
C. 9/2  
D. 9  
E. 27
31. Banyaknya bilangan yang terdiri dari tiga angka berbeda dan terletak diantara 200 dan 500 yang dibentuk dari angka-angka 2, 3, 4, 5, 6 adalah ....

LATIHAN SOAL UN DAN UJIAN SBMPTN / PTS 2016/2017

- A. 12
- B. 15
- C. 36
- D. 48
- E. 60

32. Banyaknya susunan huruf berbeda yang dapat disusun dari huruf-huruf pada kata BUDIMAN dengan syarat huruf B dan N selalu berada di tepi adalah ....

- A. 5
- B. 10
- C. 120
- D. 180
- E. 240

33. Sepuluh orang siswa dua diantaranya adalah A dan B, akan dibentuk tim peneliti yang terdiri dari 7 orang siswa. Banyaknya tim yang dapat dibentuk dengan syarat A dan B harus menjadi anggota tim adalah ....

- A. 56
- B. 60
- C. 112
- D. 336
- E. 3.136

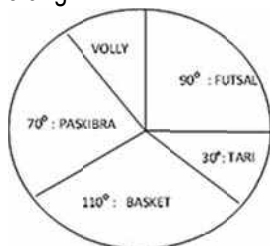
34. Dua dadu diundi bersama-sama sebanyak 72 kali. Frekuensi harapan munculnya mata dadu berjumlah 5 atau 10 adalah ....

- A.  $7/36$
- B. 7
- C. 14
- D. 16
- E. 20

35. Dari seperangkat kartu bridge (tanpa kartu JOKER) diambil sebuah kartu secara acak. Peluang terambil kartu As atau kartu berwarna merah adalah ....

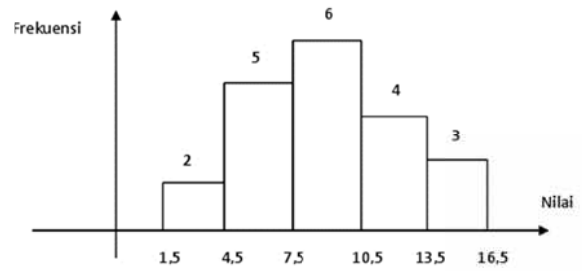
- A.  $3/13$
- B.  $1/2$
- C.  $7/13$
- D.  $15/26$
- E.  $10/13$

36. Perhatikan diagram lingkaran yang menunjukkan banyaknya siswa yang mengikuti kegiatan ekstrakurikuler disamping. Jika peserta ekskul Futsal adalah 135 siswa. Maka banyaknya peserta ekskul Volly adalah ... orang



- A. 45
- B. 90
- C. 105
- D. 165
- E. 180

37. Perhatikan histogram berikut :



Nilai rata-rata data pada histogram di atas adalah ....

- A. 8,15
- B. 9,15
- C. 10,5
- D. 11,25
- E. 11,5

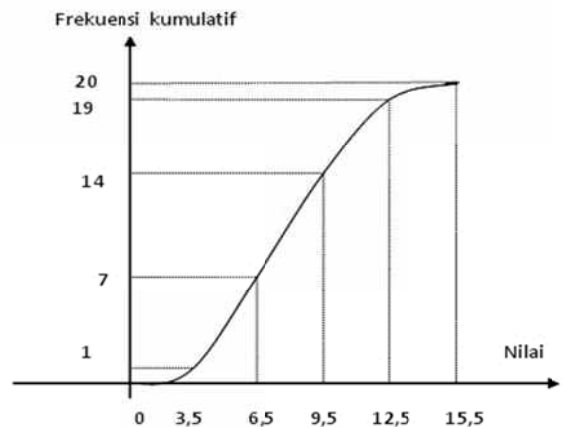
38. Perhatikan tabel distribusi frekuensi berikut:

Nilai	Frekuensi
21 - 25	3
26 - 30	6
31 - 35	8
36 - 40	10
41 - 45	7
46 - 50	6

Median dari data pada tabel di atas adalah ....

- A. 37
- B. 37,2
- C. 37,5
- D. 37,7
- E. 38

39. Perhatikan kurva dari distribusi kumulatif "kurang dari " berikut :



Modus dari data pada kurva di atas adalah ....

- A. 7,5
- B. 7,75
- C. 8,1
- D. 8,5
- E. 8,75

40. Simpangan baku dari data : 4, 6, 7, 3, 8, 7, 8, 5 adalah ....

- A.  $\frac{1}{2}\sqrt{6}$
- B.  $\sqrt{3}$
- C.  $\sqrt{6}$
- D. 3
- E.  $2\sqrt{6}$

**GEOGRAFI**

1. Kepulauan Seribu di ujung utara Kota Jakarta hanya bisa ditempuh dengan angkutan kapal laut dari Muara Angke pada waktu-waktu tertentu saja atau dari Marina Ancol dengan biaya yang sangat tinggi. Fenomena seperti ini sangat erat kaitannya dengan konsep ....
 

A. diferensiasi area	C. Jarak	E. Morfologi
B. aksesibilitas	D. Nilai Kegunaan	
  
2. Setiap tahun permukaan tanah Kota Jakarta diperkirakan mengalami penurunan akibat eksploitasi air tanah yang berlebihan. Pendekatan geografi untuk mengkaji permasalahan tersebut adalah pendekatan ....
 

A. Ekologi	C. Region	E. Komplek Wilayah
B. Keruangan	D. Kewilayahan	
  
3. Penebangan hutan secara liar telah menyebabkan hampir 40% hutan tropik di Kalimantan berkurang luasnya. Hal ini menyebabkan berkurangnya daerah resapan air hujan yang berdampak pada berkurangnya debit air sungai pada musim kemarau. Prinsip geografi yang berkaitan dengan fenomena tersebut adalah prinsip ....
 

A. Kelingkungan	C. Interelasi	E. Korologi
B. Keruangan	D. Deskripsi	
  
4. Fenomena geosfer:
  - 1) padang gurun;
  - 2) pola aliran sungai;
  - 3) pola permukiman penduduk;
  - 4) daerah transmigrasi;
  - 5) kualitas penduduk.
 Aspek sosial dari fenomena di atas terdapat pada nomor ....
 

A. 1), 2) dan 3)	C. 1), 3) dan 5)	E. 3), 4) dan 5)
B. 1), 2) dan 4)	D. 2), 4) dan 5).	
  
5. Skema pergeseran lempeng seperti pada gambar di samping dinamakan ....
 

A. batas konvergen	C. Batas transformasi	E. batas heterogen
B. batas divergen	D. batas homogen	
  
6. Pergerakan lempeng yang terjadi apabila kedua lempeng yang arahnya saling mendekat dapat menimbulkan perubahan bentuk muka bumi dinamakan ... dan dampaknya ....
 

A. konvergen, membentuk palung laut	C. transform, membentuk sesar
B. divergen, membentuk tanggul dasar samudera	D. subduksi, menimbulkan sedimen campuran
E. induksi, menghancurkan lempeng	
  
7. Teori Proto Planet menyatakan bahwa pembentukan tata surya berawal dari ....
 

A. gumpalan awan gas dan debu	C. massa matahari yang terlempar dan membeku
B. pasang dan surut sebuah bintang	D. kabut yang berpilin dan terpecah menjadi planet
E. kabut-kabut planetesimal dan membentuk planet	
  
8. Menurut Teori Dentuman Besar, jagat raya terbentuk karena ....
 

A. jagat raya bersifat statis, tidak bermula dan berakhir	C. jagat raya mengalami pergeseran spektrum merah dan meledak
B. adanya tumbukan antara 2 massa gas yang bergerak berpapasan	D. adanya reaksi inti, yang menimbulkan ledakan dan mengalami pengembangan
E. jagat raya memiliki permulaan dan mengalami pengembangan	
  
9. Ciri-ciri planet:
  - (1) memiliki satelit yang bernama Triton dan Nereid;
  - (2) planet terjauh dari matahari;
  - (3) dikenal sebagai bintang senja;
  - (4) masa rotasinya hampir sama dengan Bumi;
  - (5) masa revolusi sekitar 164,8 tahun.
 Ciri-ciri Planet Neptunus ditunjukkan oleh nomor ....
 

A. (1), (2) dan (3)	C. (1), (4) dan (5)	E. (3), (4) dan (5)
B. (1), (2) dan (5)	D. (2), (3) dan (4)	

10. Jenis batuan:

- (1) kapur;
- (2) batu opal;
- (3) topaz;
- (4) konglomerat;
- (5) turmalin.

Batuan yang mempunyai nilai ekonomi tinggi ditunjukkan oleh angka ....

- A. (1), (2) dan (3)
- B. (1), (2) dan (5)
- C. (2), (3) dan (4)
- D. (2), (3) dan (5)
- E. (3), (4) dan (5)

11. Peristiwa tektonisme berupa gerak orogenesis dapat menghasilkan bentang alam berupa ....

- A. palung laut makin dalam di Sulawesi
- B. pengangkatan pulau karang di Pasifik Selatan
- C. dataran pantai berteras-teras di Timor Timur
- D. bentang alam daerah karst di Gunung Kidul
- E. terbentuknya Slenk Semangko di Pulau Sumatera

12. Pernyataan:

- (1) abu vulkanis menyuburkan tanaman;
- (2) mengeluarkan gas panas beracun;
- (3) magma yang dikeluarkan mengandung mineral logam;
- (4) mengeluarkan lava pijar yang menghanguskan areal yang dilalui;
- (5) material yang dikeluarkan mengeluarkan pasir, kerikil dan batu.

Berdasarkan pernyataan tersebut dampak positif vulkanisme terdapat pada angka ....

- A. (1), (2) dan (3)
- B. (1), (2) dan (4)
- C. (1), (3) dan (5)
- D. (2), (4) dan (5)
- E. (3), (4) dan (5)

13. Pada saat terjadi gempa, masih banyak karyawan yang berada di lantai tiga sebuah perkantoran. Agar terhindar dari timbunan bangunan bangunan, yang seharusnya dilakukan adalah ....

- A. turun melalui lift agar cepat sampai di bawah
- B. turun melalui tangga darurat
- C. diam di tempat agar tidak menguras tenaga
- D. bersembunyi di bawah kolong meja
- E. berteriak sekeras-kerasnya minta tolong

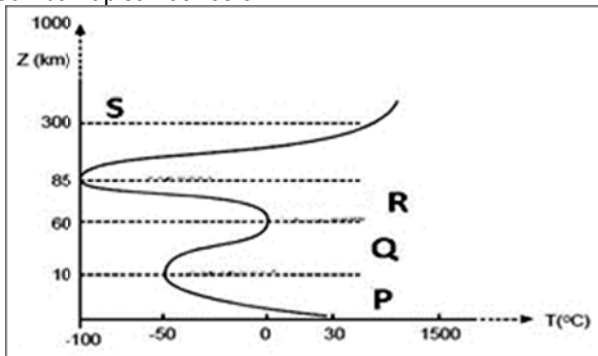
14. Berikut merupakan usaha-usaha untuk melestarikan tanah.

- (1) penghijauan
- (2) pergiliran tanaman
- (3) membuat sengkedan
- (4) perbaikan drainase dan irigasi
- (5) *contour strip cropping*
- (6) *windbreak*

Cara untuk melestarikan tanah secara vegetatif ditunjukkan dengan nomor ....

- A. (1), (2), (3) dan (4)
- B. (1), (2), (5) dan (6)
- C. (1), (3), (4) dan (5)
- D. (2), (4), (5) dan (6)
- E. (3), (4), (5) dan (6)

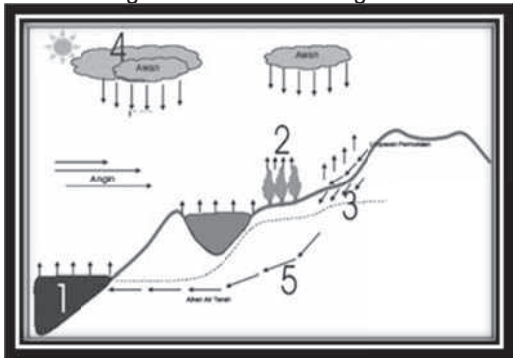
15. Gambar lapisan atmosfer:



Huruf Q pada gambar merupakan lapisan ....

- A. eksosfer, tempat pemantulan gelombang
- B. stratosfer, tempat konsentrasi Ozon
- C. termosfer, merupakan lapisan yang panas
- D. mesosfer, tempat meteoroid terbakar
- E. troposfer, lokasi terjadinya cuaca

16. Perhatikan pernyataan-pernyataan berikut.  
 (1) berdiri sendiri dengan struktur berserat  
 (2) bentuk seperti bulu burung  
 (3) pada langit biru tampak pucat  
 (4) letaknya tinggi terdiri atas kristal-kristal es, tetapi tidak menimbulkan hujan  
 Pernyataan-pernyataan di atas merupakan ciri dari awan ....
- A. Cirrus  
 B. Stratus  
 C. Cumulus  
 D. Strato cumulus  
 E. Cumulus-nimbus
17. Pada wilayah dengan suhu udara 17,1°C - 22°C, jenis tanaman yang cocok adalah coklat, karet, kina, kopi, sayuran dan teh. Menurut Junghuhn iklim di wilayah ini adalah iklim ....
- A. Panas  
 B. Sedang  
 C. Sejuk  
 D. dingin  
 E. Kutub
18. Perhatikan gambar siklus hidrologi!



Proses infiltrasi pada gambar ditunjukkan oleh angka ....

- A. 1  
 B. 2  
 C. 3  
 D. 4  
 E. 5
19. Air tanah yang naik dari magma bila gas-gasnya dibebaskan melalui mata air panas disebut air tanah ....
- A. Artesis  
 B. Freatik  
 C. Atmosfer  
 D. Juvenil  
 E. Tubir
20. Aliran sungai yang banyak dijumpai di daerah ledok atau cekungan, biasanya memiliki pola aliran ....
- A. Anular  
 B. Pinnate  
 C. Denditrik  
 D. Radial sentrifugal  
 E. Radial sentripetal
21. Faktor lingkungan yang memengaruhi persebaran flora yang berhubungan dengan kondisi fisik tanah disebut ....
- A. Klimatik  
 B. Biotik  
 C. Edafik  
 D. Topografi  
 E. Fisiografi
22. Berikut adalah ciri-ciri habitat.  
 (1) pepohonan sangat lebat  
 (2) jenis tumbuhan heterogen  
 (3) cahaya matahari tidak dapat menembus ke dasar hutan  
 (4) banyak dijumpai tumbuhan epifit  
 Pernyataan tersebut merupakan ciri-ciri dari bioma ....
- A. hutan musim  
 B. tundra  
 C. Hutan tanaman tropis  
 D. Taiga  
 E. Sabana
23. Contoh hewan di Indonesia yang bercorak wilayah peralihan (antara garis Wallace – Weber) adalah ....
- A. gajah, harimau dan komodo  
 B. kanguru, cendrawasih dan kasuari  
 C. badak, harimau dan panda  
 D. komodo, anoa dan maleo  
 E. kuskus, kanguru dan komodo
24. Di daerah Nusa Tenggara dengan kondisi curah hujan yang sedikit sehingga banyak dijumpai padang rumput. Hal ini mengakibatkan masyarakat memiliki aktivitas pada bidang ....
- A. Pertanian  
 B. Perikanan  
 C. Peternakan  
 D. Perkebunan  
 E. Pertambangan
25. Persebaran penduduk Indonesia tidak merata dan sebagian besar menempati Pulau Jawa dan Madura. Upaya yang dilakukan untuk mengatasi masalah tersebut adalah dengan melaksanakan ....

LATIHAN SOAL UN DAN UJIAN SBMPTN / PTS 2016/2017

- A. transmigrasi nasional                      C. pengurangan kelahiran                      E. program wajib belajar 12 tahun  
B. transmigrasi local                          D. program KB

26. Setelah tamat dari SMA Purbalingga, Jawa Tengah, Susilo melanjutkan studinya di Jakarta dan akhirnya mengajar di salah satu SMA di Jakarta. Fenomena tersebut menggambarkan adanya mobilitas penduduk dalam bentuk ....  
A. Imigrasi    C. Urbanisasi    E. Transmigrasi  
B. Emigrasi    D. Forensen

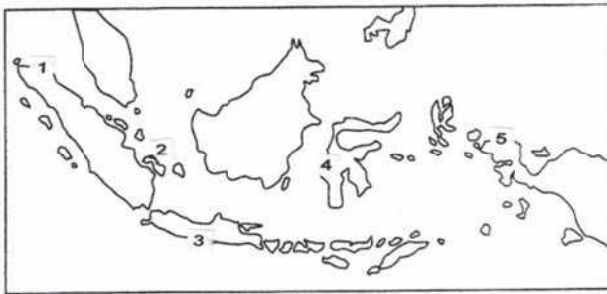
27. Berikut merupakan contoh dari sumber daya alam.

- (1) uranium  
(2) batu bara  
(3) perak  
(4) minyak bumi  
(5) marmer

Sumber daya alam yang termasuk golongan A terdapat pada angka ....

- A. (1), (2) dan (3)                                  C. (1), (3) dan (5)                                  E. (3), (4) dan (5)  
B. (1), (2) dan (4)                                  D. (2), (3) dan (5)

28. Berdasarkan peta persebaran tambang berikut, barang tambang timah dan nikel terdapat pada nomor ....



- A. 1 dan 2  
B. 1 dan 3  
C. 2 dan 4  
D. 3 dan 5  
E. 4 dan 5

29. Nikel adalah sumber daya alam yang dapat digunakan untuk ....

- A. bahan baku semen, industri gelas, pemutihan gula  
B. industri keramik, bahan tahan api, genteng  
C. industri besi baja, industri korek api  
D. menyepuh besi/baja dan logam-logam lain supaya tidak berkarat  
E. pembuatan pupuk, bahan obat-obatan, bahan peledak

30. Pemanfaatan lingkungan hidup yang sesuai dengan pembangunan berkelanjutan adalah ....

- A. mengusahakan agar tidak terjadi pencemaran pada sumber air  
B. menebang pohon yang memiliki nilai ekonomi tinggi  
C. menggunakan pukat harimau untuk meningkatkan produksi ikan laut  
D. menanam satu jenis tanaman setiap tahun untuk mempertahankan produksi  
E. memproduksi mobil murah untuk meningkatkan kesejahteraan masyarakat

31. Ciri pembangunan berkelanjutan adalah ....

- A. pendekatan integratif agar sumber daya lestari  
B. memelihara keanekaragaman hayati pada lahan potensial  
C. strategi pembangunan berwawasan ke masa sekarang  
D. menjual produk kehutanan dalam bentuk jadi  
E. perluasan lahan konservasi dengan mendukung illegal logging

32. Kegiatan yang berkaitan dengan sumber daya tanah sebagai berikut.

- (1) penanaman secara kontinu  
(2) pemberian jeda masa tanam  
(3) pemberian pupuk kimia secara kontinu  
(4) penterasan lahan miring  
(5) penggiliran jenis tanaman

Upaya menjaga kelestarian sumber daya tanah ditunjukkan oleh nomor ....

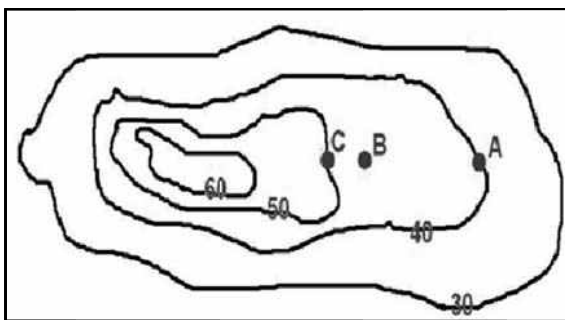
- A. (1), (2) dan (3)                                  C. (1), (3) dan (5)                                  E. (3), (4) dan (5)  
B. (1), (2) dan (4)                                  D. (2), (4) dan (5)

33. Peta Kalimantan



- Taman Nasional yang bertanda X adalah ... .
- Kayan Mentarang, melindungi kucing hutan
  - Betung Keruhun, melindungi burung rangkong
  - Bukit Baka Bukit Raya, melindungi beruang
  - Tanjung Puting, melindungi orang utan
  - Kutai, melindungi Bekantan dan beruang madu

34. Jenis peta yang dapat digunakan untuk menganalisis tingkat kerawanan longsor adalah ....




- Peta topografi, peta batimetri dan peta navigasi
- peta vegetasi, peta jenis tanah dan peta luas lahan
- peta geologi, peta geomorfologi dan peta curah hujan
- peta jenis tanah, peta kemiringan lereng dan peta curah hujan
- peta vegetasi, peta kedalaman air tanah dan peta curah hujan

35. Proyeksi peta yang digunakan untuk memetakan daerah kutub adalah proyeksi ....

- |                        |                        |                    |
|------------------------|------------------------|--------------------|
| A. kerucut normal      | C. azimuth normal      | E. azimuth oblique |
| B. kerucut transversal | D. azimuth transversal |                    |

36. Perhatikan gambar peta kontur berikut!



Jika jarak A-C = 5 cm dan B - C = 2 cm seperti gambar maka titik B berada pada ketinggian ... dan dimanfaatkan untuk ....

- 42 m, hutan lindung
- 44 m, usaha perikanan
- 46 m, pertanian padi
- 48 m, perkebunan apel
- 48 m, tambak udang

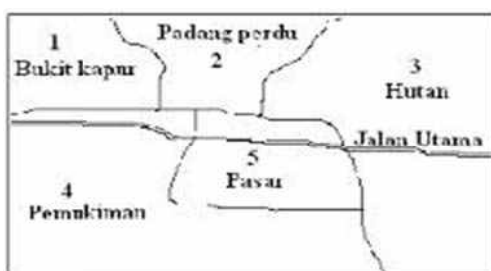
37. Jenis-jenis peta sebagai berikut.

- peta kerentanan banjir
- peta kapasitas banjir
- peta ancaman banjir

Peta tersebut digunakan untuk menentukan ....

- |                                  |                               |                            |
|----------------------------------|-------------------------------|----------------------------|
| A. jenis bencana banjir          | C. lokasi industri pertanian  | E. menentukan lahan kritis |
| B. tingkat risiko bencana banjir | D. menentukan lahan produktif |                            |

38. Perhatikan sketsa tata guna lahan!



Lokasi pabrik semen dibangun di wilayah 1 seperti pada gambar karena ....

- dekat dengan jalan utama
- mudah menjangkau pasar
- dekat bahan baku
- dekat dengan permukiman
- jauh dari sumber



39. Ciri-ciri citra sebagai berikut.

- (1) rona gelap
- (2) tinggi pohon seragam
- (3) situs di daerah pesisir

Berdasarkan ciri-ciri tersebut, objek yang tergambar pada citra adalah hutan ....

- A. Musim
- B. Lumut
- C. Bambu
- D. Bakau
- E. Jati

40. Manfaat citra penginderaan jauh pada bidang hidrologi adalah ....

- A. mengidentifikasi lahan kritis
- B. mengidentifikasi jenis batuan
- C. memetakan permukaan bumi
- D. memantau daerah aliran sungai
- E. mengamati sistem angin di muka bumi

41. Salah satu keunggulan Sistem Informasi Geografis adalah ....

- A. data dapat dipanggil ulang secara cepat
- B. dapat mengidentifikasi daerah rawan banjir
- C. membutuhkan biaya yang cukup besar
- D. dapat memantau perkembangan pantai
- E. mengevaluasi perkembangan cuaca

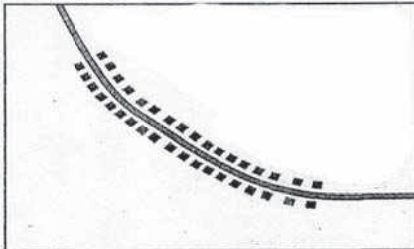
42. Pernyataan:

- (1) ketersediaan migas;
- (2) ketersediaan batubara dan emas;
- (3) ketersediaan besi dan tembaga.

Manfaat Sistem Informasi Geografis sesuai pernyataan tersebut adalah ....

- A. menyusun kembali daerah terbelakang
- B. pencegahan terjadinya bencana
- C. inventarisasi sumber daya alam
- D. peningkatan impor sumber daya alam
- E. optimalisasi penggunaan sumber daya alam

43. Gambar :



Penggambaran desa seperti pada gambar berpola... .

- A. menyebar
- B. tersebar
- C. memusat
- D. pengelompok
- E. memanjang

44. Akibat interaksi desa-kota antara lain:

- (1) lahirnya permukiman kumuh dan miskin (*slum area*);
- (2) meningkatkan keanekaragaman mata pencaharian;
- (3) meningkatkan pendapatan penduduk;
- (4) menumbuhkan kesadaran penduduk tentang pentingnya pendidikan;
- (5) menimbulkan pemekaran wilayah.

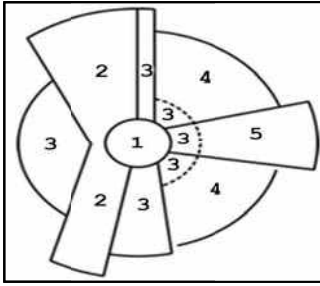
Dampak interaksi desa-kota yang dapat dirasakan oleh masyarakat desa terdapat pada angka ....

- A. (1), (2) dan (4)
- B. (1), (2) dan (5)
- C. (1), (3) dan (5)
- D. (2), (3) dan (4)
- E. (3), (4) dan (5)

45. Desa A mempunyai penduduk 180.000 jiwa dan desa B mempunyai penduduk 5.000 jiwa. Desa A dan desa B berjarak 42 km. Di antara kedua lokasi tersebut akan dibangun pasar tradisional. Lokasi pasar tersebut agar dapat optimal adalah ....

- A. 5 km dari desa A
- B. 6 km dari desa A
- C. 6 km dari desa B
- D. 7 km dari desa A
- E. 7 km dari desa B

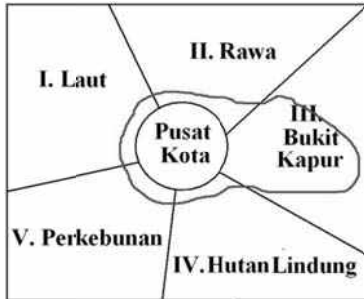
46. Perhatikan gambar pola sektoral!



Kawasan permukiman kelas menengah ditunjukkan oleh nomor ....

- A. 1
- B. 2
- C. 3
- D. 4
- E. 5

47. Gambar :



Perkembangan wilayah kota yang dominan ke lokasi bernomor... .

- A. I, karena masih sangat luas
- B. II, karena banyak sumber air
- C. III, karena harga lahan murah
- D. IV, karena lingkungannya sejuk
- E. V, karena tersedia bahan pangan

48. Latar belakang sebuah kota:

- (1) sebagai pusat pemerintahan;
- (2) sebagai pusat perkebunan;
- (3) sebagai pusat perniagaan;
- (4) sebagai pusat perindustrian;
- (5) sebagai pusat pertambangan.

Pertumbuhan kota Jakarta hingga seperti sekarang ini disebabkan peran Jakarta seperti yang ditunjukkan oleh angka

....

- A. (1), (2) dan (4)
- B. (1), (3) dan (4)
- C. (1), (4) dan (5)
- D. (2), (3) dan (5)
- E. (2), (4) dan (5)

49. Karakteristik kependudukan negara-negara berkembang adalah ....

- A. angka kematian rendah
- B. angka pertumbuhan penduduk tinggi
- C. tingkat pengangguran rendah
- D. jumlah penduduk makin sedikit
- E. pendapatan penduduk tinggi

50. Peta Benua Amerika Selatan:



Negara berkembang yang terdapat pada peta adalah... .

- A. Brazil, Bolivia, dan Mexico
- B. Argentina, Venezuela, dan Swaziland
- C. Chili, Uruguay, dan Paraguay
- D. Columbia, Suriname, dan Cuba
- E. Haiti, Guatemala, dan El Salvador

**EKONOMI**

1. Pada musim penghujan yang menimbulkan banjir, akan mendorong harga beras mengalami kenaikan, dan diikuti kenaikan harga barang kebutuhan pokok. Keadaan ini yang langsung terkena imbasnya adalah pengusaha makanan/restoran.

Dampak negatif dari kelangkaan barang kebutuhan pokok tersebut adalah... .

- A. pengusaha menaikkan harga jual dari makanan tersebut
  - B. mengurangi porsi makanan yang dijual dengan harga tetap
  - C. beralih profesi menjadi pengusaha selain makanan/restoran
  - D. omzet penjualan berkurang sehingga keuntungan berkurang
  - E. banyak yang gulung tikar dan akhirnya menganggur
2. Pak Herman seorang pengusaha sebelum memulai proses produksi suatu barang, harus cermat menentukan target pasar yang akan dituju, seperti anak-anak, remaja, atautkah dewasa.

Masalah pokok ekonomi modern yang terjawab dari pernyataan di atas adalah... .

- A. barang apa yang akan diproduksi
- B. bagaimana cara memproduksi
- C. untuk siapa barang diproduksi
- D. berapa banyak barang yang akan diproduksi
- E. di mana barang akan diproduksi

3. Aldi mengundurkan diri dari perusahaan tempat dia bekerja dan mendapatkan uang pesangon. Pesangon yang diterima, akan dipakai untuk membuka salah satu usaha dari :

- Usaha perbengkelan dengan keuntungan Rp. 75.000,00/hari
- Percetakan / sablon kaos dengan keuntungan Rp. 65.000,00/hari
- Agen/pengiriman barang dengan keuntungan Rp. 85.000,00/hari (1 bulan = 30 hari)

Apabila Aldi memutuskan membuka usaha pengiriman barang, maka biaya peluang adalah... .

- A. Memiliki usaha percetakan sendiri dengan penghasilan Rp. 1.950.000,00
- B. Usaha perbengkelan dengan keuntungan Rp. 2.250.000,00 perbulan
- C. Tidak memiliki peluang usaha perbengkelan untuk sementara waktu
- D. Membuka usaha sebagai agen pengiriman barang dengan keuntungan Rp. 2.550.000,00
- E. Memiliki usaha perbengkelan dan percetakan dengan pendapatan Rp. 4.200.000,00

4. Pak Djajuli tinggal di negara X yang memiliki ciri-ciri perekonomian sebagai berikut:

- Setiap orang bebas memiliki barang, termasuk barang modal
- Aktivitas ekonomi ditujukan untuk memperoleh laba
- Persaingan dilakukan secara bebas

Dari ciri-ciri tersebut maka negara X menganut sistem ekonomi ...

- A. Pasar
- B. Terpusat
- C. Terpusat
- D. Tradisional
- E. Komando

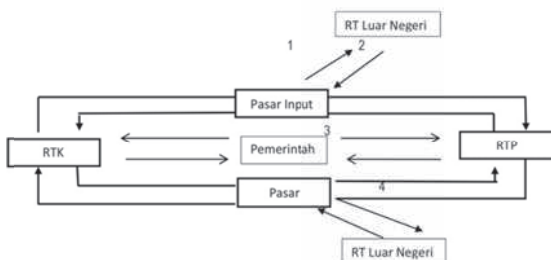
5. Kegiatan yang dilakukan oleh masyarakat:

- (1). Bu Susan setiap hari belanja untuk keperluan sehari-hari
- (2). Pak Santoso membeli pulsa untuk dijual lagi
- (3). Pak Jamal membayar sewa kios tempatnya usahanya
- (4). Pak Jamin membeli bensin motornya untuk pergi ke undangan
- (5). Pak Slamet membeli mie untuk bahan baku kios basonya

Dari pernyataan di atas yang termasuk perilaku produsen adalah... .

- A. (1), (2), dan (3)
- B. (1), (3), dan (5)
- C. (2), (3), dan (4)
- D. (2), (3), dan (5)
- E. (3), (4), dan (5)

6. Bagan interaksi pelaku ekonomi:



Berdasarkan bagan di atas, angka 4 menunjukkan ... .

- A. Arus faktor produksi dari produsen kepada rumah tangga luar negeri
- B. Arus faktor produksi dari rumah tangga konsumen kepada luar negeri
- C. Arus faktor produksi dari rumah produsen kepada rumah tangga konsumen
- D. Arus barang dari rumah tangga produsen kepada rumah tangga luarnegeri
- E. Arus barang dari rumah tanggaluar negeri kepada rumah tangga produsen



LATIHAN SOAL UN DAN UJIAN SBMPTN / PTS 2016/2017

13. Kenaikan harga BBM menyebabkan peningkatan biaya produksi dan memicu inflasi. Kondisi ini dirasakan sulit oleh Pak Ujang seorang pedagang makanan yang terpaksa menaikkan harga jual dagangannya, akibatnya hasil penjualan cukup menurun. Dampak ekonomi lain dari kondisi inflasi adalah....

- A. Meningkatnya kesejahteraan karena harga naik keuntungan pun meningkat
- B. Menurunnya angka pengangguran karena banyak investor yang menanamkan modal
- C. Rendahnya angka kemiskinan karena para pengusaha yang menaikkan harga barangnya memperoleh tambahan keuntungan yang berimbang pada kenaikan upah
- D. Meningkatnya gross national product karena banyak perusahaan dalam negeri yang menambah kuantitas produksinya
- E. Menurunnya daya beli masyarakat karena penghasilan yang diperoleh tidak sebanding dengan kenaikan harga

14. Berikut ini faktor-faktor yang menentukan besarnya tabungan dan investasi:

1. Tingkat suku bunga
2. Tinggi rendahnya pendapatan masyarakat
3. Dibangunnya berbagai infrastruktur penunjang
4. Berubahnya pola hidup masyarakat
5. Perubahan tingkat nilai tukar
6. Pemerintah memberikan jaminan berupa dana pensiun dan dana kesehatan

Faktor yang mempengaruhi besarnya investasi adalah....

- A. (1), (2), (3)
- B. (2), (4), (6)
- C. (1), (3), (5)
- D. (3), (4), (5)
- E. (4), (5), (6)

15. Di sebuah Negara terdapat uang yang beredar senilai Rp. 50 Milyar, jumlah barang yang diperdagangkan sebanyak 40 juta unit pada tingkat harga Rp, 25.000. Maka besarnya kecepatan peredaran uang menurut rumus Irving Fisher adalah....

- A. 20 kali
- B. 15 kali
- C. 10 kali
- D. 5 kali
- E. 2 kali

16. Terjadinya pengangguran memberikan dampak bagi individu dan masyarakat, diantaranya:

1. tingginya biaya peluang karena hilangnya kesempatan untuk produktif
2. meningkatnya kriminalitas di lingkungan masyarakat
3. menurunnya pendapatan nasional masyarakat
4. menurunnya penerimaan pajak penghasilan
5. rendahnya gross domestic product
6. menurunnya tingkat kesehatan masyarakat

Dampak ekonomi adanya pengangguran adalah....

- A. (1), (2), (3)
- B. (1), (3), (5)
- C. (2), (4), (6)
- D. (3), (5), (6)
- E. (4), (5), (6)

17. Berikut ini berbagai hambatan dan keberhasilan pembangunan ekonomi di Indonesia :

	P	Q
1	Nilai mata uang rupiah yang semakin stabil	Sikap mental dan etos kerja yang cenderung rendah dan korupsi
2	Meningkatnya angka urbanisasi warga yang akan bekerja	Fasilitas umum terpenuhi sehingga membantu kelancaran aktivitas
3	Banyak tenaga kerja yang tidak sesuai dengan lapangan kerja yang tersedia	Laju inflasi tidak melebihi angka 10%

Termasuk dalam keberhasilan pembangunan ekonomi adalah....

- A. P2, P3, Q2
- B. P3, Q2, Q3
- C. P1, P2, Q1
- D. P1, P3, Q2
- E. P1, Q2, Q3

18. Pemerintah menganggarkan dalam APBN tahun tertentu untuk membangun dan memperbaiki jembatan-jembatan penghubung antar provinsi dan antar kabupaten sehingga memudahkan aktivitas dan meningkatkan produktivitas masyarakat. Fungsi APBN yang dilaksanakan pemerintah adalah....

- A. Stabilisasi
- B. Alokasi
- C. Otorisasi
- D. Distribusi
- E. Perencanaan



LATIHAN SOAL UN DAN UJIAN SBMPTN / PTS 2016/2017

C.

(dalam ribuan)

Tanggal	Harta			Utang + Modal		
	Kas	Piutang Usaha	Kendaraan	Utang	Modal	
2014 Feb	1	Rp75.000,00	Rp2.500,00	Rp250.000,00	Rp 27.500,00	Rp300.000,00
	2	Rp 500,00	(Rp 500,00)	-	-	-
	3	Rp 75.500,00	Rp2.000,00	Rp250.000,00	Rp 27.500,00	Rp300.000,00
		(Rp150.000,00)	-	Rp150.000,00	-	-
	(Rp 74.500,00)	Rp2.000,00	Rp400.000,00	Rp27.500,00	Rp300.000,00	

D.

(dalam ribuan)

Tanggal	Harta			Utang + Modal		
	Kas	Piutang Usaha	Kendaraan	Utang	Modal	
2014 Feb	1	Rp75.000,00	Rp2.500,00	Rp250.000,00	Rp 27.500,00	Rp300.000,00
	2	Rp 500,00	(Rp 500,00)	-	-	-
	3	Rp75.500,00	Rp2.000,00	Rp250.000,00	Rp 27.500,00	Rp300.000,00
		(Rp50.000,00)	-	Rp150.000,00	Rp100.000,00	-
	Rp25.500,00	Rp2.000,00	Rp400.000,00	Rp127.500,00	Rp300.000,00	

E.

Tanggal	Harta			Utang + Modal		
	Kas	Piutang Usaha	Kendaraan	Utang	Modal	
2014 Feb	1	Rp 75.000,00	Rp2.500,00	Rp250.000,00	Rp 27.500,00	Rp300.000,00
	2	Rp 500,00	(Rp 500,00)	-	-	-
	3	Rp 75.500,00	Rp2.000,00	Rp250.000,00	Rp 27.500,00	Rp300.000,00
		(Rp100.000,00)	-	Rp150.000,00	Rp 50.000,00	-
	(Rp 24.500,00)	Rp2.000,00	Rp400.000,00	Rp 77.500,00	Rp300.000,00	

24. Diterima pendapatan mengaudit laporan keuangan milik UD Sejahtera senilai Rp2.000.000,00 dari yang seharusnya Rp. 5.000.000,00. Pencatatan transaksi di atas dalam mekanisme Debet dan Kredit yang benar adalah... .
- Pendapatan Jasa (+) di Debet Rp2.000.000,00, Piutang Usaha (+) di Debet Rp3.000.000,00, Kas (-) di Kredit Rp5.000.000,00
  - Pendapatan Jasa (+) di Debet) Rp3.000.000,00, Piutang Usaha (+) di Debet Rp2.000.000,00, Kas (-) di Kredit Rp5.000.000,00
  - Pendapatan Jasa (+) di Debet Rp5.000.000,00, Piutang Usaha (-) di Kredit Rp2.000.000,00, Kas (-) di Kredit Rp3.000.000,00
  - Pendapatan Jasa (+) di Kredit Rp5.000.000,00, Piutang Usaha (+) di Debet Rp3.000.000,00, Kas (+) di Debet Rp2.000.000,00
  - Pendapatan Jasa (+) di Kredit Rp5.000.000,00, Piutang Usaha (+) di Debet Rp2.000.000,00, Kas (+) di Debet Rp3.000.000,00
25. Transaksi yang terjadi pada "Salon Manis :
- 5 Januari 2014 dibeli peralatan salon seharga Rp1.750.000,00 dan perlengkapan salon senilai Rp. 500.000,00 dari Toko Ternama dengan faktur nomor 10/1/14.
  - 8 Januari 2014 diterima Rp3.500.000,00 atas pekerjaan merias pengantin 2 hari yang lalu dari yang seharusnya Rp. 5.000.000,00
  - 10 Januari 2014 dibayar cicilan pinjaman kepada bank Rp1.500.000,00 dengan bunga Rp.300.000

Berdasarkan transaksi tersebut , pencatatan ke dalam jurnal umum yang benar adalah ....

A.

Tanggal	Keterangan	Ref	Debit	Kredit
5	Peralatan Salon Perlengkapan kas		Rp 1.750.000,00 Rp. 500.000,00	Rp 2.250.000,00
8	Kas Piutang Jasa Pendapatan salon		Rp 3.500.000,00 Rp.1.500.000,00	Rp 5.000.000,00
10	Utang usaha Beban Bunga Kas		Rp 1.500.000,00 Rp. 300.000,00	Rp 2.300.000,00

LATIHAN SOAL UN DAN UJIAN SBMPTN / PTS 2016/2017

B.

Tanggal	Keterangan	Ref	Debit	Kredit
5	Perlengkapan Salon Peralatan kas		Rp 1.750.000,00 Rp. 500.000,00	Rp 2.250.000,00
8	Kas Piutang Jasa Pendapatan salon		Rp 3.500.000,00 Rp.1.500.000,00	Rp 5.000.000,00
10	Utang bank Beban Bunga Kas		Rp 1.500.000,00 Rp. 300.000,00	Rp 2.300.000,00

C.

Tanggal	Keterangan	Ref	Debit	Kredit
5	Peralatan Salon Perlengkapan kas		Rp 1.750.000,00 Rp. 500.000,00	Rp 2.250.000,00
8	Kas Piutang Jasa Modal		Rp 3.500.000,00 Rp.1.500.000,00	Rp 5.000.000,00
10	Utang bank Beban Bunga Kas		Rp 1.500.000,00 Rp. 300.000,00	Rp 2.300.000,00

D.

Tanggal	Keterangan	Ref	Debit	Kredit
5	Peralatan Salon Perlengkapan kas		Rp 1.750.000,00 Rp. 500.000,00	Rp 2.250.000,00
8	Kas Piutang Jasa Pendapatan salon		Rp 3.500.000,00 Rp.1.500.000,00	Rp 5.000.000,00
10	Utang bank Beban Bunga Kas		Rp 1.500.000,00 Rp. 300.000,00	Rp 2.300.000,00

E.

Tanggal	Keterangan	Ref	Debit	Kredit
5	Peralatan Salon Perlengkapan kas		Rp 1.750.000,00 Rp. 500.000,00	Rp 2.250.000,00
8	Kas Piutang Jasa Pendapatan salon		Rp 3.500.000,00 Rp.1.500.000,00	Rp 5.000.000,00
10	Utang bank Pendapatan Bunga Kas		Rp 1.500.000,00 Rp. 300.000,00	Rp 2.300.000,00



26. Jurnal Umum sebagian milik "Laundry Clean":

Halaman 1

Tanggal		Keterangan	Ref	Debet	Kredit
2014	2	Kas	111	Rp 500.000,00	-
Juli		Pendapatan Jasa	411	-	Rp 500.000,00
	3	Perlengkapan	113	Rp 250.000,00	-
		Kas	111	-	Rp 250.000,00
	4	Kas	111	Rp 750.000,00	-
		Piutang Usaha	112	-	Rp 750.000,00
	5	Peralatan	121	Rp 1.750.000,00	-
		Kas	111	-	Rp 1.000.000,00
		Utang Usaha	211	-	Rp 750.000,00
	6	Piutang Usaha	112	Rp 300.000,00	-
		Pendapatan Jasa	411	-	Rp 300.000,00

Berdasarkan jurnal umum di atas, posting yang tepat jika masing-masing akun memiliki saldo adalah...

A. KAS (dalam ribuan rupiah) 111

Tanggal	Keterangan	Ref	Debet	Kredit	Saldo	
					Debet	Kredit
2014	1 Saldo	√	-	-	7.500,00	-
Juli	2	JU 7	500,00	-	8.000,00	-
	3	JU 7	-	250,00	7.750,00	-
	4	JU 7	750,00	-	8.500,00	-
	5	JU 7	-	1.000,00	9.500,00	-

B. PIUTANG USAHA (dalam ribuan rupiah) 112

Tanggal	Keterangan	Ref	Debet	Kredit	Saldo	
					Debet	Kredit
2014	1 Saldo	√	-	-	1.500,00	-
Juli	4	JU 7	-	750,00	750,00	-
	5	JU 7	-	750,00	0	-
	6	JU 7	300,00	-	300,00	-

C. PERLENGKAPAN (dalam ribuan rupiah) 113

Tanggal	Keterangan	Ref	Debet	Kredit	Saldo	
					Debet	Kredit
2014	1 Saldo	√	-	-	50,00	-
Juli	3	JU 7	250,00	-	300,00	-
	5	JU 7	1.750,00	-	2.050,00	-

D. UTANG USAHA (dalam ribuan rupiah) 211

Tanggal	Keterangan	Ref	Debet	Kredit	Saldo	
					Debet	Kredit
2014	1 Saldo	√	-	-	-	500,00
Juli	5	JU 7	-	750,00	-	1.250,00

E. PENDAPATAN JASA (dalam ribuan rupiah) 411

Tanggal	Keterangan	Ref	Debet	Kredit	Saldo	
					Debet	Kredit
2014	1 Saldo	√	-	-	-	12.500,00
Juli	2	JU 7	-	500,00	-	13.000,00
	6	JU 7	-	300,00	-	13.300,00

27. Perhatikan Neraca Saldo sebagian berikut :

No.	Nama Akun	Debet	Kredit
113	Perlengkapan	Rp 200.000,00	-
114	Sewa dibayar di muka	Rp2.400.000,00	-
512	Beban Listrik dan Telepon	Rp 250.000,00	-

LATIHAN SOAL UN DAN UJIAN SBMPTN / PTS 2016/2017

Data Penyesuaian 31 Desember 2014

- (1) Perlengkapan yang tersisa Rp50.000,00
- (2) Sewa gedung dibayar tanggal 5 September 2014 untuk 2 tahun
- (3) Rekening listrik dan telepon Rp225.000,00 bulan Desember belum dibayar.

Berdasarkan data di atas disusun kertas kerja sebagian sebagai berikut:

No.	Nama Akun	Neraca Saldo		Penyesuaian		Neraca Saldo Disesuaikan	
		D	K	D	K	D	K
(1)	Perlengkapan	200.000	-	-	150.000	50.000	-
(2)	Sewa dibayar di muka	2.400.000	-	-	400.000	2.800.000	-
(3)	Utang Listrik dan Telepon	-	-	-	225.000	-	225.000
(4)	Beban Perlengkapan	-	-	150.000	-	150.000	-
(5)	Beban Sewa	-	-	400.000	-	-	400.000
(6)	Beban Listrik dan Telepon	250.000	-	225.000	-	225.000	-

Penyelesaian kertas kerja yang benar adalah nomor....

- A. (1), (2), dan (3)
- B. (1), (3), dan (4)
- C. (2), (3), dan (5)
- D. (3), (4), dan (6)
- E. (4), (5), dan (6)

28. Sebagian data kertas kerja Bengkel "Ramai Lancar" per 31 Desember 2014:

Nama akun	Neraca Saldo Disesuaikan	
	D	K
Pendapatan jasa	-	Rp34.800.000,00
Beban gaji	Rp 4.500.000,00	-
Beban perlengkapan kantor	Rp 1.600.000,00	-
Beban penyusutan peralatan kantor	Rp 2.000.000,00	-
Pendapatan bunga	-	Rp 1.200.000,00
Beban dibayar di muka	Rp 2.400.000,00	-
Pendapatan diterima di muka	-	Rp 1.500.000,00

Berdasarkan kertas kerja sebagian di atas, maka laba bengkel "Ramai Lancar" adalah....

- A. Rp29.400.000,00
- B. Rp27.900.000,00
- C. Rp27.000.000,00
- D. Rp26.700.000,00
- E. Rp25.900.000,00

29. Perhatikan Neraca Saldo sebagian berikut :

No.	Nama Akun	Debet	Kredit
113	Perlengkapan	Rp 200.000,00	-
114	Sewa dibayar di muka	Rp2.400.000,00	-
512	Beban Listrik dan Telepon	Rp 250.000,00	-

Data Penyesuaian 31 Desember 2014

- (4) Perlengkapan yang tersisa Rp50.000,00
- (5) Sewa gedung dibayar tanggal 5 September 2014 untuk 2 tahun
- (6) Rekening listrik dan telepon Rp225.000,00 bulan Desember belum dibayar.

Berdasarkan data di atas disusun kertas kerja sebagian sebagai berikut:

No.	Nama Akun	Neraca Saldo		Penyesuaian		Neraca Saldo Disesuaikan	
		D	K	D	K	D	K
(1)	Perlengkapan	200.000	-	-	150.000	50.000	-
(2)	Sewa dibayar di muka	2.400.000	-	-	400.000	2.800.000	-
(3)	Utang Listrik dan Telepon	-	-	-	225.000	-	225.000
(4)	Beban Perlengkapan	-	-	150.000	-	150.000	-
(5)	Beban Sewa	-	-	400.000	-	-	400.000
(6)	Beban Listrik dan Telepon	250.000	-	225.000	-	225.000	-

Penyelesaian kertas kerja yang benar adalah nomor....

- A. (1), (2), dan (3)
- C. (2), (3), dan (5)
- E. (4), (5), dan (6)

B. (1), (3), dan (4)

D. (3), (4), dan (6)

30. Jurnal Pembelian dan Jurnal Umum milik "PD Arjuna":

**JURNAL PEMBELIAN**

(dalam ribuan)

Halaman 1

Tanggal	Keterangan	Syarat	Ref	Debet			Kredit
				Pembelian	Serba-serbi		Utang Dagang
					Nama Akun	Jumlah	
2013	2	PD Indah Jaya	2/10, n/30	Rp 12.000	-	-	Rp12.000
Feb	4	PD Makmur	2/10, n/30	Rp 6.000	-	-	Rp 6.000
	6	Fa Asri	-	-	Perlengkapan	Rp3.000	Rp 3.000
	7	PD Indah Jaya	2/10, n/30	Rp 500	-	-	Rp 500
	8	Toko Maju	-	-	Peralatan	Rp1.000	Rp 1.000

**JURNAL UMUM**

(dalam ribuan)

halaman 15

Tanggal	Keterangan	Ref	Debet	Kredit
2013	5	Utang Dagang (PD Makmur)	Rp 100	-
Feb		Retur Pembelian dan PH	-	Rp 100

Pencatatan ke buku besar pembantu utang dagang yang tepat adalah... .

A. Nama Kreditur: PD Indah Jaya (dalam ribuan)

Tanggal	Keterangan	Ref	Debet	Kredit	Saldo	
					Debet	kredit
2013	2	JB.11	-	Rp 12.000	-	Rp 12.000
Feb	7	JB.11	-	Rp 500	-	Rp 500

B. Nama Kreditur: PD Indah Jaya (dalam ribuan)

Tanggal	Keterangan	Ref	Debet	Kredit	Saldo	
					Debet	kredit
2013	2	JB.11	Rp 12.000	-	Rp 12.000	-
Feb	7	JB.11	-	Rp 500	Rp 11.500	-

C. Nama Kreditur: PD Makmur (dalam ribuan)

Tanggal	Keterangan	Ref	Debet	Kredit	Saldo	
					Debet	kredit
2013	4	JB.11	-	Rp 6.000	-	Rp 6.000
Feb	5	JU.15	Rp 100	-	-	Rp 5.900

D. Nama Kreditur: Fa. Asri (dalam ribuan)

Tanggal	Keterangan	Ref	Debet	Kredit	Saldo	
					Debet	kredit
2013	6	JB.11	Rp 6.000	-	Rp 6.000	-
Feb						

E. Nama Kreditur: Toko Maju (dalam ribuan)

Tanggal	Keterangan	Ref	Debet	Kredit	Saldo	
					Debet	kredit
2013	5	JU.15	Rp 100	-	Rp 100	-
Feb	8	JB.11	-	Rp 1.000	-	Rp 900

31. Diketahui sebagian data keuangan PD. BATIK CANTIK PER 31 Desember 2014:

- Penjualan Rp. 98.700.000,-
- Beban angkut penjualan Rp. 2.100.000,-
- Retur pembelian Rp. 2.400.000,-
- Pembelian Rp. 50.500.000,-
- Potongan penjualan Rp. 3.000.000,-
- Barang dagangan 1/1/14 Rp. 16.000.000,-
- Potongan pembelian Rp. 1.800.000,-
- Beban angkut pembelian Rp. 1.600.000,-





LATIHAN SOAL UN DAN UJIAN SBMPTN / PTS 2016/2017

	Beban Gaji	-	Rp. 3.500.000
	Penjualan	Rp. 48.800.000	-
	Potongan Pembelian	Rp. 1.800.000	-
	Ikhtisar Laba/Rugi	-	Rp. 50.600.000
B	Modal	Rp. 2.500.000	-
	Prive	-	Rp. 2.500.000
	Retur Penjualan	Rp. 3.000.000	
	Pembelian	Rp. 18.000.000	
	Beban Gaji	Rp. 3.500.000	
	Ikhtisar Laba/Rugi		Rp. 24.500.000
	Ikhtisar Laba/Rugi		Rp. 48.800.000
	Penjualan		Rp. 1.800.000
	Potongan Pembelian		
C	Modal	Rp. 53.100.000	
	Penjualan		Rp. 48.800.000
	Potongan Pembelian		Rp. 1.800.000
	Prive		Rp. 2.500.000
	Retur Penjualan	Rp. 3.000.000	
	Pembelian	Rp. 18.000.000	
	Beban Gaji	Rp. 3.500.000	
	Modal		Rp. 24.500.000
D	Ikhtisar Laba/Rugi	Rp. 24.000.000	
	Prive		Rp. 2.500.000
	Pembelian		Rp. 18.000.000
	Beban Gaji		Rp. 3.500.000
	Potongan Pembelian	Rp. 1.800.000	
	Ikhtisar Laba/rugi		Rp. 1.800.000
E	Ikhtisar Laba / Rugi	Rp. 3.000.000	
	Retur Penjualan		Rp. 3.000.000
	Penjualan	Rp. 48.800.000	
	Ikhtisar Laba/Rugi		Rp. 48.800.000

36. Sebagai penanggungjawab produksi, Rusdy berusaha untuk memperoleh bahan baku yang berkualitas namun harga terjangkau, untuk itu Rusdy dan team nya melakukan survey ke beberapa pemasok bahan baku tersebut. Hasil survey diperoleh pemasok yang tidak terlalu jauh dari lokasi pabrik sehingga bisa menekan ongkos pengangkutan. Aktivitas yang dilakukan oleh Rusdy adalah bagian dari unsur manajemen....

- A. Man  
B. Material  
C. Method  
D. Money  
E. Machine

37. Berikut ini beberapa pernyataan yang terkait aktivitas pengelolaan sebuah perusahaan:

1. Bagian pemasaran membagi posisi tenaga marketingnya, marketing office untuk yang sudah berpengalaman dan senior sedangkan marketing di lapangan diisi tenaga kerja baru.
2. Sebagai kepala divisi Rangga menerima masukan dari berbagai pihak terkait strategi menghadapi para pesaing baru.
3. Pimpinan perusahaan merampingkan kepengurusan, agar memudahkan jalur komunikasi dan efisiensi biaya
4. Kepala bagian personalia menempatkan tenaga kerja baru sesuai dengan latarbelakang pendidikan dan pengalamannya.
5. Rainy melakukan quality control terhadap hasil produksi barang sebelum barang tersebut dipasarkan.

Berdasarkan pernyataan di atas aktivitas yang dilakukan fungsi Organizing adalah....

- A. (1), (2), (3)  
B. (1), (3), (4)  
C. (2), (4), (5)  
D. (2), (3), (5)  
E. (3), (4), (5)

38. Berikut ini peran BUMN dan BUMS dalam perekonomian di Indonesia:

1. Membantu pemerintah mengurangi pengangguran dengan membuka kesempatan kerja baru
2. Mengoptimalkan pemanfaatan potensi sumber daya alam yang melimpah dalam rangka memenuhi kebutuhan masyarakat
3. Membantu meningkatkan kinerja ekonomi nasional di berbagai sector pembangunan
4. Mencegah pengelolaan sumber daya alam ekonomi yang menguasai hajat hidup orang banyak agar pemanfaatannya merata
5. Membina dan membiayai usaha kecil dan menengah



**SOSIOLOGI**

1. Seorang sosiolog berusaha untuk mencari jawaban atas pertanyaan beberapa media massa berkaitan dengan konflik yang sering terjadi di Indonesia. Dengan fenomena tersebut, sosiolog menelusuri penyebab terjadinya konflik. Metode yang digunakan oleh sosiolog tersebut adalah....
 

A. Kuantitatif	C. Induktif	E. Deduktif
B. Komparatif	D. Kualitatif	
  
2. Akhir-akhir ini sering kita dengar dan saksikan di media massa tentang adanya kecelakaan lalu lintas sebagai akibat pelanggaran terhadap peraturan lalu lintas seperti tabrakan antara kereta api dengan mobil tangki BBM di rel Bintaro atau kecelakaan yang menimpa pengendara motor di jalan layang non tol Casablanca. Untuk mencegah bertambahnya kasus serupa maka pemerintah harus melakukan beberapa upaya seperti....
 

A. Meningkatkan pemerataan pembangunan dan pendidikan	C. Melakukan sosialisasi UU Lalu Lintas pada segenap lapisan masyarakat	E. Meningkatkan pelayanan kesehatan bagi korban kecelakaan
B. Meningkatkan kesadaran sosial	D. Membuka lebih banyak lagi lapangan usaha bagi keluarga korban	
  
3. Perilaku membuang sampah pada tempatnya, memberikan salam ketika bertemu guru serta memberikan ucapan selamat hari raya, merupakan contoh dari cara-cara bertindak yang disukai masyarakat Indonesia sehingga dilakukan secara berulang-ulang. Berdasarkan kekuatan mengikatnya maka perilaku tersebut merupakan contoh norma....
 

A. <i>Folkway</i>	C. <i>Mores</i>	E. <i>Law</i>
B. <i>Usage</i>	D. <i>Custom</i>	
  
4. Beberapa fenomena sosial sosial sebagai berikut.
  - 1) Pengemudi mobil ditilang polisi karena memakai jalur busway
  - 2) Seorang anak diskorsing karena terlibat tawuran
  - 3) Pejabat yang terlibat korupsi dihukum penjara
  - 4) Seorang murid diberi peringatan oleh guru karena tidak memakai kaos kaki
 Dari contoh tersebut yang termasuk fungsi norma hukum adalah....
 

A. 1) dan 2)	C. 2) dan 3)	E. 3) dan 4)
B. 1) dan 3)	D. 2) dan 4)	
  
5. Gejala sosial berikut ini yang menggambarkan adanya keterkaitan antara norma dengan keteraturan sosial adalah....
 

A. Rajin belajar meningkatkan prestasi siswa	C. Semakin tinggi ilmu pengetahuan, semakin luas wawasannya	E. Ketentuan menggunakan helm bagi pengendara motor menurunkan angka kematian karena kecelakaan lalu lintas
B. Semakin dalam pemahaman agama seseorang, semakin tinggi tingkat toleransinya	D. Kedisiplinan dalam kehadiran di sekolah membentuk kepribadian disiplin	
  
6. Lingkungan sosial sangat mempengaruhi perilaku individu dalam hidup bermasyarakat. Anak yang dilahirkan di lingkungan keluarga berpendidikan tinggi akan mencerminkan karakteristik berpendidikan. Sedangkan anak yang dilahirkan di lingkungan masyarakat yang kurang baik akan berkepribadian kurang baik. Kenyataan itu menunjukkan bahwa sosialisasi bertujuan untuk membentuk kepribadian yang sesuai dengan....
 

A. Perkembangan masyarakat	C. Tindakan Masyarakat	E. Perilaku individu
B. Kebutuhan masyarakat	D. Budaya masyarakat	
  
7. Cinta yang sewaktu kecil adalah anak yang pendiam menjadi pandai menari seperti Girl Band setelah sering menonton pertunjukan Girl Band Korea di saluran TV kabel. Media sosialisasi yang berperan dalam sosialisasi tersebut adalah....
 

A. Sekolah formal	C. Keluarga	E. Teman sebaya
B. Media massa	D. Lingkungan Kerja	
  
8. Rieke Dyah Pitaloka melakukan diskusi dengan para pendukungnya tentang "Pemilu yang Jujur dan Adil" di sebuah gedung pertemuan. Peristiwa tersebut disebut interaksi sosial karena mengandung unsur-unsur....
 

A. Kontak primer dan kontak sekunder	C. Komunikasi dan tindakan sosial	E. Tindakan sosial dan interaksi sosial
B. Kontak sosial dan komunikasi	D. Tindakan sosial dan kontak sosial	



LATIHAN SOAL UN DAN UJIAN SBMPTN / PTS 2016/2017

9. Para murid SD di kota Medan mengumpulkan uang untuk membantu korban letusan Gunung Sinabung. Interaksi sosial tersebut didorong oleh faktor....
- A. Imitasi  
B. Identifikasi  
C. Simpati  
D. Empati  
E. Motivasi
10. Dalam proses interaksi sosial, terjadi hubungan timbal balik yang melibatkan aspek sosial dan kemanusiaan pada kedua belah pihak, seperti emosi, fisik dan kepentingan. Di dalam interaksi salah satu pihak memberikan stimulus dan pihak lain memberikan....
- A. Reaksi  
B. Emosi  
C. Pernyataan  
D. Kata-kata  
E. Bahasa Tubuh
11. Beberapa relawan memberikan bantuan makanan dan obat-obatan pada masyarakat yang terkena banjir di Jakarta. Hubungan interaksi antara para relawan dengan masyarakat yang mengalami bencana tersebut berbentuk....
- A. konsolidasi  
B. Kontravensi  
C. Akomodasi  
D. Kompetisi  
E. Kerjasama
12. Perbuatan menghasut, berkhianat dan provokasi baik secara sembunyi maupun terang-terangan adalah perilaku yang mengarah pada bentuk interaksi sosial yang bersifat....
- A. Asosiatif  
B. Kontravensi  
C. disosiatif  
D. Asimilasi  
E. Konsiliasi
13. Naomi diajarkan untuk disiplin belajar di sekolah, tetapi di rumah ia sangat dimanjakan orang tuanya sehingga tumbuh menjadi pemalas dan sering datang terlambat ke sekolah. Penyimpangan tersebut terjadi karena....
- A. Sosialisasi sub budaya menyimpang  
B. Pengetahuan agama terbatas  
C. Masa transisi remaja  
D. Pencarian jati diri  
E. Proses sosialisasi yang tidak sempurna
14. Tata tertib di sekolah telah melarang siswa-siswa untuk merokok dan mengkonsumsi narkoba. Namun demikian masih ada siswa-siswa yang relatif mudah untuk mendapatkan hal-hal tersebut melalui teman sebaya. Ketidaksihinggaan tersebut merupakan gejala sosialisasi....
- A. Budaya yang menyimpang  
B. Kemajemukan budaya  
C. Nilai dan norma budaya teman sebaya  
D. Peran sosial individu  
E. Status sosial individu
15. Perhatikan perilaku menyimpang berikut ini !
- 1). Memakai seragam ketat ke sekolah
  - 2). Memberikan sumbangan kepada korban bencana alam
  - 3). Mengendarai motor dengan kencang di sirkuit balap
  - 4). Terlambat datang ke sekolah setiap hari
- Pernyataan di atas yang merupakan perilaku menyimpang primer adalah....
- A. 1) dan 2)  
B. 1) dan 3)  
C. 1) dan 4)  
D. 2) dan 4)  
E. 3) dan 4)
16. Gosip sebagai bentuk pengendalian sosial akan muncul ketika kritik sosial secara terbuka tidak dapat dilontarkan. Gosip juga sangat cepat menyebar meskipun terkadang tidak berdasarkan fakta yang ada. Tujuan dari dilakukannya gosip adalah....
- A. Merubah perilaku yang menyimpang  
B. Melakukan pengucilan  
C. Memperkuat aturan yang ada  
D. Memanaskan suasana  
E. Menciptakan kerukunan
17. Setiap warga masyarakat mempunyai kewajiban untuk melakukan pengawasan atau pengendalian terhadap perilaku menyimpang yang terjadi di lingkungannya. Dalam hal ini maka pengendalian sosial berfungsi untuk terciptanya....
- A. Keadilan sosial  
B. Keteraturan sosial  
C. Kesejahteraan sosial  
D. Kemajemukan sosial  
E. Kemajuan sosial

LATIHAN SOAL UN DAN UJIAN SBMPTN / PTS 2016/2017

18. Penanaman nilai-nilai persatuan, kebersamaan, kesetiakawanan, kedisiplinan dan cinta perdamaian melalui organisasi Pramuka merupakan salah satu cara pengendalian sosial melalui sarana ....
- A. Agama  
B. Pendidikan  
C. Organisasi masyarakat  
D. Adat istiadat  
E. Tokoh masyarakat
19. Penganiayaan yang dilakukan warga negara Singapura terhadap TKI yang bekerja padanya , akhirnya harus diselesaikan melalui jalur hukum. Lembaga yang sangat berperan dalam menyelesaikan masalah ini adalah....
- A. Polisi  
B. Tokoh masyarakat  
C. Tokoh adat  
D. Pengadilan  
E. Kedutaan besar
20. Setiap masyarakat memiliki struktur sosial. Struktur sosial biasanya ditandai oleh dua ciri salah satunya adalah perbedaan anggota masyarakat dalam golongan-golongan yang tidak memperhatikan perbedaan lapisan. Penggolongan masyarakat yang seperti ini disebut.....
- A. Stratifikasi sosial  
B. Diferensiasi sosial  
C. Jaringan sosial  
D. Sistem sosial  
E. Kemajemukan sosial
- 21.

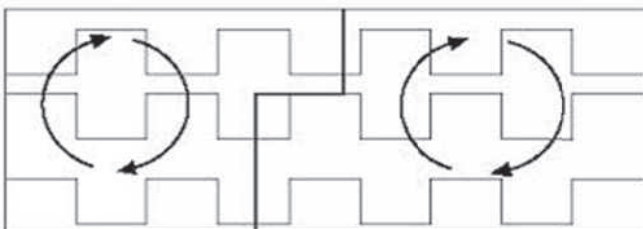
Stratifikasi sosial masyarakat industri berdasarkan kriteria profesi.



Gambar di samping menunjukkan bahwa profesi merupakan salah satu ciri mendasar pelapisan sosial karena.....

- A. Profesi menunjukkan kepemilikan harta  
B. Penghargaan yang diberikan masyarakat terhadap jenis pekerjaan  
C. Adanya kompleksitas jenis pekerjaan di masyarakat  
D. Kecenderungan seseorang untuk memilih pekerjaan sesuai minat dan bakatnya  
E. Persaingan yang ketat untuk memperoleh suatu pekerjaan
22. Tawuran antar pelajar seringkali muncul karena pengaruh para alumni terhadap adik kelasnya tentang kelompok siswa sekolah lain yang dianggap sebagai "musuh abadi". Konflik tersebut muncul karena adanya....
- A. Perubahan norma  
B. Kecemburuan sosial  
C. Degradasi moral  
D. Solidaritas sosial  
E. Sub kebudayaan menyimpang
23. Setelah diberlakukannya embargo ekonomi (pelarangan perniagaan dan perdagangan dengan suatu negara) akibat konflik dengan Amerika Serikat dan sekutunya, rakyat Iran menjadi memiliki mental lebih mandiri dan tahan terhadap penderitaan. Contoh kasus tersebut menunjukkan adanya dampak positif dari konflik yaitu....
- A. Adanya perubahan kepribadian  
B. Banyak korban jiwa  
C. Solidaritas intern menguat  
D. Kerusakan harta benda  
E. Kenyamanan terganggu
24. Pernyataan berikut ini yang menunjukkan bentuk akomodasi secara koersi adalah....
- A. Ronald yang beragama Nasrani mengucapkan selamat hari raya idul fitri kepada Vita yang merayakannya  
B. Nia Daniati menggugat cerai suaminya di Pengadilan Negeri  
C. Amerika Serikat dan Uni Soviet sepakan untuk mengakhiri perang dingin  
D. Doni membeli buku untuk mengganti buku Perpustakaan Sekolah yang telah dihilangkannya  
E. Polisi mengancam untuk menyemprotkan gas air mata terhadap kaum demonstran yang mulai bertindak anarkis

25.



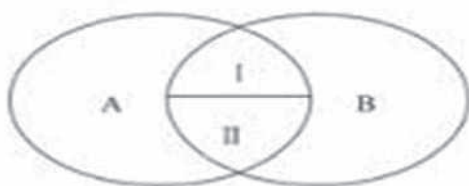
Gambar di samping menggambarkan sifat stratifikasi sosial....

- A. Tertutup  
B. Campuran  
C. Terbuka  
D. Setengah terbuka  
E. Setengah tertutup
26. Sejak Gubernur Banten Ratu Atut Chosiyah ditetapkan sebagai tersangka korupsi alat-alat kesehatan, maka wakil Gubernur Rano Karno diangkat sebagai Gubernur Banten untuk menggantikan Ratu Atut Chosiyah. Dalam hal ini maka Rano Karno telah mengalami mobilitas sosial ....
- A. Intragenerasi  
B. Antargenerasi naik  
C. Intragenerasi turun  
D. Antargenerasi turun  
E. Intragenerasi naik

LATIHAN SOAL UN DAN UJIAN SBMPTN / PTS 2016/2017

27. Hanif hanya menempuh pendidikan hingga SMP karena keterbatasan ekonomi keluarganya. Ia sulit mencari pekerjaan untuk memperbaiki status ekonomi keluarganya. Faktor penghambat mobilitas sosial tersebut disebabkan oleh....  
 A. Perbedaan kelas sosial                      C. Agama                                      E. Jenis Kelamin  
 B. Diskriminasi kelas                              D. Kemiskinan
28. Di era globalisasi saat ini maka setiap individu harus meningkatkan kualitas ilmu di bidang teknologi dan komunikasi agar mampu menghadapi tantangan masa depan dan dapat meningkatkan kelas sosialnya, maka saluran mobilitas yang tepat dalam hal ini adalah....  
 A. Organisasi politik                              C. Institusi ekonomi                      E. Organisasi pemerintah  
 B. Kelompok perusahaan                      D. Lembaga pendidikan
29. Pada masa kolonialisme Belanda di Indonesia, terdapat perbedaan dalam memperoleh kesempatan untuk memperoleh pendidikan antara kaum bangsawan dan rakyat jelata. Sehingga mengakibatkan terhambatnya mobilitas sosial melalui pendidikan bagi kaum rakyat jelata. Dari uraian tersebut maka dapat diketahui bahwa penghambat terjadinya mobilitas sosial pada masa kolonialisme Belanda di Indonesia adalah ....  
 A. Peperangan                                      C. Faktor ekonomi                      E. Faktor budaya  
 B. Diskriminasi sosial                              D. Situasi politik
30. Perhatikan ciri-ciri hubungan sosial berikut!  
 1) hubungan bersifat formal  
 2) Memperhitungkan nilai guna (utilitarian)  
 3) lebih bersifat kekal  
 4) Ikatan perasaan bersifat mendalam  
 Yang menunjukkan ciri-ciri masyarakat paguyuban adalah....  
 A. 1) dan 2)                                      C. 2) dan 3)                                      E. 3) dan 4)  
 B. 1) dan 3)                                      D. 2) dan 4)
31. Masyarakat majemuk adalah masyarakat yang terdiri dari beranekaragam suku bangsa, ras dan agama. Kemajemukan tersebut berpotensi untuk menciptakan disintegrasi sosial. Disintegrasi sosial dalam kehidupan masyarakat majemuk ditunjukkan dengan adanya....  
 A. Perubahan sosial dalam masyarakat  
 B. Pengelompokan masyarakat secara horizontal  
 C. Meningkatnya konflik horizontal dan vertikal  
 D. Munculnya kesenjangan sosial  
 E. Segmentasi dalam kelompok sub kultur
32. Struktur sosial pada komunitas masyarakat industri di negara berkembang biasanya terdiri dari kelompok terbesar para buruh dan kelompok kecil para pemilik modal. Berdasarkan jumlah dan perannya, komunitas tersebut membentuk konfigurasi....  
 A. Kompetisi seimbang                              C. Minoritas dominan                      E. Interseksi sosial  
 B. Mayoritas dominan                              D. Fragmentasi sosial

33.



Keterangan

A = Pribumi

B = Pendatang

I = Petani

II = Pedagang

Berdasarkan gambar tersebut, munculnya solidaritas baru yang mendorong proses integrasi disebabkan oleh....

- A. Kemajemukan wilayah memberi kebebasan berpindah  
 B. Pekerjaan dapat menyatukan perbedaan asal-usul  
 C. Pekerjaan dapat berfungsi menyatukan senioritas  
 D. Perbedaan pekerjaan identik dengan perbedaan suku bangsa  
 E. Perbedaan suku bangsa berbeda dengan perbedaan pekerjaan
34. Masyarakat Indonesia terdiri dari berbagai kelompok suku bangsa, ras dan agama. Kemajemukan atau pluralitas ras dan agama tersebut terjadi melalui proses sosiologis sejak zaman dahulu yang dilatarbelakangi oleh....  
 A. Isolasi karena bentuk wilayah kepulauan  
 B. Penjajahan bangsa barat yang lama  
 C. Fasilitas komunikasi dan transportasi sangat terbatas

- D. Kontak dan komunikasi secara langsung dengan bangsa asing  
E. Perdagangan antarbangsa di dunia
35. Masyarakat Indonesia adalah masyarakat multikultural yang ditandai dengan adanya berbagai kelompok suku bangsa dengan ragam budaya yang berbeda. Secara politik, apabila masing-masing kelompok tetap mempertahankan sikap primordial, maka hal itu akan berpengaruh terhadap timbulnya....  
A. Disintegrasi sosial  
B. Perubahan sosial  
C. Mobilitas sosial  
D. Integrasi nasional  
E. Konflik Vertikal
36. Pada masyarakat multikultural tingkat kekuatan masing-masing kelompok sangat mempengaruhi hubungan sosial antar kelompok., sehubungan dengan tujuan bermasyarakat maka hubungan antarkelompok tersebut hendaknya....  
A. Memperlakukan secara istimewa kelompok tertentu  
B. Memperkuat konsolidasi sosial antarkelompok  
C. Melakukan mobilitas sosial secara vertikal  
D. Menguasai kelompok lain yang lebih kecil  
E. Bersikap kooperatif dengan kelompok lain
37. Kemajemukan masyarakat Indonesia memiliki potensi untuk terciptanya konflik sosial yang sering kali berubah menjadi konflik terbuka. Untuk mengatasi masalah tersebut maka perlu dikembangkan sikap....  
A. Nasionalisme  
B. Toleransi  
C. Etnosentrisme  
D. Fanatisme  
E. Patriotisme
38. Perkembangan model baju muslim yang sangat beragam di Indonesia adalah salah satu contoh bentuk perubahan yang pengaruhnya kecil, hal ini karena....  
A. Perubahan tidak merata dalam masyarakat  
B. Mempunyai dampak positif bagi masyarakat  
C. Tidak direncanakan  
D. Terjadi secara lambat  
E. Tidak mengubah struktur sosial
39. Dewasa ini banyak kaum remaja di Jakarta yang gemar mengunjungi tempat hiburan malam, mengenakan pakaian minim dan melakukan pergaulan bebas. Kebiasaan kaum remaja ini merupakan akibat negatif dari....  
A. Demokratisasi  
B. Industrialisasi  
C. Westernisasi  
D. Urbanisasi  
E. Modernisasi
40. Semakin maraknya sosial media di dunia maya telah berhasil membangun sistem jejaring sosial bagi masyarakat. Hal ini akan membawa dampak positif yaitu....  
A. Memperlancar disintegrasi sosial  
B. Memperlancar komunikasi  
C. Membentuk perilaku individu  
D. Meningkatkan penggunaan ponsel  
E. Meningkatkan jumlah pemirsa televisi
41. Beberapa gejala sosial dalam masyarakat:  
(1) Penggantian bahan bakar bensin dengan gas untuk kendaraan bermotor  
(2) Terjaminnya kesehatan karena kemajuan ilmu dan teknologi kesehatan  
(3) Bencana alam meletusnya gunung Kelud menyebabkan terjadinya migrasi  
(4) Penanaman modal usaha oleh negara-negara maju di berbagai sektor industri di negara berkembang  
Dari pernyataan di atas yang menjadi faktor ekstern penyebab perubahan sosial adalah....  
A. (1) dan (2)  
B. (1) dan (3)  
C. (2) dan (3)  
D. (2) dan (4)  
E. (3) dan (4)
42. Perubahan sosial pada masyarakat tradisional seringkali berjalan dengan lambat, hal ini karena pada umumnya ada beberapa anggota masyarakat yang belum mendukung sepenuhnya perubahan di lingkungannya. Hal ini disebabkan oleh....  
A. Kehidupan masyarakatnya masih sangat sederhana  
B. Perubahan dikuatirkan akan mendatangkan masalah  
C. Adanya unsur-unsur budaya yang diperoleh dari luar  
D. Adanya unsur-unsur yang menyangkut adat dan falsafah hidup  
E. Belum ada keinginan untuk melakukan perubahan

43. Pesatnya pembangunan di kota mengakibatkan banyak penduduk desa yang tertarik untuk mencari pekerjaan di kota. Tingkat persaingan di kota ternyata lebih besar dan kedatangan penduduk desa ke kota yang tidak memiliki ketrampilan menimbulkan banyak permasalahan di kota. Hal tersebut menunjukkan bahwa perubahan sosial terjadi karena faktor....
- Tingkat kebutuhan masyarakat desa yang semakin kompleks
  - Kesadaran mengenai kekurangan pada kebudayaan sendiri
  - Keinginan untuk beradaptasi dengan nilai baru
  - Ketidakpuasan terhadap kondisi dan situasi yang ada
  - Keterbukaan masyarakat terhadap hal-hal baru
44. Setiap masyarakat memiliki lembaga sosial sebagai hasil interaksi sosial dalam rangka pemenuhan kebutuhan hidup mereka, agar berlangsung secara tertib dan teratur. Adapun yang dimaksud dengan lembaga sosial adalah....
- Seperangkat norma yang mengatur kegiatan bersama dalam pemenuhan kebutuhan hidup
  - Seperangkat peralatan kebutuhan hidup yang dibutuhkan masyarakat
  - Organisasi sosial yang mengatur kehidupan masyarakat agar tertib
  - Nilai sosial yang disepakati oleh tokoh-tokoh masyarakat
  - Seperangkat norma yang mengatur kegiatan sebagian masyarakat yang dianggap melakukan penyimpangan
45. Lembaga keluarga mempunyai peran penting dalam pembentukan kepribadian seseorang karena keluarga merupakan agen sosialisasi primer. Peran besar keluarga tersebut sesuai dengan fungsinya yaitu....
- Memberikan kasih sayang
  - Menanamkan nilai dan norma
  - Melindungi anggota keluarga
  - Melanjutkan keturunan
  - Memenuhi kebutuhan hidup
46. Perhatikan pernyataan berikut
- tidak dapat berubah
  - Memiliki anggota lebih dari satu
  - Memiliki tingkat kekelan tertentu
  - Ditolak oleh sejumlah besar masyarakat
- Dari pernyataan di atas yang merupakan ciri-ciri lembaga sosial adalah...
- |              |              |              |
|--------------|--------------|--------------|
| A. 1) dan 2) | C. 1) dan 4) | E. 3) dan 4) |
| B. 1) dan 3) | D. 2) dan 3) |              |
47. Seorang peneliti melakukan penelitian tentang pengaruh penggunaan gadget sebagai media pembelajaran terhadap prestasi belajar siswa. Peneliti membuat dua kelompok siswa yaitu kelompok pertama siswa diminta menggunakan gadget untuk mencari informasi yang berhubungan dengan pelajaran di kelas dan kelompok kedua tidak diperbolehkan menggunakan gadget untuk mencari informasi yang berhubungan dengan pelajaran di kelas, kemudian hasilnya dibandingkan. Berdasarkan caranya, penelitian termasuk jenis....
- |                |               |               |
|----------------|---------------|---------------|
| A. Studi kasus | C. Deskriptif | E. Eksperimen |
| B. Komparatif  | D. Korelatif  |               |
48. Dalam melakukan penelitian seringkali seorang sosiolog menggunakan informan dalam upaya memperoleh data yang diperlukan. Jenis penelitian seperti itu adalah penelitian dengan pendekatan.....
- |                |                |             |
|----------------|----------------|-------------|
| A. Kualitatif  | C. Survey      | E. Sekunder |
| B. Kuantitatif | D. Kepustakaan |             |
49. Seorang sosiolog meneliti fenomena sosial tentang pengaruh kharisma seorang pemimpin terhadap hasil pemungutan suara Pilkada Jakarta, berdasarkan metode penelitiannya maka penelitian tersebut termasuk penelitian....
- |               |                |                |
|---------------|----------------|----------------|
| A. Deskriptif | C. Eksplanatif | E. Verifikatif |
| B. Survey     | D. Eksploratif |                |
50. Kegiatan presentasi merupakan salah satu upaya untuk mengkomunikasikan hasil penelitian secara lisan dalam suatu forum ilmiah. Kegiatan tersebut bertujuan untuk mendapatkan tanggapan dan kritik konstruktif, sedangkan bagi peneliti kegiatan ini berguna untuk....
- Merumuskan langkah-langkah penelitian lanjutan
  - Menambah wawasan dalam penelitian
  - Menyebarkan hasil wawancara kepada masyarakat umum
  - Menyempurnakan hasil penelitian
  - Mendapatkan keuntungan secara materi

# Scholarship



## Beasiswa Universitas Esa Unggul

Beasiswa Universitas Esa Unggul :

- I. Beasiswa Peruh
- II. Beasiswa Prestasi
  - A. Jalur Akademik
  - B. Jalur Non-Akademik
- III. Beasiswa Aksesibilitas
  - A. Putra Guru SMA/K
  - B. Masyarakat Indonesia Timur
  - C. Community Development



## Beasiswa Instansi/Pemerintah

- I. Beasiswa Unggulan - Kemendikbud RI
- II. Beasiswa Peningkatan Prestasi Akademik (PPA) Kemendikbud RI
- III. Beasiswa Bantuan Biaya Pendidikan (BBP) Kemendikbud RI
- IV. Beasiswa BIDIK MISI
- V. Beasiswa Jakarta





▶ Fakultas Hukum UEU  
Faculty of Law Esa Unggul University carry on ASEAN  
Comparative Study to Singapore and Malaysia, 14 -17  
April 2014



▶ Dosen Fakultas Ekonomi dan Bisnis Mengajar Lomba Proposal Bisnis  
Tingkat SLTA Guna Mencetak Calon Wirausaha Muda, April 2015



▶ Dosen dan Mahasiswa Fakultas Ekonomi dan Bisnis Universitas Esa  
Unggul mengikuti Seminar Implementasi Ekonomi Syariah Tahun 2015



▶ Fakultas Teknik, Field Trip Managing Cities  
Study to Singapore dan Malaysia pada 11 - 14  
Mei 2015



▶ Fakultas Ilmu Kesehatan, Program Studi Ilmu Keperawatan mengikuti  
Seminar 'Aplikasi Undang-Undang Keperawatan Dalam Pelayanan Home  
Care' pada 12 Februari 2015



▶ Field Trip FT Malaysia Singapore  
2014



▶ Fakultas Desain dan Industri Kreatif Universitas Esa  
Unggul Mengikuti Seminar 'What is the Italian Design  
Do?', 18 Desember 2015

# Program



## Fakultas Teknik

### Program Studi

#### Perencanaan Kota/Urban Planning (S1)

City Planning dan Urban Management

#### Teknik Industri (S1) *[dual degree with North China Electric Power University]*

Sistem Manufaktur, Kesehatan Keselamatan Kerja dan Industri Jasa

## Fakultas Ekonomi & Bisnis

### Program Studi

#### Manajemen Bisnis (S1) *[joint Degree with Nanjing Xiaozhuang University]*

#### Akuntansi Sektor Bisnis (S1)

*[joint degree with Nanjing Xiaozhuang University]*

## Fakultas Ilmu - Ilmu Kesehatan

### Program Studi

#### Ilmu Gizi (S1)

*[joint degree with The Manila Times College, Philippine]*

*[joint degree with Philippine Christian University]*

*[joint degree with Olivarez College]*

#### Ilmu Keperawatan (S1)

*[joint degree with The Manila Times College, Philippine]*

*[joint degree with Philippine Christian University]*

*[joint degree with Olivarez College]*

Program Ners Jalur B yang meliputi dua tahap :  
Tahap Akademik dan Tahap Profesi

#### Kesehatan Masyarakat (S1)

Manajemen Rumah Sakit, Kesehatan dan Keselamatan Kerja Industri

#### Manajemen Informasi Kesehatan (D4)

Coder : Pendidikan Dual degree dengan program studi  
Sistem Informasi Fakultas Ilmu Komputer (Sarjana Komputer)

## Fakultas Ilmu Komputer

### Program Studi

**Teknik Informatika (S1)** *[joint degree with Nanjing Xiaozhuang University]* ReKayasa  
Perangkat Lunak, Networking, Manajemen Proyek Sistem Informasi,  
Pengembangan Portal, Expert System/Artificial Intelligence,  
Database Management System.

#### Sistem Informasi (S1)

e-business, Information Management, Corporate Information System,  
Komputerisasi Akuntansi

## Program Internasional

Double Degree 2 + 2

2 tahun di Universitas Esa Unggul + 2 tahun di luar negeri

### Program Studi

- Manajemen (S1)
- Teknik Informatika (S1)
- Akuntansi (S1)
- Jurnalistik (S1)
- Ilmu Keperawatan (S1)
- Bisnis Mandarin (S1)

### Universitas Kerjasama

- Nanjing Xiaozhuang University, China
- The Manila Times College, Philippines
- London School of Commerce, UK

## Fakultas Psikologi

### Program Studi

#### Psikologi (S1)

Psikologi Industri dan Organisasi,  
Psikologi Perkembangan Pendidikan

## Fakultas Desain & Industri Kreatif

### Program Studi

#### Desain Produk (S1)

Desain Produk Elektronik, Desain Robot, Desain Transportasi,  
Desain Furnitur, Desain Kriya Modern, Desain Maritim

#### Desain Komunikasi Visual (S1)

Penekanan kemampuan dibidang Media Cetak dan Display,  
Media Televisi, Film dan Website

## Fakultas Hukum

### Program Studi

#### Ilmu Hukum (S1)

Praktisi Hukum, Hukum Ekonomi, Hukum Internasional

## Fakultas Ilmu Komunikasi

### Program Studi

#### Ilmu Komunikasi (S1)

*[double degree with The Manila Times College, Philippine]*

*joint degree with Philippine Christian University]*

*[joint degree with Olivarez College]*

Periklanan, Humas, Jurnalistik, TV & Radio Broadcasting

## Fakultas Fisioterapi

### Program Studi

#### Fisioterapi(S1)

## Fakultas Keguruan dan Ilmu Pendidikan

### Program Studi

#### Pendidikan Guru Sekolah Dasar (S1)

## Program Pascasarjana

### Program Studi

#### Magister Manajemen (MM)

#### Magister Administrasi Publik (MAP)

#### Manajemen Akuntansi (MAKSI)

#### Magister Ilmu Hukum (MH)

#### Magister Administrasi Rumah Sakit (MARS)





# Student Activities



# Academic Partners



Kasetsart University



Universitas Udayana



Institut Teknologi Bandung



Nanjing Normal University



Mahidol University



Burapha University Thailand



North China Electric Power University (NCEPU) – Teknik Industri dan Sistem Informasi



Olivarez College - Nursing, Nutrition, Mass Communication



Nanjing Xiaozhuang University

Nanjing Xiaozhuang University – Join Degree 2+2 in Informatics Engineering, Accounting and Management



The Manila Times College – Join Degree 2+2 in Nursing and Journalism



PHILIPPINE CHRISTIAN UNIVERSITY  
MANILA CAMPUS

Philippine Christian University – Nursing, Nutrition, Mass Communication



University of Economics and Law Vietnam National University



UNIVERSITI KEBANGSAAN MALAYSIA  
National University of Malaysia

# Partners

CISCO SYSTEMS



BANK BUKOPIN

ProQuest



UKAS MANAGEMENT SYSTEMS  
CERTIFICATE NO. 48725

Microsoft



HUAWEI



Java



WOOSONG UNIVERSITY



호남대학교  
HONAM UNIVERSITY



UNIVERSITAS DHYANA PURA  
UNDHIRA-BALI



in Jakarta Virginia, USA

## Location



## Universitas Esa Unggul

Jl. Arjuna Utara 9, Tol Tomang, Kebon Jeruk, Jakarta, 11510, Indonesia

☎ 021-567 4223 (hunting) ext. 262, 279, 209

☎ (S1) Reguler : 081213995613, (S2) 081280111159, (S1 Paralel) 081286111160

Internasional Program : 081320003806/081320003807


☎ 021-567 4248

✉ humas@esaunggul.ac.id

🌐 www.esaunggul.ac.id

📱 www.twitter.com/univesaunggul

📱 www.facebook.com/universitasesaunggul.fanpages



## INFORMASI DAN PENDAFTARAN

### Departemen Pemasaran & Humas Universitas Esa Unggul

Jl. Arjuna Utara 9, Tal Tomeng, Kebon Jeruk,  
Jakarta Barat, 11510

- ☎ 021-567 4223 (hunting) ext. 279, 209, 262.
- ☎ Internasional Program : 081320003806/081320003807
- ☎ 021-567 4248
- ✉ [pmih@esaunggul.ac.id](mailto:pmih@esaunggul.ac.id)
- 🌐 [www.esaunggul.ac.id](http://www.esaunggul.ac.id)
- 🐦 [www.twitter.com/univesaunggul](https://www.twitter.com/univesaunggul)
- 📘 [www.facebook.com/universitasesaunggul.fanpages](https://www.facebook.com/universitasesaunggul.fanpages)

### Kampus Citra Raya Universitas Esa Unggul

Jl. Citra Raya Boulevard  
Ecopoli SA Blok VD. 02  
Citra Raya Tangerang

Marketing & Humas  
(021) 2259 6025, 2259 6026

Hotline Services  
0857 19524 222 / 0812 985 29288