



Latihan Soal IPS UN dan Ujian SNMPTN/PTS 2014/2015



Smart, Creative
and Entrepreneurial



Prakata

Mempersiapkan diri dalam menghadapi Ujian Nasional dan Ujian SNMPTN/PTS adalah proses yang pasti ditempuh oleh siswa SLTA sebelum melanjutkan ke jenjang pendidikan yang lebih tinggi. Buku Latihan Soal UN dan SMPTN/PTS 2014/2015 ini dapat dijadikan sebagai buku panduan belajar bagi siswa SLTA (SMA, SMK, dan MA) kelas XII.

Buku ini disusun atas kerjasama Tim Universitas Esa Unggul dan tim MGMP Jakarta yang terdiri dari 2 jenis buku soal IPA dan IPS. Buku ini juga dilengkapi dengan Standar Kompetensi Lulusan (SKL) pada masing-masing mata pelajaran. Kunci jawaban soal hanya diberikan kepada guru sekolah masing-masing sekolah melalui CD atau dapat di download di website Universitas Esa Unggul (<http://www.esaunggul.ac.id>).

Kami harapkan siswa SLTA kelas XII dapat memanfaatkan buku ini dengan baik, sehingga mampu menguasai materi dan penyelesaiannya. Selamat menghadapi Ujian Nasional dan semoga sukses !

Salam,

Tim Penyusun

SOAL IPS (PAKET A)
UN dan SMPTN/PTS
2014/2015

Mata Pelajaran :

- Bahasa Indonesia
- Bahasa Inggris
- Matematika IPS
- Ekonomi
- Sosiologi
- Geografi

Petunjuk:

Pilih satu jawaban yang benar

1. Cermat paragraf berikut!

Sebanyak dua puluh tiga di kawasan pabrik dan pergudangan Jalan Raya Prancis, Kelurahan Dadap Kosambi, Kabupaten Tangerang pada Selasa (7/1) siang mendadak roboh. Namun, sama sekali tidak ada korban jiwa maupun korban luka dalam peristiwa tersebut. Dugaan sementara, 23 ruko itu ambruk akibat konstruksi bangunan yang sudah tidak kuat. Lia salah satu saksi mata kejadian saat dihubungi *Warta Kota* via telepon menuturkan bahwa ruko tersebut ambruk begitu saja. "Nggak ada apa-apa tiba-tiba langsung roboh."

Sumber: Warta Kota, 8 Januari 2014

Ide pokok paragraf tersebut adalah....

- A. Dua puluh tiga ruko ambruk karena konstruksi kurang kuat.
- B. Tangerang adalah kawasan pabrik dan pergudangan
- C. Tidak ada korban jiwa maupun luka dalam peristiwa tersebut.
- D. Dua puluh tiga ruko mendadak roboh.
- E. Seorang saksi mata menuturkan 23 ruko ambruk begitu saja.

2. Cermati paragraf berikut!

(1) Kedudukan sebuah buku tata bahasa yang lengkap bagi suatu bahasa boleh dikatakan kurang lebih sama dengan kedudukan sebuah undang-undang dasar atau konstitusi bagi sebuah negara. (2) Perbedaan antara keduanya terlihat pada tahap pelaksanaannya. (3) Pada umumnya tingkat kesadaran dan kepatuhan undang-undang dasar jauh lebih tinggi daripada tingkat kesadaran dan kepatuhan kepada tata bahasa. (4) Tingkat kesadaran dan kepatuhan akan kaidah-kaidah kebahasaan terlihat pada perilaku berbahasa kita. (5) Perilaku berbahasa Indonesia dapat berupa penggunaan dalam bentuk lisan dan tulisan.

Sumber : Tata Bahasa Indonesia Baku

Kalimat utama paragraf tersebut terdapat pada kalimat nomor....

- A. (1)
- B. (2)
- C. (3)
- D. (4)
- E. (5)

3. Cermati paragraf berikut!

(1) Kebudayaan suatu bangsa dapat dikembangkan dan diturunkan kepada generasi-generasi mendatang melalui bahasa. (2) Semua yang berada di sekitar manusia, misalnya peristiwa, hasil karya, dapat diungkapkan kembali melalui bahasa juga. (3) Semua orang menyadari semua kegiatan dalam masyarakat akan lumpuh tanpa bahasa. (4) Binatang dan tumbuhan tidak memiliki bahasa seperti manusia. (5) Memang bahasa adalah alat komunikasi yang penting, efektif, dan efisien.

Kalimat yang tidak mendukung kalimat utama terdapat kalimat nomor....

- A. (1) B. (2) C. (3) D. (4) E. (5)

4. **Cermati paragraf berikut !**

(1)Pembangunan stasiun *Mass Rapid Transit* (MRT) di terminal Lebak Bulus, Jakarta Selatan, tetap dilaksanakan meskipun terminal itu batal ditutup. Senin(6/1) malam. (2)Disinyalir sejumlah pihak memprotes rencana penutupan itu. (3)Gubernur DKI Jakarta Joko Widodo menegaskan, ia bersama jajarannya akan memastikan proyek sistem transformasi massal tersebut akan berjalan sesuai dengan rencana. (4)"Kalau kita *nggak* punya keberanian memutuskan eksekusi, *enggak* akan jalan. *Enggak* rampung-rampung," tegas gubernur yang akrab disapa Jokowi itu di Balai Kota, kemarin. 5)Menurutnya, penolakan atas penutupan terminal yang terjadi beberapa terakhir disebabkan kurangnya sosialisasi dan penjelasan kepada pihak-pihak yang berkepentingan.

Sumber: *Media Indonesia* , Rabu 8 Januari 2014

Kalimat berupa fakta terdapat pada kalimat nomor....

- A. (1) B. (2) C. (3) D. (4) E. (5)

5. **Cermati paragraf berikut untuk menjawab soal nomor 5 dan 7!**

Sejumlah gigi manusia purba berumur sekitar 600.000 tahun dari Situs Arkeologi Tambaksari, Kabupaten Ciamis, Jawa Barat, sejak 1999 dibawa ke Amerika Serikat dan hingga kini belum dikembalikan. Dalihnya, "Gigi-gigi manusia purba itu akan diteliti umurnya," kata juru bicara Gedung Penyelamatan benda Cagar Budaya Tambaksari, di Ciamis, Rabu, (8/1). Situs Tambaksari berjarak 48 kilometer dari kota Kabupaten Ciamis. Cikal bakal penelitian situs bermula dari penemuan beragam fragmen tulang- belulang oleh guru Biologi SLTP Tambaksari , Darwa, tahun 1987. Saat ini ada 116 fragmen tulang belulang hewan purba disimpan warga dan ratusan lainnya diperkirakan masih terkubur di sekitar pemukiman masyarakat. Akhir tahun 2013 warga Tambaksari kembali menemukan fragmen tulang belulang.

Sumber : **Kompas**, 9 Januari 2014

Mengapa gigi manusia purba yang ditemukan dari situs Arkeologi Tambaksari dibawa ke Amerika Serikat?

- A. Karena gigi manusia purba yang berumur 600.000 tahun adalah Benda Cagar Budaya.
B. Karena gigi-gigi manusia purba tersebut akan diteliti umurnya.
C. Karena Amerika Serikat merupakan pusat Arkeologi dunia.
D. Karena gigi-gigi manusia purba tersebut ditemukan oleh seorang guru Biologi.
E. Karena di Tambaksari juga ditemukan sekitar 116 fragmen-fragmen hewan manusia purba.

6. Tujuan penulisan pada paragraf soal nomor lima adalah....

- A. Untuk menjelaskan gigi manusia purba yang ditemukan di Tambaksari akan diteliti di Amerika Serikat
B. Untuk menggambarkan Situs Arkeologi yang terdapat di Tambaksari, Kabupaten Ciamis, Jawa Barat, sejak 1999
C. Menceritakan penemuan benda-benda Cagar Budaya di Tambaksari, Kabupaten Ciamis, Jawa Barat, sejak 1999
D. Menceritakan awal mula penemuan gigi manusia purba di Tambaksari, Kabupaten Ciamis, Jawa Barat
E. Menjelaskan berbagai penemuan tulang-belulang hewan purba di Tambaksari, Kabupaten Ciamis, Jawa Barat

7. Makna istilah *Cagar Budaya* pada paragraf tersebut adalah....

- A. Daerah yang kelestarian hidup masyarakat dan perikehidupannya dilindungi undang-undang dari bahaya kepunahan.
- B. Benda-benda peninggalan jaman dulu hasil penemuan para arkeolog dan perlu dilindungi undang-undang
- C. Daerah yang ditemukan peninggalan-peninggalan sejarah yang ditemukan para arkeologi
- D. Benda-benda peninggalan jaman dulu yang terhimpun dalam suatu museum yang diatur undang-undang
- E. Daerah tempat wisata pendidikan yang bertujuan untuk memberikan informasi tentang kehidupan manusia jaman dulu.

8. **Cermati biografi berikut!**

Chairul Tanjung lahir di Jakarta, 16 Juni 1962, dalam keluarga yang cukup berada. Ayahnya A.G. Tanjung adalah wartawan jaman orde lama yang menerbitkan surat kabar beropolah kecil. Dia seorang pengusaha asal Indonesia. Namannya dikenal luas sebagai usahawan sukses. Menurut Chairul Tanjung modal memang penting dalam membangun dan mengembangkan bisnis. Baginya, kemauan dan kerja keras harus dimiliki seseorang yang ingin sukses berbisnis. Namun, mendapatkan mitra kerja yang handal adalah segalanya. Baginya, membangun kepercayaan sama halnya dengan membangun integritas. Di sinilah pentingnya berjejaring (*networking*) dalam menjalankan bisnis.

Dalam bisnis, Chairul Tanjung menyatakan bahwa generasi muda pebisnis sudah seharusnya sabar, dan mau menapaki tangga usaha satu persatu. Menurutnya, membangun sebuah bisnis tidak seperti membalikkan telapak tangan. Dibutuhkan sebuah kesabaran, dan tak pernah menyerah. Jangan sampai banyak yang mengambil jalan seketika (*instant*), karena dalam usaha kesabaran adalah salah satu kunci utama dalam "mencuri hati pasar". Membangun integritas adalah penting bagi Chairul.

Biografi berisi tentang adalah...

- A. Perjuangan Chairul Tanjung dalam dalam berbisnis
- B. Prinsip Chairul Tanjung dalam membangun bisnis
- C. Riwayat hidup seorang pengusaha sukses
- D. Tantangan Chairul Tanjung dalam membangun bisnis
- E. Pentingnya mitra yang dapat dipercaya dalam berbisnis

9. **Cermati tajuk rencana berikut !**

Berbagai survei ikut meramaikan perbincangan tentang sosok kepemimpinan nasional, yang diharapkan mampu mendorong perubahan. Tentu saja survei yang dilakukan sejumlah lembaga, termasuk surat kabar ini, bukanlah pemilihan umum. Namun, hasilnya dapat digunakan sebagai salah satu petunjuk penting atas kecenderungan publik memilih pemimpin nasional.

Penyelenggaran survei dan jajak pendapat terhadap pemimpin dan kepemimpinan termasuk lazim di sebuah negara demokrasi. Level kepercayaan terhadap jajak pendapat atau survei, sejauh dilaksanakan dengan metodologi yang tepat dan teruji, tergolong tinggi.

Terlepas dari segala kontroversi yang mungkin saja timbul, survei memberikan kontribusi dalam upaya mencari pemimpin yang dapat diandalkan untuk mendorong kemajuan. Survei membantu memunculkan tokoh-tokoh potensial di lingkungan partai politik ataupun di luar partai untuk menjadi pemimpin agar tidak terjadi yang disebut membeli kucing dalam karung.

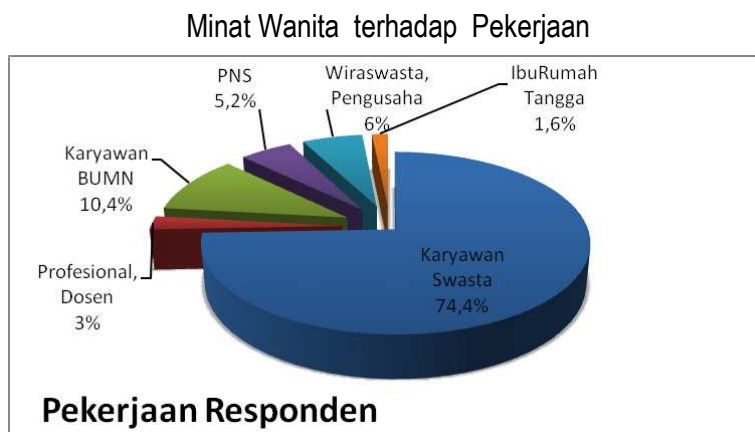
Opini penulis pada kutipan tajuk rencana tersebut adalah....

- A. Berbagai survei meramalkan perbincangan tentang sosok kepemimpinan nasional, yang diharapkan mampu mendorong perubahan.
- B. Penyelenggaran survei dan jajak pendapat terhadap pemimpin dan kepemimpinan termasuk lazim di sebuah negara demokrasi
- C. Level kepercayaan terhadap jajak pendapat atau survei, sejauh dilaksanakan dengan metodologi yang tepat dan teruji, tergolong tinggi.
- D. Survei membantu memunculkan tokoh-tokoh potensial di lingkungan partai politik ataupun di luar partai untuk menjadi pemimpin agar tidak terjadi yang disebut membeli kucing dalam karung
- E. Tentu saja survei yang dilakukan sejumlah lembaga, termasuk surat kabar ini, bukanlah pemilihan umum

10. Isi tajuk rencana tersebut ditujukan kepada....

- A. pemerintah
- B. lembaga survei
- C. masyarakat
- D. Komisi Pemilihan Umum
- E. para pemimpin nasional

11. **Cermati grafik berikut**




Pernyataan yang sesuai dengan grafik(gambar) tersebut adalah...

- A. Ada 74,4 % wanita berminat menjadi karyawan swasta dibandingkan dengan jenis pekerjaan yang lain karena gajinya lebih besar.
- B. Minat wanita untuk menjadi profesional, dosen jumlahnya 50% dari jumlah minat wanita untuk menjadi wiraswasta atau pengusaha.
- C. Ternyata sebagian kecil wanita tidak berminat bekerja karena ia tidak memiliki pendidikan yang memadai.
- D. Menjadi pegawai negeri atau karyawan BUMN adalah pilihan minat yang disukai wanita.
- E. Pekerjaan dosen kurang diminati wanita karena dosen merupakan pekerjaan yang banyak menghabiskan waktu.

12. Cermati tabel kecelakaan lalu lintas di Semarang berikut !

DATA JUMLAH KEJADIAN LUKA LANTAS BULAN JANUARI - MARET 2013						
NO	BULAN	JUMLAH KEJADIAN	MD	LUKA BERAT	LUKA RINGAN	MATERI
1	JANUARI	69	13	13	59	Rp.34.950.000
2	PEBRUARI	66	17	9	73	Rp.73.950.000
3	MARET	91	22	3	109	Rp.124.550.000
JUMLAH		226	52	25	241	Rp.223.450.000



Berdasarkan tabel tersebut dapat disimpulkan bahwa....

- A. Data kecelakaan lalu lintas di Semarang setiap bulannya meningkat.
- B. Masyarakat tidak memahami rambu-rambu lalu lintas.
- C. Polisi di Semarang tidak berhasil menyosialisasikan tertib berlalu lintas
- D. Jumlah kejadian dan korban meninggal dunia (MD), luka berat, luka ringan jumlah selalu meningkat setiap bulannya
- E. Polisi diharapkan menindak dengan tegas segala bentuk pelanggaran lalu lintas.

13. Cermati hikayat berikut untuk soal nomor 13 dan 14!

Syahdan, Muda Cik Leman memiliki saudara sepupu bernama Gadis Cik Inam, tetapi mereka tidak pernah bertemu muka karena telah berpisah saat masih sama-sama bayi. Ketika masih bayi, Gadis Cik Inam telah ditunangkan dengan kakanda Muda Cik Leman yang bernama Panglima Nayan. Namun pertunangan itu akhirnya dibatalkan karena seorang peramal, Tuk Nujum, melihat petanda jelek dari hubungan mereka. Tuk Nujum pun berkata, barang siapa yang menikah dengan Gadis Cik Inam ia akan mendapat petaka seumur hidupnya. Sejak keputusan tali pertunangan itulah Gadis Cik Inam dibawa oleh orang tuanya pindah ke Muar karena tidak tahan menanggung malu.

Beberapa tahun kemudian, pada suatu malam, Muda Cik Leman bermimpi bertemu seorang gadis yang cantik jelita. Usut punya usut, gadis yang hadir dalam mimpinya itu ternyata Gadis Cik Inam. Oleh karena pesona kecantikan yang ditebarkan Gadis Cik Leman berbakas sangat dalam di benak Muda Cik Leman, ia pun memutuskan berlayar ke negeri Muar. Kedatangannya di tanah Muar disambut baik oleh keluarga Gadis Cik Inam. Perselisihan antara dua keluarga yang dulu pernah terjadi akhirnya sirna. *Tak putus air dicencang, biduk lalu, kiambang bertaut*

Pertemuan Muda Cik Leman dengan Gadis Cik Inam sampai pada ikatan pernikahan. Keduanya hidup bersama dengan bahagia sampai Muda Cik Leman, yang merupakan pewaris sah tahta kerajaan negeri Muar, menjadi raja. Muda Cik Leman dikenal sebagai penguasa yang adil lagi bijaksana.

Kecantikan Gadis Cik Inam tersiar sampai ke negeri sebrang. Hingga di suatu hari, negeri Muar kedatangan tamu, seorang raja dari Negeri Petukal. Rupanya kedatangan raja yang dikawal armada laut yang besar itu menyimpan niat buruk. Ia ingin mempersunting Gadis Cik Inam. Berbagai tipu muslihat digunakan Raja Petukal untuk meraih tujuannya, mulai dari cara yang halus sampai dengan cara-cara kekerasan. Itulah mungkin petaka yang pernah diramalkan oleh ahli nujum.

Niat Raja Petukal ditolak mentah-mentah oleh Muda Cik Leman, karena ia hendak menjunjung tinggi marwah kerajaan. Tak pelak, pertempuran berdarah pun tak dapat dihindari.

Isi hikayat tersebut adalah...

- A. Menceritakan kepahlawanan seorang raja dalam menjunjung tinggi marwah kerajaan
 - B. Cinta setia seorang permensuri terhadap suaminya yang membahagiakan hidupnya
 - C. Perjalanan hidup Raja Muar yang dalam membangun negerinya
 - D. Meceritakan perjalanan cinta Gadis Cik Inam mengalami berbagai penderitaan
 - E. Niat jahat Raja Petukal ditolak mentah-mentah oleh Muda Cik Liman
14. Pesan yang disampaikan hikayat tersebut adalah, kecuali....
- A. Seyogyanya manusia tidak boleh pasrah dan menyerah begitu saja kepada nasib (takdir)
 - B. Jangan percaya pada ramalan-ramalan tentang ketentuan-ketentuan gaib.
 - C. Jangan menghalalkan segala cara untuk mewujudkan keinginan tertentu.
 - D. Jangan menilai seseorang dari penampilan fisiknya, tetapi juga harus melihat pemikirannya.
 - E. Sebagai seorang raja hendaknya mempertahankan harga diri kerajaan yang dipimpinnya

15. **Cermati penggalan cerpen berikut!**

Waktu beberapa orang Belanda –Indo berani menaikkan bendera merah putih biru di Hotel Yamato, Orang-orang Indonesia tercengang-cengang, semakin lama semakin banyak mendekati hotel itu. Tiba-tiba melompat seorang pemuda ke depan, dipanjatnya tiang bendera dirobeknya kain biru dari bedera itu. Orang-orang tercengan bertepuk dan bersorak, tetapi orang Belanda indo marah-marah. Bukan untuk dirobek mereka menaikkan bendera.

Sudut pandang penggalan cerpen tersebut adalah ...

- A. Orang pertama
- B. Orang ketiga
- C. Orang pertama sebagai pengamat
- D. Orang ketiga sebagai pengamat
- E. Orang pertama dan ketiga

16. **Cermati penggalan novel berikut!**

Dari sebuah kantung di dalam keranjang besarnya, Wak Katok mengeluarkan daun ramuan-ramuan. Mereka membersihkan luka Pak Balam dengan air panas dan Wak Katok menutup luka besar di betis dengan ramuan daun-daun yang kemudian mereka bungkus dengan sobekan kain Pak Balam. Wak katok merebus ramuan obat-obatan sambil membaca mantera-mantera. Setelah air mendidih, air obat dituangkan ke dalam mangkok dari batok kelapa. Setelah air agak dingin, Wak Katok meminumkannya kepada Pak Balam sedikit demi sedikit.

(Harimau-harimau, Mughtar Lubis)

Nilai sosial yang terdapat pada kutipaan novel tesebut adalah....

- A. Memanfaatkan adat kebiasaan menggunakan ramuan dedaunan
- B. Rela berkorban untuk memperjuangkan cita-cita
- C. Menolong dan bersimpati kepada orang lain

- D. Memanfaatkan adat kebiasaan menggunakan ramuan dedaunan
- E. Tabah dalam menghadapi cobaan- cobaan yang diberikan oleh Tuhan

17. **Cermati penggalan drama berikut !**

Satilawati	: <i>(merasa kasihan)</i> “Maafkanlah segala perkataanku yang kemarin itu, Kartili jangan dimasukkan ke dalam hati.
Kartili	: <i>(tersenyum)</i> ”Tentu tidak Satilawati. Aku mengerti keadaanmu kemarin itu. Sekarang aku memuji kesetiaanmu terhadap Ishak. Sungguh pun telah engkau tahu bahwa ia telah menghinatimu.”
Satilawati	: ...
Kartili	:“Itu kuhargai tinggi, Satilawati, kepercayaanmu kepada diri sendiri.”
Satilawati	:“Dan biarpun ia tidak baik kembali, aku tidak juga dapat mengikatkan diriku pada orang lain.”

Dialog yang tepat untuk menggambarkan watak tokoh Satilawati yang penuh keyakinan adalah....

- A. “Gila, ya. Tapi ada sesuatu suara halusku mengatakan bahwa ia akan balik lagi: balik buat selamanya.”
- B. “Saya terus mencintainya dengan sepenuh hati walaupun ia pernah menyakitiku.”
- C. “Saya sudah terlanjur mencintainya jadi semuanya harus saya perjuangkan.”
- D. “Hubungan kasih tidak selamanya mulus. Tentu akan mengalami pasang surut.”
- E. “Setiap orang tentu punya harapan, dan harapan itu perlu diperjuangkan.”

18. **Cermati puisi berikut!**

Kali Hitam

*Kali hitam lewat dengan keluh kesah
Kawan air dari tanah yang tak bernama
Kali hitam lewat di tanah rendah
Kali hitam berlalu di dasar dada*

*Mengalir ia. Mengalir. Entah dari mana
Rahasia pertapa dan nestapa
Sunyi yang lahir dari tanya
Bertapa menjalar ia, lidah yang berbisa*

Citraan puisi tersebut melalui hasil....

- A. Penciuman
- B. Pendengaran
- C. Penglihatan
- D. Perasaan
- E. Perabaan

19. **Cermati pantun berikut ini!**

*Angin bertiup kembangkan layar
Haluan menuju ke kota Medan
Hendaklah hidup berikhtiar*

.....

Larik yang tepat untuk melengkapi pantun tersebut adalah...

- A. Dalam hidup harus bertahan
- B. Sertakan doa kepada Tuhan
- C. Jangan ikut kehendak setan
- D. Siapkan diri untuk masa depan
- E. Rajin-rajinlah anda belajar

20. **Cermati gurindam berikut ini!**

*Kurang pikir kurang siasat
Tentu dirimu kelak tersesat*

Maksud isi gurindam tersebut adalah...

- A. Sifat cermat dalam berbuat membawa kesuksesan
- B. Berpikir dan bertindak belum tentu selamat
- C. Tiada guna menyesal bila sudah tersesat
- D. Sifat terlalu hati-hati akan baik hasilnya.
- E. Sifat kurang cermat berpikir akan membawa kerugian

21. **Cermati kalimat-kalimat berikut !**

1. Selain itu, kelelawar dapat dikelompokkan berdasarkan makanan dan kapasitasnya.
 2. Kelelawar memiliki spesies yang banyak, dan menempati urutan kedua setelah mamalia binatang pengerat.
 3. Untuk mengelompokkannya, kelelawar dibagi dua kelompok utama yaitu *Megachiroptera* dan *Microchiroptera*.
 4. Kelelawar dengan bentangan sayap dua meter dan berat mencapai 1,5 kg dimasukkan dalam kelompok *Megachiroptera* atau terkenal dengan sebutan "kalong."
 5. Dari 4000 spesies mamalia, 1000 diantaranya merupakan spesies kelelawar.

Kalimat-kalimat tersebut dapat menjadi paragraf yang padu jika disusun dengan urutan...

- A. 5, 4, 1, 3, 2
- B. 2, 5, 3, 1, 4
- C. 5, 2, 3, 1, 4
- D. 4, 5, 1, 3, 2
- E. 2, 3, 5, 1, 4

22. **Cermati paragraf generalisasi berikut !**

Puluhan hektare tanaman padi yang telah menguning habis dilalap banjir. Puluhan ribu tanaman cabe yang mulai dipetik petani tidak bisa juga terhindar dari ancaman bencana ini, meski area tanaman sedikit lebih tinggi daripada tanaman padi. Bahkan, tanaman sayuran yang berada di lahan satu meter lebih tinggi dan tinggal beberapa hari lagi siap panen juga tergenang air akibat banjir. ...

Simpulan yang tepat untuk melengkapi paragraf tersebut adalah....

- A. Banjir kali ini telah memusnahkan tanaman yang siap panen
- B. Semua tanaman milik petani tak ada yang tersisa akibat banjir
- C. Puluhan hektare lahan pertanian tergenang air akibat banjir
- D. Lahan pertanian menjadi korban utama dari bencana banjir
- E. Tak terhitung kerugian yang diderita petani akibat bencana banjir

23. **Cermati paragraf berikut!**

Seseorang yang sifatnya mengganggu lingkungan akan dijauhi atau dikucilkan dalam lingkungannya. Begitu pula kotoran ayam, tidak berguna dan dibuang orang. Dahulu, kotoran ayam selalu menjadi sumber masalah, seperti baunya yang tidak sedap dan sumber penyakit. Orang yang disebut sampah masyarakat, selalu membuat onar dan meresahkan. Begitu pula ayam cenderung hidup liar dan kotorannya berceceran di mana-mana. Sampah masyarakat terbiasa hidup tidak teratur dan membawa pengaruh negatif pada lingkungan dia berada. Bila mereka dibekali keterampilan, dapat berguna bagi diri sendiri dan orang lain. Begitu pula kotoran ayam, kini dimanfaatkan sebagai makanan ikan. Kotoran ayam bila diolah pun dapat menjadi pupuk. ...

Simpulan yang tepat untuk melengkapi paragraf analogi tersebut adalah....

- A. Pupuk dari kotoran ayam berguna bagi kesuburan tanaman sedangkan sampah berguna bagi masyarakat setelah diolah oleh masyarakat sehingga berusaha untuk memberdayakannya
- B. Menjadikan kotoran ayam sebagai pupuk sama halnya menjadikan seorang anak yang berguna bagi masa depan bangsa dan negara seperti tokoh masyarakat kebanggaan penduduk sekitar
- C. Jadi, seorang yang semula sampah masyarakat bila dibina akan berguna bagi masyarakat seperti kotoran ayam yang dimanfaatkan untuk pupuk dan makanan ikan
- D. Mengolah kotoran ayam menjadi pupuk organik yang bermanfaat bagi tanaman sama sulitnya menjadikan seseorang sampah masyarakat menjadi manusia yang berguna sehingga orang lain dapat menerima dengan baik
- E. Dengan berbagai upaya kita dapat benda yang semula tidak berguna menjadi sesuatu yang berguna dan dapat bermanfaat sebagaimana benda-benda lain sehingga tidak dibuang orang, seperti sampah

24. **Cermati paragraf berikut!**

Banyak mahasiswa jurusan Ilmu Komputer, Universitas Merdeka, mengulang satu mata kuliah tersebut karena sering absen saat kuliah berlangsung. Mahasiswa-mahasiswa tersebut umumnya mudah terbuai dengan ajakan membolos dari teman-teman seperjuangannya. Pada akhirnya mahasiswa tersebut harus membayar sejumlah uang untuk membayar sistem kredit semester (SKS) tambahan

Simpulan yang tepat untuk melengkapi paragraf tersebut....

- A. Mereka harus mengikuti kemauan temannya
- B. Mereka terpaksa menuruti ajakan temannya
- C. Mereka harus mengikuti mata kuliah yang wajib diulang
- D. Mereka tidak diwajibkan mengulang mata kuliah
- E. Mereka terlalu lama menyelesaikan mata kuliah

25. **Cermati silogisme berikut!**

PU : Semua murid SMA Bakti Bangsa yang rajin belajar lulus dengan nilai memuaskan.
PK : Nabila siswa SMA Bakti Bangsa yang rajin belajar.
S :

Simpulan yang tepat untuk melengkapi silogisme tersebut adalah...

- A. Nabila pasti lulus dengan nilai memuaskan
- B. Nabila lulus dengan nilai memuaskan
- C. Nabila murid SMA Bakti Bangsa yang lulus dengan nilai memuaskan

- D. Nabila seorang murid yang nilainya memuaskan
- E. Nabila dapat lulus dengan nilai memuaskan

26. **Cermati silogisme berikut**

PU	: Semua siswa yang ingin ikut kegiatan bakti sosial harus mendaftar terlebih dahulu.
PK	: Rino salah satu siswa yang ingin ikut kegiatan bakti sosial.
S	: Jadi, Rino harus mendaftar terlebih dahulu

Bentuk entimen dari silogisme tersebut adalah...

- A. Rino harus mendaftar terlebih dahulu karena ia salah satu siswa yang ingin ikut kegiatan bakti sosial
- B. Rino mendaftar untuk mengikuti kegiatan bakti sosial di sekolahnya karena ia anak yang berjiwa sosial
- C. Karena Rino seorang siswa dan ingin mendaftar untuk ikut kegiatan bakti sosial maka ia mendatangi panitia
- D. Setiap siswa harus ikut bakti sosial seperti Rino karena dia seorang siswa yang berjiwa sosial
- E. Siswa yang ikut kegiatan bakti sosial pasti mendaftar terlebih dahulu kepada panitia

27. **Cermati penggalan cerpen berikut !**

Seorang pemuda dekil berambut gondrong yang dicoba ditutupi dengan topi hitam dan berkacamata hitam dengan gayanya yang <i>supercuek</i> menggulirkan sebuah lagu lama. ... Ada-ada saja orang ini, <i>ngamen koq</i> di bus, pikirku sambil tak segaja mengamati wajahnya. Tidak terlalu jelek, bahkan dapat dikatakan sedikit tampan, tetapi rambutnya itu lho, <i>kewer-kewer</i> keluar dari topi hitamnya, yang bikin dia kelihatan <i>juellek</i> sekali

Kalimat penggambaran latar yang tepat untuk melengkapi penggalan cerpen tersebut adalah....

- A. Para penumpang bus yang sibuk dengan lamunan masing-masing menoleh sebentar
- B. Semua mata tertuju pada penampilan orang yang *supercuek* untuk sementara waktu
- C. Dengan penampilan seperti itu, pemuda dekil itu mencoba menyakinkan dirinya untuk menyanyi
- D. Pemuda dekil itu benar-benar menarik perhatian semua pengunjung yang ada di sana
- E. Ia adalah seorang pemuda korban ketidakadilan dalam mendapatkan kesempatan untuk bekerja

28. **Cermati paragraf deskripsi berikut!**

Keindahan Pantai Tanjung Penyusuk di pulau Bangka masih terlihat alami. Pantai Tanjung Penyusuk belum tereksplorasi secara maksimal. Pasir pantainya terlihat bersih dari sampah. Air lautnya biru kehijauan ... Batu granit itu tersusun di bagian bibir pantai seolah menjadi pelindung pantai dari abrasi.

Kalimat deskripsi yang tepat untuk melengkapi paragraf tersebut adalah....

- A. Arus laut di sebelah barat tampak lebih tenang daripada sebelah timur
- B. Sesekali ombak berdebur mengempas batu granit dan mengeluarkan bunyi
- C. Pantai Tanjung Penyusuk ini merupakan objek wisata yang indah
- D. Pantai ini diperindah lagi dengan batu granit kekuning-kuningan
- E. Pesona pantainya semakin lengkap dengan kehadiran pepohonan

29. **Cermati paragraf berikut ini!**

Cara penyajiannya tergolong unik. Guci-guci kecil itu diangkat dari guci besar menggunakan pengait yang terbuat dari besi. Kemudian disajikan kepada pengunjung lengkap dengan guci kecilnya. Dengan demikian, pengunjung bisa menikmati makan dalam keadaan panas.

Paragraf tersebut tergolong jenis paragraf....

- A. eksposisi contoh
- B. eksposisi kalisifikasi
- C. eksposisi sebab akibat
- D. eksposisi proses
- E. eksposisi analogi

30. **Cermati teks pidato berikut ini untuk menjawab soal nomor 30-31!**

Hadirin yang hormati, kemacetan yang terjadi di Jakarta, kian hari kian memprihatinkan. Hampir tidak ada ruas jalan di kota ini yang tidak macet pada jam-jam kerja. Hadirin tentu bertanya, mungkinkah kemacetan di Jakarta dapat di atasi? Ya, tentu saja bisa.

Ini membutuhkan komitmen kita semua. Untuk mengatasi dalam waktu singkat, tentu sangat sulit atau bahkan tidak mungkin. Yang bisa kita lakukan untuk sementara ini adalah memaksimalkan kapasitas jalan. Caranya, adalah dengan menertibkan pedagang kaki lima (PKL) dan pedagang asongan di sepanjang lokasi kemacetan. Mengapa? Karena badan jalan di beberapa ruas jalan sering menjadi tempat PKL dan pedagang asongan menggelar dagangannya.

Topik pidato tersebut adalah....

- A. Merenungkan kemacetan di Jakarta
- B. Upaya mengatasi kemacetan di Jakarta
- C. Kemacetan di Jakarta terjadi pada jam-jam kerja.
- D. Tidak mungkin mengatasi kemacetan dalam waktu singkat
- E. Sulitnya mengatasi kemacetan di Jakarta

31. Kalimat persuasif yang tepat untuk melanjutkan teks pidato tersebut adalah....

- A. Mari kita selamatkan Jakarta dari para pedagang Kaki lima dan pedagang asongan yang memacetkan Jakarta
- B. Mari kita bersatu padu melawan kemacetan DKI Jakarta dengan menumpas para pedagang kaki lima(PKL) dan pedagang asongan
- C. Pemerintah Provinsi DKI Jakarta hendaknya tidak tinggal diam melihat kemacetan
- D. Pemda DKI Jakarta hendaknya segera menertibkan para PKL dan asongan di lokasi kemacetan
- E. Pemda DKI Jakarta sebaiknya membersihkan para PKL dan asongan di wilayah Jakarta

32. **Cermati paragraf berikut !**

Ekosistem di sejumlah kawasan wisata Taman Laut Nasional Bunaken (TLNB) di Manado, Sulawesi utara yang keindahannya sudah kesohor di jagad raya, saat ini terancam rusak. Pasalnya, tumpukan sampah yang semakin hari semakin numpuk dari sejumlah muara sungai yang sengaja dibuang oleh orang yang tak bertanggung jawab di Kota Manado mengalir ke kota Manado. Akibatnya, karang laut yang indah bersama pemandangan yang menakjubkan itu dikuatirkan akan punah. Padahal, selama ini keindahan taman laut

tersebut dimanfaatkan oleh beberapa turis asing dari Eropa dan Amerika Serikat untuk melangsungkan pernikahan di dalam laut.

Perbaikan kata tidak baku dalam paragraf tersebut adalah....

- A. Ekosistim→ekosistem , Jagad-→ jagat, semakin-→ semangkin
- B. Menakjubkan → mentakjubkan, ekosistim → ekosistym, numpuk→menumpuk
- C. Numpuk→menumpuk, dikuatirkan→ dikhawatirkan, ekosistim--.ekosistim
- D. Dikuatirkan—dihawatirkan, pernikahan→perkawinan, jagad→jagat
- E. Kesohor→ tersohor, ekosistim—ekosistym, punah→ habis

33. **Cermati paragraf rumpang berikut !**

Secara...pabrik pengalengan ikan yang berada di Kabupaten Kampar tidak ada masalah lagi. Bahkan, pemerintah Riau akan bertekad pada tahun 2008 mendatang akan ...melakukan ... ke Timur Tengah dan Arab Saudi

Kata baku yang tepat untuk melengkapi paragraf yang rumpang adalah....

- A. tehnik,profinsi,dapat,ekspor
- B. teknis,provinsi,dapat,ekspor
- C. teknik,propinsi, bisa, ekspor
- D. teknis,provensi,bisa,impor
- E. teknologi,provinsi, bisa,impor

34. **Cermati paragraf berikut !**

Pemerintah tetap optimis ...pertumbuhan ekonomi sebesar 6,8 - 7,2 persen pada tahun 2013. Padahal, lembaga suvei internasional ...pertumbuhan ekonomi Indonesia lebih rendah dari itu. Menurut pemerintah, target perekonomian Indonesia tahun 2013 sebesar 6,8 - 7,2 persen bisa dicapai. Target perekonomian tersebut dapat dicapai sebab pertumbuhan ekonomi Indonesia saat ini sudah tidak hanya ... dari konsumsi domestik. Pertumbuhan ekonomi Indonesia juga ditopang oleh investasi yang masuk.

Kata berimbuhan yang tepat untuk melengkapi paragraf tersebut adalah....

- A. Menargetkan, diperkirakan, kontribusi
- B. Menargetkan, memperkirakan, dikontribusikan
- C. Ditargetkan, diperkirakan,dikobtribsikan
- D. Penargetan, perkiraan, pengontribusiian
- E. Tertarget, perkiraan, dikontribusikan

35. **Cermati paragraf berikut !**

Saya dan keluarga tinggal di lingkungan pedesaan. Rumah warga yang tinggal di lingkungan kami diberi cat Anak-anak suka... di tempat bermain yang disediakan di tengah bangunan dan pepohonan milik rumah warga.... merupakan budaya warga desa saya yang selalu terpelihara.

Kata ulang yang tepat untuk melengkapi paragraf tersebut adalah....

- A. Warna-warna, bermain-main, tolong-pertolongan
- B. Warna-warna, main-main, tolong-tolongan
- C. Warna-warni, bermain-main, tolong-menolong
- D. Aneka warna-warni, bermain-main, saling tolong menolong
- E. Aneka warna, main-main tolong-menolong

36. **Cermati paragraf berikut!**

Sudah tujuh belas tahun usia Nadia. Dia merupakan anak tunggal. Meskipun anak tunggal, dia..., rajin dan suka menolong orang yang mendapat kesusahan. Dia adalah buah hati orang tuanya.

Ungkapan yang tepat untuk melengkapi paragraf rumpang tersebut adalah...

- A. rendah hati
- B. rendah diri
- C. tangan besi
- D. ringan kaki
- E. murah hati

37. **Cermati paragraf berikut !**

Berbagai cara akan ditempuh oleh siswa yang baru lulus SMA untuk dapat merebut kursi di perguruan tinggi favoritnya. Ada siswa yang belajar keras sampai bergadang *atau* ada yang mengikuti berbagai bimbingan tes . Di samping itu, ada yang melalui jalur khusus, yaitu pemberian kesempatan kepada siswa yang mampu secara finansial untuk duduk di universitas pilihannya. Ada juga yang masuk universitas tanpa tes *maka* dia memiliki prestasi gemilang dan memiliki nilai akademis yang ditargetkan suatu perguruan tinggi dengan jalur PMDK (penelusuran minat dan kemampuan), *dan* ada juga melalui jalur pemberian beasiswa bagi yang berprestasi.

Kata penghubung yang tepat untuk mengganti kata yang dicetak miring dalam paragraf tersebut adalah....

- A. dan, karena, atau
- B. dan, tetapi, atau
- C. Hingga, karena , tetapi,
- D. hingga, jika , atau
- E. dan, jika, tetapi

38. **Cermati paragraf berikut !**

1) Pemprov DKI keberatan dengan surat edaran Menteri Dalam Negeri tanggal 22 Juni tentang KTP *elektronik*. 2) Surat edaran itu mengharuskan RT dan RW *memfasilitaskan* penduduk yang tinggal ilegal. 3) Perda No. 4 tahun 2004 mengatur semua wajib KTP harus mempunyai surat *domisili*. 5) Bagi penduduk yang rentan administrasi kependudukan, negara wajib menerbitkan *dokumen*. 5) Hal itu dimaksudkan untuk *mendeteksi* jumlah penduduk.

Kalimat yang menggunakan istilah tidak tepat terdapat pada kalimat nomor

- A. 1) B. 2) C. 3) D. 4) E. 5)

39. Penulisan alamat surat resmi yang tepat adalah....

- A. Kepada Personalia PT Telkom
Jl. Jendral Gatot Subroto no.5. Jakarta Pusat
- B. Yth. Personalia PT Indosat
Jalan Medan Merdeka Barat 4, Jakarta Pusat
- C. Yth. Bapak Personalia CV Nurwana
Jln. M.T. Haryono 15 Jakarta Selatan

D. Kepada Yth. Boro Personalia PT Indo Sukses
Jalan Dewi Sartika 22 Jakarta Timur

E. Kepada Yth. HRD P.T. Bulan Semesta
Jl. Bekasi Raya 5 Jakarta Timur 12

40. **Cermati kalimat penutup surat lamaran berikut !**

Demikianlah surat lamaran ini saya buat dengan sejujur-jujurnya. Atas pertimbangan Bapak /Ibu saya mengucapkan banyak terima kasih.

Kalimat yang tepat untuk memperbaiki penutup surat lamaran tersebut adalah....

- A. Demikianlah surat lamarana ini saya buat dengan sangat jujur. Atas pertimbangan Bapak/Ibu saya mengucapkan banyak terima kasih.
- B. Demikianlah surat lamarana ini saya buat dengan tulus. Atas pertimbangan Bapak/Ibu saya mengucapkan banyak terima kasih.
- C. Demikianlah surat lamarana ini saya buat dengan tangan saya sendiri. Atas pertimbangan Bapak/Ibu saya mengucapkan banyak terima kasih.
- D. Demikianlah surat lamarana ini saya buat. Atas pertimbangan Bapak/Ibu, saya mengucapkan terima kasih.
- E. Demikianlah surat lamarana ini saya buat. Atas pertimbangan Bapak/Ibu, kami mengucapkan banyak terima kasih.

41. **Penulisan perincian dalam surat undangan yang tepat adalah....**

- A. Hari, tanggal : Sabtu, 27 November 2013
Pukul : 14 - Selesai
Tempat : Aula SMA Bina Insani
Acara : Rapat kelulusan siswa kelas XII
- B. hari : Sabtu
tanggal : 27 November 2013
pukul : 14.00 - 17.00
tempat : Aula SMA Bina Insani
acara : Rapat lelulusan siswa kelas XII
- C. Hari : Sabtu
Tanggal : 27 November 2013
Pukul : 14.00- 17.00 WIB
Tempat : Aula SMA Bina Insani
Acara : Rapat kelulusan siswa kelas XII
- D. Hari : Sabtu
Tanggal : 27 November 2013
Puku : 14- 17
Tempat : Aula SMA Bina Insani
Acara : Rapat kelulusan siswa kelas XII
- E. Hari, tanggal : Sabtu, 27 November 2013
Pukul : 14- Selesai WIB
Tempa : Aula SMA Bina Insani
Acaara : Rapat kelulusan siswa kelas XII

42. Penulisan judul yang sesuai dengan EYD adalah ...
- A. Pengaruh Penggunaan Jejaring Sosial Terhadap Prestasi Siswa SMA.
 - B. Pengaruh Penggunaan Jejaring Sosial terhadap prestasi Siswa SMA
 - C. Pengaruh Penggunaan Jejaring Sosial terhadap Prestasi Siswa SMA
 - D. Pengaruh penggunaan jejaring sosial terhadap prestasi siswa SMA
 - E. pengaruh penggunaan jejaring sosial terhadap prestasi siswa sma

43. **Bacalah paragraf di bawah !**

Potensi pengembangan buah-buahan di Indonesia, khususnya buah-buahan tropika sangat tinggi. Kelapa sawit merupakan sebagian dari komoditas buah yang mendapat prioritas untuk dikembangkan. Akan tetapi, dalam pengembangannya menghadapi berbagai kendala, antar lain adalah produktivitas yang masih rendah. Rendahnya mutu dan produktivitas tersebut disebabkan oleh serangan organisme pengganggu tumbuhan (OPT). OPT tersebut menyerang sejak di pertanaman sampai di penyimpanan. Selain itu, rendahnya mutu dan produktivitas disebabkan oleh teknik budidaya yang kurang memadai.

Rumusan masalah yang berdasarkan latar belakang tersebut adalah...

- A. Mengapa kelapa sawit merupakan komoditas buah yang mendapat prioritas.
 - B. Upaya-upaya apakah yang dapat dilakukan agar produktivitas buah-buah meningkat?
 - C. Berapa produksi buah-buahan di Indonesia khususnya buah-buahan tropika?
 - D. Siapakah yang bertanggung jawab untuk meningkatkan produktivitas buah-buahn di Indonesia?
 - E. Apa sebabnya Indonesia harus meningkatkan produktivitas buah-buahan ?
44. **Perhatikan kutipan karya ilmiah berikut!**

Dari hasil wawancara di lapangan, penulis menemukan banyak golongan tua (orang tua, kaum pendidik, pejabat kelurahan, dan para pemuka masyarakat) yang berpendapat bahwa sebenarnya pelajar mempunyai peranan yang besar dalam pembangunan masyarakat terutama pembangunan lingkungan kelurahan. Namun, kemauan para pelajar untuk turut serta dalam pembangunan tersebut makin kecil sehingga saat ini tidak terlihat peranan dan pengaruhnya.

Dalam karya ilmiah kutipan tersebut merupakan bagian dari....

- A. kata pengantar
- B. latar belakang
- C. perumusan masalah
- D. pembahasan/ isi
- E. saran

45. **Cermati puisi berikut !**

Sajak Sikat Gigi

*Seorang lupa menggosok gigi sebelum tidur
Di dalam tidurnya ia bermimpi
Ada sikat gigi mengosok-gosok mulutnya supaya terbuka*

*Ketika ia bangun pagi hari
Sikat giginya tinggal sepotong
Sepotong yang hilang itu agaknya
Tersesat dalam mimpi dan tak bisa kembali*

*Dan ia berpendapat bahwa kejadian itu
Terlalu berlebih-lebihan*

Yudihistira Ardi Nugraha

Larik bermajas personifikasi terdapat pada larik....

- A. Di dalam tidurnya ia bermimpi
- B. Ada sikat gigi mengosok-gosok mulutnya supaya terbuka
- C. Sikat giginya tinggal sepotong
- D. Seorang lupa menggosok giginya sebelum tertidur
- E. Tersesat dalam mimpi dan tak bisa kembali

46. **Cermati puisi pendek berikut !**

Karangan Bunga

*Tiga anak kecil
Dalam langkah malu-malu
Datang ke Salemba
Sore itu
"Ini dari kami bertiga
Pita hitam pada karangan bunga
Sebab kami ikut berduka
Bagi kakak yang ditembak mati
Siang tadi."*

Taufik Ismail

Makna lambang dai kata *anak kecil* dapat diartikan sebagai berikut ,kecuali....

- A. Kesucian
- B. Kepolosan
- C. Keluguan
- D. Netral (tidak memihak)
- E. Kesedihan

47. **Cermati kuitipan drama berikut !**

....

Penyair : “ Hikmahnya terasa begitu puitis.”
Perempuan :” Apa itu puitis.”
Penyair : “ Hem, begini.maksudku pernyataan tadi mengandung unsur-unsur rasa kasih sayang yang begitu murni”
Perempuan : “O o begitu.”
Penyair :””

Dialog yang menggambarkan suasana romantis untuk melengkapi naskah drama tersebut adalah...

- A. “ kata- kata saudari memerlukan pemahaman makna yang mendalam.”
- B. “ dalam setiap kejadian tentunya mengandung hikmah yang bermanfaat.”
- C. “ Puitis itu adalah kalimat yang mengandung nilai sastra.”
- D. “ unsur-unsur kasih sayang dimiliki oleh setiap manusia.”
- E. “Baru pertama sekali, ada seorang wanita menaruh perhatian pada diriku.”

48. **Cermati kutipan berikut !**

Cerita pendek “Senyum Karyamin” karya Ahmad Tohari sekaligus menjadi judul kumpulan cerpen. Tokohnya adalah Karyamin, seorang tukang batu. Karyamin selalu tersenyum dalam situasi apa pun. Dalam Novel *Ronggeng Dukuh Paruk* karya Ahmad Tohari dikisahkan tokoh Srintil dan Rasmus dari warga desa yang masih kuat memegang tradisi setempat.

Kalimat resensi yang menyatakan keunggulan berdasarkan ilustrasi tersebut adalah....

- A. Ahmad Tohari sangat jeli dalam mengangkat kehidupan masyarakat kecil menjadi cerita menarik.
- B. Ahmad Tohari memahami dengan baik adat dan tradisi masyarakat desa yang diceritakannya.
- C. Ahmad Tohari mengangkat banyak kisah kehidupan masyarakat menjadi sebuah cerita.
- D. Ahmad Tohari merupakan pengarang cerpen dan novel yang khusus mengangkat masyarakat kecil.
- E. Ahmad Tohari selau mengangkat kisah kehidupan masyarakat desa kelahirannya.

49. **Cermati kutipan cerpen berikut !**

Padri adalah jagoan *PS*, alias *Play station*. Kini ia jagoan *CS*, alias *Computer Station*. Pulang sekolah ia tidak akan istirahat atau makan siang dahulu. Namun segera ke kios *CS*. Jika libur pukul enam pagi sudah menunggu di depan kios yang masih tutup pintunya itu. Aku sudah mengingatkan berulang kali anak pertamaku itu. Tak ada reaksi. Kuhukum sudah. Berat bahkan, neneknya protes “Jangan kejam pada anak, “ katanya. Kelakannya tak baik, kataku. Biarlah itu kan tak mengganggu orang. Dan bukankah ia merasa bahagia karenanya?” Nenek itu menutup protesnya dengan lima lembaran lima puluh ribuan, jatah bantuan bulananku.

Kalimat kritik yang sesuai dengan kutipan cerpen tersebut adalah....

- A. Biarkan anak bermain sepuasnya agar tidak mengganggu orang lain
- B. Tidak baik memanjakan anak melakukan hal-hal yang akan membuat kerugian pada masa depan
- C. Seoarang nenek sebaiknya tidak ikut campur urusan rumah tangga anaknya
- D. Janga menghukum anak yang tidak melakukan kesalahan
- E. Bermain *PS* dan *CS* akan membuat anak kecanduan dan sulit untuk menerima palajaran sekolah

50. Cermati penggalan cerpen berikut !

Nyonya terkejut.

“Ulang tahun?”Ulang tahun apa?”tanyanya dengan heran.

Roh kini memeras ingus yang ada dihidungnya. Sudah itu, ia duduk segaja menghentikan pekerjaan sebentar, rupanya ingin menunjukkan kesungguhan penderitaannya.

“Begini Nyonya. Ini maaf tapi ini kenyataan. Nyonya sendiri selalu menasihati saya supaya menerima kenyataan. Lebih mudah hidup menerima kenyataan .Begini kata Nyonya, bukan?Barangkali Nyonya sudah lupa.”

“Tidak, aku ingat. Memang harus begitu. Tapi tadi kau bilang ulang tahun, Maksudmu bagaimana?”

Roh Putu Wijaya

Kalimat esai yang sesuai dengan penggalan cerpen tersebut ?

- A. Gaya penceritaan dari cerpen tersebut datar dan mudah dipahami , kalimat-kalimatnya pendek-pendek
- B. Cerpen tersebut menceritakan perselihan antara pembantu dan majikan
- C. Tokoh Roh adalah tokoh jujur, berani, dan tidak takut pada majikan
- D. Orang yang berani berterus terang (jujur) akan dihargai orang lain
- E. Dalam kehidupan sosial harus terjadi saling keterbukaan sekali antara majikan dan pembantu

Petunjuk:

Pilih satu jawaban yang benar

Text 1 is for question number 1 to 5.

Have you ever wondered that your pet was thinking? Do you want to enhance your understanding of your dog or cat? Professor Shasta Ewing, a leading animal behaviorist, will be conducting an informative workshop entitled "Understanding Your Pet." This session will explore animal cognition and behavior commonly demonstrated by our pets. Professor Ewing has studied with the esteemed Drs. Nitz and Francis, authors of *My Pet and Me*. A demonstration of animal training will be given by Professor Edward West. All registered participants will receive a certificate of attendance. Audiocassettes will also be available for purchase.

<u>Location</u>	<u>Fee</u>	<u>Time</u>
Halpern Hotel	\$25	11 a.m. – 2:30 p.m

- Who is going to lead this workshop?
A. Professor Ewing
B. Professor West
C. Participants
D. Dr. Nitz
E. Dr. Francis
- What is the topic of the workshop?
A. Photographing wildlife
B. Animal behavior
C. Animal duties
D. How to select a pet
E. Grooming and caring for pets
- What is provided with registration?
A. A recording of a previous workshop
B. An attendance certificate
C. A copy of *My Pet and Me*
D. A pet-training manual
E. Certificate of Participation
- This session will explore animal cognition and behavior commonly demonstrated by our pets. The underlined word means
A. Accordingly
B. Generally
C. Specifically
D. Cordially
E. Specially
- All registered participants will receive a certificate of attendance.
The underlined word means
A. Occasional
B. Presence
C. Permission
D. Reception
E. Prescription

Text 2 is for question number 6 to 10.

Lasers (Light Amplification by Stimulated Emission of Radiation) are devices which amplify light and produce beams of light which are very intense, directional, and pure in color. They can be solid state, gas, semiconductor, or liquid.

When lasers were invented in 1960, some people thought they could be used as 'death rays'. In the 1980s, the United States experimented with lasers as a defense against nuclear missiles. Nowadays, they are used to identify targets. But apart from military uses, they have many applications in engineering, communications, medicine, and the art.

In engineering, powerful laser beam can be focused on a small area. These beams can heat, melt, or vaporize material in a very precise way. They can be used for drilling diamonds, cutting complex shapes in materials from plastics to steel, for spot welding and for surfacing techniques, such as hardening aircraft engine turbine blades. Laser beams can also be used to measure and align structures.

Lasers are ideal for communications in space. Laser light can carry many more information channels than microwaves because of its high frequency. In addition, it can travel long distances without losing signal strength. Lasers can also be used for information recording and reading. Compact discs are read by lasers.

In medicine, laser beams can treat damaged tissue in a fraction of a second without harming healthy tissue. They can be used in very precise eye operations.

In the arts, lasers can provide fantastic displays of light. Pop concerts are often accompanied by laser displays.

6. What are lasers?
- A. Solid state
 - B. Light Amplification
 - C. Semiconductor or liquid
 - D. Stimulated Emission of Radiation
 - E. Light Amplification by Stimulated Emission of Radiation
7. What were the function of lasers when they are invented in the first time/
- A. as a defense against nuclear missiles
 - B. to identify targets
 - C. to have many application in engineering
 - D. as death rays
 - E. as medium of communication
8. What is the main idea of paragraph 3?
- A. The important of lasers
 - B. The invention of lasers
 - C. The function of lasers
 - D. The advantages of lasers
 - E. The history of lasers
9. On what paragraph we can find the use of lasers as communication tool?
- A. 2
 - B. 3
 - C. 1 and 2
 - D. 4 and 5
 - E. 4
10. These are the fields where laser can be used, except.....
- A. Military
 - B. Engineering
 - C. Economics
 - D. Medicine
 - E. Art

Text 3 is for question number 11 to 15.

The development of the horse has been recorded from the beginning through all its evolutionary stages to the modern form. It is, in fact, one of the most complete and well-documented chapters in paleontological history. Fossil finds provide us not only with detailed information about the horse itself, but also with valuable insights into migration of herds and even evidence for speculation about the climatic conditions that could have instigated such migratory behavior.

It has been documented that, almost twelve million years ago at the beginning of the Pliocene age, a horse, about midway through its evolutionary development, crossed a land bridge where the Bering Straits are now located, from Alaska into the grasslands of Europe. The horse was the hipparion, about the size of modern-day pony with three toes and specialized cheek teeth for grazing. In Europe the hipparion encountered another less advanced horse called the anchitheres, which had previously invaded Europe by the same route, probably during the Miocene Period. Less developed and smaller than the hipparion, the anchitheres was completely replaced by it. By the end of the Pleistocene Age both the anchitheres and the hipparion had become extinct in North America, where they had originated. In Europe they had evolved into an animal very similar to the horse as we know it today. It was the descendent of this horse that was brought by the European colonists to the Americas.

11. What is this passage mainly about?
- A. The evolution of the horse
 B. The migration of horses
 C. The modern-day pony
 D. The horse was the hipparion
 E. The replacement of the anchitheres by the hipparion
12. According to the author, fossils are considered valuable for all of the following reasons EXCEPT
- A. they suggest how the climate may have been
 B. they provide information about migration
 C. they document the evolution of the horse
 D. they maintain a record of life prior to the Miocene Age
 E. migratory behavior
13. The word "it" in sentence, "Less developed and smaller than the hipparion, the anchitheres was completely replaced by it," refers to
- A. Anchitheres
 B. Hipparion
 C. Miocene Period
 D. Route
 E. Europe
14. The word "extinct" in line 15 is closest in meaning to
- A. familiar
 B. widespread
 C. nonexistent
 D. tame
 E. fertile
15. It can be concluded from this passage that the
- A. Miocene Period was prior to the Pliocene
 B. Pleistocene Period was prior to the Miocene
 C. Pleistocene Period was prior to the Pliocene
 D. Pliocene Period was prior to the Miocene
 E. Pleistocene Period was earlier than the Miocene

Text 4 is for question number 16 to 17.

895 Don Mills Road, Unit 2375
 Toronto, ON
 M3C 1T5
 January 19, 2010

Dear Sabrina,

Please let me express my deepest sympathies to you and the children. I was shocked and shattered when I heard about Franklin's horrific accident. I can't even imagine what you have been going through for the past ten days. As you know, Frank and I have been colleagues and friends for the past eight years. His tragic loss leaves a terrible void in our office. He was so well-liked and respected by everyone who came into contact with him, both colleagues and clients alike. He had tremendous people skills, and as such, he was a role model in our company and the industry at large.

Sabrina, please feel free to contact me if I can help in any way while you go through this very difficult and painful period. I will support you in any way that you can reach out to me.

Also, please tell the children how terribly devastated all of us are at home at company due to their father's tragic passing.

Sincere sympathy,

Darlene Francis

16. On what purpose does the writer write the letter?
- | | |
|--|------------------------------|
| A. To show her sympathy on Sabrina's sorrow | D. To have chat with Sabrina |
| B. To show her beautiful moment with Frank | E. To meet Sabrina |
| C. To recall the moment she had with Sabrina | |
17. What happened with Frank?
- | | |
|---------------------------------------|------------------------|
| A. He made his colleagues feel amazed | D. He passed the exams |
| B. He passed his difficult time | E. He got an accident |
| C. He moved to another office | |

Text 5 is for question number 18 to 19.

**No worries anymore of having no finance to support your study
You can still get a college loan!**
Invest in yourself with continuing education.

[Find Out More](#)

18. What is the advertisement about?
- | | |
|--|---------------------------------|
| A. College finance to purpose high study level | D. College entrance permit |
| B. Not to worry of having no money | E. Online Student Financial Aid |
| C. Find out more information | |
19. Invest in yourself with continuing education. What does the underline word mean?
- | | | | | |
|---------------|--------------|--------------|------------|---------|
| A. Spend over | B. Devote to | C. Give away | D. Deposit | E. Save |
|---------------|--------------|--------------|------------|---------|

Text 6 is for question number 20 to 23.

DILI (AP) : A strong earthquake struck off the coast of East Timor on Wednesday ,prompting authorities to issue a tsunami warning – but no large waves hit the tiny nation's coast

The 6.2 magnitude tremor struck 262 kilometers northeast of the capital , Dili in indonesia's banda sea at a depth of 10 kilometers , the U.S Geological Survey said.

Residents in Dili did not feel any shaking and there were no immediate reports of damage of injuries.

Indonesia's Meteorology and Geophysics Agency issued a tsunami alert , saying it had been powerful enough to generate giant waves , the warning was later retracted .

East Timor , a colony abandoned by the portuguese that became asia's youngest country after breaking from indonesia in 1999 , sits along a series of fault lines and volcanoes known as the pacific ring of fire.

In december 2004 , a massive earthquake struck off indonesia's sumatra and triggered a trsunami that killed more than 230,000 people in s dozen countries , including 160,000 peoplen in indonesia's western of province of aceh , (**)

20. What does the text inform?
- | |
|--|
| A. A strong earthquake |
| B. The coast of East Timor |
| C. A tsunami warning at East Timor |
| D. Earthquake that struck off Sumatra |
| E. Earthquake that struck off East Timor |

21. The strong earthquake that struck off the coast of East Timor....
- A. Caused some damage and injuries
 B. Caused no damage and injuries
 C. Triggered a tsunami
 D. Shook northeast of Dili powerful
 E. Had potent to Generate giant waves
22. The warning was later retracted. (paragraph 4).
 The underlined word means
- A. Taken back B. Cancelled C. Neglected D. Put off E. Proved
23. Which of the following statements is true based on the text?
- A. In December 2004 , a missive earthquake caused tsunami that killed few people
 B. There was a tsunami warning due to the large waves that hit the tiny nation's coast.
 C. East Timor is located along a series of fault lines and volcanoes
 D. A weak earthquake struck off the coast of East Timor
 E. The warning was retracted because it was too late

Text 7 is for question number 24 to 27.

One morning, I got up with the feeling that the day was going to be an unlucky one for me. How right it was! I found that it was already 6:15 a.m.

I rushed into the bathroom. I didn't see a piece of soap lying on the floor. I stepped on it and slipped, almost breaking my back in the process.

Then , I went into the dining room for my breakfast and tea without realizing it was very hot. It burnt my tongue. I spat it out and could not eat anything because my tongue hurt. I got dressed and rushed to the bus stop.

Unfortunately, I just missed the bus. My heart sank and I knew that I would be late for school.

When I reached school, my name was taken down by the teacher. The teacher scolded me for being late. To my humiliation, I was made to stand outside the class. I was so upset by the incidents that I could not study properly. But, worse to come.

After school, I was on my way home when something hard hit me on the head. Someone had thrown a bag of fish bones out of the window and it landed on me! I was boiling with rage but could do nothing. However, luckily for me. This only raised a small lump on my head.

I managed to reach home safe and sound, and did not dare to go out again for the rest of the days.

24. What does the text tell about ?
- A. The writer's unlucky day C. The writer's lucky day E. The writer's feeling
 B. The writer's experience D. The writer's activities
25. Someone had thrown a bag of fish bones out of the window and it landed on me! (paragraph 6). The word 'it' refers to...
- A. A bag C. A bag of fish E. A bag of fish bones
 B. A fish D. A bag of bones
26. Why was the writer's name taken down by the teacher?
- A. He was humiliated D. He could not study properly
 B. He stood outside the class E. He did not come to school on time
 C. He reached the school early

27. "I was boiling with rage but could do nothing". (paragraph 6).
The underlined word is close in meaning to...
- A. Anger B. Confusion C. Impatience D. Unhappiness E. Dissatisfaction.

Text 8 is for question number 28 to 31.

Developing Your Child's Brain

Every baby is born with around 100 billion brain cells, but not all the connection between these cells have yet been established. Brain development begins shortly after correction, and the part of the brain that monitors basic survival functions such as heart beat and breathing is operational at birth. Reflex action, simple motor behavior, and emotion develop next, while complex coordination and planning, reasoning, and decision making follow much later.

Babies have a biological need to learn. From birth, they rapidly begin to explore their environment through the senses: seeing, hearing, smelling, tasting, and feeling. These sensory experiences help build the connection between brain cells. The more stimulating experiences babies have the more connections the brain develops. Relationships are also critically important to healthy brain development. The stimulus repeated experiencing given to babies, such as seeing familiar faces, recognizing voices, and expanding to touch, and strengthens brain connections.

The process of building and strengthening brain connection continues throughout our lives, but is at its most intense between ages 3 and 12. At 3, a child brain development is more than twice as active as an adult's. Providing appropriate stimuli during these periods is critical. Between birth and four years babies develop visual information. Babies recognized organized visual information by seeing movement, object, shapes, and colors at varying distance.

To help babies develops their brain well, as parents, you should provide your babies with visual stimulating which can produce development advantages such as enhance curiosity, attentiveness, and concentration. For motor skill that is perform at the age of six such as crawling, walking, and balancing, parent should give children plenty of time to move around, crawl or walk and run end play active games. As parents, you also need you nurture your children by responding emotionally-displaying love, smiling and interacting face-to-face. The more you touch, hold and cuddle your babies, the faster their brain grows and develop. You should provide a safe and secure environment and respond and be attentive to their cries.

28. What does the text mainly talk about ?
- A. the child brain system
B. the brain development system
C. the amount of children's brain cells
D. the process of developing our children's brain cells work
E. the process of babies' movement since its first day of birth
29. "The process of building and strengthening brain connection.." what does the underlined word mean?
- A. Fastening B. enlightening C. heightening D. escalating E. weakening
30. What can be provided to make babies produce development advantages such as enhance curiosity, attentiveness, and concentration?
- A. the brain system C. the nutritious food E. the expensive children toys
B. the active games D. the visual stimulator
31. Which sentence is correct according to the text?
- A. Every baby is born with exactly 100 billion brain cells
B. The more you touch, hold and cuddle your babies, the weaker their brain grows
C. Parents must move the babies around, and make them flying

- D. Parent should give children plenty of time to move around, crawl or walk
- E. nurture your children by postponing emotionally-displaying love

Text 9 is for question number 32 to 35.

Many of us are dismayed about the quality of our education which is not commensurate with the high cost spent on school fees. It is way below our expectation if we compare our graduates with those who studied overseas, especially concerning the mastery of English.

It is important to know that most of employments require competence in English both in speaking and writing, for office work and correspondence. Public English speaking skill is highly recommended for the ones who **yearn for high** salary position employee in advance foreign company. Government, officials speakers, writers and observers use a lot of English.

Then the important thing is to use English as a medium in the schools so that we can compete with graduates from abroad. All students in Indonesia have studied English since they were in junior high school. Even some of them, English had been introduced when they were in elementary school. However, lots of graduates have less English skills. Learning English is difficult but it is more difficult to customize us with it. Make practicing English as daily habit to keep making conversation with the friends.

Then it will be beneficial to have TV films in English like in Singapore. It will help to increase our graduates' competence in English.

32. What does the text mainly talk about?
- A. Indonesian's incompetence graduates in possessing English qualification
 - B. The needless for educator to master English capability
 - C. The ignorance of alumnus to master English skill
 - D. The opinions of Indonesian's Education quality
 - E. The way how to acknowledge English skill
33. "public English speaking skill is highly recommended for the ones who yearn for high salary position. The underlined word has a similar meaning with...
- A. Receive
 - B. Desire
 - C. Ignore for
 - D. Unsatisfied
 - E. Never think for
34. What does the writer suggest for a solution of our incompetence graduates dealing with their English qualification?
- A. They should study aboard
 - B. They need to hire overseas teachers
 - C. To practice speaking up with the friends using English as a daily habit
 - D. To watch serial TV films in English like in Singapore and other countries
 - E. They need help to increase the graduates
35. What makes lots of our people disappointed with our education quality?
- A. None of graduates can master English fluently
 - B. Our education quality is not better than the quality of European education
 - C. Our education is the worst in the universe due to its high cost
 - D. The graduates are not proportionate with the high charge spent on school fees
 - E. Many graduates do not watch TV films in English like in Singapore and other

Text 10 is for question number 36 to 38.

Do you like animated film? Do you love food? Or do you lie rat? Well, this is a film that tells you about food, rat, chef, and friendship between a rat a human.

Ratatouille is a 2007 American computer animated comedy film produced by Pixar animation studios and published by Walt Disney Pictures. Ratatouille was directed by Brad Bird and gained Academy Award for Best Animated Feature. The title was derived from a French dish (ratatouille) which is served in the film. It was first released in the US and was nominated for five Oscars including Best Animated Feature Film. The dubbing sound for rat was the voices of Patton Oswalt, Lou Romano as Linguini, a young garbage boy as Remy's friend. Ian Holm as Skinner, the head chef of Auguste's restaurant, Janeane Garofalo as Colette, a rotisseur at Gusteau's restaurant, and Peter O'Toole as Anton Ego, a restaurant critic.

Remy is a teenage rat gifted with some highly developed senses of taste and smell. Inspired by his idol, the recently deceased chef Auguste Gusteau, Remy's wanted to be a chef. When the owner of the home is forced to abandon the rats in the home, Remy had been separated from his family and ends up in the sewers of Paris. Then Remy found Gusteau's restaurant. As he was watching Alfredo Linguini a son of the restaurant's owner and Gusteau's former sous-chef, he has an idea to make the soup tasty. Unluckily he was caught by Linguini at the same time that Skinner, the second owner of Gusteau's Restaurant, caught Linguini near the soup. Then, Skinner hired Remy because the soup he made had delicious taste. Linguini takes Remy home for he is a talented chef and they become a mutual friend. Then restaurant critic Anton Ego, who was the previous review caused Gusteau's one of its star ratings, announces he will be re-reviewing the restaurant the following evening. At that time, there is a critical moment on the kitchen, because the ones who make the food, Remy and all of his family with Linguini's and Colette were successfully could impress Anton. After having dinner, Anton requested to see the chef. Linguini and Colette ask Anton to wait until all the customers left the restaurant. Anton shocked knowing that the rat who cooks the food. Anton writes review for the newspaper the next day, stating that Gusteau's chef is "nothing less than the finest chef in France. Although Gusteau has got the positive review it is closed down caused by the rodent infestation, and Anton loses credit as a critic. However, Anton becomes an investor and eagerly invest fund at popular new bistro, "La Ratatouille"

This film teaches many things about social life and living that needs a collaboration so that everything which we thought is impossible can be possible. Beside of its wonderful story, the acting of all actors/actresses is also magnificent. Remy, a rat can attract the audience's attention.

A huge effort and a great will. Like Remy, we can see that Remy which is only a rat but with his secret talent and his will become a chef he can prove it, and his dreams came true.

I highly recommend you to watch this film because we learn how somebody tried to pursue the dream and to collaborate to accomplish the professionalism.

36. What is the text mainly about?

- A. A curiosity of Anton who observes a rat
- B. The review of movie entitled Ratatouille
- C. The collaboration between Remy and Linguini
- D. The struggling of Remy to accomplish his dream
- E. A rat gifted with some highly developed senses of taste and smell

37. How did Remy meet Alfredo Linguini?

- A. He was accidently sent away to sewers of Paris and found Alfredo in a restaurant
- B. He purposely went to sewers of Paris to meet Alfredo as a chef in a restaurant
- C. He intentionally abandoned the house and separated from family to see Alfredo
- D. Actually he never thought of meeting Alfredo but he had to
- E. He was watching him preparing to cook soup

38. "Remy is a teenage rat gifted with some ..." the synonym of the underlined word is ?
A. Endowed B. Established C. Presented D. Promoted E. Delivered

Text 11 is for question number 39 to 41.

Sutiyoso will pick up an Asian Air Quality Management Award Friday at an international conference in Jogjakarta, but some people have questioned whether he really deserved the honor. The critics say Sutiyoso has done little to reduce air pollution in the capital.

I think Sutiyoso deserved the award. Although we haven't seen solid air quality management he has restored the National Monument (Monas) park to a green cool area where families can jog or have a picnic.

He also initiated the bus way project, which I believe is a good step toward reducing air pollution in Jakarta. However, the government has to take further action such as limiting the number of motorcycles in Jakarta. Also the motorcycles on the roads contribute to air pollution in the city.

On the other hand, some people can't understand how Sutiyoso can win this award because they haven't seen any environment in Jakarta air management.

Jakarta is becoming more polluted as the authorities cut down more and more trees for transportation projects, and they don't bother to plant new trees to replace the ones, let alone develop new green areas.

The authorities should build more parks in the city to make Jakarta greener and less polluted. Monas park is greener now, but the fences prevent people from getting in. In countries like Singapore and Australia, public parks are pleasant places to hang out.

39. What does the text discuss about ?
A. Asian Air Quality Management
B. Air Quality Management in Indonesia
C. An international conference in Jogjakarta
D. Sutiyoso efforts to reduce air pollution in capital
E. An Asian Air Quality Management Award given to Sutiyoso
40. Sutiyoso initiated the bus way to overcome the problem in Jakarta, that is
A. Crime D. Public transportation
B. Pedestrian E. Pleasant transportation
C. Pollution
41. "... he has restored the National Monument (Monas) park to a green cool area..."(paragraph 2). The underlined word has the same meaning as...
A. Kept
B. Opened
C. Rebuilt
D. Changed
E. Announced

Text 12 is for question number 41 to 45.

The body of an adult insect is subdivided into head, a thorax of three segments, and a segmented abdomen, ordinarily, the thorax bears three pairs of legs. One or two pairs of wings may be attached to the thorax. Most adult insects have two large compound eyes, and two or three small simple eyes. Features of the mouth parts or mandibles are the maxillae, which serve to direct food into the mouth between the jaws, a labrum above and labium below are similar to an upper and lower lip, in insects with sucking mouth parts, the mandibles, maxillae, labrum and labium are modified to provide a tube through which liquid can be drawn. In butterfly or moth the coiled drinking tube is called the proboscis can be extended to reach nectar deep in a flower. In a mosquito or an aphid, mandibles and maxillae are modified to sharp styles with which the insect can drill through surfaces to reach juice.

42. What does the text mainly explain?
- A. the kinds of insects
 - B. the insect's environment
 - C. grasshoppers and beetles
 - D. the structure of an insect
 - E. the stages of an insect life
43. What is the purpose of the text?
- A. to explain the body of an insect
 - B. to tell about adult insects
 - C. to persuade the reader to care about insects
 - D. to describe the body of an adult insect
 - E. to inform about insects
44. How are insects classified?
- A. By the food they eat
 - B. By the age of their life
 - C. By the structure of the mouth
 - D. By the number and type of wings
 - E. By the environment in which they live
45. Mandibles are
- A. Lower jawbones
 - B. Upper jawbones
 - C. Mouth and jaws
 - D. Front feet
 - E. Upper teeth
46. Arrange the sentences into the best coherence paragraph
1. Let the older man to get in the bus first and don't bring the food and drink in
 2. don't forget to press the red button to let the bus stop for you get off
 3. Stay in line anytime you're going to board on the bus
 4. Insert a \$2 bank note in the box beside the driver soon you get in the bus
 5. Try to always look at the bus schedule first before planning to go somewhere by bus
 6. now, it's the time for you to enjoy traveling by bus
- A. 5,3,1,4,6,2
 - B. 4,6,2,1,3,5
 - C. 5,6,3,2,1,4
 - D. 4,6,3,1,2,5
 - E. 3,1,5,6,4,2

47. Arrange these jumble sentences into a correct paragraph!
1. Usually there has been an early experience which started the fear.
 2. For example, a person who is afraid of closed room has claustrophobia.
 3. Perhaps that person had parents who once locked him in a closet as a child. As an adult, he has forgotten the experience in the closet, but he fears locked room.
 4. Phobias are very strong fears which may start in childhood.
 5. A person may forget the experience which started the fear, but the fear reminds.
- A. 2,1,3,4,5
B. 4,1,5,2,3
C. 2,3,4,5,1
D. 4,3,5,2,1
E. 1,2,4,5,3

Text 15 is for question number 1 to 5.

Komodo dragons are the worlds (48)..... living lizard. They can grow to a length of 10 feet (over 3 meters), with an average length of 8 feet (2.5 meters) and weight of 91 kgs.

The komodo dragon has strong smell sense, (49)..... if it is supported by favorable wind, it will be able to seek out quarries up to 8.5 kilometers away. Despite its size, the komodo is fast moving and agile. They can climb the trees and like all monitor lizard they are good swimmers. They have about 60 teeth that they replace frequently and are (50)..... to cut chunks of its prey. Their teeth are laterally compressed with serrated edges, resembling those of flesh-eating sharks.

48. The best word to fill the blank space is
- A. skinniest
 - B. most fantastic
 - C. most amazing
 - D. heaviest
 - E. smartest
49. The best word to fill the blank space is
- A. especially
 - B. however
 - C. nonetheless
 - D. because of
 - E. but
50. The best word to fill the blank space is
- A. Positioning
 - B. being positioned
 - C. have been positioning
 - D. positioned
 - E. positions

- Good luck -

Petunjuk:

Pilih satu jawaban yang benar

- Inkaran dari pernyataan: $(p \vee \sim q) \Rightarrow r$ adalah ...

A. $(p \vee \sim q) \wedge \sim r$
 B. $(\sim(p \wedge q)) \wedge \sim r$
 C. $(p \vee \sim q) \vee \sim r$
 D. $(p \vee \sim q) \Rightarrow \sim r$
 E. $(\sim p \wedge q) \Rightarrow \sim r$
- Pernyataan yang setara dengan "Jika Amir rajin berolah raga dan tidak merokok maka badan Amir sehat" adalah

A. Jika badan Amir sehat maka ia rajin berolah raga dan tidak merokok
 B. Jika badan Amir tidak sehat maka ia tidak rajin berolah raga atau tidak merokok
 C. Badan Amir tidak sehat dan ia tidak rajin berolah raga juga merokok
 D. Badan Amir tidak sehat atau ia tidak rajin berolah raga dan merokok
 E. Jika Amir tidak rajin berolah raga dan merokok maka badan Amir sehat
- Diketahui premis-premis:
 (i) Jika Dewi lulus SMA dan tidak bekerja maka Dewi akan ikut tes seleksi perguruan tinggi negeri
 (ii) Dewi tidak ikut tes seleksi perguruan tinggi negeri
 Kesimpulan yang sah dari dua premis tersebut adalah ...

A. Dewi tidak lulus SMA dan bekerja
 B. Dewi tidak lulus SMA dan tidak bekerja
 C. Dewi lulus SMA atau tidak bekerja
 D. Dewi tidak lulus SMA atau bekerja
 E. Dewi tidak lulus SMA tetapi tidak bekerja
- Diketahui ${}^2\log 3 = 5m$, maka ${}^9\log \frac{1}{4} = \dots$

A. $-\frac{1}{5}m$
 B. $-\frac{3}{2}m$
 C. $-5m$
 D. $\frac{3}{5}m$
 E. $5m$
- Bentuk sederhana dari $\frac{10}{\sqrt{5} - \sqrt{3}}$ adalah ...

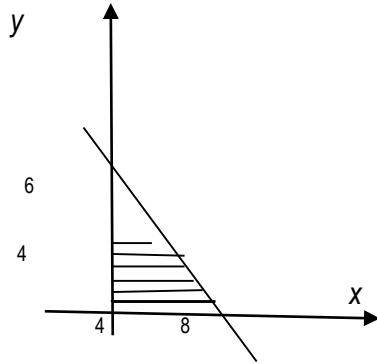
A. $10(\sqrt{5} + \sqrt{3})$
 B. $10(\sqrt{5} - \sqrt{3})$
 C. $5(\sqrt{5} + \sqrt{3})$
 D. $5(\sqrt{5} - \sqrt{3})$
 E. $2(\sqrt{5} - \sqrt{3})$
- Bentuk sederhana dari $\frac{(4p^2q^{-1})^{-2}}{(8p^3q^3)^{-1}}$ adalah ...

A. $\frac{p^3}{q^5}$
 B. $\frac{p^3}{2q^5}$
 C. $\frac{q^5}{2p^3}$
 D. $\frac{2q^5}{p^3}$
 E. $\frac{2p^3}{q^5}$
- Koordinat titik balik maksimum grafik fungsi $y = -2x^2 + 4x + 8$ adalah ...

A. (1, 10)
 B. (-1, -10)
 C. (-10, 1)
 D. (2, -4)
 E. (-2, 4)
- Titik potong kurva $y = x^2 - 4x - 5$ dengan sumbu x dan sumbu y adalah ...

- A. (0, -1) , (0, 5) dan (0,-5)
 B. (0, -4) , (0, 5) dan (0,-5)
 C. (-1, 0) , (5, 0) dan (0,-5)
 D. (1, 0) , (5, 0) dan (0,-5)
 E. (1, 0) , (-5, 0) dan (0,-5)
9. Persamaan grafik fungsi kuadrat yang puncaknya (2,-18) dan melalui titik (0,-10) adalah $f(x) = \dots$
 A. $2x^2 - 8x - 10$
 B. $x^2 - 4x - 10$
 C. $-2x^2 + 8x - 10$
 D. $-x^2 - 4x + 10$
 E. $-\frac{1}{2}x^2 - 2x - 18$
10. Diketahui fungsi $f(x) = x + 3$ dan $g(x) = 2x^2 - 8$. Komposisi fungsi $(go f)(x) = \dots$
 A. $2x^2 - 5$
 B. $2x^2 - 11$
 C. $2x^2 + x - 8$
 D. $2x^2 + 12x + 10$
 E. $2x^2 + 2x - 5$
11. Jika ditentukan $F(x) = \frac{4x+1}{x-4}$ dengan $x \in R$ dan $x \neq 4$, maka invers dari $F(x)$ adalah $F^{-1}(x) = \dots$
 A. $\frac{x+4}{4x-1}, x \neq \frac{1}{4}$
 B. $\frac{x-4}{4x-1}, x \neq \frac{1}{4}$
 C. $\frac{4x-1}{x+4}, x \neq -4$
 D. $\frac{4x+1}{x-4}, x \neq 4$
 E. $\frac{4x-1}{x-4}, x \neq 4$
12. Diketahui x_1 dan x_2 adalah akar – akar persamaan kuadrat $x^2 - x - 12 = 0$ dan $x_1 < x_2$. Nilai $4x_1 - 5x_2$ sama dengan ...
 A. -32
 B. -31
 C. -8
 D. 31
 E. 32
13. Jika x_1 dan x_2 adalah akar – akar persamaan kuadrat $x^2 - 3x - 4 = 0$, maka persamaan kuadrat baru yang akar–akarnya $2x_1$ dan $2x_2$ adalah ...
 A. $2x^2 + 6x - 16 = 0$
 B. $x^2 - 6x - 16 = 0$
 C. $x^2 + 6x + 16 = 0$
 D. $2x^2 - 6x - 16 = 0$
 E. $x^2 + 6x - 16 = 0$
14. Himpunan penyelesaian pertidaksamaan kuadrat: $x^2 + 2x - 15 < 0$ adalah ...
 A. $\{x \mid -3 < x < 4\}$
 B. $\{x \mid x < -5 \text{ atau } x > -3\}$
 C. $\{x \mid x < -3 \text{ atau } x > 5\}$
 D. $\{x \mid x < -5 \text{ atau } x > 3\}$
 E. $\{x \mid -5 < x < 3\}$
15. Diketahui x_1 dan y_1 memenuhi sistem persamaan linier $2x + 4y = -2$ dan $3x - y = 11$. Nilai dari $(x_1 + y_1) = \dots$
 A. -5
 B. -1
 C. 1
 D. 5
 E. 7
16. Dewi membeli 2 kg apel dan 3 kg jeruk seharga Rp. 85.000,00. Tuti membeli 3 kg apel dan 1 kg jeruk seharga Rp75.000,00. Jika Rani membeli 2 kg apel dan 2 kg jeruk di toko buah yang sama dengan membayar Rp. 100.000,00, maka uang kembalian Rani adalah ...
 A. Rp10.500,00
 B. Rp20.000,00
 C. Rp25.000,00
 D. Rp30.000,00
 E. Rp35.000,00
17. Daerah yang diarsir pada gambar di bawah ini merupakan penyelesaian sistem pertidaksamaan. Nilai maksimum dari bentuk obyektif $f(x, y) = 5x + 2y$ adalah ...

- A. 4
- B. 10
- C. 12
- D. 16
- E. 20



18. Seorang pedagang dengan menggunakan sepeda membeli majalah remaja seharga Rp8.000,00/eksemplar dan majalah politik seharga Rp6.000,00/eksemplar dari agen majalah . Modal yang dimiliki oleh pedagang tersebut Rp1.200.000,00 sedangkan sepedanya hanya dapat membawa 180 eksemplar majalah. Jika majalah remaja dijual dengan harga Rp10.000,00 dan majalah politik dijual Rp7.500,00 maka keuntungan maksimum yang dapat diperoleh pedagang tersebut adalah
- A. Rp250.000,00
 - B. Rp275.000,00
 - C. Rp300.000,00
 - D. Rp320.000,00
 - E. RP330.000,00

19. Diketahui matriks $K = \begin{pmatrix} 2 & -1 \\ 3 & 8 \end{pmatrix}$, $L = \begin{pmatrix} 7 & 3 \\ 6 & 2 \end{pmatrix}$, $M = \begin{pmatrix} 3 & -5 \\ 4 & -2 \end{pmatrix}$ dan $A = K + 2L - M$. Nilai determinan matriks A adalah
- A. -84
 - B. -32
 - C. 18
 - D. 38
 - E. 72

20. Diketahui matriks $K = \begin{pmatrix} -5 & 1 \\ 3a & -2b \end{pmatrix}$, $L = \begin{pmatrix} 2c & 4 \\ -8 & -2 \end{pmatrix}$, $M = \begin{pmatrix} -1 & 2 \\ 3 & -3 \end{pmatrix}$ dan M^T adalah transpos matriks M. Nilai $2a + b - 2c$ yang memenuhi $2K + L = 2M^T$ adalah
- A. 7
 - B. 4
 - C. 3
 - D. -3
 - E. -4

21. Matriks X yang memenuhi persamaan

$$\begin{pmatrix} 4 & 3 \\ 3 & 2 \end{pmatrix} X = \begin{pmatrix} 6 & -1 \\ 8 & -1 \end{pmatrix} \text{ adalah ...}$$

- A. $\begin{pmatrix} -12 & 1 \\ 14 & -1 \end{pmatrix}$
- B. $\begin{pmatrix} -1 & 1 \\ 14 & -12 \end{pmatrix}$
- C. $\begin{pmatrix} 12 & -1 \\ -14 & 1 \end{pmatrix}$
- D. $\begin{pmatrix} 12 & 2 \\ 3 & 14 \end{pmatrix}$
- E. $\begin{pmatrix} -12 & -3 \\ 2 & -2 \end{pmatrix}$

22. Dari suatu deret aritmatika diketahui suku ke-2 adalah 93 dan suku ke-5 adalah 84. Jumlah sepuluh suku pertama deret itu adalah
- A. 725
 - B. 825
 - C. 960
 - D. 1095
 - E. 1650

23. Suatu barisan geometri suku ke-2 adalah 3 sedangkan suku ke-5 adalah 24. Suku ke -8 barisan tersebut adalah
- A. 72
 - B. 128
 - C. 192
 - D. 412
 - E. 824

24. Pak Umar menabung dengan teratur, setiap bulannya ia menabung selalu lebih besar dari bulan sebelumnya dengan selisih tetap. Jika jumlah seluruh tabungan dalam 4 bulan pertama adalah Rp920.000,00 sedangkan dalam 6 bulan pertama adalah Rp1.500.000,00, maka besar uang yang ditabung pada bulan ke -3 adalah
- A. Rp300.000,00
 - B. Rp280.000,00
 - C. Rp260.000,00
 - D. Rp240.000,00
 - E. Rp220.000,00

25. Nilai $\lim_{x \rightarrow 1} \frac{2x^2 + x - 3}{x^2 + 2x - 3}$ adalah... .
- A. 0
B. $\frac{4}{5}$
C. 1
D. $\frac{5}{4}$
E. 2
26. Nilai dari $\lim_{x \rightarrow \infty} \sqrt{6x^2 + 5x - 1} - \sqrt{6x^2 - x + 7} = \dots$
- A. $-\sqrt{6}$
B. $-\frac{1}{2}\sqrt{6}$
C. 0
D. $\frac{1}{2}\sqrt{6}$
E. $\frac{1}{3}\sqrt{6}$
27. Turunan pertama dari $f(x) = (4x^2 - 7)^5$ adalah $f'(x) = \dots$
- A. $40x(4x^2 - 7)^4$
B. $40x^2(4x - 7)^4$
C. $8x(2x^2 - 7)^4$
D. $(8x - 7)(2x^2 - 5)^4$
E. $(2x^2 - 7)(2x^2 - 7)^4$
28. Suatu proyek dapat dikerjakan selama p hari dengan biaya setiap harinya $(5p + \frac{120}{p} - 80)$ juta rupiah. Agar biaya proyek minimum maka proyek tersebut baru diselesaikan dalam waktu ... hari
- A. 24
B. 16
C. 8
D. 4
E. 2
29. Nilai dari $\int_1^2 (3x^2 - 1)(x + 1) dx$ adalah
- A. $\frac{1}{4}$
B. $\frac{3}{4}$
C. $15\frac{3}{4}$
D. $16\frac{1}{4}$
E. 18
30. Luas daerah yang dibatasi oleh kurva $y = x^2 + x - 6$ dan sumbu x adalah ... satuan luas
- A. $\frac{1}{5}$
B. $\frac{1}{2}$
C. $8\frac{5}{6}$
D. $16\frac{1}{2}$
E. $20\frac{5}{6}$
31. Dari angka-angka 0, 1, 2, 3, 4, 5, 6, 7 dan 8 akan disusun bilangan yang terdiri dari empat angka yang berbeda. Banyaknya bilangan yang lebih dari 7000 ada...bilangan.
- A. 6561
B. 4096
C. 2688
D. 672
E. 336
32. Dari 10 orang finalis lomba "Indonesian Idol" akan dipilih juara I, II dan III. Banyaknya cara pemilihan juara tersebut adalah
- A. 30
B. 90
C. 120
D. 240
E. 720
33. Pada suatu sekolah menengah atas terdapat 10 siswa perempuan dan 8 siswa laki-laki yang memiliki prestasi dalam bidang olahraga. Dari seluruh siswa tersebut dipilih secara acak 5 siswa perempuan dan 5 siswa laki-laki yang akan dikirim untuk mengikuti lomba gerak jalan. Banyaknya cara pemilihan siswa tersebut adalah
- A. 14.112
B. 1.345

- C. 1.252
- D. 80
- E. 56

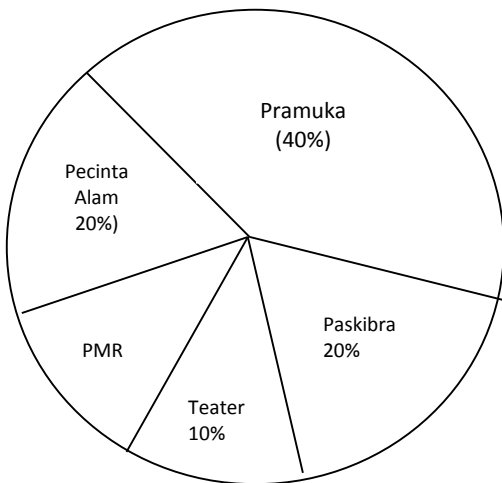
34. Dari seperangkat kartu bridge diambil satu kartu secara acak. Peluang terambilnya kartu bernomor 6 atau berwarna merah adalah...

- A. $\frac{2}{52}$
- B. $\frac{4}{52}$
- C. $\frac{6}{52}$
- D. $\frac{8}{52}$
- E. $\frac{28}{52}$

35. Suatu percobaan lempar undi dua buah dadu sebanyak 60 kali. Frekuensi harapan muncul mata kedua buah dadu berjumlah lebih dari 9 adalah

- A. 10
- B. 20
- C. 30
- D. 40
- E. 60

36. Diagram lingkaran berikut data peserta ekstrakurikuler kelas XI suatu SMA. Jika jumlah seluruh siswa kelas XI adalah 180 siswa, maka jumlah peserta ekstrakurikuler Palang Merah Remaja (PMR) adalah ...



- A. 12
- B. 15
- C. 16
- D. 18
- E. 24


37. Nilai matematika 40 siswa disajikan dalam tabel berikut. Modus dari data pada tabel berikut adalah

Nilai	Frekuensi
41 – 50	2
51 – 60	5

61 – 70	10
71 – 80	15
81 – 90	6
91 – 100	2

- A. 70,05
- B. 74,07
- C. 75,05
- D. 75,50
- E. 80,00

38. Nilai median dari data yang disajikan pada histogram berikut adalah:



- A. 18,00
- B. 17,83
- C. 16,37
- D. 15,40
- E. 14,00

39. Varians dari data: 4, 5, 6, 7, 6, 8, 4, 8 adalah ...

- A. $\frac{9}{4}$
- B. $\frac{7}{4}$
- C. $\frac{3}{2}$
- D. $\frac{3}{8}$
- E. $\frac{1}{8}$

40. Simpangan baku dari data 7, 8, 9, 8, 8, 6, 10 adalah ...

- A. $\frac{1}{7}\sqrt{7}$
- B. $\frac{1}{7}\sqrt{35}$
- C. $\frac{1}{7}\sqrt{70}$
- D. $\frac{1}{7}\sqrt{80}$
- E. $\frac{1}{7}\sqrt{90}$

Petunjuk:

Pilih satu jawaban yang benar

1. Azwarudin seorang karyawan sebuah supermarket yang baru mulai bekerja setelah tamat dari Sekolah Menengah Kejuruan. Berikut ini beberapa kebutuhan Azwarudin :
- (1) Menghemat uang saku untuk membeli sepatu
 - (2) Membeli motor baru
 - (3) Berangkat kerja naik kendaraan umum
 - (4) Memakai pakaian sesuai peraturan perusahaan
 - (5) Membeli tas yang harganya mahal
- Yang merupakan kebutuhan skala prioritas Azwarudin adalah ...
- A. (1), (2), dan (3) C. (2), (3), dan (4) E. (3), (4), dan (5)
B. (1), (3), dan (4) D. (2), (4), dan (5)
2. Pertumbuhan penduduk perkotaan yang sangat pesat dengan luas lahan yang tetap menyebabkan timbulnya permasalahan yang terkait dengan lahan untuk perumahan yang semakin menyempit, sehingga upaya pemerintah dalam membangun perumahan sederhana tidak sebanding dengan permintaan rumah yang terus meningkat. Salah satu solusi untuk mengatasi masalah tersebut adalah ...
- A. Membangun perumahan dan apartemen mewah dan elit saja
 - B. Mengeluarkan peraturan beserta sanksi mengenai penggunaan tanah di perkotaan
 - C. Membiarkan masyarakat mendirikan rumah yang layak di lahan Negara
 - D. Membangun rumah susun sederhana yang sehat diatas yang tersedia untuk kepentingan masyarakat
 - E. Membangun perumahan sederhana dengan mereklamasi pantai dan rawa –rawa yang ada
3. Dibawah ini adalah masalah pokok ekonomi:
- (1) Dari mana diproduksi semua barang dan jasa yang dibutuhkan oleh masyarakat
 - (2) Barang dan jasa apa saja yang akan diproduksi dan dalam jumlah berapa
 - (3) Bagaimana barang dan jasa yang telah diproduksi bisa sampai ke tangan konsumen yang membutuhkan
 - (4) Dengan cara bagaimana proses produksi akan dilakukan
 - (5) Untuk siapa barang dan jasa diproduksi
- Dari pernyataan di atas yang merupakan masalah pokok ekonomi menurut aliran ekonomi modern adalah...
- A. (1), (2) dan (3) C. (1), (3) dan (5) E. (2), (4) dan (5)
B. (1), (2) dan (4) D. (2), (3) dan (4)
4. Setamat dari Sekolah Kejuruan , Dadang mempunyai 3 (tiga) penawaran pekerjaan, yaitu, bekerja di warnet dengan gaji Rp. 2.000.000 perbulan, bekerja di perusahaan percetakan dengan gaji Rp.2.200.000,- sebulan atau bekerja di bengkel dengan pendapatan Rp.2.400.000,- sebulan. Andi memilih untuk bekerja di perusahaan percetakan. Maka yang menjadi biaya peluangnya adalah....
- A. R.p 2.400.000,00 C. Rp. 2.000.000,00 E. Rp. 200.000,00
B. Rp. 2.200.000,00 D. Rp. 400.000,00
5. Salah satu ciri sistem ekonomi terpusat (Sistem Ekonomi Komando) adalah ...
- A. produsen memproduksi apabila dibutuhkan
 - B. faktor-faktor produksi dikuasai oleh produsen
 - C. adanya persaingan bebas antar pelaku ekonomi

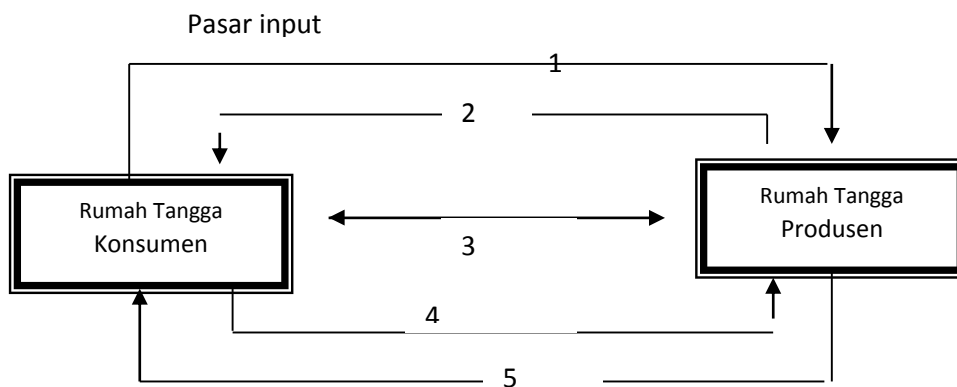
- D. semua alat dan sumber daya dikuasai oleh negara
- E. bebas berusaha dan mencari laba sebesar-besarnya

6. Di bawah ini merupakan perilaku produsen dan konsumen:
- (1) Pak Acep wiraswastawan garmen dapat menghasilkan 4 potong kemeja dalam satu hari.
 - (2) Bu Andi memakai Baju baru ketika berangkat ke kantor.
 - (3) Warung Sate Kelinci Pak Wasis mendapat pasokan kelinci dari daerah Bandung
 - (4) Pak Singgih membeli sepatu baru untuk putra-putrinya menjelang hari raya.
 - (5) Slamet Rusdiyanto membuka bengkel service Elektronik selepas tamat dari sekolah kejuruan.
 - (6) Sebagai sopir taxi, Pak Tommi selalu makan siang di warung nasi Bu Nana

Berdasarkan contoh di atas, yang termasuk perilaku konsumen adalah...

- A. (1), (2), dan (3)
- B. (1), (2), dan (4)
- C. (1), (3), dan (4)
- D. (2), (4), dan (6)
- E. (2), (5), dan (6)

7. Perhatikan bagan interaksi antara rumah tangga konsumen dengan rumah tangga produsen berikut ini :



Berdasarkan bagan di atas yang merupakan adanya pembayaran faktor produksi tenaga kerja, modal, tanah dan sebagainya adalah nomor....

- A. 1
- B. 2
- C. 3
- D. 4
- E. 5

8. Fungsi penawaran suatu barang ditunjukkan oleh persamaan $Q = -6 + 3P$. Elastisitas penawaran pada $P = 4$ adalah ...
- A. 0,8
 - B. 1,5
 - C. 2
 - D. 3
 - E. 4

9. Daftar Harga, Permintaan, dan Penawaran

Harga (rupiah)	Permintaan (unit)	Penawaran (unit)
1.000	10.000	6.000
1.200	9.000	7.000
1.300	8.000	8.000
1.400	7.000	9.000
1.500	6.500	9.500

Dari tabel di atas harga keseimbangan sebesar ...

- A. Rp. 1.000,00
- B. Rp. 1.200,00
- C. Rp. 1.300,00
- D. Rp. 1.400,00
- E. Rp. 1.500,00

10. Mekanisme harga ditentukan oleh satu-satunya produsen, sedangkan konsumen tidak mempunyai kekuatan dalam penetapan harga. Kondisi pasar di atas terjadi pada bentuk pasar
- A. monopoli
 - B. monopsoni
 - C. oligopoli
 - D. persaingan sempurna
 - E. Persaingan monopolistic

11. Perhatikan tabel berikut:

A	B
1. Penawaran datangnya dari rumah tangga konsumsi	1. Penawaran datangnya dari rumah tangga produksi
2. Balas jasa yang diterima adalah upah	2. Balas jasa yang diterima berupa bunga

Berdasarkan pernyataan di atas yang merupakan ciri faktor produksi modal adalah....

- A. A1 dan A2 C. A1 dan B2 E. B1 dan B2
B. A1 dan B1 D. A2 dan B1

12. Krisis ekonomi yang berkepanjangan mengakibatkan banyak perusahaan yang gulung tikar. Hal ini juga berimbas pada PD Maylisa yang bergerak dalam pembuatan batako, walaupun tidak gulung tikar namun perusahaan tersebut menetapkan kebijakan tidak menaikan upah bagi para pekerjanya untuk menghindari terjadinya pemutusan hubungan kerja..

Apabila dikaji berdasarkan ilmu ekonomi, kejadian di atas termasuk kajian ekonomi....

- A. Terapan B. mikro C. makro D. deskriptif E. normatif

13. Suatu negara mempunyai data tentang pendapatan nasional berikut ini:

Product Domestic Brutto	: 567.000 M
Pendapatan perusahaan asing di negara tersebut	: 180.000 M
Pendapatan warga negara di luar negeri	: 13.000 M
Depresiasi	: 3000 M
Pajak Langsung	: 200 M
Pajak Tak Langsung	: 1000 M

Berdasarkan data di atas besarnya Pendapatan Nasional Bersih (NNI) adalah ...

- A. 395.800 M C. 400.000 M E. 747.000 M
B. 396.000 M D. 734.000 M

14. Data Pendapatan Nasional dan Jumlah Penduduk Tahun 2012 dari negara-negara berikut:

Negara	Pendapatan Nasional (dalam juta US\$)	Jumlah penduduk (000)
U	119,3	206.034
V	77,3	22.735
W	95,4	3.222
X	121,0	61.735
Y	78,0	76.471
Z	28,2	76.216

Dari data di atas, maka urutan dari negara yang berpendapatan per kapitanya terbesar sampai terkecil adalah ...

- A. V, W, X, U, Y, dan Z
B. W, V, U, X, Z, dan Y
C. W, X, V, U, Y, dan Z
D. W, V, X, Y, U, dan Z
E. X, U, W, Y, V, dan Z

15. Daftar nama barang dan harga:

No.	Nama Barang	Harga Tahun		
		2011	2012	2013
1.	Minyak goreng	Rp13.500,00	Rp14.000,00	Rp15.000,00
2.	Telur	Rp16.000,00	Rp17.500,00	Rp18.000,00
3.	Beras	Rp9.500,00	Rp10.000,00	Rp11.000,00
4.	Mentega	Rp7.000,00	Rp7.500,00	Rp7.500,00

Berdasarkan tabel di atas, apabila indeks harga dihitung dengan menggunakan metode agregatif tidak tertimbang, laju inflasi tahun 2013 dibandingkan tahun 2011 termasuk... .

- A. Hiperinflasi
 B. Inflasi berat
 C. Inflasi sedang
 D. Inflasi ringan
 E. Inflasi sangat ringan

16. Diketahui fungsi konsumsi $C = 200.000,00 + 0,70 Y$

Jika besarnya tabungan masyarakat Rp 100.000,00 maka besarnya konsumsi adalah ...

- A. 270.000,00
 B. 370.000,00
 C. 628.570,00
 D. 900.000,00
 E. 1.000.000,00

17. Ibu Riski untuk keperluan pengeluaran belanja rumah tangganya menyediakan uang sebesar Rp. 3.000.000,00 perbulan. Apa yang dilakukan Ibu Riski termasuk motif

- A. ekonomi
 B. berjaga-jaga
 C. transaksi
 D. spekulasi
 E. efisiensi pengeluaran

18. Berikut ini adalah tugas dari perbankan di Indonesia.

1. memberikan kredit jangka pendek
2. mengatur, menjaga dan memelihara kestabilan nilai tukar rupiah
3. mengusahakan tercapainya sistem pembayaran
4. mendiskontokan wesel, surat utang dan surat berharga lain
5. meningkatkan likuiditas uang beredar
6. menerima dan membayar kembali uang dalam rekening koran

Dari pernyataan di atas yang merupakan tugas Bank Indonesia yaitu ...

- A. 1, 2, dan 3
 B. 1, 3, dan 4
 C. 1, 3, dan 6
 D. 2, 3, dan 4
 E. 2, 3, dan 5

19. Berikut kebijakan ekonomi pemerintah:

1. menaikkan pajak
2. APBN defisit
3. mengadakan pinjaman pemerintah
4. memperbesar pengeluaran pemerintah
5. menurunkan pajak

Kebijakan pemerintah untuk mengatasi inflasi adalah...

- A. 1, 2, dan 3
 B. 1, 4, dan 5
 C. 2, 3, dan 4
 D. 2, 3, dan 5
 E. 3, 4, dan 5

20. Perhatikan pernyataan berikut!

1. peningkatan produksi
2. penambahan jumlah tenaga kerja
3. peningkatan kesehatan
4. peningkatan pendidikan
5. mengadakan pelatihan dan peningkatan manajerial

Dari pernyataan di atas yang termasuk upaya peningkatan kualitas sumber daya manusia adalah ...

- A. 1, 2, dan 3
B. 1, 3, dan 5
C. 2, 3, dan 4
D. 2, 3, dan 5
E. 3, 4, dan 5

21. Perhatikan table berikut :

Jenis pengangguran (A)	Cara mengatasi pengangguran (B)
1. Pengangguran musiman	1. Membuka lapangan kerja baik baru maupun yang sudah ditutup
2. Pengangguran teknologi	2. Memberikan informasi dan pelatihan yang tepat guna sesuai dengan perubahan struktur perekonomian
3. Pengangguran siklus	3. Memanfaatkan waktu dengan keterampilan sampai panen tiba
4. Pengangguran friksional	4. Memberikan informasi yang cepat tentang kriteria-kriteria penting yang dikehendaki baik dari si pemberi maupun si pencari kerja
5. Pengangguran struktural	5. Harus selektif memilih teknologi yang tepat guna

Berdasarkan tabel di atas cara mengatasi pengangguran yang benar adalah ...

- A. A1 dan B3
B. A2 dan B2
C. A3 dan B5
D. A4 dan B1
E. A5 dan B4

22. Kebijakan untuk mengatasi inflasi:

1. Kebijakan peningkatan cash ratio
2. Kebijakan pasar terbuka
3. Kebijakan menaikkan tarif pajak
4. Kebijakan menaikkan produksi
5. Kebijakan menghemat pengeluaran pemerintah

Yang termasuk kebijakan moneter adalah ...

- A. 1 dan 2
B. 1 dan 3
C. 2 dan 3
D. 2 dan 5
E. 4 dan 5

23. Sumber-sumber penerimaan pemerintah pusat dan pemerintah daerah diperoleh dari

1. pajak penjualan atas barang mewah (PPnBM)
2. pajak tontonan
3. pajak pertambahan nilai (PPN)
4. pajak bumi dan bangunan (PBB)
5. pajak kendaraan bermotor (PKB)
6. pajak penghasilan (PPH)

Jenis-jenis pajak yang termasuk penerimaan pemerintah pusat adalah ...

- A. 1, 2, dan 3
B. 1, 3, dan 6
C. 2, 4, dan 6
D. 3, 4, dan 5
E. 2, 5 dan 6

24. Daftar fungsi dan manfaat pasar:

- 1) Menambah nilai investasi berkembang mengikuti pertumbuhan ekonomi dalam capital gain
- 2) Dapat menghimpun dana dalam jumlah besar
- 3) Dapat memperoleh dividen bagi mereka yang memiliki/memegang saham dan bunga yang mengambang bagi pemenang obligasi
- 4) Sebagai sarana penciptaan tenaga kerja
- 5) Sebagai sarana peningkatan pendapatan negara

Yang merupakan manfaat pasar modal adalah ...

- A. 1, 2, dan 3
B. 1, 2, dan 4
C. 1, 3, dan 4
D. 2, 3, dan 4
E. 2, 4, dan 5

25. Berikut ini komponen neraca pembayaran :

1. Hasil dari luar negeri
2. pinjaman dari luar negeri
3. impor barang dari luar negeri
4. gaji tenaga kerja di luar negeri
5. ekspor barang ke luar negeri

Yang termasuk unsur neraca perdagangan adalah

- A . 1 dan 2 C. 2 dan 3 E. 3 dan 5
 B . 1 dan 3 D. 2 dan 4

26. Biro jasa Anglingdarma mempunyai transaksi berikut ini

- 1) Dibayar gaji karyawan Rp1.000.000,00
- 2) Dibeli dari Toko Astina, peralatan kantor Rp7.000.000,00 diantaranya Rp2.000.000,00 dibayar tunai sisanya kredit
- 3) Diterima pelunasan dari pelanggan kredit atas jasa yang telah diberikan bulan lalu Rp3.000.000,00
- 4) Dibeli perlengkapan kantor dengan tunai sebesar Rp500.000,00
- 5) Dibayar kepada toko Astina pembelian peralatan sebulan yang lalu Rp1.000.000,00

Transaksi di atas dicatat dalam persamaan Akuntansi berikut ini:

No.	Kas	Piutang	Perlengkapan	Peralatan	Utang	Modal	Keterangan
1.	(1.000.000)					(1.000.000)	Beban gaji
2.	(2.000.000)			7.000.000	5.000.000		
3.	3.000.000					(3.000.000)	Pendapatan
4.	(500.000)		500.000				
5.	(1.000.000)					(1.000.000)	

Pencatatan yang tepat terdapat pada nomor... .

- A. 1, 2, 3
- B. 1, 2, 4
- C. 2, 3, 4
- D. 2, 4, 5
- E. 3, 4, 5

27. Service motor "Aladin" telah menyelesaikan service motor Pak Hafis dengan ongkos service Rp 600.000,00. Dari jumlah tersebut diterima Rp. 400.000,00 dan sisanya akan dibayar satu bulan kemudian.

Transaksi di atas akan dicatat dalam jurnal umum oleh service motor "Aladin" sebagai berikut...

- A. Kas Rp400.000,00
 Piutang Usaha Rp200.000,00
 Pendapatan Jasa Rp600.000,00
- B. Kas Rp400.000,00
 Pendapatan Jasa Rp200.000,00
 Utang Usaha Rp600.000,00

C.	Pendapatan Jasa	Rp600.000,00
	Kas	Rp400.000,00
	Piutang Usaha	Rp200.000,00
D.	Pendapatan Jasa	Rp600.000,00
	Kas	Rp200.000,00
	Piutang Usaha	Rp400.000,00
E.	Kas	Rp400.000,00
	Utang Usaha	Rp200.000,00
	Pendapatan Jasa	Rp600.000,00

28. Sebagian Jurnal Umum yang dibuat "Salon Devi" bulan Nopember 2013 sebagai berikut:

Tgl		Keterangan	Ref	D	K
2013 Nop.	3	Kas	101	800.000	
		Pendapatan salon	401		800.000
	7	Beban listrik	512	300.000	
		Kas	101		300.000
	12	Kas	101	1.000.000	
		Utang usaha	201		1.000.000

Data saldo per 1 Nopember 2013 adalah sebagai berikut:

- Kas Rp6.700.000,00
- Utang usaha Rp3.400.000,00

Berdasarkan data di atas, posting ke buku besar yang benar adalah...

A. Kas

No. 101

Tgl		Uraian	Ref	D	K	Saldo	
						D	K
2013 Nop	1	Saldo	√			6.700.000	
	3		JU02	800.000		5.900.000	
	7		JU02		300.000	5.600.000	
	12		JU02	1.000.000		6.600.000	

B. .Kas

No. 101

Tgl		Uraian	Ref	D	K	Saldo	
						D	K
2013 Nop	1	Saldo	√			6.700.000	
	3		JU02	800.000		7.500.000	
	7		JU02		300.000	7.200.000	
	12		JU02	1.000.000		8.200.000	

C. Utang Usaha

No. 201

Tgl		Uraian	Ref	D	K	Saldo	
						D	K
2013 Nop	1	Saldo	√				3.400.000
	12		JU02		1.000.000		1.000.000

D. Utang Usaha

No. 201

Tgl		Uraian	Ref	D	K	Saldo	
						D	K
2013 Nop	1 12	Saldo	√ JU02		1.000.000	3.400.000 2.400.000	

E. Pendapatan Salon

No. 401

Tgl		Uraian	Ref	D	K	Saldo	
						D	K
2013 Nop	12		JU02	800.000		800.000	

29. Pada tanggal 1 September 2013 dibayar biaya pemasangan iklan pada majalah Javira Rp7.500.000,00 untuk 10 kali terbit dan dicatat pada akun beban iklan. Sampai dengan tanggal 31 Desember 2013, iklan yang sudah diterbitkan 6 kali.

Jurnal penyesuaian yang tepat adalah

- A. Iklan di bayar di muka Rp3.000.000,00
Biaya Iklan Rp3.000.000,00
- B. Iklan di bayar di muka Rp4.500.000,00
Biaya iklan Rp4.500.000,00
- C. Biaya Iklan Rp3.000.000,00
Biaya Iklan di bayar di muka Rp3.000.000,00
- D. Biaya Iklan Rp4.500.000,00
Iklan dibayar di muka Rp4.500.000,00
- E. Biaya Iklan Rp7.500.000,00
Iklan dibayar di muka Rp7.500.000,00
30. Perhatikan data berikut
Neraca saldo "Salon Dewi" sebagian
(dalam ribuan rupiah)

NO	NamaRekening	Debet	Kredit
101	Kas	20.000	
102	Asuransi dibayar di muka	24.000	
103	Perlengkapan	5.000	
111	Peralatan	50.000	
301	Modal		100.000
302	Prive	1.000	

Data penyesuaian per 31 Desember 2013

- Asuransi di bayar per 1 April untuk satu tahun
- Perlengkapan tersisa Rp 3.000.000,00
- Penarikan kas oleh pemilik untuk keperluan pribadinya sebesarRp 300.000,00 belum dibukukan.

Berdasarkan neraca saldo sebagian dan data penyesuaian, penyelesaian kertas kerja

No	NamaAkun	NeracaSaldo		Penyesuaian		NSD	
		Debet	Kredit	Debet	Kredit	Debet	Kredit
101	Kas	20.000	-		3.000	17.000	
102	Asuransidibayar di muka	24.000	-		6.000	18.000	
103	Perlengkapan	5.000	-		2.000	3.000	
111	Peralatan	50.000	-			50.000	
301	Modal	-	100.000				100.000
302	Prive	1.000	-	3.000		4.000	
501	Beban Asuransi	-	-	6.000		6.000	
502	Beban perlengkapan	-	-	2.000		2.000	

Penyelesaian kertas kerja sebagian yang benar adalah....

- A. 101, 102, 103 dan 111 C. 102, 111, 301 dan 302 E. 103, 111, 301 dan 502
 B. 102, 103, 111 dan 301 D. 103, 111, 301 dan 501

31. UD Abdiena mempunyai data keuangan sebagai berikut :

- Pendapatan jasa Rp 23.000.000,00
- Modal Awal Rp. 100.000.000,00
- Modal akhir Rp 110.400.000,00
- Beban gaji Rp 7.000.000,00
- Beban listrik Rp 4.000.000,00
- Beban lain-lain Rp 600.000,00

Berdasarkan data di atas, besarnya pengambilan prive adalah

- A. Rp 1.800.000,00 C. Rp 1.100.000,00 E. Rp 1.000.000.,00
 B. Rp 1.400.000,00 D. Rp 1.040.000.00

31. Perhatikan bukti transaksi di bawah ini,

PD. KARIB Jln. Cilincing Raya No. 30 Jakarta	Jakarta, 03 April 2013 Toko Ravi Jln. Peta Barat No. 5 Kalideres Jakarta		
FAKTUR NO. 030			
Nomor	Nama Barang	Harga Satuan	Jumlah
1	3 unit Laptop	Rp. 3.000.000,00	Rp. 9.000.000,00
2	3 unit Printer	Rp. 500.000,00	Rp. 1.500.000,00
	Jumlah		Rp. 10.500.000,00
Penjual Bambang			

Dari bukti transaksi di atas pencatatan ke dalam jurnal khusus oleh Toko Ravi adalah....

A. Jurnal Pembelian

Tgl	Keterangan	Debet		Kredit	
		Pembelian	Serba-serbi		Utang Dagang
	Nama Akun		Jumlah		
3/4	PD Karib	10.500.000			10.500.000

B. Jurnal Pembelian

Tgl	Keterangan	Debet			Kredit
		Pembelian	Serba-serbi		Utang Dagang
			Nama Akun	Jumlah	
3/4	PD Karib		Peralatan Kantor	10.500.000	10.500.000

C. Jurnal pembelian

Tgl	Keterangan	Debet			Kredit
		Pembelian	Serba-serbi		Utang Dagang
			Nama Akun	Jumlah	
3/4	PD Ravi	10.500.000			10.500.000

D. Jurnal Pembelian

Tgl	Keterangan	Syarat	Jumlah
4/3	PD Ravi	2/10, n/30	10.500.000

E. Jurnal Pembelian

Tgl	Keterangan	Syarat	Jumlah
3/4	PD Ravi	2/10, n/30	1.500.000

32. UD Rifdah mempunyai data keuangan sebagai berikut:

■ Penjualan	Rp 70.000.000,00
■ Potongan penjualan	Rp 4.000.000,00
■ Retur penjualan	Rp 4.500.000,00
■ Pembelian	Rp 50.000.000,00
■ Potongan pembelian	Rp 2.000.000,00
■ Retur pembelian	Rp 2.500.000,00
■ Persediaan awal	Rp 20.000.000,00
■ Persediaan akhir	Rp 25.000.000,00
■ Beban angkut pembelian	Rp 4.000.000,00
■ Beban angkut penjualan	Rp 5.000.000,00

Berdasarkan data di atas, maka Harga Pokok Penjualan (HPP) adalah

- A. Rp74.500.000,00 C. Rp 54.000.000,00 E. Rp 44.500.000,00
 B. Rp 69.500.000,00 D. Rp 49.500.000,00

32. Berikut ini data Neraca Saldo sebagian per 31 Desember 2013:

1. Kas	Rp3.000.000,00
2. Perlengkapan	Rp800.000,00
3. Utang dagang	Rp1.000.000,00
4. Asuransi DiBayar Dimuka	Rp1.200.000,00

Data Penyesuaian per 31 Desember 2013

- Perlengkapan yang masih ada Rp600.000,00
- Asuransi dibayar pada tanggal 3 September 2013 untuk 1 tahun.

Maka jurnal penyesuaian yang benar adalah....

- A. Beban Perlengkapan Rp200.000,00
Perlengkapan Rp200.000,00
- B. Beban Perlengkapan Rp600.000,00
Perlengkapan Rp600.000,00
- C. Beban Perlengkapan Rp800.000,00
Perlengkapan Rp800.000,00
- D. Beban Asuransi Rp1.200.000,00
Asuransi Dibayar Dimuka Rp1.200.000,00
- E. Beban Asuransi Rp800.000,00
Asuransi Dibayar Dimuka Rp800.000,00

33. Kertas kerja sebagian yang dibuat oleh PD Ravina per 31 Desember 2013

(dalam ribuan rupiah)

No	Nama Akun	Naraca Saldo		Jurnal Peny		NSD		Laba Rugi		Neraca	
		D	K	D	K	D	K	D	K	D	K
1	Perlengkapan	1.600	-	-	1.000	600	-	-	-	600	-
2	Pembelian	1.000	-	-	-	1.000	-	1.000	-	-	-
3	Beban sewa	1.200	-	200	-	1.400	-	1.400	-	-	-
4	Penjualan		3.500	-	-	-	3.500	-	-	-	3.500
5	Beban gaji	1.800	-	1.200	-	600	-	600	-	-	-

Penyelesaian Kertas kerja di atas yang benar adalah nomor....

- A. 1, 2, dan 3
- B. 1, 2, dan 4
- C. 2, 3, dan 4
- D. 2, 4, dan 5
- E. 3, 4, dan 5

34. Berikut ini disajikan data suatu perusahaan dagang yang terdapat pada kertas kerja

- Persediaan awal Rp50.385.000,00
- Persediaan akhir Rp27.367.000,00
- Penjualan bersih Rp62.800.000,00
- Beban usaha Rp4.000.000,00
- Beban di luar usaha Rp250.000,00
- Pendapatan di luar usaha Rp1.700.000,00
- Harga pokok penjualan Rp42.600.000,00

Berdasarkan data diatas, Berapa besar laba bersih perusahaan... .

- A. Rp15.800.000,00
- B. Rp16.650.000,00
- C. Rp17.250.000,00
- D. Rp20.200.000,00
- E. Rp21.900.000,00

35. Sebagai seorang pemilik perusahaan, Ibu Yuni berusaha meningkatkan kualitas perusahaannya. Untuk keperluan tersebut, beliau menata kembali posisi dan jabatan para karyawan, memberikan berbagai pelatihan pengembangan diri, dan melakukan promosi jabatan untuk yang berprestasi.

Kegiatan yang dilakukan Ibu Yuni merupakan pelaksanaan manajemen bidang... .

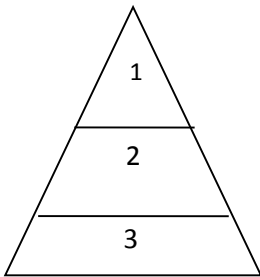
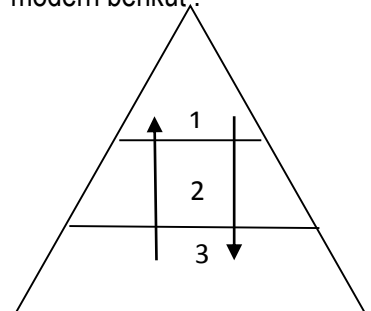
- A. Pemasaran
- B. Produksi
- C. personalia
- D. keuangan
- E. administrasi

36. Perhatikan ciri-ciri BUMN berikut ini
1. Makna usahanya adalah public service
 2. Pegawainya adalah pegawai perusahaan Negara
 3. makna usahanya adalah memupuk keuntungan
 4. status hukumnya sebagai badan hukum perdata berbentuk PT
 5. pada umumnya bergerak di bidang yang vital/penting
 6. dipimpin oleh seorang kepala
- Berdasarkan ciri-ciri diatas, yang merupakan ciri persero adalah....
- A. 1 dan 2
B. 1 dan 3
C. 2 dan 4
D. 3 dan 4
E. 5 dan 6
39. Koperasi "Dana Utama" pada akhir periode akuntansi memperoleh SHU sebesar Rp 30.000.000,00 dengan pembagian SHU sebagai berikut:
- 20% Jasa modal
 - 20% Jasa penjualan
 - 15% Dana cadangan
 - 15% Jasa pengurus
 - 10% Jasa pengurus
 - 10% Jasa pegawai
 - 10% Dana sosial
- Jumlah simpanan pokok anggota Rp 5.000.000,00, jumlah simpanan wajib anggota Rp 25.000.000,00. Jumlah omset penjualan seluruh anggota Rp 48.000.000,00. Jika Pak Gala sebagai anggota mempunyai simpanan seluruhnya Rp 1.500.000,00, serta partisipasi berbelanja selama 1 tahun sebesar Rp 2.000.000,00. Besar SHU yang diterima oleh Pak Gala adalah ...
- A. Rp 550.000,00
B. Rp. 500.000,00
C. Rp. 495.000,00
D. Rp. 450.000,00
E. Rp 438.000,00
40. Berikut ini adalah hal – hal yang berkaitan dengan kewirausahaan, yaitu :
- 1) Mampu menjaga kualitas produksi
 - 2) Mampu menciptakan produk yang inovatif
 - 3) Mampu memilih tempat yang mahal dan strategis
 - 4) Percaya diri
 - 5) Mampu mengelola modal yang besar
- Kemampuan yang harus dimiliki seorang wirausaha agar menjadi sukses adalah
- A. 1, 2, dan 3
B. 1, 2, dan 4
C. 2, 3, dan 4
D. 2, 4, dan 5
E. 3, 4, dan 5

Petunjuk:

Pilih satu jawaban yang benar

1. Ilmu sosiologi dalam mengkaji peristiwa tidak mencari baik buruknya suatu fakta, tetapi menjelaskan fakta peristiwa tersebut secara analitis. Dalam hal ini menunjukkan bahwa sosiologi bersifat....
 - A. sistematis
 - B. kumulatif
 - C. kategoris
 - D. non-etis
 - E. normatif
2. Akhir-akhir ini di Indonesia sangat rentan dengan masalah konflik horizontal antarkelompok sosial dengan berbagai latar belakang permasalahan. Sosiologi dalam hal ini berfungsi dalam hal....
 - A. pembentukan kelompok sosial
 - B. melakukan penelitian ilmiah
 - C. membangun kesadaran kolektif
 - D. membina berkonflik sosial
 - E. membantu proses interaksi
3. Perhatikan beberapapa interaksi sosial berikut!
 - (1) Buruh menuntut kenaikan upah minimal
 - (2) Membantu teman menyelesaikan tugas
 - (3) Mencurigai orang sebagai pelaku kejahatan
 - (4) Siswa bersama-sama membersihkan kelasInteraksi sosial di atas yang menunjukkan sifat *dissosiatif* adalah....
 - A. (1) dan (2)
 - B. (1) dan (3)
 - C. (2) dan (3)
 - D. (2) dan (4)
 - E. (3) dan (4)
4. Para siswa secara spontan mengumpulkan sumbangan untuk membantu korban bencana alam. Sikap siswa itu didorong oleh faktor
 - A. motivasi
 - B. imitasi
 - C. identifikasi
 - D. sugesti
 - E. empati
5. Begitu melihat ada seorang nenek akan menyeberang jalan, segera ia menggandeng tangan nenek itu hingga bisa menyeberang jalan. Tindakan tersebut didasari nilai
 - A. kegiatan/vital
 - B. kebendaan/materi
 - C. keindahan/seni
 - D. kebaikan/moral
 - E. kebenaran/ilmu
6. Perhatikan beberapa gejala sosial berikut!
 - (1) Mengarahkan anggota masyarakat dalam berperilaku
 - (2) Membatasi perilaku agar tidak menyimpang
 - (3) Memberikan pilihan menentukan baik dan benar
 - (4) Membentuk pola-pola perilaku umumYang termasuk fungsi norma sosial di masyarakat adalah
 - A. (1) dan (2)
 - B. (1) dan (3)
 - C. (2) dan (3)
 - D. (2) dan (4)
 - E. (3) dan (4)
7. Norma (nama samaran) senang duduk di teras rumah dengan mengangkat kaki dan tidak merasa risih meskipun dilihat orang yang berlalu lalang. Menurut sumbernya, perilaku Norma melanggar aturan yang berkaitan dengan....
 - A. Estetika
 - B. Etika
 - C. Hukum
 - D. Cara
 - E. Budaya
8. Beberapa aktivitas sosial di masyarkat:
 - (1) Mengajari anak tentang cara mengurus pakaian harian sendiri
 - (2) Menonton acara televisi yang menayangkan artis idolanya
 - (3) Belajar tambahan di lembaga bimbingan belajar untuk siswa

- (4) Melatih anak sendiri untuk bekerja meneruskan usaha orang tua
Yang termasuk aktivitas sosialisasi *sekunder* adalah
- (1) dan (2)
 - (1) dan (3)
 - (2) dan (3)
 - (2) dan (4)
 - (3) dan (4)
9. Agar anak tidak terlalu gagap dengan kehidupan yang modern maka ia dapat belajar tentang mode pergaulan yang sesuai dengan zamannya. Media sosialisasi yang diharapkan berperan untuk membentuk kepribadian tersebut adalah
- lembaga sekolah
 - kelompok sebaya
 - keluarga inti
 - tempat kerja
 - lembaga agama
10. Imitasi menjadi kuat saat seorang anak belajar tatanan sosial pada orang tuanya. Perilaku orang tua direspon oleh anak yang diwujudkan dalam bentuk perilaku positif atau sebaliknya justru yang negatif. Kenyataan tersebut membuktikan adanya hubungan antara kepribadian individu yang dibentuk melalui proses sosialisasi dengan
- warisan biologis
 - lingkungan budaya
 - lingkungan sosial
 - lingkungan fisik
 - kemajuan ilmu pengetahuan
11. Pada akhir-akhir ini sering terdengar adanya kasus kriminal yang berupa korupsi dan pencucian uang. Contoh kasus tersebut menunjukkan, bahwa terjadinya perilaku menyimpang disebabkan oleh proses sosialisasi
- media massa
 - lembaga formal
 - sarana publik
 - lingkungan kerja
 - sub-budaya
12. Teroris menjadi musuh utama masyarakat karena sangat merugikan kehidupan sosial. Berdasarkan sikap masyarakat, perilaku tersebut digolongkan sebagai perilaku menyimpang
- kolektif
 - primer
 - sekunder
 - anarkhis
 - anomie
13. Adik yang masih duduk di bangku SD selalu ditegur ibu jika malas belajar. Contoh kasus tersebut terdapat upaya pengendalian sosial yang bersifat
- represif
 - protektif
 - preventif
 - persuasif
 - koersif
14. Perilaku kriminal akhir-akhir ini merambah kepada oknum siswa seperti pengeroyokan terhadap pelajar lain. Lembaga pengendalian sosial formal yang berfungsi efektif untuk menangani perilaku menyimpang tersebut adalah
- kepolisian dan sekolah
 - keagamaan dan ekonomi
 - keluarga inti dan kejaksaan
 - pendidikan dan ekonomi
 - keagamaan dan pendidikan
15. Gambar struktur sosial :
- 
- Keterangan :
- Raja dan keluarganya
 - Priyayi atau pegawai kerajaan
 - Petani dan rakyat biasa
- Pelapisan sosial pada gambar tersebut mempunyai ciri yaitu
- jumlah petani yang sedikit
 - tidak terjadi mobilitas sosial
 - pengalaman di anggota kelompok
 - adanya struktur kekuasaan tradisional
 - jumlah kaum bangsawan cukup banyak
16. Perhatikan struktur sosial pada masyarakat modern berikut !
- 

- Keterangan :
1. Presiden
 2. Menteri
 3. Gubernur

Gambar di atas dapat disimpulkan bahwa yang menjadi dasar pelapisan sosial adalah...

- A. kriteria keahlian
- B. faktor keturunan
- C. kematangan pribadi
- D. derajat kekuasaan
- E. tingkat kekayaan

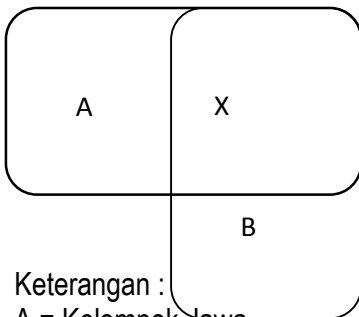
17. Perhatikan atribut sosial berikut ini yaitu:

- (1) Perbedaan agama/keyakinan
- (2) Perbedaan suku bangsa
- (3) Perbedaan kemampuan
- (4) Perbedaan jabatan

Atribut sosial yang menunjukkan kesamaan derajat (horizontal) adalah

- A. (1) dan (2)
- B. (1) dan (3)
- C. (2) dan (3)
- D. (2) dan (4)
- E. (3) dan (4)

18. Perhatikan skema struktur sosial majemuk di bawah ini!



Keterangan :

- A = Kelompok Jawa
 B = Kelompok Sunda
 X = Guru

Komunitas majemuk pada gambar tersebut mempunyai potensi integrasi dengan parameter

- A. pekerjaan dan suku
- B. suku dan daerah
- C. agama dan suku
- D. suku dan ciri ras
- E. ciri ras dan pekerjaan

19. Perhatikan kasus dibawah ini!

- (1) Perebutan harta warisan antara beberapa ahli waris

- (2) Buruh yang menuntut kenaikan upah minimal
- (3) Pasangan suami istri yang bertengkar ada masalah
- (4) Perbedaan pendapat antara gubernur dengan bupati

Dari kasus diatas, terlihat adanya konflik yang bersifat horizontal yaitu....

- A. (1) dan (2)
- B. (1) dan (3)
- C. (2) dan (3)
- D. (2) dan (4)
- E. (3) dan (4)

20. Proses penyelesaian konflik antara pihak pengembang perumahan dengan konsumen dilakukan dengan cara saling menurunkan tuntutan. Penyelesaian konflik seperti ini berbentuk.....

- A. adjudikasi
- B. arbitrase
- C. mediasi
- D. kompromi
- E. koersi

21. Siswa yang rajin belajar dan sungguh-sungguh akhirnya lulus dengan nilai yang tinggi dan menjadi lulusan terbaik . Mobilitas sosial pada contoh tersebut bersifat...

- A. vertikal naik
- B. vertikal turun
- C. intragenerasi
- D. intragenerasi
- E. horizontal

22. Perhatikan beberapa faktor sosial berikut!

- (1) Kesetiaan terhadap tradisi masyarakat sangat kuat
- (2) Sistem sosial masyarakat lebih terbuka/demokratis
- (3) Pelapisan sosial dalam masyarakat masih tertutup
- (4) Pengendalian sosial dalam masyarakat berkurang

Yang menghambat mobilitas sosial vertikal adalah

- A. (1) dan (2)
- B. (1) dan (3)
- C. (2) dan (3)
- D. (2) dan (4)
- E. (3) dan (4)

23. Setelah lulus sarjana, seseorang kemudian melamar kerja dan diterima sebagai pegawai di kantor. Contoh mobilitas vertikal tersebut menggunakan saluran
- lembaga agama
 - organisasi sosial
 - lembaga ekonomi
 - lembaga pendidikan
 - angkatan bersenjata
24. Kasus perubahan pimpinan sering kali tidak berjalan dengan lancar bahkan kemungkinan bisa menjadi konflik sosial. Jenis konflik yang terjadi adalah....
- vertikal
 - horizontal
 - budaya
 - wilayah
 - internal
25. Konflik antara Indonesia dengan Malaysia berkaitan dengan pengakuan seni Reog sebagai kekayaan asli Malaysia dilatarbelakangi oleh faktor....
- budaya
 - kekayaan
 - pendidikan
 - politik
 - ekonomi
26. Keanekaragaman suku bangsa dalam masyarakat Indonesia ditandai dengan perbedaan ciri sosial budaya. Jika ditelusuri, faktor penyebab timbulnya kemajemukan tersebut adalah fakta sosiologis di masa lalu, yaitu
- adanya isolasi sosial geografis
 - letak atau posisi wilayah yang strategis
 - iklim dan struktur tanah di Indonesia
 - kekayaan sumber daya atau kekayaan alam
 - hubungan perdagangan dan penjajahan antarbangsa
27. Perhatikan gejala sosial berikut ini!
- Interaksi sosial berlangsung secara informal dan intim
 - Kesetiakawanan sosial antarindividu cukup tinggi
 - Sistem pembagian kerja cukup jelas dan tetap
 - Hubungan sosial berorientasi keuntungan ekonomi
- Yang terdapat pada kelompok sosial *paguyuban* adalah
- (1) dan (2)
 - (1) dan (3)
 - (2) dan (3)
 - (2) dan (4)
 - (3) dan (4)
28. Meskipun berpenduduk sangat besar secara kuantitas, perekonomian di Indonesia masih dipegang oleh beberapa kelompok elit pengusaha tertentu. Konfigurasi sosial ekonomi tersebut berbentuk
- pola fragmentasi
 - minoritas dominan
 - mayoritas dominan
 - kompetisi seimbang
 - komposisi penduduk
29. Para dokter membentuk wadah Ikatan Dokter Indonesia (IDI) untuk memekspresikan aspirasi dalam bidang pekerjaannya. Faktor yang dapat mempersatukan kelompok sosial tersebut adalah adanya ikatan....
- ekonomi
 - kekerabatan
 - ideologi
 - primordial
 - profesi
30. Konflik horizontal di antara kelompok masyarakat yang terjadi pada beberapa wilayah di Indonesia relatif sulit diatasi. Secara sosiologis, konflik tersebut dapat diminimalisir dengan mengedepankan sikap
- anarkhis
 - eksklusif
 - ekstremis
 - toleran
 - primordial
31. Pemanfaatan pesawat terbang yang menjadi alat transportasi canggih merupakan hasil dari sebuah eksperimen dalam dunia ilmu pengetahuan. Penyempurnaan hasil penemuan menjadi dasar penyempurnaan hasil penemuan berikutnya. Pola perubahan seperti itu nampak berlangsung secara....
- siklikal
 - regress
 - revolusi
 - evolusi
 - radikal

32. Penemuan baru dalam bidang komputer menimbulkan pengaruh pada bidang-bidang lainnya dan dapat mengubah sendi-sendi kehidupan masyarakat secara cepat. Berkaitan prosesnya, perubahan tersebut tergolong....
- bersifat maju
 - dapat diterima
 - direncanakan
 - berlangsung cepat
 - sangat dikehendaki
33. Komisi Pemberantasan Korupsi (KPK) menjadi dambaan masyarakat dalam mengendalikan tata kelola pemerintahan. Keberadaan lembaga tersebut merupakan dampak positif dari
- westernisasi
 - industrialisasi
 - demokratisasi
 - sekularisasi
 - hedonisasi
34. Perhatikan penyebab perubahan sosial berikut ini!
- Pertambahan penduduk yang tidak terkendali
 - Kebutuhan hidup masyarakat yang terus meningkat
 - Perubahan gaya hidup akibat pengaruh globalisasi
 - Penemuan teknologi yang dilakukan para ahli luar negeri
35. Faktor internal yang menyebabkan masyarakat Indonesia melakukan perubahan sosial dari tradisional menjadi masyarakat modern di segala bidang kehidupan adalah
- (1) dan (2)
 - (1) dan (3)
 - (2) dan (3)
 - (2) dan (4)
 - (3) dan (4)
36. Beberapa faktor yang mempengaruhi perubahan sosial:
- Sikap masyarakat yang terbuka terhadap pembaruan
 - Sistem stratifikasi/pelapisan sosial yang bersifat terbuka
 - Sistem sosial dalam masyarakat yang masih feodalis
 - Kepentingan untuk bertahan pada jabatan (*vested interest*)
- Faktor yang menghambat perubahan sosial adalah
- (1) dan (2)
 - (1) dan (3)
 - (2) dan (3)
 - (2) dan (4)
 - (3) dan (4)
37. Banyak informasi yang diperoleh dari internet untuk mendukung proses belajar di sekolah. Tetapi ternyata di samping itu, banyak kasus kejahatan seksual bermula dari pengenalan pornografi yang sangat mudah diakses di dunia maya. Kondisi tersebut menunjukkan adanya dampak negatif dari
- westernisasi
 - sekularisasi
 - globalisasi
 - hedonisasi
 - mekanisasi
38. Masyarakat membentuk banyak lembaga sosial, ekonomi, dan politik untuk mengatur kegiatan bersama dalam usaha memenuhi kebutuhan hidup guna mempertahankan kelangsungan hidupnya. Bagi masyarakat, fungsi dasar pembentukan lembaga tersebut adalah
- mendorong perubahan sosial dalam masyarakat
 - mengatur aktivitas manusia dalam masyarakat
 - menyesuaikan dengan perkembangan zaman
 - meningkatkan solidaritas sosial masyarakat
 - memenuhi kebutuhan khusus masyarakat
39. Perhatikan pernyataan berikut!
- Berfungsi mengatur kegiatan masyarakat dalam memenuhi kebutuhan khusus
 - Berumur panjang melebihi usia individu yang membentuknya (*superorganism*)
 - Memiliki alat kelengkapan yang berupa tulisan untuk mencapai tujuan
 - Memiliki sejumlah anggota yang solid dan mematuhi aturan tertentu
- Pernyataan yang menunjukkan ciri-ciri lembaga sosial adalah
- (1) dan (2)
 - (1) dan (3)
 - (2) dan (3)
 - (2) dan (4)
 - (3) dan (4)

40. Setelah kedua anak dari keluarga yang berbeda sudah saling cocok dan mencintai maka disepakati untuk segera mengikat janji untuk berkeluarga. Upaya orang tua tersebut dalam rangka menjalankan fungsi
- afeksi
 - ekonomi
 - sosialisasi
 - reproduksi
 - proteksi
41. Agar dalam kehidupan bermasyarakat tidak terjadi kekacauan maka perlu diangkat seorang pemimpin yang dapat mengarahkan dan melindungi anggotanya. Lembaga sosial yang dimaksud adalah berdasar kepentingan....
- agama
 - ekonomi
 - politik
 - sekolah
 - hukum
42. Syarat topik yang baik untuk dipilih menjadi judul penelitian diantaranya adalah mampu dilaksanakan. Syarat tersebut dimaksudkan agar kegiatan penelitian
- dapat dilaksanakan dan selesai tepat waktu
 - berguna bagi diri peneliti dan masyarakat
 - terjangkau dari segi tempat dan pembiayaan
 - menjadi bahan acuan bagi penelitian lanjutan
 - tidak menyamai topik yang digunakan orang lain
43. Sebagai tugas akhir mata pelajaran sosiologi, para siswa mengumpulkan data dengan cara melakukan pengamatan dan mewawancarai teman sekelas tentang sikapnya terhadap kebersihan kelas. Dilihat dari tempat penelitiannya, jenis penelitian tersebut tergolong penelitian....
- kepuustakaan
 - laboratorium
 - lapangan
 - eksperimen
 - studi kasus
44. Suatu penelitian dengan mengambil topik pengaruh belajar kelompok dan bimbingan terpadu terhadap peningkatan prestasi siswa. Prestasi siswa dalam hal ini merupakan....
- capaian hasil
 - prestasi belajar
 - variabel bebas
 - variabel terikat
 - data internal
45. Peneliti mewawancarai beberapa orang yang menjadi korban banjir beberapa waktu lalu di Jakarta untuk memperoleh data dalam penelitiannya. Berdasarkan cara memperolehnya, data tersebut tergolong jenis....
- internal
 - eksternal
 - kualitatif
 - sekunder
 - primer
46. Penelitian tentang aktivitas dan prestasi non akademik remaja dengan memperhatikan faktor kiproahnya dalam pelestarian budaya daerahnya. Sampel penelitian yang cocok untuk dipilih yaitu dengan menggunakan teknik....
- wilayah (area sampling)
 - peluang random sampling)
 - kelompok (cluster sampling)
 - bertingkat (stratified sampling)
 - berimbang (proportion sampling)
47. Penelitian akan dilakukan pada masyarakat baduy (Banten) yang hidup mengasingkan diri dan menolak kehidupan modern. Teknik pengumpulan data yang cocok dalam penelitian tersebut adalah....
- observasi dan kuesioner
 - interview dan observasi
 - interview dan kuesioner
 - kuesioner dan dokumentasi
 - dokumentasi dan observasi
48. Kelebihan teknik pengumpulan data yaitu:
- Mampu menjangkau populasi yang banyak dalam waktu singkat
 - Tidak memerlukan pertemuan secara langsung dengan responden
 - Mampu memperoleh data yang lebih rinci dan bersifat privasi
 - Peristiwa yang terjadi dapat direkam secara keseluruhan
- Kelebihan dari metode kuesioner adalah....
- (1) dan (2)
 - (1) dan (3)
 - (2) dan (3)
 - (2) dan (4)
 - (3) dan (4)

49. Perhatikan tabel berikut!
DATA HASIL PANEN KEDELAI DI SUATU DAERAH

BULAN	JUMLAH PANEN (dalam ton)	JUMLAH KONSUMSI (dalam ton)
Januari	12,5	16,8
Pebruari	18,1	15,2
Maret	15,7	12,3
April	18,3	16,9
Mei	17,2	15,6
Juni	18,6	17,2

(Sumber: pribadi)

Dari tabel diatas, dapat disimpulkan bahwa pada bulan....

- A. April terjadi jumlah panen tertinggi
 - B. Januari terjadi konsumsi tertinggi
 - C. Pebruari terjadi surplus tertinggi
 - D. Mei terjadi kekurangan kedelai
 - E. Maret dibutuhkan kedelai terbanyak
50. Sistematika penulisan dari laporan hasil penelitian adalah:
- (1) Daftar isi
 - (2) Daftar pustaka
 - (3) Pembahasan
 - (4) Kesimpulan
- Yang menjadi bagian pendahuluan dalam sistematika penulisan laporan adalah....
- A. (1) dan (2)
 - B. (1) dan (3)
 - C. (2) dan (3)
 - D. (2) dan (4)
 - E. (3) dan (4)

Petunjuk:

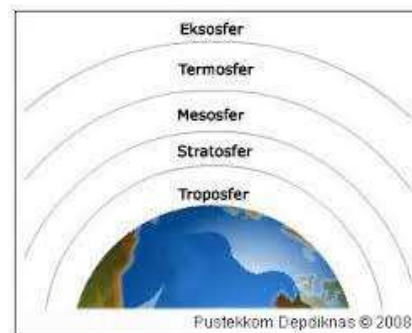
Pilih satu jawaban yang benar

1. Wilayah sekitar gunung api umumnya tanahnya sangat subur, hal ini berkaitan gunung api banyak mengeluarkan abu vulkanik yang kaya akan unsur hara, dalam kajian Geografi termasuk dalam prinsip....
 - A. distribusi
 - B. interelasi
 - C. korologi
 - D. deskripsi
 - E. interdependensi
2. Penebangan hutan di daerah Pasaman Barat, Sumatera Barat telah mengakibatkan bencana berupa tanah longsor dan banjir bah. Banyak lahan sawah dan pertanian rusak termasuk ternak dan hewan. Untuk memahami masalah tersebut tepat menggunakan pendekatan....
 - A. keruangan
 - B. ekologi
 - C. terpadu
 - D. kelompok
 - E. kompleks wilayah
3. Aspek yang digunakan dalam pendekatan objek formal geografi adalah....
 - A. penyebaran, keruangan, dan kewilayahan
 - B. luas wilayah, kepadatan, dan kelingkungan
 - C. keruangan, kompleks wilayah, dan ekologi
 - D. pendapatan, lingkungan, dan keruangan
 - E. bentuk, luas wilayah, dan keruangan
4. Daerah aliran sungai dengan arus yang besar, banyak dimanfaatkan orang yang memiliki hobi arung jeram. Pernyataan ini dapat dikaitkan dengan konsep geografi, yaitu konsep....
 - A. lokasi
 - B. aglomerasi
 - C. nilai kegunaan
 - D. morfologi
 - E. diferensiasi areal
5. Gejala geosfer:
 - (1) terjadinya perubahan musim
 - (2) terjadinya banjir dan tanah longsor
 - (3) terjadinya gempa bumi
 - (4) terjadinya perubahan penduduk, serta
 - (5) bertambah luasnya permukiman.Aspek fisik geografi adalah nomor....
 - A. 1,2, dan 3
 - B. 1,4 dan 5
 - C. 1,2, dan 5
 - D. 2,3, dan 4
 - E. 3,4, dan 5
6. Pernyataan:
 - (1) Daerah greenland menjauhi Eropa
 - (2) Pulau Madagaskar menjauhi Afrika Selatan
 - (3) Adanya kegiatan seismik di Patahan San AndreasBukti pergerakan lempeng tektonik tersebut berdasarkan teori....
 - A. Kontraksi
 - B. Dua Benua
 - C. Apungan Benua
 - D. Konveksi
 - E. Lempeng Tektonik
7. Tumbukan lempeng India dengan lempeng Eurasia membentuk pegunungan Himalaya. Pernyataan ini terjadi akibat gerakan lempeng....
 - A. divergen
 - B. konvergen
 - C. transform
 - D. subduksi
 - E. rifting
8. Teori Kondensasi tentang pembentukan tata surya pada hakikatnya merupakan penyempurnaan teori Kabut dari Kant-Laplace. Pencetus teori Kondensasi berpendapat bahwa kabut pembentuk tata surya tersusun atas dua gas utama, yaitu....
 - A. helium dan nitrogen
 - B. helium dan hidrogen
 - C. oksigen dan hidrogen

- D. karbon dioksida dan argon
E. neon dan kripton
9. Perhatikan ciri-ciri planet berikut ini:
(1) sebagian besar permukaannya diselubungi air.
(2) berjarak 150.000.000 km dengan matahari.
(3) di permukaannya mengalami perubahan musim
Pernyataan di atas menunjukkan ciri-ciri planet....
A. Mars
B. Venus
C. Bumi
D. Yupiter
E. Saturnus
10. Perhatikan jenis-jenis batuan berikut ini:
(1) granit
(2) basalt
(3) pasir
(4) breksi
(5) konglomerat
Jenis batuan sedimen yang dimanfaatkan sebagai bahan bangunan ditunjukkan nomor....
A. 1, 2, dan 3
B. 1, 3, dan 5
C. 2, 3, dan 4
D. 2, 4, dan 5
E. 3, 4, dan 5
11. Dampak positif pelapukan batuan bagi kehidupan manusia adalah....
A. mempercepat proses pembentukan delta di muara sungai
B. mempercepat proses pengendapan material di dataran rendah
C. mempercepat proses pemindahan material antartempat
D. mempercepat proses pembentukan tanah
E. mempercepat proses perkaratan alat-alat dari besi
12. Sistem pegunungan mediterania merupakan jalur pegunungan muda yang dimulai dari....
A. Pegunungan Himalaya di Asia Selatan
B. Selandia Baru di Australia Timur
C. Pegunungan Atlas di Afrika Utara
D. Pegunungan Arakan Yoma di Myanmar
E. Pegunungan Andes di Amerika Tengah
13. Unsur-unsur gas yang terbanyak dalam lapisan atmosfer adalah....
A. Unsur Karbon Dioksida
B. Unsur Argon

- C. Oksigen
D. Nitrogen
E. Neon

14. Gambar lapisan atmosfer :



Tempat terbakarnya meteor-meteor sehingga terurai dan jatuh ke permukaan bumi, terdapat pada lapisan....

- A. Troposfer
B. Stratosfer
C. Mesosfer
D. Termosfer
E. Eksosfer

15. Pernyataan:

- (1) Sudut datang sinar matahari
(2) Lamanya penyinaran
(3) Ketinggian tempat
(4) Kecepatan angin
(5) Tekanan udara

Faktor-faktor yang mempengaruhi keadaan suhu udara suatu tempat terdapat pada nomor....

- A. 1, 2, dan 3
B. 2, 3, dan 4
C. 3, 4, dan 5
D. 1, 2, dan 4
E. 2, 3, dan 5

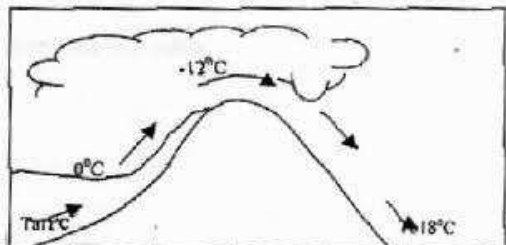
16. Isoterm bulan Januari di Tanjung Perak =25,7 °C. Kota Malang berada pada ketinggian 500 m, maka suhu di kota Malang adalah....

- A. 20,7 °C
B. 21,7 °C
C. 22,7 °C
D. 23,7 °C
E. 24,7 °C

17. Suatu daerah yang memiliki suhu tertinggi dibandingkan dengan suhu di sekitarnya, seperti yang terdapat di daerah khatulistiwa disebut....

- A. Daerah konvergensi antar tropik
- B. Daerah garis balik utara
- C. Daerah garis balik selatan
- D. Wilayah pertemuan angin pasat
- E. Wilayah sub polder

18. Gambar ini adalah proses terjadinya



- A. Angin darat
- B. Angin laut
- C. Angin siklon
- D. Angin gunung
- E. Angin fohn

19. Dalam suhu 20°C, kemampuan maksimum udara menampung 17 gram uap air. Sedangkan pengukuran secara langsung, diketahui kandungan uap air dalam udara adalah 15 gram, maka kelembaban relatifnya adalah...

- A. 81,24%
- B. 82,24%
- C. 83,24%
- D. 87,24%
- E. 88,24%

20. Hujan yang terjadi karena angin yang membawa uap air naik ke arah puncak gunung sehingga suhu udara turun dan terjadi proses kondensasi sehingga turun hujan di lereng gunung. Pernyataan ini berkaitan dengan proses terjadinya....

- A. Hujan zenit
- B. Hujan orografis
- C. Hujan frontal
- D. Hujan siklonal
- E. Hujan muson

21. Pernyataan:
 (1) Pulau Sumatera
 (2) Kepulauan Aru
 (3) Kalimantan
 (4) Jawa Timur

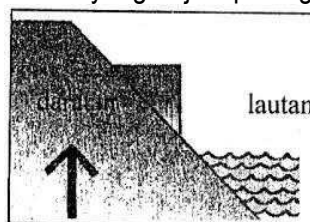
Menurut Wladimir Koppen membagi iklim tipe Af meliputi wilayah nomor...

- A. 1, 2, dan 3
- B. 2, 3, dan 4
- C. 3, 4, dan 5
- D. 1, 3, dan 4
- E. 1, 3, dan 5

22. Perubahan iklim global disebabkan sebagian oleh rusaknya lapisan ozon yang terdapat pada lapisan atmosfer. Lapisan ozon rusak disebabkan oleh zat yang dihasilkan dari industri, yaitu berupa....

- A. Karbon dioksida
- B. Nitrogen
- C. Asam arang
- D. Oksigen
- E. Cloro fuoro carbon

23. Gerak yang terjadi pada gambar ini adalah....



- A. Gerak epirogenese positif
- B. Gerak epirogenese negatif
- C. Gerak orogenese
- D. Gerak epirogenese
- E. Gerak antiklinarium


24. Gunung yang ekstrusinya bersifat campuran antara eksplosif dan efusif yang bergantian secara terus menerus, bentuknya seperti kerucut dan lerengnya berlapis-lapis. Pernyataan ini merupakan ciri-ciri

- A. Gunung api Perisai
- B. Gunung api Maar
- C. Gunung api Strato
- D. Gunung api tipe Hawaii
- E. Gunung api tipe Stromboli

25. Apabila terjadi semburan debu vulkanik gunung api dan kita berada di dalam rumah, supaya penyelamatan yang tepat adalah....

- A. Memakai kaca mata dan baju lengan panjang
- B. Menutup seluruh pintu, jendela dan ventilasi
- C. Membuka pintu dan jendela agar tidak pengap
- D. Menghindari benda-benda yang mudah roboh
- E. Bersembunyi di bawah meja atau kolong tempat tidur

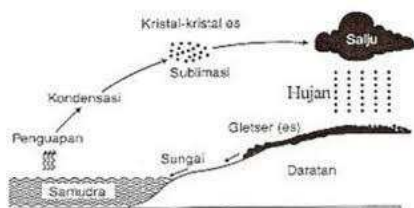
26. Perhatikan gambar berikut:



Berdasarkan gambar tersebut, termasuk jenis pelapukan....

- A. Mekanik
- B. Kimiawi
- C. Biologis
- D. Deflasi
- E. Emflasi

27. Gambar siklus hidrologi



Merupakan

- A. Siklus pendek
- B. Siklus sedang
- C. Siklus panjang
- D. Siklus iklim
- E. Siklus gelombang laut

28. Pernyataan:

- (1) Arus kuat
 - (2) Terjadi erosi vertikal
 - (3) adanya air terjun
 - (4) Lembah dalam dan sempit
- Ciri-ciri ini terdapat pada profil sungai....

- A. Bagian hulu
- B. Bagian tengah
- C. Bagian hilir
- D. Daerah aliran sungai
- E. Pola aliran sungai

29. Jenis-jenis tanah yang sangat subur di Indonesia adalah....

- A. Tanah allufial, vulkanis, dan laterit
- B. Tanah allufial, gambut, dan podzolit
- C. Tanah kapur, margalit, dan humus
- D. Tanah alluvial, vulkanis, dan humus
- E. Tanah gambut, kapur, dan vulkanis

30. Untuk mempertahankan kesuburan tanah dapat dilakukan dengan cara vegetatif, yaitu dengan cara....

- A. Melakukan penghijauan kembali/reboisasi
- B. Pengolahan tanah menurut kontur
- C. Terasering
- D. Irigasi
- E. Perbaikan drainase

31. Berdasarkan kedalamannya, laut tempat dimana hidup dan berkembangnya plankton-plankton, sehingga tempat konsentrasi ikan terbanyak, kawasan ini berada pada....

- A. Zona lithoral
- B. Zona neritis
- C. Zona bathial
- D. Zona abisal
- E. Zona ekonomi eksklusif

32. Berikut ini yang tergolong arus panas adalah arus....

- A. Labrador dan Oya Syiwo
- B. Brazilia dan Benguila
- C. Peru dan Agulhas
- D. Gulfstream dan Kuro Syiwo
- E. Peru dan Oya Syiwo

33. Fauna tipe peralihan yang dilindungi oleh pemerintah adalah....

- A. beruang madu dan harimau
- B. maleo dan anoa
- C. komodo dan nokdiak
- D. kasuari dan koala
- E. babi rusa dan walabi

34. Peta persebaran fauna



Cheetah adalah hewan pemangsa yang dapat berlari cepat. Fauna ini terdapat pada kawasan....

- A. Australis
- B. Oriental
- C. Paleartik
- D. Ethiopian
- E. Neartik

35. Wilayah persebaran Flora dan Fauna Indonesia di kepulauan Wallacea adalah....
- Kalimantan, Sulawesi, dan Jawa
 - Sulawesi, Jawa, dan Maluku
 - Sumatera, Jawa, dan Kalimantan
 - Papua, Maluku, dan Sumatera
 - Sulawesi, Nusa Tenggara, dan Maluku
36. Pernyataan :
- kesuburan tanah
 - jenis tanaman
 - iklim
 - keadaan air
 - pupuk
 - ketinggian tempat
- Faktor yang mempengaruhi persebaran Flora dan Fauna di Indonesia adalah....
- 1,2,3,dan 4
 - 1,3,4,dan 6
 - 1,3,5,dan 6
 - 2,3,4,dan 6
 - 2,4,5,dan 6
37. Data kependudukan suatu wilayah menurut golongan umur :
- | Umur | Jumlah penduduk |
|------------|-----------------|
| 0-14 tahun | 1850 orang |
| 15-64 | 4000 orang |
| < 65 tahun | 95 orang |
- Berdasarkan data diatas angka ketergantungan di wilayah tersebut adalah....
- 42,62
 - 48,62
 - 49,70
 - 50,72
 - 60,80
38. Jenis sumber daya alam
- Jagung
 - Kapas
 - Cengkeh
 - kedelai
 - kelapa sawit
- Sumber daya alam nabati untuk bahan pangan terdapat pada nomor....
- 1,2, dan 3
 - 2,3, dan 4
 - 3,4, dan 5
 - 1,3, dan 5
 - 1,4, dan 5
39. Dalam pengembangan industri di tanah air, beberapa lokasi utama dikembangkan menjadi pusat industri. Pemusatan industri tersebut tentunya memiliki alasan tertentu, selain alasan ekonomis, faktor yang menjadi pertimbangan pemusatan industri adalah....
- Faktor ekologis
 - Faktor budaya
 - Sumber daya
 - Politis
 - Sosiologis
40. Pada sebuah peta bentuk bumi kontur intervalnya 50 meter. Pada peta tersebut terdapat dua daerah yang jarak antara ke duanya tergambar 20 cm. Jadi jarak antara ke dua daerah tersebut dilapangan adalah....
- 10 km
 - 20 km
 - 30 km
 - 40 km
 - 50 km
41. Jenis-jenis peta:
- peta hidrologi
 - peta batimetri
 - peta topografi
 - peta oseanologi
- Peta yang digunakan untuk menganalisis potensi lautan adalah nomor....
- 1 dan 2
 - 1 dan 3
 - 2 dan 3
 - 2 dan 4
 - 3 dan 4
42. Berdasarkan proyeksi peta yang ada wilayah Indonesia lebih cocok menggunakan....
- proyeksi silinder
 - proyeksi meridian
 - proyeksi zenithal
 - proyeksi azimuth
 - proyeksi kerucut
43. Ciri-ciri pengindraan jauh :
- Situs jalan kereta api
 - bentuknya persegi panjang
 - ukurannya lebih besar dari pada rumah penduduk
- Citra pengindraan jauh berdasarkan ciri-ciri tersebut menggambarkan objek....

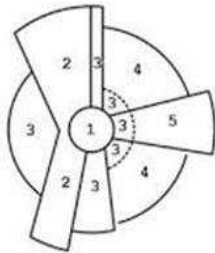
- A. Bandara
- B. Pasar
- C. Sekolah
- D. Stasiun
- E. Terminal

44. Pernyataan :
- (1) Penduduknya masih bergantung pada alam
 - (2) Hasilnya untuk mencukupi kebutuhan sendiri
 - (3) Adat istiadat mulai longgar
 - (4) Lembaga sosial desa sudah berfungsi
 - (5) Tingkat pendidikan masih rendah

Berdasarkan pernyataan tersebut, ciri-ciri desa Swadaya ditunjukkan nomor....

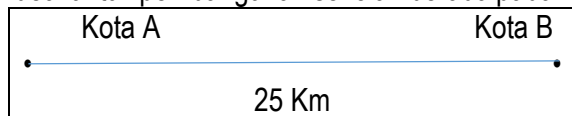
- A. 1,2,dan 3
- B. 2,3,dan 4
- C. 3,4,dan 5
- D. 1,3,dan 5
- E. 1,2 dan 5

45. Angka 4 pada gambar teori sektor menunjukkan zona....



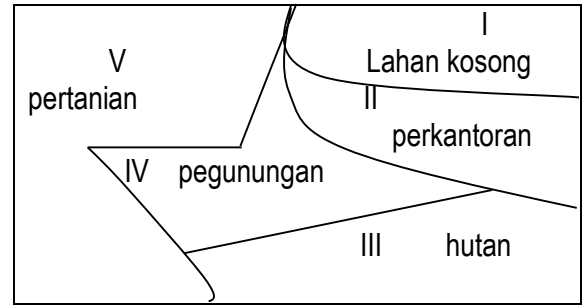
- A. Pemukiman kelas rendah
- B. Pemukiman kelas menengah
- C. Pemukiman kelas tinggi
- D. Pusat wilayah kegiatan
- E. Grosir dan manufaktur

46. Jika kota A berpenduduk 30.000 jiwa dan kota B berpenduduk 10.000 jiwa, lokasi yang paling ideal untuk pembangunan sekolah berada pada....



- A. 8,15 km dari kota A
- B. 8,15 km dari kota B
- C. 9,15 km dari kota A
- D. 9,15 km dari kota B
- E. 10,15 km dari kota A

47. Perhatikan gambar berikut!



Lahan yang tepat digunakan untuk menjaga kelestarian lingkungan hidup terdapat pada nomor...

- A. I dan II
- B. I dan III
- C. II dan III
- D. III dan IV
- E. IV dan V

48. Salah satu kendala negara berkembang untuk berubah menjadi negara maju adalah....

- A. Keterbatasan sumber daya alam
- B. Perkembangan industri lambat
- C. Wilayah yang terlalu luas
- D. Pertumbuhan penduduk rendah
- E. Kualitas sumber daya manusia masih rendah

49. Pada umumnya barang-barang export dari negara berkembang berupa....

- A. Barang otomotif dan pakaian
- B. Mesin industri dan barang elektronik
- C. Bahan kimia dan pakaian
- D. Hasil pertanian dan peternakan
- E. Rempah-rempah dan bahan kimia

50. Negara-negara berkembang di benua Asia adalah....

- A. Cina, Korea Utara, Jepang dan Singapura
- B. Singapura, Vietnam, Korea Selatan, dan Cina
- C. India, Myanmar, Kamboja, dan Filipina
- D. Indonesia, Arab Saudi, Malaysia, dan Singapura
- E. Brunai Darussalam, Thailand, India, dan Jepang