



# Latihan Soal IPS UN dan Ujian SNMPTN/PTS 2014/2015



Smart, Creative  
and Entrepreneurial



# Prakata

Mempersiapkan diri dalam menghadapi Ujian Nasional dan Ujian SNMPTN/PTS adalah proses yang pasti ditempuh oleh siswa SLTA sebelum melanjutkan ke jenjang pendidikan yang lebih tinggi. Buku Latihan Soal UN dan SMPTN/PTS 2014/2015 ini dapat dijadikan sebagai buku panduan belajar bagi siswa SLTA (SMA, SMK, dan MA) kelas XII.

Buku ini disusun atas kerjasama Tim Universitas Esa Unggul dan tim MGMP Jakarta yang terdiri dari 2 jenis buku soal IPA dan IPS. Buku ini juga dilengkapi dengan Standar Kompetensi Lulusan (SKL) pada masing-masing mata pelajaran. Kunci jawaban soal hanya diberikan kepada guru sekolah masing-masing sekolah melalui CD atau dapat di download di website Universitas Esa Unggul (<http://www.esaunggul.ac.id>).

Kami harapkan siswa SLTA kelas XII dapat memanfaatkan buku ini dengan baik, sehingga mampu menguasai materi dan penyelesaiannya. Selamat menghadapi Ujian Nasional dan semoga sukses !

Salam,

Tim Penyusun

**SOAL IPS (PAKET B)**  
**UN dan SMPTN/PTS**  
**2014/2015**

Mata Pelajaran :

- Bahasa Indonesia
- Bahasa Inggris
- Matematika IPS
- Ekonomi
- Sosiologi
- Geografi

**Petunjuk:**

**Pilih satu jawaban yang benar**

**1. Bacalah paragraf berikut dengan saksama!**

Dalam sejarah pendidikan guru di Indonesia, guru pernah mempunyai status yang sangat tinggi dalam masyarakat, mempunyai wibawa yang sangat tinggi, dan dianggap sebagai orang yang serba tahu. Peranan guru saat itu tidak hanya mendidik anak di depan kelas, tetapi mendidik masyarakat, tempat bagi masyarakat untuk bertanya, baik untuk memecahkan masalah pribadi maupun masalah sosial. Namun, kewibawaan guru mulai memudar seiring dengan kemajuan zaman, perkembangan ilmu dan teknologi, dan kepedulian guru yang meningkat tentang imbalan atau balas jasa. Dalam era teknologi yang maju seperti sekarang, guru bukan lagi satu-satunya tempat bertanya bagi masyarakat. Pendidikan masyarakat mungkin lebih tinggi dari guru, dan kewibawaan guru berkurang antara lain karena status guru dianggap kalah gengsi dari jabatan lainnya yang mempunyai pendapatan yang lebih baik.

( Prof. Soetjipto, "Profesi Guru" )

Ide pokok paragraf tersebut adalah...

- A. Dalam sejarah pendidikan guru di Indonesia, guru pernah mempunyai status yang sangat tinggi dalam masyarakat
- B. Dalam sejarah pendidikan guru di Indonesia, guru pernah mempunyai status yang sangat tinggi dalam masyarakat, mempunyai wibawa yang sangat tinggi, dan dianggap sebagai orang yang serba tahu
- C. Pendidikan masyarakat mungkin lebih tinggi dari guru
- D. Peranan guru saat itu tidak hanya mendidik anak di depan kelas, tetapi mendidik masyarakat, tempat bagi masyarakat untuk bertanya, baik untuk memecahkan masalah pribadi maupun masalah sosial.
- E. Peranan guru saat itu tidak hanya mendidik anak di depan kelas, tetapi mendidik masyarakat, tempat bagi masyarakat untuk bertanya

**2. Cermati paragraf berikut!**

(1) Jika kita mencari kesan umum bagaimana otak bekerja, kita akan melihat suatu organ yang tersusun dengan rumit yang melaksanakan dengan serentak sejumlah besar tugas-tugas.(2) Otak punya pemrosesan pusat (*a central processing unit*), dengan sirkuit mesin (*hardware circuitry*) yang terdiri dari serat-serat dan sel-sel saraf. (3) Pasokan ke otak berasal dari rangsangan pancaindra yang memberitahu kita apa yang terjadi di lingkungan hidup kita. (4) Hasilnya berupa kegiatan mental, kegiatan jasmani, dan kendali atas fungsi-fungsi tubuh. (5) Sistem- sistem operasi (*opreating systems*) dibentuk oleh rangkaian gen kita.

Kalimat utama paragraf tersebut adalah nomor...

- A. (1)
- B. (2)
- C. (3)
- D. (4)
- E. (5)

3. **Ceramati paragraf berikut!**

(1) Dari Jawa Barat dilaporkan, jalur pantura di wilayah Kabupaten Indramayu menjadi jalur tengkorak sepanjang 2013. (2) Di lokasi itu, telah terjadi 435 peristiwa kecelakaan yang menyebabkan 421 orang tewas. (3) Jumlah itu meningkat tajam jika dibandingkan dengan tahun lalu yang mencatat 168 orang tewas. (4) Jalan-jalan di Jakarta pun banyak yang tidak layak dilalui kendaraan. (5) "Korban kecelakaan didominasi pengendara kendaraan roda dua," papar Kasat Lantas Polres Indramayu AK Andriyanto.

Kalimat penjelas yang tidak mendukung kalimat utama dalam paragraf tersebut adalah kalimat penjelas nomor....

- A. (1)
- B. (2)
- C. (3)
- D. (4)
- E. (5)

4. **Bacalah kutipan tajuk rencana berikut dengan cermat!**

(1) Joko Widodo mengatakan Pemprov DKI Jakarta memiliki modal sumber daya manusia (SDM) sangat banyak, berkualitas, dan kompetitif. (2) Kemampuan SDM ini dia yakini melebihi kompetensi PNS di daerah lain. (3) Jokowi, sapaan akrab Joko Widodo, mengakui, selama ini persepsi masyarakat terhadap kinerja dari SDM aparat Pemprov DKI Jakarta adalah SDM yang koruptif, berbelit-belit dan tidak inovatif, kurang maksimal dan lain sebagainya. (4) Seluruh pejabat dan staf di jajaran Pemprov DKI Jakarta diminta untuk menerapkan empat elemen kinerja utama yakni sinergi antarinstansi, melakukan inovasi terus-menerus, seluruh SKPD bergerak, dan peningkatan kinerja pelayanan. (5) "Kalau bekerja secara parsial tidak akan mencapai tujuan, saya nggak mau dengar ada yang bilang itu bukan tupoksi saya, kecuali ada anggaran bermilyar-milyar atau triliunan," ujarnya.

Sumber : Warta Kota (7 Februari 2013)

Kalimat fakta dalam paragraf tersebut adalah kalimat ... .

- A. (1)
- B. (2)
- C. (3)
- D. (4)
- E. (5)

5. Kalimat opini dalam paragraf tersebut (nomor 4) adalah....

- A. (1),(2),(3),(4)
- B. (1),(2),(3),(5)
- C. (1),(2),(4),(5)
- D. (1),(3),(4),(5)
- E. (2),(3),(4),(5)

6. **Cermati paragraf berikut!**

Kehadiran kurikulum 2013 di era kepemimpinan Pof.Ir. Mohammad Nuh, DEA sebagai menteri Pendidikan dan Kebudayaan bukan atas dasar ganti menteri ganti kebijakan. Akan tetapi lebih didasari pada keinginan besar untuk memperbaiki sistem pendidikan di Indonesia dalam rangka menyiapkan generasi cerdas menyambut 100 tahun Indonesia merdeka. Pak menteri beberapa kali juga menegaskan, bahwa Kurikulum 2013 disiapkan secara matang, bukan kebijakan yang mendadak, apalagi tergesa-gesa dan dipaksakan. (Sumber: Majalah Guru "Pokok-Pokok Perubahan Kurikulum", edisi Agustus 2013, hlm.10)

Pernyataan yang sesuai dengan isi paragraf adalah...

- A. Kurikulum 2013 hadir atas dasar pergantian menteri, ganti menteri ganti kebijakan
- B. Kurikulum 2013 didasari pada keinginan untuk memperbaiki sistem pendidikan di Indonesia

- C. Kurikulum 2013 tidak bertujuan untuk menyiapkan generasi cerdas menyambut 100 tahun Indonesia merdeka
- D. Kurikulum 2013 tidak disiapkan secara matang
- E. Kurikulum 2013 merupakan kebijakan yang mendadak, terkesan tergesa-gesa

7. **Bacalah paragraf berikut dengan saksama!**

Ternyata, pelajaran bahasa Indonesia di kelas X yang diampu Wayan Widiasa (Guru bahasa Indonesia, Karangasem Bali) berlangsung menyenangkan. “Bagi saya dan siswa, Kurikulum 2013 yang menonjolkan pendekatan *scientific* itu menyenangkan. Awalnya saya baca puisi yang ada pada buku pedoman siswa. Saya kemudian meminta komentar siswa, misalnya mencari kata kerja, juga sinonim dari kata-kata pada puisi tentang alam tersebut. Anak-anak suka, pembelajaran juga lebih seru.”kata Wayan Widiasa.

Kalimat tanya yang sesuai dengan isi paragraf adalah...

- A. Mengapa Wayan Widiasa mengajarkan mata pelajaran bahasa Indonesia di SMA?
- B. Siapakah yang menemukan pendekatan pembelajaran *scientific* yang diterapkan di sekolah?
- C. Apakah pembelajaran dengan kurikulum 2013 melalui pendekatan *scientific* menyenangkan bagi siswa?
- D. Mengapa siswa belajar bahasa Indonesia dengan materi membacakan puisi?
- E. Apakah kurikulum 2013 sudah bisa meningkatkan mutu pendidikan di Indonesia?

8. **Bacalah paragraf berikut dengan cermat!**

PABRIK pembuatan sabu-sabu yang berada di sebuah rumah toko (ruko) kompleks pertokoan Jalan Karya Jaya, Desa Delitua, Kecamatan Namorambe, Deli Serdang, Selasa (5/2) malam meledak. Akibat ledakan itu baru diketahui bahwa ruko tersebut merupakan tempat pembuatan sabu-sabu. Sebelumnya, warga sekitar sama sekali tidak tahu bahwa di ruko itu ada sebuah aktivitas peracikan bahan-bahan psikotropika yang sangat berbahaya.

Dari peristiwa ini dapat kita simpulkan bahwa, peracikan narkotika dan obat-obatan berbahaya (narkoba) bisa dilakukan di mana saja dan di tempat yang sangat sederhana tanpa membutuhkan ruangan yang luas. Kemudian jika praktik peracikan itu berjalan dengan baik maka bisa dipastikan peredaran narkotika akan mulus.

Selanjutnya, dari peristiwa tersebut dapat juga kita petik pelajaran bahwa, pembuatan narkoba bisa saja dilakukan di sekitar kita, di lingkungan kita bahkan di sebelah rumah kita! Karena itu harus waspada dan jeli melihat apa yang terjadi di sekitar kita. Belum lama ini kita juga dikagetkan dengan peristiwa penyitaan satu ton ganja kering senilai Rp 2,9 miliar oleh Satuan Narkoba Polres Jakarta Selatan. Yang membuat kita kaget pertama, dari jumlahnya yang begitu banyak. Kedua, peredaran ganja itu dikendalikan oleh narapidana yang mendekam di Lembaga Permasyarakatan Nusakambangan, Cilacap, Jawa Tengah.

Dari peristiwa ini dapat kita simpulkan sekaligus ambil pelajaran bahwa, peredaran narkoba itu bisa dilakukan dari mana saja dan kapan saja termasuk tempat-tempat yang awalnya tidak mungkin seperti LP. Pertanyaannya, kenapa narkoba bisa beredar dengan leluasa di republik ini? Jawabannya sangat sederhana, karena tidak ada hukuman yang berat dan tegas terutama terhadap bandar atau otak di balik peredaran bahan yang sangat berbahaya bagi kesehatan manusia itu.

<http://www.analisadaily.com/news/read/2013/02/08//>

Tujuan penulis dalam artikel tersebut adalah...

- A. menginformasikan tentang peredaran narkoba di Deli Serdang, Medan meledak
- B. menginformasikan tentang pembuatan narkoba ditemukan di Deli Serdang, Medan
- C. menginformasikan bahwa pembuatan dan peredaran narkoba bisa terjadi di mana saja
- D. menginformasikan bahwa narkoba sudah menyebar di seluruh wilayah Indonesia
- E. menginformasikan bahwa narkoba sangat berbahaya bagi bangsa dan rakyat Indonesia

9. Arti kata "aktivitas" pada bacaan tersebut adalah...

- A. Doktrin yang menekankan adanya tindakan kekerasan untuk mencapai tujuan
- B. Kekayaan, baik berupa uang maupun benda lain yang dapat dinilai dengan uang
- C. Kegiatan organisasi yang dilakukan oleh seseorang untuk tujuan
- D. Pekerjaan yang dilakukan oleh seseorang dalam suatu perkumpulan
- E. Kegiatan atau kerja atau salah satu kegiatan kerja yang dilaksanakan

10. **Cermati kutipan biografi berikut!**

Adam Malik yang dikenal dengan sebutan "Si Bung dari Siantar" merupakan anak dari pasangan Abdul Malik Batubara dan Salamah Lubis. Ayahnya, Abdul Malik, adalah seorang pedagang kaya di Pematangsiantar. Adam Malik adalah anak ketiga dari sepuluh bersaudara. Adam Malik menempuh pendidikan dasarnya di Hollandsch-Inlandsche School Pematangsiantar. Ia melanjutkan di Sekolah Agama Parabek di Bukittinggi, namun hanya satu setengah tahun saja karena kemudian pulang kampung dan membantu orang tua berdagang.

Keinginannya untuk maju dan berbakti kepada bangsa mendorong Adam Malik untuk pergi merantau ke Jakarta. Pada usia 20 tahun, ia bersama dengan Soemanang, Sipahutar, Armijn Pane, Abdul Hakim, dan Pandu Kartawiguna memelopori berdirinya Kantor Berita Antara.

Sumber : <http://www.tokoh.org/search/label/Politisi>

Hal yang dapat diteladani dari tokoh adalah...

- A. Keinginannya untuk maju dan berbakti kepada bangsa
- B. Pulang kampung dan membantu orang tua berdagang
- C. Adam Malik pergi merantau ke Jakarta
- D. Mempelopori berdirinya Kantor Berita Antara
- E. Bersekolah hanya satu setengah tahun karena mau pulang kampung

11. **Cermati kutipan biografi berikut!**

Mohammad Nuh atau lengkapnya Prof. Dr. Ir. KH. Mohammad Nuh, DEA, lahir di Surabaya, Jawa Timur, 17 Juni 1959; umur 52 tahun, adalah Menteri Pendidikan Nasional Indonesia sejak 22 Oktober 2009. Sebelumnya ia menjabat sebagai Menteri Komunikasi dan Informatika (2007–2009) dan rektor Institut Teknologi Sepuluh Nopember (ITS) Surabaya periode tahun 2003–2006.

(Sumber : <http://www.tokoh.org/search/label/Politisi> Indonesia)

Isi biografi tersebut mengemukakan tentang....

- A. Riwayat lahir dan riwayat pekerjaan tokoh
- B. Riwayat lahir dan kegemaran tokoh
- C. Riwayat lahir dan riwayat pendidikan tokoh
- D. Riwayat lahir dan pengabdian tokoh
- E. Riwayat hidup Prof. Dr. Ir. K H. Muhammad Nuh

12. **Cermati kutipan tajuk rencana berikut!**

(1) Bagi bangsa tercinta ini, tawuran antarpelajar dengan alasan adanya fanatisme terhadap sekolahnya haruslah dipandang sebagai sebuah fenomena masa kini yang secara sosial, budaya, politik, maupun psikologis harus dicari solusi atau pemecahan masalahnya. (2) Memang secara kuantitatif tawuran antarpelajar masih dinilai berskala kecil, sehingga orang pun menganggapnya sebagai sebuah kenakalan remaja belaka. (3) Tapi ketika tawuran berskala kecil pun telah mendatangkan atau menimbulkan korban jiwa, maka soal tawuran tidak dipandang remeh lagi. (4) Secara fisik, tawuran telah mendatangkan kerugian material dan korban jiwa. Sejak reformasi berhembus di Indonesia tahun 1998 silam sampai sekarang, korban tawuran telah mencapai 30 siswa yang tentu saja usia produktif dan generasi masa depan Indonesia. (5) Dalam konteks ini, tewasnya 30 orang muda Indonesia secara sia-sia adalah satu kerugian besar.

Opini penulis dalam kutipan tajuk rencana tersebut terdapat pada kalimat nomor....

- A. (1),(3),(5)
- B. (2),(3),(5)
- C. (3),(4),(5)
- D. (4),(5),(1)
- E. (5),(2),(3)

13. **Bacalah dengan saksama tajuk rencana berikut!**

(1) Bagi bangsa tercinta ini, tawuran antarpelajar dengan alasan adanya fanatisme terhadap sekolahnya haruslah dipandang sebagai sebuah fenomena masa kini yang secara sosial, budaya, politik, maupun psikologis harus dicari solusi atau pemecahan masalahnya. (2) Memang secara kuantitatif tawuran antarpelajar masih dinilai berskala kecil, sehingga orang pun menganggapnya sebagai sebuah kenakalan remaja belaka. (3) Tapi ketika tawuran berskala kecil pun telah mendatangkan atau menimbulkan korban jiwa, maka soal tawuran tidak dipandang remeh lagi.

(4) Secara fisik, tawuran telah mendatangkan kerugian material dan korban jiwa. Sejak reformasi berhembus di Indonesia tahun 1998 silam sampai sekarang, korban tawuran telah mencapai 30 siswa yang tentu saja usia produktif dan generasi masa depan Indonesia. (5) Dalam konteks ini, tewasnya 30 orang muda Indonesia secara sia-sia adalah satu kerugian besar. Sedangkan secara moral dan sosial tawuran antar pelajar sungguh sangat meresahkan masyarakat, menimbulkan luka bathin bagi keluarga yang ditinggalkan.

Pertanyaan refleksif kita sekarang adalah mengapa tawuran terus terjadi dan para pelajar pun tak segan-segan 'membunuh' sesamanya? Menurut penelitian Craig A Anderson dan Brad J Bushman dalam Effect of Violet Video Games on Aggressive Affect, Psychological Arousal and Prosocial Behavior meneukan bahwa video games kekerasan telah sangat mempengaruhi pelajar. Video game kekerasan berhubungan secara positif dengan tingkat agresi di kalangan kaum remaja dan anak-anak.

Apa yang dikemukakan dalam penelitian tersebut adalah kebenaran.

Karena itu, peringatan bagi orang tua, guru, para pengambil keputusan dan kebijakan untuk segera membuat regulasi yang membatasi peredaran video game kekerasan.

(Sumber "Sinar Pendidikan Indonesia", ed. Akhir tahun 2013, hlm.2)

Permasalahan opini penulis tajuk rencana ditujukan kepada kepada....

- A. Pengambil keputusan dan kebijakan
- B. Siswa sebagai pelaku tawuran
- C. Masyarakat
- D. Kepolisian
- E. Pejabat negara



14. Cermati grafik berikut!



Isi grafik tersebut adalah....

- A. Stroke Hemarogik dan Fraktur Post Operasi merupakan dua kategori dengan jumlah pasien yang berbeda.
- B. Stroke Iskemik berjumlah sama dengan stroke Hemarogik.
- C. Pasien Stroke Hemarogik dan Fraktur Post Operasi berjumlah 70
- D. Jumlah total pasien penderita gagal jantung, Stroke Hemarogik, Struk Iskemik, dan Fraktur Post Operasi adalah 180 orang
- E. Jumlah pasiean dengan empat kategori penyakit di salah satu rumah sakit, penyakit gagal jantung yang paling banyak jumlahnya.

15. Cermati tabel berikut!

Daftar 1 (1) → NOMOR TABEL  
 Jumlah Lulusan Mahasiswa S-1 dan D-3 → JUDUL TABEL  
 Dari Empat Jurusan di FMIPA Universitas Terbuka  
 Selama Satu Tahun

JURUSAN	S-1		D-3		JUMLAH
	L	P	L	P	
Biologi	15	20	10	17	62
Fisika	10	17	14	22	63
Kimia	12	12	12	18	54
Matematika	18	25	15	15	73
Jumlah	55	74	51	72	252

← JUDUL BARIS

← JUDUL KOLOM

SUMBER DATA ← Sumber data: Bagian Akademik, Universitas Terbuka Tahun 2011

Kesimpulan isi tabel tersebut adalah....

- A. Dari semua lulusan S-1 dan D-3 Universitas Terbuka, FMIPA, semua lulusan berjumlah sama pada semua jurusan selama satu tahun
- B. Jurusan Biologi paling banyak jumlahnya selama satu tahun pada FMIPA, pada tahun 2011.

- C. Dari empat jurusan pada FMIPA, jurusan Fisika yang paling sedikit lulusannya selama satu tahun, pada tahun 2011.
- D. Dari semua lulusan S-I dan D-3 Universitas Terbuka, FMIPA, Jurusan Matematika yang paling banyak lulusannya selama satu tahun.
- E. Semua jurusan pada FMIPA, di Universitas Terbuka, meluluskan mahasiswa selama satu tahun, dengan jumlah yang sama.

16. **Cermati kutipan hikayat berikut untuk menjawab soal nomor 16 s.d 18!**

Dalam pada itu Raja Kembayat sudah kembali ke atas kerajaan. Baginda senantiasa dalam duka cita, memikirkan putrinya yang dibuang di masa pelariandahulu. Putranya yang diberi nama Putra Bangsawan, bermohon pergi mencar saudarnya. Dalam sebuah kapal ia berkenalan dengan seorang pemuda, Senapati namaya. Bersama-sama mereka pergi ke negeri Indrapura. Saudagar Laela Jauhari yang kini sudah bergelar Mangkubumi Lela Mengindra, ingin sangat bertemu dengan Putra Bangsawan. Putra Bangsawan dibaanya pergi menghadap Raja Johan Syah. Maka bertemulah Putra Bagsawan dengan saudaera perempuannya. Maka masyhurlah kabar bahwa Bidasari adalah putri Raja Kembayat.

Senapati yang sudah bergelar Laksamana Menteri disuruh mengantarkan surat kepada Raja Kembayat. Raja Kembayat dengan permaisuri segera datang ke Indrapura. Pertemuan yang mengharukan lalu terjadi. Permaisuri Kembayat rebah pingsan karena terlalu banyak menanggung dosa, ia membuang anak sendiri, dan menyesali perbuatannya. Pada hari yang baik itu Raja Indrapura suami istri pun dinobatkan.

Bidasari tidak menaruh dendam pada Putri Lela Sari. Putri Lela Sari diampuni bahkan diberi sebuah istana baru. Maka duduklah baginda bersuka-suka. Maka kerajan Kembayat pun makmurlah, negerinya ramai tidak berperi, kabarnya masyhur ke segenap negeri.

Sumber : Liaw Yock Fang.1993. *Sejarah Melayu Klasik*.

Karakteristik yang terdapat pada kutipan karya sastra Melayu klasik tersebut adalah....

- A. istanasentris,dewa-dewa
  - B. istanasentris-dewa-dewa
  - C. kesaktian, kemustahilan
  - D. istanasentri, pengaruh bahasa Melayu
  - E. kemustahilan, dewa-dewi
17. Inti cerita karya sastra Melayu tersebut adalah....
- A. Peristiwa dibuangnya Bidasari pada saat pelarian orang tuanya Raja Kembayat dan permaisuri karena bencana di kerajaanya.
  - B. Perjalanan Putra Bangsawan mencari saudaranya Bidasari yang mengalami berbagai macam cobaan namun pada akhirnya bertemu.
  - C. Pertemuan Bisadari dengan keluarga yang telah membuangnya sekaligus pernikahanyadengan putra raja
  - D. Pertemuan Raja Kembayat dan permaisuri dengan Bidasari, anak yang telah dibuangnya dan Bidasari tidak menerima orang tuanya
  - E. Kehidupan negeri yang makmur, namun rajanya tidak disukai oleh rakyat karena kehidupan raja yang serakah
18. Nilai moral yang terdapat pada karya sastra Melayu tersebut adalah....
- A. Dendam yang tiada tara dari seorang anak kepada orang tua
  - B. Tidak adanya rasa dendam dari seorang anak kepada orang tuanya
  - C. Pernikahan antara putra raja yang dilaksanakan secara mendadak
  - D. Pertemuan antara raja dengan putrinya yang pernah dibuang
  - E. Pertemuan antara permaisuri dengan putrinya yang pernah dibuang
19. **Bacalah kutipan novel berikut untuk menjawab soal nomor 19 s.d 20!**

Allah maha penyayang,usaha kami tidak sia-sia. Kami berdua meriah gelar magister dengan waktu tercepat di Mesir. Hanya dua tahun . Namun kami belum keluar dari derita. Setelah meraih magister pun kami masih mengecap hidup susah, tidur di atas kasur tipis, dan tak ada istilah makan enak. Dalam hidup kami. Sampai

akhirnya rakhmat Allah datang jua. Setelah usaha keras, kami berhasil meneken kontrak kerja di sebuah rumah sakit di Kuwait. Dan untuk pertam kalinya setelah lima tahun berselimut derita dan duka, kami mengenal hidup yang layak dan tenang. Kami hidup di rumah yang layak dan mewah. Dua tahun setelah itukamipun dapat membeli villa berlantai dua di Heliopolis, Cairo. Sebenarnya saya rindu untuk kembali ke Mesir setelah memiliki rmah yang layak. Tetapi istriku memang “edan”. Ia kembali mengeluarkan ide, yaitu untuk melanjutkan program Doktor Spesialis di London, juga dengan logika yang susah untuk saya tolak.

Sumber : Novel “Di atas Sajadah Cinta”, karya Habiburrahman El Shirazy

Watak tokoh ‘Kami’ dideskripsikan oleh pengarang melalui....

- A. pikiran tokoh
- B. tindakan tokoh
- C. bentuk fisik tokoh
- D. lingkungan tokoh
- E. uraian langsung tokoh

20. Amanat cerita sesuai dengan kutipan novel tersebut adalah....

- A. Hidup sudah ditentukan oleh YMK jadi kita tidak perlu berusaha, berdoa saja
- B. Berusaha adalah salah satunya jalan untuk meraih kesuksesan dalam hidup
- C. Berdoa adalah satu-satunya cara untuk mendapatkan apa yang kita inginkan
- D. Berhentilah berusaha dan berdoa bila mengalami kegagalan dalam kehidupan
- E. Berusaha dan berdoalah untuk meraih cita-cita dan kehidupan yang baik.

21. **Cermati kutipan cerpen berikut!**

Suatu pagi aku menjelma menjadi kupu-kupu. Kudapati diriku meringkuk dengan sayap lembut di punggungku. Aku terpaksa, tidak percaya kalau aku sungguh-sungguh telah menjadi kupu-kupu. Ya, memang, diantara hari-hari nganggurku, aku sering membayangkan diriku suatu hari menjadi kupu-kupu. Dan aku percaya betapa nikmatnya menjadi kupu-kupu. Aku....seakan tak peduli hidup penuh dengan tipu- menipu. Aku suka sayapnya yang terlihat cemerlang di bawah cahaya matahari yang bersinar. Ya, aku suka termangu menyaksikan pemandangan seperti itu, hidup tidak jemu.

Sumber : Majalah Horison, Mei 2001

Kalimat bermajas hiperbola yang tepat untuk melengkapi cerpen tersebut adalah....

- A. Ingin terbang seperti kupu-kupu sesungguhnya
- B. Ingin terbang mengitari jagad raya tanpa henti
- C. Ingin hinggap di daun-daun pada malam hari
- D. Ingin hinggap di pohon yang semerbak mewangi
- E. Ingin menjadi kupu-kupu yang bisa terbang

22. **Cermati kutipan drama berikut untuk menjawab soal no.22 s.d 23!**

Ibu Riani : “Terima kasih ya kalian sudah mau datang ke sini”.

Anjani : “sama-sama ibu. Ibu yang tegar yah. Ini cobaan dari Tuhan untuk kita.”

Ibu Riani : “Riani.....sebenarnya ada yang ibu mau bicarakan pada kalian sebagai sahabat Riani.

Fariz : “Ada apa, Bu.”

Ibu Riani : Begini, sebulan yang lalu Riani sempat menghubungi kalian melalui telepon kan.

Anjani : Iya, Bu. Dia mengajak kami untuk berkumpul. Tapi saya waktu tidak bisa karena ada latihan basket, dan yang lain gak ada kabar.

Ibu Riani : “Sebenarnya Riani ingin kalian membanatu mengurus kuliahnya karena dia sakit. Tapi kalian semua sibuk akhirnya dia depresi.

Abi : Maafkan kami ya, Bu.

Ibu Riani : Pada hari yang naas itu, dia ingin menemui kalian semua. Saya sudah melarang karena kondisinya sangat lemah. Tapi dia tetap ingin mencari kalian di kampus. Kejadian itu terjadilah, dia mengakhiri hidupnya dengan menabrakkan diri pada mobil saat menuju kampus.  
Anjani : Kami sangat menyesal,Bu . Seharusnya kami ada saat teman membutuhkan.

Masalah yang diungkapkan dalam kutipan drama tersebut adalah....

- A. Keputusan karena kegagalan dalam kuliah
  - B. Penyakit yang diderita Riani cukup parah
  - C. Kematian karena mencari teman di kampus
  - D. Kuliah yang terbengkalai karena teman
  - E. Riani tidak mendengar larangna ibunya
23. Amanat dalam kutipan drama tersebut adalah....
- A. Carilah teman ke mana pun sampai bertemu
  - B. Berobat secara rutin sebelum ajal menjemput
  - C. Jangan menyia-nyiakan teman yang memutuhkan
  - D. Jangan putus asa dalam menghadapi masalah
  - E. Bawalah obat-oatan jika pergi dalam keadaan sakit
24. Bacalah puisi tersebut dengan saksama untuk menjawab soal nomor 24 s.d. 25!

**AKU CUKUP DENGAN ENKAU SAJA**

**Karya : Ahmadun Yosi Herfanda**

aku cukup dengan Engkau saja  
dalam nikmat zikir dan sujud jiwa  
aku cukup bersama-Mu saja

aku cukup dengan Engkau saja  
walau orang – orang itu  
mencari kesenangan di diskotik – diskotik  
panti – panti pijat, hotel dan pelacuran  
aku cukup di rumah-Mu saja  
dalam nikmat zikir dan sujud jiwa

bukan lantaran takut aids dan rajasinga  
jika kujauhi pelacur dan sauna  
tapi memang cukup bagiku  
bahagia dalam cinta-Mu saja

aku cukup dengan Engkau saja  
walah kursi dan mobil dinas menjauhiku  
walau dasi dan gaji besar berpaling dariku  
walau ormas dan parpol mencibir padaku  
aku cukup di dekat-Mu saja, bahagia  
dalam nikmat zikir dan sujud jiwa

Maksud kata “Engkau” dalam larik puisi tersebut adalah....

- A. seseorang
- B. orang tua
- C. masyarakat
- D. Tuhan
- E. Saudara

25. Maksud puisi tersebut adalah...
- Penyesalan seseorang yang telah berpaling dari Tuhan dengan dengan melakukan kegiatan duniawi yang dilarang Tuhan
  - Kebahagiaan seseorang karena bisa menikmati hidup walaupun tanpa mempedulikan
  - Rasa cukup dan selalu berserah pada Tuhan adalah senjata paling ampuh guna menghindari hal-hal negatif dunia yang hanya bersifat fana
  - Rasa cukup karena bisa menikmati kehidupan duniawi dengan bahagia walaupun tidak mengingat bahwa itu semua adalah ujian dari Tuha
  - Rasa cukup dan selalu berserah diri pada Tuhan dan juga menikmati kehidupan duniawi yang tidak pada jalan yang diridhoi Tuhan

26. Cermati puisi berikut!

**SAJAK TANGAN HITAM**  
Karya : Ahmadun Yosi Herfanda

ada tangan hitam  
yang selalu menangkapku  
memasukkanku dalam sangkarmu  
ada tangan hitam  
yang selalu mengikatku  
membakarku dalam apimu

ada tangan hitam  
yang selalu menjeratku  
melulukanku dalam darahmu  
-Kuberikan kebebasanmu  
Sebagaimana kumemerdekakan mereka  
Dari penjara-penjaranya, katamu

Tapi tangan-tangan hitam  
Selalu memburuku  
.....

Suasana yang terdapat dalam kutipan puisi tersebut adalah...

- Kegelisahan
  - kesendirian
  - kesedihan
  - kegembiraan
  - kepasrahan
27. Perhatikan pantun berikut!

Supaya tangan tidak terluka  
Jangan dikepit hulunya kapak  
Supaya Tuhan tidak murka  
Jangan sakiti ibu dan bapak

Isi pantun tersebut adalah...

- Jangan menyakiti hati kedua orang tua agar Tuhan tidak marah
- Jangan memegang ujung kapak agar tangan kita tidak terluka
- Tuhan marah jika melukai tangan orang tua dengan kapak
- Berkerjalah dengan hati-hati jangan terluka dengan benda tajam
- Jangan menyakiti hati orang tua dengan menggunakan benda taja

28. **Bacalah dengan saksama bait “Gurindam Dua Belas” berikut!**

Cahari olehmu akan sahabat  
Yang boleh dijadikan obat.  
("Gurindam Dua Belas", karya Raja Ali Haji)

Maksud isi gurindam tersebut adalah...

- A. Carilah teman untuk dijadikan sahabat sebanyak-banyaknya
- B. Teman untuk sahabat tidak banyak jadi hati-hatilah
- C. Jika ingin mencari sahabat, maka perhatikan baik-baik
- D. Lebih banyak sahabat akan lebih baik dalam pergaulan
- E. Pandai-panda mencari teman untuk dijadikan sahabat

29. **Cermati paragraf berikut!**

1)Pengunjung dalam konser itu semua datang dengan membawa keluarga. 2) Sehingga panitia memperketat penjagaan pada pintu masuk.3) Dalam konser itu dihadiri pula oleh pejabat DKI. 4) Gubernur Joko Widodo tidak ketinggalan datang pula melihat penampilan penyanyi idolanya. 5) Sangat banyak sampah terlihat setelah konser berakhir

Kalimat yang tidak padu dalam paragraf tersebut adalah nomor....

- A. (1)
- B. (2)
- C. (3)
- D. (4)
- E. (5)

30. **Cermati kutipan paragraf argumentasi berikut!**

Bahaya narkoba sangat meresahkan masyarakat tidak terkecuali ibu rumah tangga karena mereka merupakan pilar utama pengasuhan anak. Namun orang tua tidak dapat mengikuti perjalanan putra/putri mereka sepanjang hari kemanapun mereka pergi, karena masing-masing punya tupoksi sendiri-sendiri. Orang tua bekerja mencari nafkah untuk anaknya, sementara putra/putrinya melaksanakan kegiatan sendiri sesuai dengan usianya. Ada yang sekolah, ada yang bekerja. Kekhawatiran orang tua disebabkan semakin merebaknya pemakaian narkoba saat ini, yang semakin menyeluruh di semua kalangan....

Kalimat yang tepat untuk melengkapi bagian yang rumpang adalah...

- A. Oleh karena itu diperlukan penanganan yang maksimal terhadap pengguna dan pengedar narkoba
- B. Orang tua tidak perlu khawatir terhadap perilaku putra/putrinya di luar rumah karena mereka sudah dewasa
- C. Pemerintah tidak memperhatikan peredaran narkoba dan bahayanya yang sangat tinggi di kalangan remaja.
- D. Oleh karena itu orang tua harus mengikuti kemanapun putra/putrinya pergi setiap hari untuk mengantisipasi
- E. Remaja perlu mengatur pola hidupnya yang sehat dan tidak terlibat narkoba serta pergaulan negatif

31. **Cermati paragraf deskripsi berikut!**

Tempat wisata pemandian alam “ Bantimurung “ yang terletak di Kabupaten Maros, Sulawesi Selatan memiliki keunikan tersendiri bagi pengunjung yang berasal dari berbagai daerah. Lokasinya yang jauh dari perkotaan menambah kesejukan dan kenyamanan. Air terjunnya yang sangat sejuk dan indah menambah kesegaran pengunjung saat berendam di bawahnya. Kupu-kupu cantik dan indah beterbangan dengan warna-warna yang mempesona tiada tara....

Kalimat yang tepat untuk melengkapi bagian yang rumpang pada paragraf deskripsi tersebut adalah...

- A. Segeralah berkunjung ke sana agar bisa mengetahui yang sebenarnya
- B. Pepohonan yang tinggi dan rimbun menambah keasrian suasana
- C. Jelaslah bahwa tempat pemandian Bantimurung di Makassar sangat mempesona
- D. Warga dari luar provinsi pun banyak yang berkunjung ke sana
- E. Di dalam gua terdapat telapak tangan besar milik penjajah pada zaman dahulu

32. **Bacalah paragraf generalisasi berikut!**

Setelah diadakan penelitian oleh Dardjowijoyo pada seorang anak yang bernama Echa, ternyata kemampuan penguasaan dalam kosa kata Echa diketahui pada nomina menduduki posisi paling atas yaitu 49 % dan verba menduduki urutan kedua yaitu rata-rata 29% . sementara itu, ajectiva pada urutan ketiga yakni 13 % dan kata fungsi menduduki urutan keempat yaitu 10 persen.

(Soenjono Dardjowijoyo.2003.*Psikolinguistik*)

Kesimpulan yang dapat diambil dari paragraf generalisasi di atas adalah...

- A. Penguasaan kosa kata Echa sangat minim berdasarkan hasil penelitian Darjowijoyo
- B. Penguasaan kosa kata Echa bervariasi dan tertinggi pada kemampuan kata nomina
- C. Penguasaan kosa kata Echa sangat tinggi pada semua jenis kata
- D. Penguasaan kosa kata Echa sangat rendah pada semua jenis kata
- E. Echa tidak dapat menguasai kosa kata jenis apapun sesuai dengan penelitian

33. **Bacalah silogisme berikut dengan saksama!**

PU : Semua pelajar di DKI akan segera diberikan kartu pintar oleh Gubernur Joko Widodo  
PK : Samy pelajar di DKI  
Simpulan : ....

Simpulan yang tepat untuk melengkapi silogisme tersebut adalah....

- A. Semua pelajar akan diberikan kartu pintar oleh Joko Widodo
- B. Samy adalah pelajar di DKI dan akan diberikan kartu pintar
- C. Gubernur Joko Widodo akan memberikan kartu pintar kepada pelajar
- D. Kartu pintar akan diberikan kepada semua pelajar di DKI termasuk Samy
- E. Samy akan segera diberikan kartu pintar oleh Gubernur Joko Widodo

34. **Cermati kutipan pidato berikut!**

Hadirin yang saya hormati,  
Pertemuan ini bertujuan untuk menyampaikan sosialisasi Ujian Nasional tahun pelajaran 2012-2013 yang akan dilaksanakan mulai pada tanggal 15 April 2013. Pada kesempatan ini pula kami pihak sekolah meminta kepada Bapak dan Ibu orang tua siswa/i SMA Negeri 84 Jakarta Barat, agar memantau kegiatan belajar putra/nya di rumah, serta memberikan motivasi agar mereka siap menghadapi ujian.....

Kalimat persuasif yang tepat untuk melengkapi bagian yang rumpang pada kutipan pidato tersebut adalah....

- A. Orang tua siswa/i kelas XII sekolah ini tidak usah khawatir karena kami yakin semua akan lulus
- B. Marilah kita berpartisipasi aktif dalam upaya kelulusan semua siswa yang akan ikut ujian semoga lulus
- C. Marilah kita ikut berpartisipasi aktif dalam upaya kelulusan siswa/i di kelas XII sekolah ini sesuai dengan tugas kita masing-masing
- D. Marilah kita ikut berpartisipasi aktif dalam upaya kelulusan siswa/i di kelas XII sekolah ini karena semuanya cerdas
- E. Dengan demikian dapat dikatakan bahwa semua siswa/i yang akan mengikuti ujian harus belajar dengan tekun

35. **Cermati paragraf berikut!**

Sekolah yang dinilai mempunyai ... baik adalah sekolah yang tidak hanya unggul dalam mutu akademik, tapi juga unggul dan memiliki... dalam kegiatan...

Penulisan kata baku yang tepat untuk melengkapi paragraf tersebut adalah....

- A. kualitas, perestasi, ekstra kurikuler
- B. kuwalitas, prestasi,ekstrakurikuler
- C. kualitas, prestasi, ekstrakurikuler
- D. kualitas, prestasi, ekstra kurikuler
- E. kwalitas, prestasi, ekstrakurikuler

36. **Cermati kalimat berikut!**

- (1) Mereka datang bersama rombongan sehingga berdesakan-desakan di pintu.
- (2) Semua siswa kelas XII yang sudah tamat mengikuti acara pelepasan dan mereka saling bersalam-salaman.
- (3) Peserta rapat bernyanyi-bernyanyi setelah dua hari tidak beristirahat membahas anggaran.
- (4) Para jemaah haji yang sudah tiba di tanah air bersalam-salaman dengan keluarga yang menjemputnya.
- (5) Dia tidak tenang menunggu kehadiran artis kesayangannya sehingga selalu berjalan balik-balik tidak tenang.

Penggunaan kata ulang yang tepat sesuai dengan maknanya adalah kalimat nomor...

- A. (1)
- B. (2)
- C. (3)
- D. (4)
- E. (5)

37. **Cermati paragraf berikut!**

Proses pembelajaran di sekolah saat ini berbeda dengan proses belajar mengajar pada tahun lalu. Hal itu terjadi karena adanya ....kurikulum 2013 yang diharapkan dapat memicu pening katan... pendidikan . Namun demikian guru tidak boleh lepas dari peraturan yang sudah ..., hal ini sangat ditekankan agar ketercapain tujuan dari penggunaan kurikulum baru dapat dicapai sesuai dengan harapan.

Kata serapan yang tepat untuk melengkapi bagian yang rumpang pada paragraf tersebut adalah....

- A. Implemen, kualitas, standardisasi
- B. Implementasi, kwalitas, standardisasi
- C. Implementasi, kuwalitas, standardisasi
- D. Implementasi, kualitas, standarisasi
- E. Implementasi, kualitas, standardisasi

38. **Cermati pargaraf berikut!**

Prahara yang terjadi pada Partai Demokrat...ketua pembina partai Susilo Bambang Yudhoyono...langkah tegas sebagai upaya...partai agar tidak semakin terpuruk. Keterpurukan Partai Demokrat sesuai dengan survei merosot pada angka 8,3 %. Hal ini sangat memeprihatinkan bagi ketua Partai Demokrat itu.

Kata berimbuhan yang tepat untuk melengkapi bagian yang rumpang pada paragraf tersebut adalah....

- A. sebabkan,menempuh, penyelamatan
- B. menyebabkan, mengambil, selamatkan
- C. sebabkan, pengambilan, penyelamatan
- D. menyebabkan, mengambil, penyelamatan
- E. menyebabkan, mengambulkan, keselamatan

39. **Cermati kalimat berikut!**

- (1) Siswa *sedang belajar* menghadapi UN
- (2) *Dokter muda* itu sedang melaksanakan ibadah haji
- (3) Ayah *baru tiba* dari kantor karena macet



- (4) Kepala sekolah memberikan penghargaan karena dia *sangat pandai*  
(5) Presiden SBY *marah besar* saat rapat berlangsung  
Kalimat yang menggunakan frasa nominal terdapat pada kalimat nomor....

- A. (1)  
B. (2)  
C. (3)  
D. (4)  
E. (5)

40. **Cermati paragraf berikut!**

Untuk meningkatkan mutu sekolah ... perlu diadakan berbagai usaha. Semua usaha yang dilakukan harus mencakup semua unsur. Bidang kurikulum, kesiswaan, ... sarana/prasarana, ...humas. Tentu disesuaikan... dengan 8 standar nasional pendidikan. Diharapkan ada peningkatan jumlah siswa yang diterima di perguruan tinggi negeri.

Kata penghubung yang tepat untuk melengkapi bagian yang rumpang pada paragraf tersebut adalah....

- A. pula, serta, dan, pula  
B. maka, dan, serta, pula  
C. serta, dan, pula, pula  
D. maka, serta, dan, pula  
E. bila, dan, pula, juga

41. **Perhatikan dengan saksama kutipan undangan berikut!**

Dengan hormat,

Melalui surat ini, kami mengundang siswa/i dari SMA yang Bapak pimpin untuk mengikuti lomba pidato dalam rangka Hari Pendidikan Nasional 2014. Lomba akan dilaksanakan pada hari Jumat, 2 Mei 2014, mulai pukul 09.00 WIB s.d pukul 14.00 WIB, bertempat di aula SMA Negeri 84 Jakarta.

Pemerian waktu yang tepat untuk melengkapi undangan tersebut adalah....

- A. Hari : Jum'at  
Tanggal : 2 Mei 2014  
Pukul : 09.00 sampai pukul 14.00 WIB  
Tempat : Aula SMA Negeri 84 Jakarta  
Acara : Lomba pidato
- B. hari : Jum'at  
tanggal : 2 Mei 2014  
waktu : pukul 09.00 s.d. pukul 14.00 WIB  
tempat : aula SMA Negeri 84 Jakarta  
acara : lomba pidato
- C. hari : Jum'at  
tanggal : 2 Mei 2014  
pukul : 09.00 sampai selesai  
tempat : Aula SMA Negeri 84 Jakarta  
acara : Lomba pidato
- D. hari : Jum'at  
tanggal : 2 Mei 2014  
pukul : 09.00 WIB – 14.00 WIB  
tempat : Aula SMA Negeri 84 Jakarta  
acara : Lomba pidato

- E. Hari : Jum'at  
Tanggal : 2 Mei 2014  
Pukul : 09.00 sampai selesai  
Tempat : Aula SMA Negeri 84 Jakarta  
Acara : Lomba pidato

42. **Cermati penutup surat lamaran kerja berikut!**

Atas perhatian Bapa/Ibu, saya ucapkan banyak terima kasih.

Bagian yang harus diperbaiki dalam kutipan surat lamaran pekerjaan tersebut adalah....

- A. Kata *Bapak/ibu* diganti dengan *-nya* dan kata *ucapkan* diganti dengan *mengucapkan*  
B. Kata *Bapak/Ibu* diganti dengan *-nya* dan *banyak* dihilangkan  
C. Kata *ucapkan* diganti dengan *haturkan*  
D. Kata *ucapkan* diganti dengan *mengucapkan* dan kata *banyak* dihilangkan  
E. Kata *ucapkan* diganti dengan *mengucapkan* dan *banyak* diganti *banyak-banyak*
43. Penulisan judul yang tepat sesuai dengan EYD adalah....
- A. Uji Kompetensi Guru di Daerah Binaan  
B. Uji Kompetensi Guru Di Daerah Binaan  
C. Uji Kompetensi guru diDaerah Binaan  
D. Uji Kompetensi Guru didaerah Binaan  
E. uji kompetensi guru di daerah binaan

44. **Cermati topik karya tulis berikut untuk menjawab soal nomor 44 s.d 45!**

Topik : Upaya meningkatkan kedisiplinan pelajar berlalu - lintas dalam mengemudikan kendaraan

Kalimat latar belakang karya tulis ilmiah sesuai dengan topik di atas adalah...

- A. Tata tertib lalu lintas sangat banyak yang perlu dipatuhi oleh pengendara khususnya bagi pelajar  
B. Pihak polantas harus menindak tegas pelajar yang tidak mematuhi tata tertib lalu lintas dalam berkendara  
C. Melanggar tata tertib lalu lintas dapat membahayakan diri pelajar dalam mengemudikan kendaraan  
D. Beberapa pelajar ditahan karena melanggar tata tertib berlalu lintas  
E. Sangat banyak pelajar yang tidak mematuhi tata tertib berlalu lintas serta tidak melengkapi surat-surat berkendara
45. Rumusan masalah yang tepat sesuai dengan topik karya tulis tersebut adalah....
- A. Bagaimana upaya untuk meningkatkan kedisiplinan pelajar dalam mengemudikan kendaraan?  
B. Mengapa pelajar tidak disiplin dalam berkendara?  
C. Kapankah pelajar tidak mematuhi disiplin berlalu lintas?  
D. Di mana kita dapat menemukan pelajar tidak disiplin dalam mengemudikan kendaraan?  
E. Bagaimana sikap pelajar dalam menggunakan kendaraan di jalan raya saat berkendara?

46. **Cermatih pantun berikut!**

Anak ayam turunnya lima  
Mati seekor tinggal empat  
Kita hidup mesti beragama  
...

Larik yang tepat untuk melengkapi pantun tersebut adalah....

- A. Supaya hidup bahagia  
B. Agar mati masuk surga  
C. Supaya hidup tidaklah sesat

- D. Agar kelak tidak menyesal
- E. Hidup harus beragama

47. **Cermati kutipan dialog drama berikut!**

Falih : "Hm sebentar lagi kita lulus SMA, nanti jarang ketemu deh kita."  
Riani : Iya nih aku juga bakalan kangen banget sama kalian semua.  
Fariz : Dua bulan lagi menjelang UN gue butuh banget banyak waktu nih untuk belajar bareng kalian.  
Anjani : Kalian semua ini mau lanjutkan kuliah di mana?  
Riani : Aku sedih kalau ngomongin kuliah  
Falih : Kenapa sedih Riani?  
Riani : ....

Kalimat yang tepat untuk melengkapi dialog drama tersebut adalah....

- A. Saya sedih karena sebentar lagi akan lulus SMA dan kuliah
- B. Mengapa kita harus sedih bukannya sebaiknya kita bahagia
- C. Saya sedih karena tidak punya biaya untuk melanjutkan kuliah
- D. Tidak perlu sedih karena kuliah bukan satu-satunya jalan sukses
- E. Daripada sedih, ayo kita belajar kelompok membahas matematika

48. **Cermati kutipan penjelasan berikut!**

Dalam novel yang berjudul "Potret Gelagat Manusia Modern" ini diceritakan bahwa Yudha adalah seorang pemuda yang berada di Australia memiliki kedekatan bathin dengan Nina yang berada di Jakarta. Kedekatan itu mereka temukan dalam dunia *Cyber*, dunia maya yang telah dijadikan alternatif baru dalam bersosialisasi. Berbicara tentang gaya hidup modern dengan sastra, ternyata aroma kehidupan modern telah mampu merasuk dalam karya sastra. Hal ini wajar karena karya sastra merupakan potret dari kehidupan. Dalam hal ini karya sastra merupakan penanda yang mewakili zaman tertentu. Dalam karya perdananya ini Novita menjadikan tokoh Nina dan Yudha sebagai orang-orang yang kesepian dan terjadi perselingkuhan. Di sinilah diperlukan kecerdasan pembaca untuk memilih mana buku yang baik dan mana yang buruk. Jenis karya yang dihasilkan Novita ini dapat dikatakan sebagai bentuk dari kreativitas kawula muda yang mungkin masih memiliki sedikit kepedulian terhadap perkembangan karya sastra.  
(Kritikus : Raisal Kahfie)

Kalimat kritik yang sesuai dengan isi penjelasan tersebut adalah...

- A. Dalam novel yang berjudul "Potret Gelagat Manusia Modern" ini diceritakan bahwa Yudha adalah seorang pemuda yang berada di Australia memiliki kedekatan bathin dengan Nina yang berada di Jakarta
- B. Berbicara tentang gaya hidup modern dengan sastra, ternyata aroma kehidupan modern telah mampu merasuk dalam karya sastra
- C. Dalam karya perdananya ini Novita menjadikan tokoh Nina dan Yudha sebagai orang-orang yang kesepian dan terjadi perselingkuhan
- D. Penulis novel harus mencipta sesuai dengan keadaan zaman saat ini walaupun tidak bermutu
- E. Tidak mudah bagi novelis muda saat ini untuk menciptakan karya sastra yang bermutu dan bernilai sastra yang tinggi

49. **Cermati paragraf berikut!**

Novel dibuka dengan pemaparan mengenai sakit Utay, calon pengantin. Tatkala Utay berhasil disembuhkan oleh kepala suku. Bagaimana akhir ceritanya? Malapetaka yang diramalkan Sang Penghulu pun terbukti persis seperti yang dilihat melalui pancaran bathinnya saat menyembuhkan si utay. Ngarto, penulis novel, tidak memberi apresiasi yang rumit dan canggih pada dua protagonisnya. Ia membiarkan dua tokohnya jatuh di jurang yang teramat dalam. Utay memperoleh julukan penghianat suku dan Arumi melanggar tabu di luar restu adat.

Kalimat resensi yang menyatakan kelemahan buku novel adalah...

- A. Novel dibuka dengan pemaparan mengenai sakit Utay, calon pengantin kepala suku
- B. Penulis novel, tidak memberi apresiasi yang rumit dan canggih pada dua protagonisnya
- C. Malapetaka yang diramalkan Sang Penghulu pun terbukti persis seperti yang dilihat melalui pancaran bathinnya saat menyembuhkan si utay
- D. Utay memperoleh julukan penghianat suku dan Arumi melanggar tabu di luar restu adat
- E. Penulis novel cermat menempatkan tokohnya sesuai adat kalimantan yang merupakan latar cerita

50. **Bacalah kutipan paragraf esai berikut!**

Manusia hidup dalam paradoks, melakukan perjalanan bolak-balik, pergi-pulang yang tak kunjung selesai antara kesendirian dan kebersamaan, individualitas dan kolektivitas, beserta seluruh pernak-perniknya, juga risikonya. Lantas apakah kesendirian dan kebersamaan merupakan dua hal yang hitam-putih? Dua dunia yang bertentangan dan berseberangan?

Sesungguhnya dua hal itu sama sekali tidak perlu dipertentangkan secara mutlak dalam posisi yang dikotomis-kategoristis, tetapi yang penting ialah bagaimana mengusahakan keseimbangan antara keduanya. Ketegangan dalam mengusahakan keseimbangan antara kedua hal itulah yang membuat hidup jadi menarik untuk dijalani, bukan?

Kesimpulan yang tepat sesuai dengan isi paragraf esai tersebut adalah...

- A. Manusia hidup dalam paradoks, melakukan perjalanan bolak-balik, pergi-pulang yang tak kunjung selesai
- B. Perbedaan dalam kehidupan tidak perlu dipertentangkan, yang penting bagaimana menyeimbangkan antara keduanya.
- C. Kesendirian dan kebersamaan merupakan dua hal yang hitam-putih? Dua dunia yang bertentangan dan berseberangan?
- D. Sesungguhnya dua hal itu sama sekali tidak perlu dipertentangkan secara mutlak dalam posisi yang dikotomis-kategoristis
- E. Agar hidup ini menarik perhatikan pertentangan dan perbedaan yang terjadi dan pikirkanlah itu setiap saat.

**Petunjuk:**

**Pilih satu jawaban yang benar**

## Springdale Estate

### Regulations for Wedding/Receptions In Auerbach Hall Gardens

- 1) The hall and/or approved areas in the gardens of Springdale Estate are available for weddings and receptions during normal operating hours, while the gardens are also open to the public. Hours : 8 A.M. – 8 P.M.
  - 2) The cost for a wedding or reception is £8.00 per person. If the reception includes catering, the cost will be an additional £20.00 per person.
  - 3) All person must depart the gardens no later than the normal closing time. A late fee of £75 per hour will be charged until all persons have exited the property.
  - 4) Rehearsal: If a rehearsal is planned prior to the wedding day, no more than 10 persons will be admitted fee.
  - 5) A security deposit of £100 must be made at least 30 days prior to the function. This deposit will be refunded provided the grounds are left free of damage and litter.
1. For whom are these instructions written?
    - A. People going to a business meeting
    - B. People planning to get married
    - C. People going to a late-night party
    - D. People planning to tour the gardens
    - E. People going to a movie
  2. What is the cost per person if no food is served?
    - A. £8.00
    - B. £20.00
    - C. £75.00
    - D. £100.00
    - E. £150.00
  3. For what reason would a security deposit not be refunded?
    - A. If the grounds were not left clean
    - B. If too many of people attended an event
    - C. If guests failed to leave before the closing time
    - D. If unauthorized areas of the estate were used
    - E. If something eror
  4. The cost for a wedding or reception is £8.00 per person. If the reception includes catering, the cost will be an additional £20.00 per person.  
The underlined word means ...
    - A. Prompt
    - B. Welcome
    - C. Release
    - D. Party
    - E. Invitation
  5. Rehearsal: If a rehearsal is planned prior to the wedding day, no more than 10 persons will be admitted fee. The underlined word means....

- A. Preparation
- B. Implementation
- C. Orientation
- D. Correlation
- E. Duration

**Text 1 is for question number 6 to 10.**

Although speech is the most advanced form of communication, there are many ways of communicating without using speech. Signals, signs, symbols, and gestures may be found in every known culture. The basic function of a signal is to impinge upon the environment in such a way that it attracts attention, as, for example, the dots and dashes of a telegraph circuit. Coded to refer to speech, the potential for communication is very great. Less adaptable to the codification of words, signs also contain meaning in and of themselves. A stop sign or a barber pole conveys meaning quickly and conveniently. Symbols are more difficult to describe than either signals or signs because of their intricate relationship with the receiver's cultural perceptions. In some cultures, applauding in a theater provide performers with an auditory symbol of approval. Gestures such as waving and handshaking also communicate certain cultural messages.

Although signals, signs, symbols, and gestures are very useful, they do have a major disadvantage. They usually do not allow ideas to be shared without the sender being directly adjacent to the receiver. As a result, means of communication intended to be used for long distances and extended periods are based upon speech. Radio, television, and the telephone are only a few.

6. Which of the following would be the best title for the passage?
- A. Signs and Signals
  - B. Gestures
  - C. Communication
  - D. Speech
  - E. Culture
7. According to the passage, what is a signal?
- A. The most difficult form of communication to describe
  - B. A form of communication which may be used across long distances
  - C. A form of communication that interrupts the environment
  - D. The form of communication most related to cultural perceptions
  - E. A form of communication which develop culture
8. The phrase "impinge on" in line 3 is closes in meaning to
- A. Impulse
  - B. Impose
  - C. improve
  - D. vary
  - E. prohibit
9. The word "it" in line 4 refers to
- A. function
  - B. signal
  - C. environment
  - D. way
  - E. Culture

10. Why were the telephone, radio, and TV invented?
- A. People were unable to understand signs, symbols, and signals.
  - B. People wanted to communicate across long distances
  - C. People believed that signs, signals, and symbols were absolute.
  - D. People wanted new form of entertainment.
  - E. People wanted to communicate simply

**Text 2 is for question number 11 to 15.**

During the nineteenth century, women in the United States originated and participated in large number of reform movement, including movement to recognize the prison system, improve education, ban the sale of alcohol, and, most importantly, to free the slaves. Some women saw similarities in the social status of women and slaves. Woman like Elizabeth Cady Stanton and Lucy Stone were feminist and abolitionists who supported the rights of both women and blacks. A number of male abolitionists, including William Lloyd Garrison and Wendell Philips, also supported the right of women to speak and participate equally with men in antislavery activities. Probably more than any other movement, abolitionism offered women a previously denied entry into politics. They became involved primarily in order to better their living conditions and the conditions of others.

When the civil war ended in 1865, the fourteenth and fifteenth Amendments to the constitution adopted in 1869 and 1870 granted citizenship and suffrage to black but not to women. Discouraged but resolved, feminists influenced more and more women to demand the right to vote. In 1869 the Wyoming Territory had yielded to demands by feminists, but eastern states resisted more stubbornly than before. A women's suffrage bill had been presented to every Congress since 1878 but it continually failed to pass until 1920, when the Nineteenth Amendment granted women the right to vote.

11. With what topic is the passage primarily concerned?
- A. The Wyoming Territory
  - B. The Fourteenth and Fifteenth Amendments
  - C. Abolitionists
  - D. Women's suffrage
  - E. Woman's territory
12. The word "ban" in line 3 most nearly means to
- A. encourage
  - B. publish
  - C. prohibit
  - D. limit
  - E. push
13. According to the passage, why did women become active in politics?
- A. To improve the conditions of life that existed at the time
  - B. To support Elizabeth Cady Stanton for presidents
  - C. To be elected to public office
  - D. To amend the Declaration of Independence
  - E. To live prosperously same as man
14. The word "primarily" in line 9 is closest in meaning to
- A. above all
  - B. somewhat
  - C. finally
  - D. cowardly
  - E. secondarily

15. What had occurred shortly after the Civil War?
- A. The Wyoming Territory was admitted to the Union
  - B. A women's suffrage bill was introduced in Congress.
  - C. The eastern states resisted the end of the war
  - D. Black people were granted the right to vote
  - E. Women were granted to have a vote in government

**Reading Section**

Text 3 is for question number 16 to 17.

January 8,2010  
PT Arya Guna  
Jl.Juanda no 19  
Jakarta  
13740

Att, Mr.Anwar Hadimulyo

The displays you created for the promotion are just beautiful.  
Several of the sales personnels told me that they have congratulation on a job well done !

Yours very truly

Tony Sokamto

16. Why does he write a letter?
- A. To order something
  - B. To thank for the display
  - C. To complain about the display
  - D. To congratulate on a job well done
  - E. To inform about the beautiful display

Discussions: contained in the message : "congratulation on a job well done !"

17. " ....that they have received numerous compliments from the customers"  
The underlined word means....
- A. orders
  - B. praises
  - C. devotions
  - D. complains
  - E. loyalty

**Text 3 is for question number 18 to 19.**

**WHY WAIT FOR A BETTER JOB**

Get your time for a great job now National Air is looking for fulltime representatives for sales and reservations. Talk to our employees and discover why we're the best thing in the air.  
Interviews on the spot! Bring your resume and CV.

OPEN HOUSE  
National Air Headquarters  
Southeast Regional Airport  
Monday, Jan 5, 7.30 am



18. What is the text about?
- National Air is looking for new employees\*
  - People discover National Air is the best
  - National Air is the best Airways
  - National Air interviews people
  - People wait for a better job
19. What is the purpose of this advertisement?
- To sell tickets
  - To meet new people
  - To show off the new people
  - To recruit potential employees
  - To persuade reader to come to the open house

**Text 4 is for question number 20 to 23.**

### **Iran vows to confront 'malicious' embargo**

Marcus George(Reuters/DUBAI)

Iran pledged to counter the impact of a European Union (EU) oil embargo which took full effect on Sunday, saying it had built up US\$150 billion in foreign reserves to protect itself.

The EU ban on crude import is part of a push by western countries aimed at choking Iran's export earnings and forcing it to curb a nuclear program the fear includes weapons development. Teheran says it has such plan.

"We are implementing programs to counter sanctions and we will confront these malicious policies," Mohr news agency quoted central bank governor Mahmoud Bahmani as saying. He said the effects of sanctions were tough but that are Iran had built up \$ 150 billion in foreign reserve.

The European union banned new contracts for imports of Iranian crude in January, but allowed existing ones to continue until July 1. EU firms are also barred from transporting Iranian crude or insuring shipments under the sanction.

20. What is the news about?
- A. Iranian's \$150 billion program implementation to respond to EU embargo impact
  - B. The building up US \$150 billion in foreign reserves to protect itself
  - C. The implementation of a new sanction for Iranian's embargo
  - D. The embargo for Iranian as the sanction from European Union
  - E. The banning of crude oil import from Mahmoud Bahmani, Iran
21. What statement was altered by Mahmoud Bahmani as quoted by Mohr news agency?
- A. The impact of Nuclear weapons was tough
  - B. EU fear about Iranian's nuclear program and weapon
  - C. We will confront the malicious sanction policies given by Iran
  - D. The amount of \$150 sums had been built up for Nuclear program
  - E. He said that Iranians were implementing programs to counter the sanctions
22. What is the reason of the EU to give sanction for Iran?
- A. It had built up \$150 billion in foreign reserves
  - B. Iran export over capacity of crude oil to foreign countries
  - C. Iran banned new contracts with EU for import of crude oil
  - D. Iran implemented new program that choked the European Union
  - E. European Union fear of Iranian's Nuclear program and weapon development
23. "The European Union **banned** new contracts for imports of Iranian crude in January..." what does the underlined phrase mean?
- A. Barred
  - B. Included
  - C. Allowed

- D. Designed
- E. Signed

**Text 5 is for question number 24 to 26.**

### Seeing an UFO

When I was out walking around in Parson's Field last night, I heard a loud metallic sound like a steel drum being cut up by a chainsaw. When I looked up, I saw gigantic spaceship landing in the woods to my left. It was circular and flat like a flying saucer. Lots of tiny blue balls or light like electricity were being fired out of it in all directions. One of the lights came straight at me and seemed to pass right through at me. I felt a stinging sensation from head to foot, but the sensation passed in a few seconds.

By now the ship had landed behind the trees and all I could see was a faint yellow glow. I intended to run while I had the chance, but I seemed to have no control over my body. To my horror, my legs began to be pulled towards the spaceship. I tried to free myself, but it was **fruitless**.

As I entered the clearing where the alien craft had landed, I was caught in a strong beam of white light that actually lifted me off the ground. I was held in mid-air for several seconds, and I felt that I was being examined inside and out. Suddenly the beam was switched off and I fell to the damp ground. I was slightly stunned, but now I could see the spaceship properly. Its surface was completely smooth. There were no openings, and I could not make out where the lights had been beamed from. However, the whole ship was glowing yellow. It was in a few minutes the spaceship rose and disappeared into the night sky. This is undoubtedly the strangest experience in my life!

- 24. What was the writer's strangest experience?
  - A. Moving the spaceship
  - B. Cleaning the alien craft
  - C. Seeing the spaceship properly
  - D. Making the spaceship disappearing
  - E. Visiting the gigantic spaceship landing
  
- 25. What does the second paragraph mainly tell us about?
  - A. The writer saw a faint yellow glow
  - B. The ship had landed behind the trees
  - C. The ship attracted the writer to come in
  - D. The writer intended to run but he could not
  - E. The writer tried to figure out what happened
  
- 26. I tried to free myself, but it was **fruitless** (paragraph 2). The underlined word is synonym with...
  - A. Priceless
  - B. Plantation
  - C. Hopeless
  - D. Happiness
  - E. Frighteners

**Text 6 is for question number 27 to 30.**

Internet can be known as a kind of global meeting place where people from all parts of the world can come together. The internet provides opportunities galore, and can be used for a variety of things. You can do E-mails that is considered an online correspondence system. With E-mail you can send a receipt electronic message, which work like writing letters. Your messages are delivered instantly to people anywhere worldwide, unlike traditional mail that takes lots of time.

You may access information where any kind of information on any topic under the sun is available on the internet. The 'search engines' on the Internet can help you to find data on any subject that you need.

You can shop along with getting information on the internet, you can also shop online. There are many online stores and sites that can be used to look for products as well as buy them using your credit card. You do not need to leave your

house and can do all your shopping from the convenience of your home. You are also welcomed to download software: This is one of the most happening and fun things to do via the internet. You can download innumerable, games, music, video, and a host of other entertainment software from the internet, most of which are free.

Nonetheless, there are certain cons and dangers relating to the use of internet. Your personal information such as your name, address, etc. can be accessed by the other people. If you use a credit card to shop online, then your credit card information can also be 'stolen' which could be akin to giving someone a blank check. This is a very serious issue concerning the internet, especially when it comes to young children. There are thousands of pornographic sites on the internet that can be easily found and can be a detriment to letting children use the internet. Other illegal activities on the internet; such as child pornography, kidnapping or even spammers endangers the safety of young generation life.

Therefore, it needs to be controlled by all grown up people unless it will bring huge inconvenience for our prosperous life.

27. What is the next mainly about?
- A. the benefit and the inconvenience of internet in daily life need
  - B. the importance of applying internet at home for daily need
  - C. accessing information via internet services to support our life
  - D. a huge inconvenience of internet user
  - E. the opinion of the Internet users
28. Internet is also popular as a global meeting place because...
- A. we can communicate, shop, and find information from the people universally
  - B. it enables us to connect with people from many countries based on our preference
  - C. people from every country can meet together in one place
  - D. illegal activities can be done by criminal all over the world
  - E. worldwide people may hold the meeting via internet
29. Why do you think people should have extra carefulness dealing with internet access?
- A. internet presents us huge benefit
  - B. young generation needs internet media to get information
  - C. internet brings lot of benefits but small disadvantages
  - D. if we are not careful enough, internet only gives us little information
  - E. many illegal activities are performed via internet services that harm either adults or youngsters
30. "It need to be controlled by all grown up people. (last paragraph)." What does the underlined phrase mean?
- A. not necessary to be prohibited
  - B. not essential to be illegalized
  - C. obliges to be restricted
  - D. ought to be wide opened
  - E. must be unlocked

**Text 7 is for question number 31 to 34.**

Trains as a means of mass transportation should be developed to answer at least partially, problems including the country's increasing energy consumption traffic congestion and pollution as an alternative to simply building more toll roads.

Not only faster, but trains are also more economical in terms of energy used. Train with eight carriages can take around 1,600 passengers and only consumes three liters of fuel per kilometer. Compared to buses, which can only take 40 people, or cars with three or four passengers, trains consume much less fuel. According to a recent survey trains consume an average of 1,995 British Thermal Units per passenger per mile, or around 58 percent of the fuel consumption of buses which stood at 3,415 British Thermal Units. Currently, it is estimated that vehicles consume around 80 percent of the country's total fuel.

Moreover, since almost all trains operating in the Greater Jakarta area were electric, they produced very little pollution. According to a survey on transportation in Sweden, pollution costs of road transportation reached US\$ 16 billion a year while trains have an annual pollution cost of US\$ million. Jakarta is the third most polluted city in the world with its

6.5 million vehicles, mostly private cars. Motor vehicles are the main contributors to air pollution in the city, accounting for about 70 percent of pollutants, including carbon monoxide and sulfur dioxide.

Every day, at least 138 new cars on average enter the city streets, putting further burdens on already overcrowded roads, most of which are community streets and lanes. Not to mention the 600,000 drivers who commute from suburban areas, like Bekasi and Tangerang.

The latest study by the Japan International Cooperation Agency ( JICA ) shows that the economic loss caused by the congestion now amounts to Rp 5,5 trillion annually. To overcome the congestion, the city administration plans to build seven new toll roads worth Rp 23 trillion ( US\$ 2,4 billion ) connecting busy areas in the capital. But transportation experts believe they could cause even greater congestion, saying that the new toll roads would simply allow more vehicles to enter the city. Trains were just one of the solutions to congestion.

It is time the government upgrades and rebuilds trains to attract more people to use them. Remember, KAI's total assets are only valued at Rp 3 trillion. With Rp. 23 trillion (the cost of the proposed toll roads), the government could make KAI eight times bigger than it is now.

31. What is the text about ?
- A. Problems of energy consumption, traffic congestion, and pollution
  - B. How to solve problems of traffic congestion and air pollution
  - C. Reasons why trains as mass transportation must be developed
  - D. An alternative to build more toll roads Indonesia
  - E. Trains as mass transportation in Indonesia
32. "Not to mention the 600,000 drivers who commute from suburban areas, like Bekasi and Tangerang ."  
(Paragraph 4).  
The underlined word means....
- A. Go
  - B. Live
  - C. Move
  - D. Travel
  - E. Transport
33. What makes trains able to solve the problem of pollution?
- A. Almost all of the trains use electricity
  - B. Trains increase eight times bigger and better
  - C. It can take around 1,600 passengers at one time
  - D. It only consumes three liters of fuel per kilometer
  - E. Trains have an annual pollution cost of US\$60 million
34. From the text we know that the writer intends to....
- A. retell the experience travelling with a train
  - B. inform about the increasing of energy consuming
  - C. describe the benefit of trains as mass transportation
  - D. tell about trains as mass transportation
  - E. persuade the government to develop train transportation

**Text 8 is for question number 35 to 38.**

Martial arts have never been more popular. Hollywood action blockbusters featuring acrobatic fight scenes like The Matrix and Charlie's Angels have been hugely successful, and the popularity of martial arts films from Hong Kong, China and Taiwan have turned actors like Jet Li and Jackie Chan into international superstars. While the closest that many martial arts enthusiasts get to a dojo is playing Mortal Kombat and Street Fighter in front of a TV screen in their living room, others are keen to hit the mats and have a go at martial arts themselves.

From the graceful, dance like moves of t'ai chi and capoeira to the explosive fighting styles of kung fu and karate, there is a martial art to suit every taste. Rock stars to bus conductors, vicars to politicians - people of all ages and from all walks of life are discovering the physical and mental benefits of practising a martial art.

Rock stars have often used martial arts to spice up their live performances. Elvis, who was a karate black belt, entertained his fans on stage with his karate kicking antics, and Madonna's recent tour features dance routines heavily influenced by martial arts. Jean Jacques Burnel, the French bass player in British punk band The Stranglers, shared Elvis' love for karate and often demonstrated his skill to fans. Unfortunately, however, his enthusiasm sometimes got the better of him – in the punk era he was well known for using karate to intimidate rival bands and music journalists.

35. What is the best title of the text?
- A. Rock Stars
  - B. Martial Arts
  - C. Hollywood Actors
  - D. Live Performances
  - E. Hollywood Actresses
36. "...there is a martial art to suit every taste."(Paragraph 2)  
The underlined word can be replaced with
- A. Fight
  - B. Enjoy
  - C. Match
  - D. Provide
  - E. Facilitate
37. The Following Is How The Writer Describes Martial Arts, Except...
- A. Popular Paragraph 1
  - B. Suitable: Paragraph 2
  - C. Graceful: paragraph 2
  - D. Explosive: paragraph 2
  - E. Physical: paragraph 2
38. "... Shared Elvis' Love For Karate And Often Demonstrated His Skill To Fans."  
What Does The Underlined Word Refer To?
- A. Jean Jacques Burnel's
  - B. The Journalist's
  - C. Jackie Chan's
  - D. Jet Li's
  - E. Elvis's (last paragraph)

**Text 9 is for question number 39 to 43.**

## Birth Control



Most people agree that some form of family limitation or spacing is desirable for the good of the family and society. But individuals and groups – especially religious groups – differ sharply on the methods of birth control that they consider unethically and unacceptable.

Couples that practice birth control do so for various reasons. They may want to limit or space their children, or to have no children at all. Young couples often postpone having children so that both partners can work fulltime. Other couples space their children so they can give each child as much attention

as possible. Some women are advised by their doctors to avoid pregnancy for health reasons. In many countries with rapidly growing populations, the government encourages couples to limit the size of their families.

Even though birth control has gained in acceptance; opposition to the practice is continuous. Some people fear that birth control encourages sexual relations outside marriage or that government might impose birth control. Some religious groups oppose birth control on moral grounds. Some religious groups teach that artificial methods of birth control are immoral because they separate the two purposes of intercourse in marriage-conjugal love and the procreation of children. Although they oppose all artificial birth control, they consider natural family planning acceptable.

39. What does the text discuss about?
- A. The idea of family limitation
  - B. The reason why couples practice birth control
  - C. The rejection of religious groups of applying birth control
  - D. The acceptance of practicing birth control both individual and religious groups
  - E. The pros and cons of applying birth control to space the children
40. What makes some people fear applying the birth control program?
- A. Birth control program is unapproved
  - B. It will be no more children in the world
  - C. Family planning potentially encourage the sexual relationship without married
  - D. Birth control hasn't gained the acceptance yet
  - E. Some religious groups oppose birth control on moral grounds
41. "Even though birth control has gained in acceptance" what does the underlined word mean?
- A. Rejection
  - B. Objection
  - C. Exception
  - D. Reluctant
  - E. Approval
42. What is the purpose of dense population country to adopt birth control?
- A. To encourage the couples to restrict the range of their family in its territory
  - B. To motivate the couples to have no children in their family
  - C. To ask couples to practice birth control for various reasons
  - D. To support couples to give each child as much attention as possible
  - E. To inspire both partners to work full time to support family's economy
43. What is the reason of religious groups not to agree about the birth control program?
- A. It makes many couples fear about the family limitation
  - B. It causes most of couples do not want to have children
  - C. It makes young couples often postpone having children
  - D. They judge the family planning program is morally unacceptable
  - E. They believe that birth control does not cause sexual relations outside marriage

**Text 10 is for question number 44 to 45.**

#### Announcement

For all friends of Dewaruci I would like to inform you that Dewaruci will be delayed to arrive at Pearl Harbor because of bad weather in the Ocean of Pacific. She needs anchoring in Johnston Atoll for couple of days and waiting the appropriate weather to continue heading the port of Pearl Harbor. I do apologize for this inconvenient. I will inform her estimate arrival in the Harbor of Hanolulu later.

Thank you for your patience, support and cooperation. For further information please contact the Capt of Dewaruci, Anwar Saadi at 081338655639.

44. What is the main topic of the text about?
- awful weather that caused the postponing of Dewaruci's arrival at pearl Harbor
  - the notification given from all members to Dewaruci committees and company
  - nasty weather leads Dewaruci to arrive earlier at Pearl Harbor Honolulu
  - the bad weather hit Jonston Atoll at Pearl Harbor in pacific Ocean
  - the thankfulness from Dewaruci Captain to all members of Dewaruci
45. She needs anchoring Johnston Atoll for couple of days. The word Anchoring is similar in meaning with...
- Boarding
  - Securing
  - Leading
  - Guiding
  - Leaving
46. Arrange the sentences into the best coherence paragraph
- I call my pet, Dara and i will take care of her tenderly.
  - I would buy a beautiful golden iron cage for her
  - The dove was badly injured and her left leg hurt
  - I was walking at the back of my back yard when I saw a dove lying under the rose tree
  - After putting bandage I put her in the box which I have laid the soft cloth at the base
  - I am incredibly contented because I have a pet now
  - She could not walk, so i took her home to cure her wound
- 4,3,7,5,6,1,2
  - 1,3,4,7,2,5,6
  - 2,4,5,7,6,3,1
  - 6,3,2,5,1,4,7
  - 3,5,1,7,2,4,6
47. The best arrangement of the sentences is..
- People who are afraid of snakes, spiders, and mice have zoophobia, too.
  - Now that we understand disease better, many people are micro phobic – afraid of germs.
  - People who are afraid of germs have micro phobia.
  - A person who is afraid of insects has a kind of zoophobia.
  - They wash their hands many times a day, and they refuse to be near people who are sick.
- 4, 1, 3, 5, 2
  4. 2, 3, 5, 1
  - 5, 3, 2, 1, 4
  - 4, 2, 3, 1, 5
  - 5, 2, 1, 4, 3

**Text 11 is for question number 48 to 50.**

Rice is the only major grain (48) ..... that is grown almost exclusively as human food. There has been a series of (49) ..... genetic advances that have made is possible to cultivate highly-yield varieties (50) ..... to disease and insect pests. Because rice constitutes half the diet of 1.6 billion people, and another 400 million people rely on it for between one-fourth and one-half of their diet, these advances have deterred that otherwise would have left millions of people severely underfed.

48. The best word to complete the blank space is ....
- Crop
  - food
  - Plant
  - Diet
  - Commodity

49. The best word to complete the blank space is ....
- A. Originally
  - B. economical
  - C. remarkable
  - D. ordinary
  - E. incapable
50. The best word to complete the blank space is ....
- A. Of which are bad
  - B. in which are good
  - C. whom is responsive to
  - D. which is sensitive
  - E. that are resistant



**Petunjuk:**

**Pilih satu jawaban yang benar**

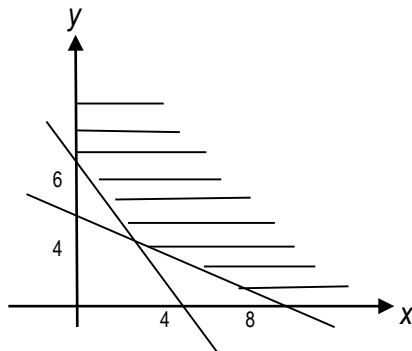
- Ingkaran dari pernyataan:  $p \Rightarrow (\sim q \vee r)$  adalah ... .  
 A.  $\sim p \Rightarrow \sim(\sim q \vee r)$   
 B.  $p \wedge (q \wedge \sim r)$   
 C.  $(p \vee \sim q) \vee \sim r$   
 D.  $\sim p \Rightarrow (\sim q \vee r)$   
 E.  $p \wedge (q \vee \sim r)$
- Pernyataan yang setara dengan “Jika Wati lulus SMA maka ia bekerja atau kuliah di perguruan tinggi” adalah ... .  
 A. Jika Wati tidak lulus SMA maka ia bekerja atau kuliah di perguruan tinggi  
 B. Jika Wati tidak lulus SMA maka ia tidak bekerja atau kuliah di perguruan tinggi  
 C. Jika Wati tidak bekerja atau tidak kuliah di perguruan tinggi maka ia tidak lulus SMA  
 D. Jika Wati tidak bekerja dan tidak kuliah di perguruan tinggi maka ia tidak lulus SMA  
 E. Jika Wati tidak bekerja dan tidak kuliah di perguruan tinggi maka ia lulus SMA
- Premis 1 : Jika hari hujan lebat maka sungai ciliwung akan meluap  
 Premis 2 : Jika sungai ciliwung meluap maka banyak jalan di Jakarta banjir  
 Kesimpulan yang sah dari pernyataan berikut adalah ... .  
 A. Jika hari hujan lebat maka sungai ciliwung meluap  
 B. Jika hari hujan lebat maka banyak jalan di Jakarta banjir  
 C. Jika banyak jalan di Jakarta banjir maka hari hujan lebat  
 D. Jika sungai ciliwung meluap maka banyak jalan di Jakarta banjir  
 E. Jika hari tidak hujan lebat maka banyak jalan di Jakarta tidak banjir
- Diketahui  ${}^5\log 2 = 3a$ , maka  ${}^8\log 625 = \dots$   
 A.  $\frac{2}{5a}$   
 B.  $\frac{4}{9a}$   
 C.  $\frac{4a}{9}$   
 D.  $4a$   
 E.  $15a$
- Bentuk sederhana dari  $\frac{4}{3 - \sqrt{5}}$  adalah ... .  
 A.  $4(3 + \sqrt{5})$   
 B.  $4(\sqrt{5} - \sqrt{3})$   
 C.  $4(\sqrt{5} + \sqrt{3})$   
 D.  $2(\sqrt{3} - \sqrt{5})$   
 E.  $2(3 + \sqrt{5})$
- Bentuk sederhana dari  $\frac{(3a^2b^{-2})^{-1}}{(2ab^3)^{-3}}$  adalah ...  
 A.  $\frac{2a}{3b^{11}}$   
 B.  $\frac{3a}{8b^{11}}$   
 C.  $\frac{8a}{3b^{11}}$   
 D.  $\frac{8ab^{11}}{3}$   
 E.  $\frac{3ab^7}{8}$
- Koordinat titik puncak fungsi parabola  $y = x^2 + 6x - 7$  adalah ... .

- A. (-6,-22)  
 B. (-6,-25)  
 C. (-6,-7)  
 D. (-3,24)  
 E. (-3,-16)
8. Titik potong kurva  $y = 2x^2 + 2x - 12$  dengan sumbu  $x$  adalah ... .  
 A. (2, 0) dan (0,-12)  
 B. (-3, 0) dan (0,-12)  
 C. (-4, 0) dan (0, 2)  
 D. (-3, 0) dan (-2, 0)  
 E. (-3, 0) dan (2, 0)
9. Persamaan grafik fungsi kuadrat yang puncaknya (1,5) dan melalui titik (-1,13) adalah ....  
 A.  $f(x) = 2x^2 + 4x + 5$   
 B.  $f(x) = 2x^2 + 4x - 7$   
 C.  $f(x) = 2x^2 - 4x + 7$   
 D.  $f(x) = 2x^2 - 4x + 5$   
 E.  $f(x) = 2x^2 - 4x - 7$
10. Diketahui fungsi  $f(x) = 3x^2 - 5$  dan  $g(x) = x - 2$ . Komposisi fungsi  $(f \circ g)(x) = \dots$ .  
 A.  $3x^2 - 7$   
 B.  $3x^2 - 7x - 7$   
 C.  $3x^2 - 12x - 8$   
 D.  $3x^2 - 12x + 7$   
 E.  $3x^2 - 12x - 7$
11. Jika ditentukan  $F(x) = \frac{2x+3}{x-4}$  dengan  $x \in R$  dan  $x \neq -4$ , maka invers dari  $F(x)$  adalah  
 $F^{-1}(x) = \dots$   
 A.  $\frac{4x+3}{x+2}, x \neq -2$   
 B.  $\frac{4x+3}{x-2}, x \neq 2$   
 C.  $\frac{4x-3}{x+4}, x \neq -4$   
 D.  $\frac{4x+3}{x-4}, x \neq 4$   
 E.  $\frac{4x-1}{x-4}, x \neq 4$
12. Diketahui  $x_1$  dan  $x_2$  adalah akar – akar persamaan kuadrat  $x^2 + 6x + 8 = 0$  dan  $x_1 < x_2$ . Nilai  $2x_1 + 3x_2$  sama dengan ... .  
 A. -16  
 B. -14  
 C. 11  
 D. 14  
 E. 16
13. Jika  $x_1$  dan  $x_2$  adalah akar – akar persamaan kuadrat  $x^2 + 2x - 8 = 0$ , maka persamaan kuadrat baru yang akar-akarnya  $3x_1$  dan  $3x_2$  adalah ... .  
 A.  $2x^2 + 6x - 8 = 0$   
 B.  $x^2 - 2x - 8 = 0$   
 C.  $x^2 + 6x + 16 = 0$   
 D.  $2x^2 - 6x - 72 = 0$   
 E.  $x^2 + 6x - 72 = 0$
14. Himpunan penyelesaian pertidaksamaan kuadrat:  $x^2 + 2x - 15 > 0$  adalah ... .  
 A.  $\{x \mid -3 < x < 4\}$   
 B.  $\{x \mid x < -5 \text{ atau } x > -3\}$   
 C.  $\{x \mid x < -3 \text{ atau } x > 5\}$   
 D.  $\{x \mid x < -5 \text{ atau } x > 3\}$   
 E.  $\{x \mid -5 < x < 3\}$
15. Diketahui  $x_1$  dan  $y_1$  memenuhi sistem persamaan linier  $5x - 3y = -33$  dan  $x + 2y = 9$ . Nilai dari  $4x_1 y_1 = \dots$ .  
 A. -72  
 B. -60  
 C. -45  
 D. 60  
 E. 72
16. Roni, Arif dan Budi berbelanja di Toko "MAJU JAYA" untuk membeli celana dan kemeja dengan merek dan ukuran yang sama. Roni membeli 2 celana dan 3 kemeja seharga Rp. 600.000,00. Arif membeli 2 celana dan 2 kemeja seharga Rp450.000,00. Jika Budi membeli 3 celana dan 2 baju, maka Budi harus membayar sebesar... .  
 A. Rp600.000,00  
 B. Rp650.000,00  
 C. Rp700.000,00  
 D. Rp750.000,00

E. Rp800.000,00

17. Daerah yang diarsir pada gambar di bawah ini merupakan penyelesaian sistem pertidaksamaan. Nilai minimum dari bentuk obyektif  $f(x, y) = 3x + 4y$  adalah ...

- A. 4  
B. 10  
C. 12  
D. 18  
E. 21



18. Pak Zaenal seorang pedagang asongan yang menjual buah-buahan. Ia membeli mangga seharga Rp1.500,00/buah dan dijual dengan harga Rp1.750,00/buah. Sedangkan apel seharga Rp2.500,00/buah dan dijual dengan harga Rp3.000,00/buah. Modal yang dimiliki oleh pak Zaenal hanya Rp225.000,00 dan tempat dagangnya hanya dapat menampung 120 buah, maka keuntungan maksimum yang didapat pak Zaenal adalah...

- A. Rp22.500,00  
B. Rp30.000,00  
C. Rp41.250,00  
D. Rp45.000,00  
E. Rp48.750,00

19. Diketahui matriks  $A = \begin{pmatrix} -5 & 1 \\ 3 & -2 \end{pmatrix}$ ,  $B = \begin{pmatrix} 4 & -2 \\ 3 & 7 \end{pmatrix}$

,  $C = \begin{pmatrix} 4 & -3 \\ 3 & 3 \end{pmatrix}$  dan  $K = 2A - B + 2C$ . Nilai

determinan matriks  $K$  adalah ...

- A. 48  
B. 30  
C. 18  
D. 12  
E. 10

20. Diketahui matriks  $A = \begin{pmatrix} 3k & 4 \\ m+2 & n \end{pmatrix}$ ,  $B =$

$\begin{pmatrix} -2 & 2 \\ 2k & 4-3n \end{pmatrix}$ ,  $C = \begin{pmatrix} -4 & 8 \\ 6 & 11 \end{pmatrix}$  dan  $C^T$  adalah

transpos matriks  $C$ . Nilai  $(k + m + n)$  yang memenuhi  $2A - B = C^T$  adalah ...

- A. -3  
B. -1

- C. 1  
D. 3  
E. 5

21. Jika  $X$  adalah matriks ordo  $2 \times 2$  yang memenuhi  $X$

$$\begin{pmatrix} 2 & 3 \\ 1 & 2 \end{pmatrix} = \begin{pmatrix} 1 & 0 \\ 16 & 26 \end{pmatrix},$$

maka matriks  $X = \dots$

- A.  $\begin{pmatrix} 2 & -3 \\ 6 & 4 \end{pmatrix}$   
B.  $\begin{pmatrix} 2 & -3 \\ 6 & -4 \end{pmatrix}$   
C.  $\begin{pmatrix} 2 & -3 \\ -6 & 4 \end{pmatrix}$   
D.  $\begin{pmatrix} -2 & -3 \\ 6 & 4 \end{pmatrix}$   
E.  $\begin{pmatrix} -2 & -3 \\ 6 & -4 \end{pmatrix}$

22. Dari suatu deret aritmatika diketahui suku ke-3 adalah 10 dan suku ke-7 adalah 22. Jumlah sepuluh suku pertama deret itu adalah ...

- A. 160  
B. 175  
C. 190  
D. 320  
E. 350

23. Suatu barisan geometri suku ke-2 adalah 64 sedangkan suku ke-4 adalah 16. Suku ke-7 untuk rasio positif barisan tersebut adalah ...

- A. 2  
B. 4  
C. 8  
D. 16  
E. 32

24. Sebuah pabrik sepeda motor setiap bulan produksinya meningkat lebih besar dari bulan sebelumnya dengan selisih yang tetap. Jika jumlah produksi pada bulan ke-4 adalah 3.250 unit dan bulan ke-8 sejumlah 4.250 unit, maka jumlah seluruh sepeda motor yang diproduksi pabrik tersebut selama setahun adalah ... unit.

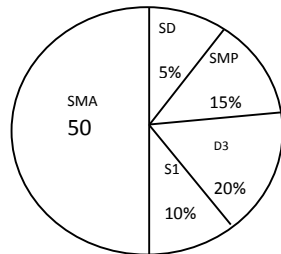
- A. 46.500  
B. 46.750  
C. 47.000  
D. 47.250  
E. 48.000

25. Nilai dari  $\lim_{x \rightarrow -3} \frac{3x^2 + 7x - 6}{x + 3} = \dots$
- A. -11  
B. -3  
C. 0  
D. 3  
E. 9
26. Nilai dari  $\lim_{x \rightarrow \infty} \sqrt{9x^2 + 7x - 1} - \sqrt{9x^2 - 11x + 2} = \dots$
- A. 0  
B. 1  
C. 2  
D. 3  
E. 4
27. Fungsi F ditentukan oleh  $F(x) = \frac{x^2 + 10x + 24}{x + 2}$ ,  $x \neq -2$  dan  $F^1$  adalah turunan pertama dari F. Nilai  $F^1(1) = \dots$
- A.  $\frac{1}{9}$   
B.  $\frac{2}{9}$   
C.  $\frac{71}{9}$   
D. 8  
E. 12
28. Persamaan garis singgung pada kurva  $y = x^2 - 2x - 3$  dititik (2,-3) adalah ...
- A.  $y = x - 5$   
B.  $y = 2x - 7$   
C.  $y = 2x + 5$   
D.  $y = x + 2$   
E.  $y = x + 3$
29. Nilai dari  $\int_0^2 (3x^2 - 3x + 7) dx$  adalah ...
- A. 6  
B. 10  
C. 12  
D. 13  
E. 16
30. Luas daerah yang dibatasi oleh kurva  $y = -x^2 + 4x - 3$  dan sumbu x adalah ... satuan luas
- A.  $\frac{1}{3}$   
B.  $\frac{2}{3}$   
C.  $1\frac{1}{3}$   
D.  $1\frac{2}{3}$   
E.  $2\frac{5}{6}$
31. Dari angka 1, 3, 4, 5, 6, dan 7 akan dibuat bilangan ratusan yang terdiri atas angka berbeda. Banyak bilangan yang dapat dibuat dengan syarat nilainya kurang dari 600 adalah ...
- A. 210  
B. 120  
C. 100  
D. 80  
E. 64
32. Dari 10 finalis lomba Olimpiade Matematika akan dipilih peringkat I, II, III dan harapan I. banyak cara memilih peringkat tersebut adalah ...
- A. 210  
B. 504  
C. 756  
D. 3024  
E. 5040
33. Terdapat 10 siswa pramuka yang terdiri atas 6 pria dan 4 wanita. Akan dipilih 5 siswa sebagai peserta jambore yang terdiri atas 3 pria dan 2 wanita. Banyaknya cara pemilihan ke-5 siswa tersebut adalah...
- A. 40  
B. 50  
C. 60  
D. 120  
E. 210
34. Dua buah dadu dilempar undi secara bersamaan. Peluang munculnya kedua buah dadu berjumlah kurang dari 6 atau berjumlah genap adalah...
- A.  $\frac{28}{36}$   
B.  $\frac{24}{36}$   
C.  $\frac{18}{36}$

- D.  $\frac{10}{36}$   
 E.  $\frac{6}{36}$

35. Tiga mata uang logam dilempar undi sebanyak 80 kali. Frekuensi harapan munculnya paling sedikit 2 gambar adalah ... .  
 A. 10  
 B. 20  
 C. 30  
 D. 40  
 E. 60

36. Hasil pendataan penduduk berdasarkan tingkat pendidikan disuatu daerah disajikan dalam diagram dibawah ini. Jika jumlah penduduk yang berijazah terakhir S1 ada 2000 orang, maka jumlah penduduk yang berijazah terakhir SD adalah... .  
 A. 1.000 orang  
 B. 2.000 orang  
 C. 3.000 orang  
 D. 4.000 orang  
 E. 10.000 orang



37. Nilai ulangan matematika 50 siswa disajikan dalam tabel berikut. Median dari data pada tabel berikut adalah ... .

Nilai	Frekuensi
31 - 40	3
41 - 50	6
51 - 60	9
61 - 70	14
71 - 80	10
81 - 90	5
91 - 100	3

- A. 60,50  
 B. 61,00  
 C. 65,00  
 D. 65,50  
 E. 70,00

38. Nilai modus dari data yang disajikan pada histogram berikut adalah:

- A. 14,75  
 B. 14,25  
 C. 13,75  
 D. 13,25  
 E. 10,50

39. Varians dari data: 4, 7, 5, 6, 3 adalah .....

- A.  $\frac{9}{4}$   
 B.  $\frac{7}{4}$   
 C.  $\frac{3}{2}$   
 D.  $\frac{3}{8}$   
 E.  $\frac{1}{8}$

40. Simpangan baku dari data 7, 8, 9, 8, 8, 7, 9 adalah ... .

- A.  $\frac{1}{7}$   
 B.  $\frac{1}{7}\sqrt{7}$   
 C.  $\frac{4}{7}$   
 D.  $\frac{2}{7}\sqrt{7}$   
 E. 7

**Petunjuk:**

**Pilih satu jawaban yang benar**

1. Perhatikan tabel kebutuhan di bawah ini !

Kebutuhan	A	B	C
1	Pasta gigi	Makanan	Mobil
2	Obat-obatan	Pakaian	Handycam

Berdasarkan tabel di atas yang termasuk kebutuhan primer adalah ...

- A. A1, A2, dan A3  
B. A1, B1, dan C1  
C. B1, B2, dan B3  
D. A2, B2, dan C2  
E. C1, C2, dan C3
2. Kelangkaan air bersih terutama untuk memenuhi kebutuhan penduduk di beberapa kota besar menjadi masalah yang memerlukan pemecahan secara serius, kelangkaan air bersih ini disebabkan selain perubahan iklim yang cukup ekstrem juga karena eksploitasi besar-besaran air tanah. Salah satu solusi untuk mengatasi masalah tersebut adalah ...
- A. Memberikan ijin kepada pengelola gedung bertingkat untuk mengeksploitasi air tanah untuk keperluan gedung tersebut  
B. Setiap bangunan harus diwajibkan membuat sumur resapan sehingga dapat meningkatkan cadangan air tanah  
C. Pengaturan pemanfaatan air tanah diperbolehkan khusus bagi rumah sakit dan apartemen  
D. Membuat peraturan pemanfaatan air tanah disertai pengawasan yang ketat bagi perusahaan laundry dan tempat cucian kendaraan  
E. Pemberian surat izin mendirikan bangunan tidak perlu disertai penyediaan lahan terbuka
3. Pemerintah Provinsi DKI Jakarta berupaya membangun rumah susun sewa (Rusunawa) terutama bagi masyarakat berpenghasilan rendah, hal ini untuk mengatasi permasalahan yang terkait dengan lahan untuk perumahan yang semakin menyempit dan mahalnya harga perumahan, Kegiatan tersebut menunjukkan adanya upaya pemecahan permasalahan pokok ekonomi modern, yaitu ....
- A. Untuk siapa barang diproduksi  
B. Berapa banyak jumlah yang diproduksi  
C. Dimana barang akan diproduksi  
D. Bagaimana cara memproduksi  
E. Barang apa yang harus diproduksi

4. Setamat dari perguruan tinggi , Bagus mendapatkan tawaran pekerjaan di 3 (tiga) tempat

No	Kota	Gaji yang ditawarkan/bulan
1	Jakarta	Rp. 7.000.000,00
2	Bandung	Rp. 5.000.000,00
3	Surabaya	Rp. 6.000.000,00

Setelah melalui berbagai pertimbangan Bagus memilih bekerja di Bandung  
Maka yang menjadi biaya peluangnya adalah....

- A. Rp, 5.000.000,00
- B. Rp. 6.000.000,00
- C. Rp .7.000.000,00
- D. Rp. 12.000.000,00
- E. Rp. 13.000.000,00

5. Perhatikan tabel di bawah ini!

A	B	C
1. Setiap individu sulit melakukan kebebasan dalam memiliki sumber-sumber produksi.	1. Pemerintah selalu ikut campur dan menentukan kebijaksanaan pembangunan ekonomi.	1. Setiap individu diberikan kebebasan dalam kegiatan pemecahan masalah ekonomi.
2. Pasar merupakan sentra kegiatan ekonomi.	2. Terdapat monopoli barang-barang di pasar.	2. Pemecahan masalah ekonomi selalu dilakukan dengan kebiasaan tiap-tiap daerah.
3. Manajemen dan administrasi pembukuan dilakukan dengan sistem yang sederhana.	3. Hak milik masyarakat (pribadi) diakui.	3. Pemerintah menjadi pengendali dan mengatur seluruh kegiatan ekonomi.

Dari ciri-ciri di atas, yang termasuk ciri-ciri sistem ekonomi pasar adalah... .

- A. A<sub>1</sub>, B<sub>2</sub>, C<sub>3</sub>
- B. A<sub>1</sub>, B<sub>3</sub>, C<sub>1</sub>
- C. A<sub>2</sub>, B<sub>3</sub>, C<sub>1</sub>
- D. A<sub>2</sub>, B<sub>1</sub>, C<sub>3</sub>
- E. A<sub>3</sub>, B<sub>3</sub>, C<sub>2</sub>

6. Di bawah ini merupakan perilaku produsen dan konsumen:

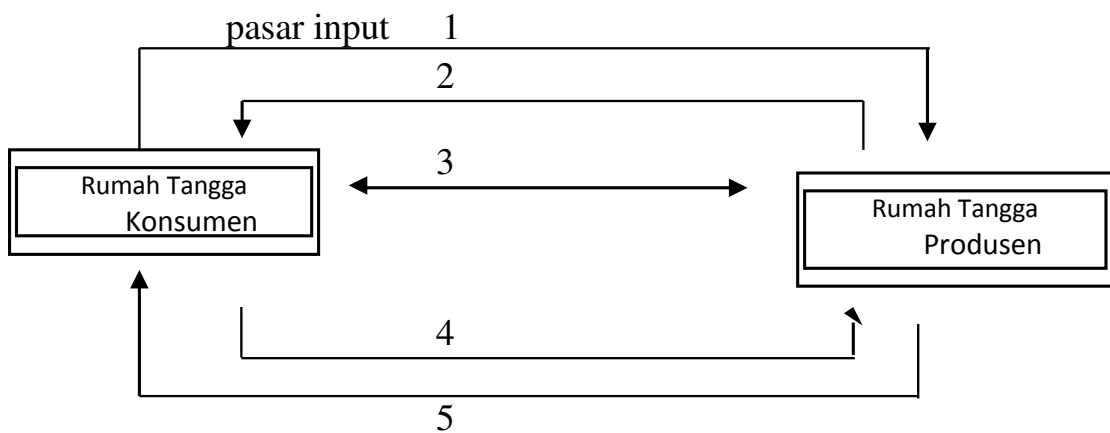
- (1) Pak Panidjan wiraswastawan garmen dapat menghasilkan 4 potong kemeja dalam satu hari.
- (2) Bu Andi memakai Baju baru ketika berangkat ke kantor.
- (3) Suwanto seorang nelayan menangkap ikan di laut setiap hari

- (4) Pak Singgih membeli sepatu baru untuk putra-putrinya menjelang hari raya.
- (5) Slamet Rusdiyanto membuka bengkel service Elektronik selepas tamat dari sekolah kejuruan.
- (6) Sebagai sopir taxi, Pak Tommi selalu makan siang di warung nasi Bu Nana.

Berdasarkan contoh di atas, yang termasuk perilaku produsen adalah... .

- A. (1), (2), dan (3)
- B. (1), (2), dan (4)
- C. (1), (2), dan (6)
- D. (1), (3), dan (5)
- E. (2), (5), dan (6)

7. Perhatikan bagan interaksi antara rumah tangga konsumen dengan rumah tangga produsen berikut ini :



Berdasarkan bagan di atas yang merupakan adanya pembayaran atas barang dan jasa adalah nomor....

- A. 1
- B. 2
- C. 3
- D. 4
- E. 5

8. Pada saat harga daging Rp 30.000,00/kg, jumlah yang diminta 50 kg. Pada waktu harga naik menjadi Rp 40.000,00/kg jumlah yang diminta menjadi 30 kg. Fungsi permintaannya adalah ...

- A.  $P_d = 55.000 - 500 Q$
- B.  $P_d = 32.500 - 500 Q$
- C.  $P_d = 32.500 - 5.000 Q$
- D.  $P_d = 500 Q - 32.500$
- E.  $P_d = 5.000 Q + 32.500$



9. Daftar permintaan dan penawaran suatu barang "y" sebagai berikut:

Harga	Jumlah Penawaran	Jumlah Permintaan
Rp.600	30 unit	70 unit
Rp.700	40 unit	60 unit
Rp.800	50 unit	50 unit
Rp.900	60 unit	40 unit
Rp.1.000	70 unit	30 unit

Berdasarkan tabel di atas harga keseimbangan pasar adalah...

- A. Rp. 600
- B. Rp. 700
- C. Rp. 800
- D. Rp. 900
- E. Rp.1.000

10. Berikut ini ciri-ciri pasar:

- 1) banyak pembeli dan hanya ada satu penjual
- 2) banyak rintangan untuk pembeli dalam memasuki pasar
- 3) harga ditentukan oleh perusahaan
- 4) pembeli tidak punya pilihan lain dalam membeli barang
- 5) persaingan melalui iklan yang sangat kuat

Ciri-ciri pasar monopoli adalah...

- A. 1, 2, dan 3
- B. 1, 3, dan 4
- C. 1, 4, dan 5
- D. 2, 4, dan 5
- E. 3, 4, dan 5

11. Berikut ini fungsi pasar:

- 1) Memperlancar perluasan usaha
- 2) Mempertemukan penjual dan pembeli faktor produksi
- 3) Membantu pihak yang kelebihan dana untuk memanfaatkannya dalam kegiatan produksi
- 4) Membantu pemerintah dalam menghimpun dan mengalokasikan dana dengan membiayai pembangunan nasional
- 5) Memudahkan perusahaan mencari tenaga kerja sesuai keinginan

Dari data tersebut yang termasuk fungsi pasar faktor produksi modal adalah ...

- A. 1, 2, dan 3
- B. 1, 3, dan 4
- C. 1, 3, dan 5
- D. 2, 3, dan 4
- E. 2, 3, dan 5

12. Beberapa waktu yang lalu Bank Indonesia mengeluarkan kebijakan mempertahankan suku bunga acuan Bank Indonesia (BI Rate) yang masih dipertahankan pada angka 7,5 persen. Kebijakan Bank Indonesia tersebut termasuk kajian ekonomi... .
- A. Teori
  - B. normatif
  - C. deskriptif
  - D. makro
  - E. mikro

13. Suatu negara mempunyai data tentang pendapatan nasional berikut ini:
- |  |             |
|--|-------------|
| Product Domestic Brutto                        | : 667.000 M |
| Pendapatan perusahaan asing di negara tersebut | : 108.000 M |
| Pendapatan warga negara di luar negeri         | : 31.000 M  |
| Depresiasi                                     | : 3.000 M   |
| Pajak tak langsung                             | : 2.000 M   |
| Pajak Langsung                                 | : 1.000 M   |

Berdasarkan data di atas besarnya pendapatan nasional bruto adalah ...

- A. 522.000 M
- B. 523.000 M
- C. 528.000 M
- D. 590.000 M
- E. 744.000 M

14. Tabel pendapatan dan jumlah penduduk:

No.	Negara	Pendapatan (Juta US\$)	Jumlah penduduk (000)
1.	A	800	250.000
2.	B	700	100.000
3.	C	600	50.000
4.	D	500	80.000
5.	E	400	20.000

Berdasarkan tabel di atas, negara yang memiliki pendapatan perkapita tertinggi adalah... .

- A. E
- B. D
- C. C
- D. B
- E. A

15. Perhatikan tabel berikut ini !

Jenis barang	Harga	Harga
	2012(Rp)	2013(Rp)
A	125	135
B	200	235
C	250	245

Berdasarkan tabel di atas, apabila indeks harga dihitung dengan menggunakan metode agregatif tidak tertimbang, laju inflasi tahun 2013 dibandingkan tahun 2012 termasuk... .

- A. Hiperinflasi
  - B. Inflasi Berat
  - C. Inflasi Sedang
  - D. Inflasi Ringan
  - E. Inflasi Sangat Ringan
16. Fungsi tabungan dinyatakan dengan persamaan  $S = -200.000 + 0,25Y$ . Berdasarkan fungsi tersebut maka besarnya konsumsi pada saat pendapatan sebesar Rp2.500.000,00 adalah ....
- A. Rp2.500.000,00
  - B. Rp2.300.000,00
  - C. Rp2.075.000,00
  - D. Rp1.875.000,00
  - E. Rp1.425.000,00
17. Berikut ini adalah tugas dari perbankan di Indonesia.
1. mengatur, menjaga dan memelihara kestabilan nilai tukar rupiah
  2. memberikan kredit jangka pendek
  3. mengusahakan tercapainya sistem perbankan yang sehat
  4. menghimpun dana dari masyarakat dalam bentuk giro, deposito dan tabungan
  5. meningkatkan likuiditas uang beredar
  6. menerima dan membayar kembali uang dalam rekening koran
- Dari pernyataan di atas yang merupakan tugas Bank Umum yaitu ...
- A. 1, 2, dan 3
  - B. 1, 3, dan 5
  - C. 2, 3, dan 5
  - D. 2, 4, dan 6
  - E. 4, 5, dan 6
18. Berikut kebijakan ekonomi pemerintah:
1. menerapkan kebijakan menaikkan pajak
  2. kebijakan APBN surplus
  3. memperkecil pengeluaran pemerintah
  4. mengadakan pinjaman pemerintah
  5. menerapkan kebijakan menurunkan pajak
- Kebijakan pemerintah untuk mengatasi Deflasi adalah...
- A. 1, 2, dan 3
  - B. 1, 4, dan 5
  - C. 2, 3, dan 4
  - D. 2, 3, dan 5
  - E. 2, 4, dan 5

19. Sebanyak 2,3 juta anak berusia 7-14 tahun di Indonesia terlibat dalam pekerjaan. Angka ini merupakan hasil dari laporan berjudul *Memahami Pekerjaan yang Dilakukan oleh Anak dan Pekerja Muda: Kondisi Indonesia* yang diterbitkan oleh Understanding Child's Work (UCW), suatu kemitraan antara Organisasi Perburuhan Internasional (ILO), UNICEF dan Bank Dunia tahun 2012. Dampak negatif keterlibatan anak-anak dalam bekerja adalah ...
- kemampuan memenuhi kebutuhan sendiri
  - meningkatkan ketrampilan
  - mendapatkan upah walaupun kecil
  - dapat mengontrol kebutuhannya dalam batas tertentu
  - rawan putus sekolah, dan dampak kesehatan pada waktu yang akan datang
20. Perhatikan tabel di bawah ini

Jenis pengangguran (A)	Cara mengatasi pengangguran (B)
1. Pengangguran friksional	1. Membuka lapangan kerja baik baru maupun yang sudah ditutup
2. Pengangguran teknologi	2. Mengadakan pelatihan yang tepat guna untuk mengisi lowongan sesuai dengan perubahan struktur perekonomian
3. Pengangguran siklus	3. Memberikan informasi yang cepat tentang kriteria-kriteria penting yang dikehendaki baik dari si pemberi maupun si pencari kerja
4. Pengangguran musiman	4. Harus selektif memilih teknologi yang tepat guna
5. Pengangguran struktural	5. Memanfaatkan waktu dengan keterampilan sampai panen tiba

Berdasarkan tabel di atas cara mengatasi pengangguran yang benar adalah ...

- A1 dan B4
  - A2 dan B3
  - A3 dan B5
  - A4 dan B1
  - A5 dan B2
21. Kebijakan untuk mengatasi inflasi:
- Kebijakan menaikkan tarif pajak
  - Kebijakan penetapan tingkat cadangan minimum
  - Kebijakan menghemat pengeluaran pemerintah
  - Kebijakan menaikkan produksi
  - Kebijakan pasar terbuka
- Yang termasuk kebijakan moneter adalah ...
- 1 dan 2
  - 1 dan 3
  - 2 dan 3
  - 2 dan 5
  - 4 dan 5

22. Sumber-sumber penerimaan pemerintah pusat dan pemerintah daerah diperoleh dari
1. pajak penjualan atas barang mewah (PPnBM)
  2. pajak tontonan
  3. pajak pertambahan nilai (PPN)
  4. pajak reklame
  5. pajak kendaraan bermotor (PKB)
  6. pajak penghasilan (PPH)

Jenis-jenis pajak yang termasuk penerimaan pemerintah daerah adalah ...

- A. 1, 2, dan 3
- B. 1, 3, dan 6
- C. 2, 4, dan 5
- D. 3, 4, dan 5
- E. 4, 5, dan 6

23. Daftar fungsi dan manfaat pasar:

- 1) Menambah nilai investasi berkembang mengikuti pertumbuhan ekonomi dalam capital gain
- 2) Sebagai sarana pemerataan pendapatan
- 3) Dapat memperoleh dividen bagi mereka yang memiliki/memegang saham dan bunga yang mengambang bagi pemenang obligasi
- 4) Sebagai sarana penciptaan tenaga kerja
- 5) Sebagai sarana peningkatan pendapatan negara

Yang merupakan fungsi pasar modal adalah ...

- A. 1, 2, dan 3
- B. 1, 2, dan 4
- C. 1, 3, dan 5
- D. 2, 3, dan 5
- E. 2, 4, dan 5

24. Pada perusahaan money changer terdapat data kurs sebagai berikut :

US\$ 1 Kurs Beli Rp9.600,00, Kurs Jual Rp9.650,00 dan Kurs Tengah Rp. 9.625,00

Jika Mr Gonzales mempunyai uang US\$ 4.200, untuk keperluan wisata di Indonesia Mr. Gonzales menukarkan US \$ 4.000 dengan rupiah di jakarta, maka jumlah uang yang diterima Mr. Gonzales adalah ....

- A. Rp 38.400.000,00
- B. Rp 38.500.000,00
- C. Rp 38.600.000,00
- D. Rp.40.320.000,00
- E. Rp.40,450.000,00

25. Biro jasa Sadewa mempunyai transaksi berikut ini

- 1) Dibayar biaya asuransi Rp1250.000,00
- 2) Dibeli dari Toko Nakula, peralatan kantor Rp6.000.000,00 diantaranya Rp2.000.000,00 dibayar tunai sisanya kredit
- 3) Diterima pelunasan dari pelanggan kredit atas jasa yang telah diberikan bulan lalu Rp3.000.000,00
- 4) Dibayar kepada toko Barata pembelian peralatan sebulan yang lalu Rp1.500.000,00
- 5) Dibeli perlengkapan kantor dengan tunai sebesar Rp500.000,00

Transaksi di atas dicatat dalam persamaan Akuntansi berikut ini:

No.	Kas	Piutang	Perlengkapan	Peralatan	Utang	Modal	Keterangan
1.	(1.250.000)					(1.250.000)	B. asuransi
2.	(2.000.000)			6.000.000	4.000.000		
3.	3.000.000					(3.000.000)	Pendapatan
4.	(1.500.000)					(1.500.000)	
5.	(500.000)		500.000				

Pencatatan yang tepat terdapat pada nomor... .

- A. 1, 2, 3
- B. 1, 2, 4
- C. 1, 2, 5
- D. 2, 4, 5
- E. 3, 4, 5

26. UD Raja Murah memiliki bukti transaksi sebagai berikut:

Kwitansi No : 271	
Sudah diterima dari	: UD Raja Murah
Uang Sejumlah	: Dua juta rupiah
Untuk pembayaran	: Pembelian sebuah Lemari Type 21
Rp2.000.000,00	
Tangerang, 1 Februari 2013	

Berdasarkan bukti tersebut jurnal yang dibuat oleh UD Raja Murah adalah....

- A. Peralatan                      Rp2.000.000,00  
Kas                                      Rp2.000.000,00
- B. Pembelian                      Rp2.000.000,00  
Kas                                      Rp2.000.000,00
- C. Kas                                      Rp2.000.000,00  
Penjualan                              Rp2.000.000,00
- D. Utang                                      Rp2.000.000,00  
Kas                                      Rp2.000.000,00
- E. Lemari                                      Rp2.000.000,00  
Kas                                      Rp2.000.000,00

27. Sebagian Jurnal Umum yang dibuat "Salon Anggun" bulan Nopember 2013 sebagai berikut:

Tgl		Keterangan	Ref	D	K
2013	3	Kas	101	1,800.000	
Nop.		Pendapatan salon	400		1.800.000
	7	Beban listrik	514	500.000	
		Kas	101		500.000
	12	Kas	101	1.200.000	
		Piutang usaha	103		1.200.000

Data saldo per 1 Nopember 2013 adalah sebagai berikut:

- Kas Rp 6.700.000,00
- Piutang usaha Rp 3.400.000,00

Berdasarkan data di atas, posting ke buku besar yang benar adalah...

A. Kas

No. 101

Tgl		Uraian	Ref	D	K	Saldo	
						D	K
Nop.	1	Saldo	√			6.700.000	
2013	3		JU02	1.800.000		8.500.000	
	7		JU02		500	8.000.000	
	12		JU02	1.200.000		9.200.000	

B. Kas

No. 101

Tgl		Uraian	Ref	D	K	Saldo	
						D	K
Nop.	1	Saldo	√			6.700.000	
2013	3		JU02	1.800.000		4.900.000	
	7		JU02		500	4.200.000	
	12		JU02	1.200.000		5.400.000	

## C. Piutang Dagang

No. 201

Tgl		Uraian	Ref	D	K	Saldo	
						D	K
Nop. 2013	1	Saldo	√				3.400.000
	12		JU02		1.200.000		1.200.000

## D. Piutang Dagang

No. 103

Tgl		Uraian	Ref	D	K	Saldo	
						D	K
Nop. 2013	1	Saldo	√			3.400.000	
	12		JU02		1.200.000	4.600.000	

## E. Pendapatan Salon

No. 401

Tgl		Uraian	Ref	D	K	Saldo	
						D	K
Nop. 2013	12		JU02	1.800.000		1.800.000	

28. Pada tanggal 1 Juni 2013 dibayar biaya pemasangan iklan pada majalah Javira Rp7.500.000,00 untuk 10 kali terbit dan dicatat pada akun iklan dibayar dimuka. Sampai dengan tanggal 31 Desember 2013, iklan yang sudah diterbitkan 7 kali.

Jurnal penyesuaian yang tepat adalah ....

- |    |                        |                |
|----|------------------------|----------------|
| A. | Iklan di bayar di muka | Rp2.250.000,00 |
|    | Biaya Iklan            | Rp2.250.000,00 |
| B. | Iklan di bayar di muka | Rp5.250.000,00 |
|    | Biaya iklan            | Rp5.250.000,00 |
| C. | Biaya Iklan            | Rp2.250.000,00 |
|    | Iklan di bayar di muka | Rp2.250.000,00 |
| D. | Biaya Iklan            | Rp5.250.000,00 |
|    | Iklan dibayar di muka  | Rp5.250.000,00 |
| E. | Biaya Iklan            | Rp7.500.000,00 |
|    | Iklan dibayar di muka  | Rp7.500.000,00 |



29. Perhatikan data berikut !

Neraca saldo "Salon Rapi" sebagian  
(dalam ribuan rupiah)

NO	NamaRekening	Debet	Kredit
101	Kas	20.000	-
102	Asuransi dibayar di muka	24.000	-
103	Perlengkapan	5.000	-
111	Peralatan	50.000	-
301	Modal		100.000
302	Prive	1.000	-

Data penyesuaian per 31 Desember 2013

- Asuransi di bayar per 1 April untuk satu tahun
  - Perlengkapan tersisa Rp 3.000.000,00
  - Penarikan kas oleh pemilik untuk keperluan pribadinya sebesarRp 300.000,00 belum dibukukan.
- Berdasarkan neraca saldo sebagian dan data penyesuaian, penyelesaian kertas kerja (000)

No	NamaAkun	NeracaSaldo		A J P		NSD	
		Debet	Kredit	Debet	Kredit	Debet	Kredit
101	Kas	20.000	-		3.000	17.000	
102	Asuransi dibayar dimuka	24.000	-		18.000	6.000	
103	Perlengkapan	5.000	-		200	4.800	
111	Peralatan	50.000	-			50.000	
301	Modal	-	100.000				100.000
302	Prive	1.000	-	3.000		4.000	
501	Beban Asuransi	-	-	18.000		18.000	
502	Beban Perlengkapan	-	-	200		200	

Penyelesaian kertas kerja sebagian yang benar adalah....

- 101, 102, 103 dan 111
- 102, 103, 111 dan 301
- 102, 111, 301 dan 501
- 103, 111, 301 dan 501
- 103, 111, 301 dan 502

30. UD Abdiena mempunyai data keuangan sebagai berikut :

* Pendapatan jasa	Rp 23.000.000,00
* Modal Awal	Rp. 100.000.000,00
* Beban gaji	Rp 7.000.000,00
* Beban listrik	Rp 4.000.000,00
* Beban lain-lain	Rp 1.600.000,00
* Prive	Rp 1.000.000,00

Berdasarkan data di atas, besarnya modal akhir adalah ....

- A. Rp 109.400.000,00
- B. Rp 111.400.000,00
- C. Rp 130.000.000,00
- D. Rp 134.000.000,00
- E. Rp 134.600.000,00

31. Perhatikan jurnal dibawah ini !

Jurnal penjualan

Tanggal		No. Faktur	Keterangan	Syarat	Jumlah
2013	15	F. 039	Toko Manggis	2/10, n/30	6,000,000.00
Des	17	F .040	Toko Jeruk	2/10, n/30	4,500,000.00
	18	F. 041	Toko Apel	2/10, n/30	2,800,000.00
					13,300,000.00

Rekapitulasi jurnal khusus penjualan di posting dalam buku besar .....

- A . Piutang dagang (D) 2.800.000,00, Penjualan (K) 2.800.000,00
- B . Piutang dagang (D) 4.500.000,00, Penjualan (K) 4.500.000,00
- C . Piutang dagang (D) 6.000.000,00, Penjualan (K) 6.000.000,00
- D . Piutang dagang (D) 7.300.000,00, Penjualan (K) 7.300.000,00
- E . Piutang dagang (D) 13.300.000,00, Penjualan (K) 13.300.000,00

32. UD Moroseneng mempunyai data keuangan sebagai berikut:

• Penjualan	Rp 70.000.000,00
• Potongan penjualan	Rp 4.000.000,00
• Retur penjualan	Rp 4.500.000,00
• Pembelian bersih	Rp 50.000.000,00
• Potongan pembelian	Rp 2.000.000,00
• Retur pembelian	Rp 2.500.000,00
• Persediaan awal	Rp 30.000.000,00
• Persediaan akhir	Rp 35.000.000,00
• Beban angkut pembelian	Rp 5.000.000,00
• Beban angkut penjualan	Rp 4.000.000,00

Berdasarkan data di atas, maka Harga Pokok Penjualan (HPP) adalah ....

- A. Rp 45.000.000,00
- B. Rp 45.500.000,00
- C. Rp 50.000.000,00
- D. Rp 70.000.000,00
- E. Rp 75.000.000,00

33. Sebagian data keuangan UD. Bimasakti tanggal 31 Desember 2013 :

- Persediaan barang (awal)Rp 1.600.000,00
- PembelianRp 2 4.000.000,00
- Retur pembelianRp. 1.000.000,00
- PenjualanRp. 27.500.000,00
- Retur penjualanRp. 500.000,00
- Persediaan barang 31 Des 2013Rp 2.400.000,00

Jurnal penyesuain persediaan barang dagang akhir tahun 2013 adalah .....

- |                             |                  |
|-----------------------------|------------------|
| A. Pembelian                | Rp 24.000.000,00 |
| Ikhtisar L/R                | Rp 24.000.000,00 |
| B. Penjualan                | Rp27.500.000,00  |
| Ikhtisar L/R                | Rp27.500.000,00  |
| C. Persediaan barang dagang | Rp 2.400.000,00  |
| Ikhtisar R/L                | Rp 2.400.000,00  |
| D. Ikhtisar R/L             | Rp 1.600.000,00  |
| Persediaan barang dagang    | Rp 1.600.000,00  |
| E. Persediaan barang dagang | Rp 800.000,00    |
| Ikhtisar R/L                | Rp 800.000,00    |

34. Kertas kerja sebagian yang dibuat oleh PD Ravina per 31 Desember 2013  
(dalam ribuan rupiah)

No	Nama Akun	Naraca Saldo		Jurnal Peny		NSD		Laba Rugi		Neraca	
		D	K	D	K	D	K	D	K	D	K
1	Piutang dagang	1.600	-	-	1.000	600	-	-	-	-	600
2	Pembelian	1.000	-	-	-	1.000	-	1.000	-	-	-
3	Penjualan		3.500	-	-	-	3.500	-	3.500	-	-
4	Beban Asuransi	1.200	-	-	200	1.400	-	1.400	-	-	-
5	Beban gaji	1.800	-	1.200	-	3.000	-	3.000	-	-	-

Penyelesaian Kertas kerja di atas yang benar adalah nomor....

- A. 1, 2, dan 3
- B. 1, 2, dan 4
- C. 2, 3, dan 4
- D. 2, 3, dan 5
- E. 3, 4, dan 5

35. Berikut ini disajikan data suatu perusahaan dagang yang terdapat pada kertas kerja

- Persediaan awal Rp20.385.000,00
- Persediaan akhir Rp10.365.000,00
- Penjualan bersih Rp66.520.000,00
- Pembelian Bersih Rp.35.000.000,00
- Beban usaha Rp4.000.000,00
- Beban di luar usaha Rp650.000,00
- Pendapatan di luar usaha Rp1.700.000,00

Berdasarkan data diatas, Berapa besar laba bersih perusahaan.....

- A. Rp 21.500.000,00
- B. Rp. 20.450.000,00
- C. Rp. 19.600.000,00
- D. Rp. 18.550.000,00
- E. Rp. 17.500.000,00

36. Data keuangan PD Buaran:

- Persediaan barang dagang awal	Rp5.000.000,00
- Penjualan	Rp30.000.000,00
- Retur penjualan	Rp2.000.000,00
- Potongan penjualan	Rp1.000.000,00
- Pembelian	Rp16.000.000,00
- Biaya angkut pembelian	Rp1.500.000,00
- Retur pembelian	Rp3.000.000,00
- Potongan pembelian	Rp2.000.000,00

Dari data di atas jurnal penutup yang benar adalah...

A. Penjualan	Rp30.000.000,00
Retur penjualan	Rp2.000.000,00
Potongan pembelian	Rp1.000.000,00
Ikhtisar laba / Rugi	Rp33.000.000,00
B. Penjualan	Rp30.000.000,00
Retur pembelian	Rp3.000.000,00
Potongan pembelian	Rp2.000.000,00
Ikhtisar Laba/Rugi	Rp35.000.000,00
C. Pembelian	Rp16.000.000,00
Biaya angkut pembelian	Rp1.500.000,00
Ikhtisar Laba/Rugi	Rp17.500.000,00
D. Ikhtisar Laba /Rugi	Rp5.000.000,00
Retur pembelian	Rp3.000.000,00
Potongan pembelian	Rp2.000.000,00
E. Ikhtisar Laba /Rugi	Rp22.500.000,00
Pembelian	Rp16.000.000,00
Biaya angkut pembelian	Rp1.500.000,00
Retur pembelian	Rp3.000.000,00
Potongan pembelian	Rp2.000.000,00

37. Kegiatan manajemen :
1. memanfaatkan peluang dalam memperoleh dana intern maupun ekstern
  2. Menyediakan fasilitas, kesejahteraan dan gaji yang memuaskan.
  3. Pengalokasian dana untuk menunjang kegiatan perusahaan.
  4. Penyediaan informasi yang dibutuhkan untuk kepentingan manajemen.
  5. Penggunaan dana yang dilakukan secara efisien dan efektif.
  6. riset pasar merupakan bagian terpenting untuk mengetahui keinginan, sikap dan tingkah laku konsumen terhadap produk yang akan dijual.

Yang termasuk kegiatan manajemen keuangan adalah :

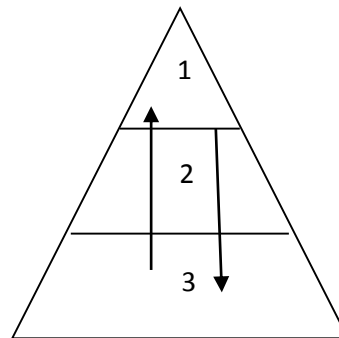
- A. 1, 2, dan 3
  - B. 1, 3 dan 5
  - C. 2, 4 dan 5
  - D. 2, 5 dan 6
  - E. 3, 4 dan 6
38. Perhatikan pernyataan berikut ini!
- a) Melayani kepentingan masyarakat umum.
  - b) Dipimpin oleh seorang direksi/direktur.
  - c) Pkerjanya adalah pegawai perusahaan swasta.
  - d) Memupuk keuntungan untuk mengisi kas negara.
  - e) Modalnya dapat berupa saham atau obligasi bagi perusahaan yang *go public*
- Pernyataan di atas merupakan ciri-ciri dari Badan Usaha Milik Negara yang berbentuk...
- A. Perjan
  - B. Perum
  - C. Persero
  - D. Pegadaian
  - E. BUMD
39. Pada Koperasi Maju Bersama dari perhitungan pembagian SHU diperoleh data-data sebagai berikut: SHU tahun berjalan Rp 30.000.000,00, jumlah simpanan pokok dan wajib anggota Rp 80.000.000,00, omset penjualan satu tahun Rp 60.000.000,00. SHU di antaranya dialokasikan 20% untuk jasa simpanan dan 25% untuk jasa penjualan. Pak Alvin anggota koperasi itu memiliki simpanan pokok Rp 100.000,00 dan simpanan wajib Rp 900.000,00. Selama 1 tahun telah membeli (belanja) di koperasi senilai Rp 1.500.000,00. Bagian SHU yang diterima Pak Alvin sebanyak ...
- A. Rp75.000,00
  - B. Rp95.500,00
  - C. Rp152.000,00
  - D. Rp187.500,00
  - E. Rp262.500,00
40. Ibu Yuni berusaha membeli sayuran dan buah-buahan segar dan murah langsung dari petani di desa agar dapat menjualnya kembali ke pasar kota dengan keuntungan tinggi. Hal ini menunjukkan ia memiliki sifat seorang wirausaha, yaitu ...
- A. inovatif
  - B. jujur dan percaya diri
  - C. berkepribadian unggul
  - D. mampu berkomunikasi
  - E. selalu berusaha mendapat laba

**Petunjuk:**

**Pilih satu jawaban yang benar**

1. Beberapa variabel sosial yaitu:
  - (1) Konstruktif, menekankan kemajuan dalam kehidupan masyarakat di berbagai bidang khususnya dalam teknologi
  - (2) Interaktif, bersifat dua arah dalam melakukan hubungan antar subyek sehingga menghasilkan pola tertentu
  - (3) Non-etis, kajian tidak mempelajari tentang baik atau buruk suatu peristiwa tetapi lebih menjelaskan mengapa suatu peristiwa terjadi
  - (4) Empiris, didasarkan pada studi ilmiah yang sudah dilakukan pengujian kebenaran fakta atau fenomena sosialVariabel sosial di atas yang menunjukkan sebagai ciri-ciri ilmu sosiologi adalah....
  - A. (1) dan (2)
  - B. (1) dan (3)
  - C. (2) dan (3)
  - D. (2) dan (4)
  - E. (3) dan (4)
2. Para sosiolog (ahli sosiologi) banyak dibutuhkan dalam membantu untuk mencerahkan persoalan dalam masyarakat agar menjadi lebih maju. Peran sosiolog dalam hal ini adalah sebagai....
  - A. peneliti ilmiah
  - B. tenaga pendidik
  - C. pemecah masalah
  - D. perencana kebijakan
  - E. pembangun pemerintahan
3. Hubungan di antara peserta ujian masuk perguruan tinggi negeri sangat individual tetapi tampak tertib. Bentuk interaksi sosial pada peristiwa ujian tersebut adalah ....
  - A. kompetisi
  - B. kooperasi
  - C. akulturasi
  - D. amalgamasi
  - E. konflik
4. Sekelompok remaja memberi ucapan selamat kepada seorang temannya yang menjadi juara pop singer di suatu ajang lomba. Interaksi sosial antara kelompok remaja dengan temannya tersebut didorong oleh faktor.....
  - A. motivasi
  - B. sugesti
  - C. imitasi
  - D. simpati
  - E. identifikasi
5. Untuk meningkatkan prestasi belajar, seorang siswa rajin membaca buku baik yang ada di perpustakaan maupun harus membeli. Hal tersebut dapat disimpulkan bahwa buku tadi memiliki nilai.....
  - A. material
  - B. dominan
  - C. vital
  - D. estetika
  - E. religius
6. Nilai dan norma sosial tumbuh dari proses kemasyarakatan sebagai hasil dari sebuah interaksi sosial. Secara sosiologis, tujuan pembentukannya adalah.....
  - A. menentukan kontrak sosial individu
  - B. melancarkan komunikasi sosial
  - C. membentuk kelompok sosial
  - D. meningkatkan status sosial
  - E. membatasi tindakan sosial
7. Siswa wajib memberitahu guru apabila tidak masuk sekolah. Jika dilanggar maka akan diberi teguran/sanksi. Hal ini dilakukan dengan tujuan untuk menyalurkan perilaku siswa dengan jenis norma....
  - A. kebiasaan
  - B. kesopanan
  - C. hukum
  - D. kesusilaan
  - E. agama
8. Anak yang sudah diajarkan tata cara berperilaku yang baik masih juga dapat berperilaku yang tidak sesuai aturan saat ia sudah mulai bergaul dengan

- teman sebayanya. Sosialisasi seperti itu tergolong jenis.....
- primer
  - sekunder
  - gaya
  - budaya
  - eksternal
9. Setiap masyarakat akan berusaha untuk memiliki generasi muda yang berkepribadian tangguh dalam menghadapi perubahan zaman melalui pembentukan sifat dasar individu. Media sosialisasi yang difungsikan untuk membentuk kepribadian anak tersebut adalah.....
- sekolah
  - keluarga
  - media massa
  - teman sebaya
  - lingkungan kerja
10. Anak yang dibesarkan dalam lingkungan tempat tinggal yang religius cenderung berperilaku religius pula. Dalam hal ini proses sosialisasi pada anak dipengaruhi oleh faktor....
- ikatan kesukuan
  - lingkungan sosial
  - lingkungan fisik
  - kelas sosial
  - suku bangsa
11. Sosialisasi diharapkan dapat berproses dalam pembentukan kepribadian individu dengan harapan ia dapat menyesuaikan diri dengan aturan masyarakat. Apabila individu tidak sempurna melakukannya maka akan menghasilkan....
- kesenjangan budaya
  - pergeseran nilai sosial
  - kehidupan yang anomi
  - penyimpangan perilaku
  - keterbatasan kehidupan
12. Meskipun beralih sebagai perjuangan jihad, namun masyarakat menolak dengan tegas tindak terorisme. Perilaku seperti itu, ditinjau dari penerimaannya tergolong berjenis penyimpangan ....
- primer
  - lingkungan
  - gaya hidup
  - sekunder
  - kebudayaan
13. Sekolah memberikan pujian dan penghargaan kepada siswa yang berprestasi. Cara pengendalian sosial dalam contoh tersebut tergolong....
- koersif
  - represif
  - protektif
  - edukatif
  - persuasif
14. Agar individu mempunyai kualitas sifat kepribadian yang ideal secara utuh maka lembaga pengendalian sosial yang efektif untuk mewujudkannya adalah ....
- keluarga inti dan agama
  - teman sebaya dan keluarga
  - agama dan perekonomian
  - pengadilan dan kepolisian
  - lembaga pendidikan dan keluarga
15. Gambar pelapisan sosial :



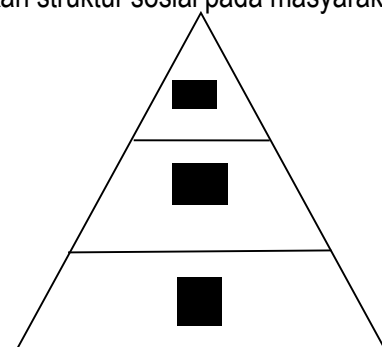
Keterangan :

- 1 = Golongan Komisaris  
 2 = Golongan Direksi  
 3 = Golongan Karyawan

Pelapisan sosial pada gambar tersebut mempunyai ciri yaitu ....

- pendidikan pengusaha cukup tinggi
- dapat meningkatkan karir di perusahaan
- pengalaman kerja diperlukan di perusahaan
- adanya struktur kekuasaan dalam perusahaan
- jumlah pengusaha kuat modal cukup banyak

16. Perhatikan struktur sosial pada masyarakat kolonial berikut !

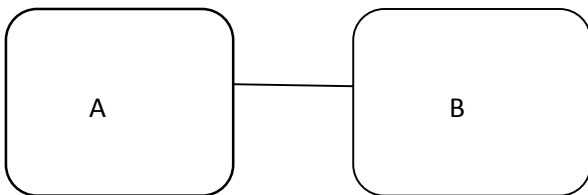


Keterangan :

1. Golongan Kulit Putih
2. Golongan Kulit Kuning
3. Golongan Kulit Coklat

Gambar di atas dapat disimpulkan bahwa yang menjadi dasar pelapisan sosial adalah...

- A. kriteria keahlian
  - B. faktor keturunan
  - C. kematangan pribadi
  - D. tingkat usia/umur
  - E. tingkat kekayaan
17. Perbedaan jenis suku bangsa maupun agama yang dianut masyarakat tidak berpengaruh terhadap tingkat kedudukan sosial individu. Gejala sosial tersebut menunjukkan adanya keragaman kelompok sosial yang bersifat ....
- A. statis
  - B. dinamis
  - C. vertikal
  - D. primordial
  - E. horizontal
18. Skema struktur sosial majemuk:



Keterangan :

A = Kelompok Suku Betawi, Islam, Jakarta  
B = Kelompok Suku Batak, Kristen, Medan

- A. Komunitas majemuk pada gambar tersebut mempunyai potensi konflik karena berbentuk....
  - B. interseksi
  - C. konsolidasi
  - D. integrasi
  - E. institusi
  - F. kooperasi
19. Beberapa waktu lalu terjadi demonstrasi buruh pabrik yang menuntut diberhentikannya seorang oknum direktur karena dianggap bertindak tidak manusiawi terhadap para buruh. Dalam kasus diatas konflik yang terjadi adalah bersifat....
- A. vertikal
  - B. horizontal

- C. individual
- D. kolektikal
- E. internal

20. Dalam upaya menyelesaikan masalah, pihak-pihak yang berkonflik mengirimkan perwakilan untuk berunding sehingga tercapai kesepakatan bagi penyelesaian masalah. Kasus tersebut merupakan contoh penyelesaian konflik dengan cara....
- A. adjudikasi
  - B. arbitrase
  - C. kompromi
  - D. koersi
  - E. stalemate
21. Siswa yang rajin belajar lulus dengan peringkat terbaik dan dapat diterima di perguruan tinggi pilihannya . Contoh tersebut menunjukkan terjadinya bentuk mobilitas sosial.....
- A. horizontal intergenerasi
  - B. vertikal naik intragenerasi
  - C. vertikal turun intragenerasi
  - D. vertikal naik antergenerasi
  - E. vertikal turun antergenerasi
22. Beberapa faktor yang mempengaruhi mobilitas sosial yaitu:
- (1) Konflik dalam masyarakat yang tidak kunjung berhenti
  - (2) Perbedaan antar keyakinan/agama yang dianut masyarakat
  - (3) Keinginan untuk mencapai kehidupan yang semakin sejahtera
  - (4) Keteguhan masyarakat untuk melestarikan budaya
- Dari faktor di atas yang merupakan pendorong terjadinya mobilitas sosial adalah ..
- A. (1) dan (2)
  - B. (1) dan (3)
  - C. (2) dan (3)
  - D. (2) dan (4)
  - E. (3) dan (4)
23. Seorang wanita menikah dengan seorang pria yang berprofesi sebagai dokter. Meskipun si wanita tidak pernah kuliah kedokteran, sekarang ia dipanggil dengan bu dokter. Status sosial yang dialami wanita tersebut menggunakan saluran mobilitas yaitu....
- A. lembaga pendidikan
  - B. lembaga ekonomi
  - C. ikatan perkawinan
  - D. organisasi sosial
  - E. tingkat profesi



24. Konflik yang terjadi pasca pemilu kada sering kali terjadi pada akhir-akhir ini. Penyelesaian pun mengalami kesulitan sehingga harus melibatkan berbagai elemen masyarakat. Jenis konflik yang terjadi pada kasus terkait dengan struktur sosial adalah....
- sosial
  - pribadi
  - politik
  - vertikal
  - horizontal
25. Konflik antara beberapa partai peserta pemilu untuk memenangkan calon pemimpinnya dilatarbelakangi oleh faktor....
- budaya
  - kekayaan
  - pendidikan
  - politik
  - ekonomi
26. Keanekaragaman masyarakat Indonesia di antaranya ditandai dengan perbedaan agama dan keyakinan. Penyebab utama timbulnya keragaman tersebut adalah perbedaan....
- sumber daya alam
  - komposisi penduduk
  - struktur tanah dan iklim
  - latar belakang historis
  - kondisi geografis
27. Beberapa bentuk kelompok sosial yaitu:
- (1) Lembaga Swadaya Masyarakat Anti Pencemaran
  - (2) Organisasi Siswa Intra Sekolah di Jakarta
  - (3) Persatuan Mahasiswa Indonesia di Amerika
  - (4) Paguyuban Masyarakat Minangkabau di Surabaya
- Dari contoh di atas, yang termasuk bentuk kelompok *patembayan* adalah....
- (1) dan (2)
  - (1) dan (3)
  - (2) dan (3)
  - (2) dan (4)
  - (3) dan (4)
28. Konflik horizontal yang terjadi pada masyarakat majemuk sering dilatarbelakangi oleh adanya perbedaan suku bangsa dan agama. Hal ini menunjukkan bahwa secara politis salah satu ciri masyarakat majemuk adalah....
- sulit membangun konsensus
  - banyak jenis pekerjaan pokok
  - mudah mengembangkan demokrasi
  - mempunyai pengalaman sejarah politik
  - munculnya banyak tokoh-tokoh negara
29. Warga di suatu Rukun Tetangga (RT) dapat bersatu untuk membangun wilayahnya meskipun memiliki latar belakang berbeda-beda. Hal ini karena mereka diikat oleh kesamaan....
- suku bangsa
  - tempat tinggal
  - pekerjaan
  - ekonomi
  - agama
30. Pornografi dan pornoaksi yang sekarang ini sangat intens menjadi berita di berbagai media menggambarkan menguatnya sikap....
- patriotis
  - chauvinis
  - hedonis
  - primordialis
  - egosentris
31. Perubahan pada mode pakaian merupakan sesuatu yang berulang-ulang. Mode yang terjadi sekarang pada dasarnya memiliki kesamaan atau kemiripan dengan yang terjadi sebelumnya. Pola perubahan ini seperti itu berbentuk....
- siklikal
  - linear
  - revolusi
  - gradual
  - radikal
32. Trend gaya rambut dan pakaian selalu berubah-ubah sejalan dengan perubahan zaman. Hal ini dapat dijelaskan dengan teori....
- fungsional
  - konflik
  - revolusi
  - linier
  - siklus
33. Penemuan teknologi android pada telepon seluler (HP) sangat besar pengaruhnya bagi kehidupan sosial. Dampak positif dari penemuan tersebut adalah...
- membentuk perilaku individual
  - menambah prestise dari individu
  - menambah anggaran pengeluaran

- D. memperlancar hubungan komunikasi  
E. meningkatnya budaya konsumerisme
34. Di bawah adalah faktor penyebab perubahan sosial yaitu:
- (1) Adanya penemuan baru dalam berbagai bidang
  - (2) Pertentangan dalam masyarakat yang berlarut-larut
  - (3) Konflik batas wilayah antarnegara yang berdekatan
  - (4) Terjadinya bencana alam yang memaan korban
- Faktor eksternal perubahan sosial adalah....
- A. (1) dan (2)
  - B. (1) dan (3)
  - C. (2) dan (3)
  - D. (2) dan (4)
  - E. (3) dan (4)
35. Beberapa faktor yang mempengaruhi perubahan sosial:
- (1) Sikap masyarakat yang terbuka terhadap pembaruan
  - (2) Sistem stratifikasi/pelapisan sosial yang bersifat terbuka
  - (3) Sistem sosial dalam masyarakat yang masih feodalis
  - (4) Kepentingan untuk bertahan pada jabatan (*vested interest*)
- Faktor yang mendorong perubahan sosial adalah .....
- A. (1) dan (2)
  - B. (1) dan (3)
  - C. (2) dan (3)
  - D. (2) dan (4)
  - E. (3) dan (4)
36. Perubahan sosial dalam hal kebebasan individu/kelompok mempunyai dampak negatif terhadap kehidupan masyarakat bahkan membahayakan masa depan golongan generasi muda. Dampak negatif perubahan sosial tersebut adalah berkaitan dengan....
- A. konsumerisme
  - B. kriminalitas
  - C. hedonisme
  - D. etnosentrisme
  - E. pencemaran
37. Ada suatu jaringan yang berupa proses-proses hubungan antarmanusia dan atau antarkelompok. Jaringan tersebut berfungsi untuk memelihara pola-pola hubungan agar sesuai dengan kepentingan-kepentingan manusia dalam kelompok. Deskripsi singkat tadi menjelaskan adanya....
- A. lembaga sosial
  - B. deviasi sosial
  - C. interseksi sosial
  - D. kontrol sosial
  - E. konsolidasi sosial
38. Perhatikan pernyataan berikut !
- (1) Sikap dan perilaku terwujud melalui aktivitas primer
  - (2) Mempunyai alat-alat perlengkapan untuk mencapai tujuan
  - (3) Mempunyai tradisi yang mengatur kegiatan hidup masyarakat
  - (4) Mudah dipahami oleh masyarakat sehingga terjadi keragaman
- Yang termasuk dalam ciri-ciri lembaga sosial adalah.....
- A. (1) dan (2)
  - B. (1) dan (3)
  - C. (2) dan (3)
  - D. (2) dan (4)
  - E. (3) dan (4)
39. Keluarga memberikan bimbingan dan pendidikan agar anak dapat memiliki kepribadian yang sesuai aturan dan berguna dalam kehidupannya kelak. Deskripsi tersebut menjelaskan bahwa dalam keluarga terjadi fungsi.....
- A. reproduksi
  - B. sosialisasi
  - C. transmisi
  - D. ekonomi
  - E. afeksi
40. Lembaga Hukum merupakan salah satu lembaga sosial yang muncul dan dikembangkan masyarakat untuk memenuhi kebutuhan khusus masyarakat, yaitu.....
- A. keamanan
  - B. kesejahteraan
  - C. pengakuan hak
  - D. keteraturan perilaku
  - E. kebahagiaan hakiki

41. Peneliti sangat tertarik dengan topik tentang perubahan paradigma dalam bidang pendidikan. Topik penelitian yang dipilih peneliti tersebut sudah baik karena....
- mempunyai kegunaan praktis dan bermanfaat untuk diteliti
  - penelitian akan dapat selesai tepat dengan yang direncanakan
  - topik dapat diteliti sesuai dengan kemampuan ilmiah si peneliti
  - menghindari adanya plagiat dengan topik penelitian yang lainnya
  - data yang diperlukan akan mudah didapatkan dalam penelitian

42. Sebagai peneliti pemula, para siswa mengumpulkan data dengan cara melakukan pengamatan dan mengajak bicara sopir angkutan umum untuk memperoleh data penelitian sosial. Dilihat dari tempat datanya, jenis penelitian tersebut tergolong penelitian....
- kepustakaan
  - laboratorium
  - lapangan
  - eksperimen
  - populasi

43. siswa peneliti ingin mengetahui apakah siswa yang mengikuti kegiatan ekstrakurikuler memiliki karakter yang lebih baik daripada yang tidak mengikuti ekstrakurikuler. Dari topik tersebut, kegiatan ekstrakurikuler merupakan ....

Tahun	Jumlah Penduduk (dalam jutaan )	Jumlah Bahan Pokok (dalam puluhan ton)
2004	11.40	13,46
2005	12,40	14, 88
2006	14.49	16,01
2007	13.56	14,68
2008	12.77	13,24

- data empiris
  - data internal
  - sumber data
  - variable bebas
  - variable terikat
44. Dalam membentuk opini publik untuk figur presiden mendatang, suatu lembaga survey mengadakan polling terhadap masyarakat yang menjadi sampel.

Dilihat dari proses pengumpulannya, data tersebut termasuk jenis ....

- objektif
- kualitatif
- kuantitatif
- sekunder
- primer

45. Penelitian tentang gaya aktivitas sekunder dari para siswa dari berbagai kota kecamatan di Indonesia. Sampel penelitian tersebut sangat *representative* karena dipilih dengan menggunakan teknik ....

- wilayah
- peluang
- kelompok
- bertingkat
- proporsi

46. Setelah menyusun daftar pertanyaan secara sistematis dan menyeluruh tentang topik tertentu, siswa peneliti mendatangi para pengunjung rasa untuk dimintai keterangannya mengenai alasan tuntutan mereka. Metode pengumpulan data tersebut adalah ....

- dokumentasi
- observasi
- interview
- kuesioner
- eksperimen

47. Pengumpulan data dengan metode angket sangat tepat digunakan pada saat jumlah sumber data sangat banyak dan terpecah di berbagai tempat. Pertimbangan tersebut sesuai dengan kelebihan metode angket untuk ....

- meningkatkan kualitas data
- mengungkap perilaku individu
- memperoleh data yang mendalam
- mendapatkan data dengan mudah
- mampu merekam seluruh kejadian

48. Perkembangan jumlah penduduk miskin dan kebutuhan bahan pokok sebagai berikut:

Berdasarkan tabel tersebut, rasio kebutuhan bahan pokok terbesar adalah pada tahun....

- 2004
- 2005
- 2006
- 2007
- 2008

49. Bagian dari laporan hasil penelitian yaitu:

- (1) Kata Pengantar
- (2) Pendahuluan
- (3) Daftar Pustaka
- (4) Pembahasan

Bagian dari sistematika laporan hasil penelitian yang digolongkan dalam bagian pokok/isi penelitian adalah....

- A. (1) dan (2)
- B. (1) dan (3)
- C. (2) dan (3)
- D. (2) dan (4)
- E. (3) dan (4)

50. Peneliti harus membuat laporan hasil penelitian secara sistematis dalam bentuk karya tulis. Bagi kepentingan masyarakat umum, laporan penelitian tersebut sangat bermanfaat untuk ....

- A. menggunakan hasil penelitian
- B. melatih individu dalam meneliti
- C. memperoleh informasi ilmiah
- D. menjadi analisis data dalam penelitian
- E. merumuskan masalah sosial dalam masyarakat



**Petunjuk:**

**Pilih satu jawaban yang benar**

1. Tim SAR dan relawan mengevakuasi penduduk yang berada di sekitar gunung Sinabung Sumatera Utara ke tempat yang lebih aman supaya tidak menimbulkan korban jiwa.

Konsep geografi yang berkaitan dengan informasi tersebut adalah....

- A. Konsep aglomerasi
- B. Konsep morfologi
- C. Konsep pola
- D. Konsep lokasi
- E. Konsep keterjangkauan

2. Pada tahun 2013 pulau Simelue ujung utara pulau Sumatera mengalami beberapa kali diguncang gempa tektonik. Apabila kita lihat dari struktur biologinya wilayah tersebut berada pada garis tumbukan lempeng.

Untuk mengkaji peristiwa tersebut dapat dikaji menggunakan prinsip geografi....

- A. Prinsip deskripsi
- B. Prinsip korologi
- C. Prinsip persebaran
- D. Prinsip interelasi
- E. Prinsip distribusi

3. Dataran Tinggi Dieng merupakan wilayah subur dan bersuhu dingin sehingga cocok untuk usaha pertanian sayur-sayuran yang hasilnya dipasarkan di wilayah Jawa Tengah.

Akibat usaha pertanian sayur-sayuran semakin meningkat, produksi beras wilayah Dieng semakin menurun, produksi beras wilayah Dieng tidak mampu mencukupi kebutuhan beras penduduknya. Beras perlu didatangkan dari wilayah dataran rendah disekitarnya untuk memenuhi kebutuhan beras wilayah Dieng.

Fenomena tersebut tepat dikaji dengan menggunakan pendekatan....

- A. Deskripsi
- B. Interelasi
- C. Keruangan
- D. Kewilayahan
- E. Kelingkungan

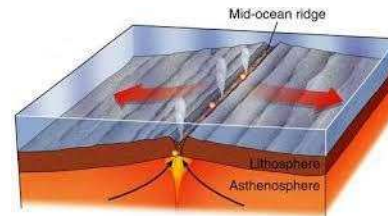
4. Perhatikan aspek kajian nonfisik geografi :

- 1. Pertanian dilahan basah
- 2. Industri tekstil
- 3. Kesenian tradisional
- 4. Sarana transportasi, dan
- 5. Bahasa daerah

kajian aspek ekonomi ditunjukkan nomor....

- A. 1,2, dan 3
- B. 1,2, dan 4
- C. 2,3, dan 4
- D. 2,3, dan 5
- E. 3,4, dan 5

5. Perhatikan gambar berikut!



Gambar tersebut menunjukkan gerakan lempeng....

- A. Divergen
- B. Transform
- C. Vulkanisme
- D. Oseisme
- E. Konvergen

6. menurut teori yang dikemukakan oleh Edward Zuess (1884) ia menyatakan bahwa bumi pada awalnya terdiri atas benua yaitu....

- A. Laurasia dan Eropa
- B. Greenland dan Gondwana
- C. Laurasia dan Gondwana
- D. Australia dan Afrika
- E. Antartika dan Amerika

7. Proses pembentukan tata surya menurut teori Nebula adalah....

- A. tata surya berasal dari kabut tipis yang sangat luas dan bersuhu tinggi yang berputar
- B. tata surya berasal dari bahan-bahan padat kecil yang mengelilingi inti yang berwujud gas bersuhu tinggi
- C. planet-planet terbentuk karena adanya bagian matahari yang tertarik dan terlepas oleh pengaruh gravitasi bintang yang melintas
- D. planet-planet terbentuk dari salah satu matahari kembar yang meledak akibat tertubruk oleh bintang lain yang melintas
- E. tata surya berasal dari awan yang sangat luas yang terdiri atas debu dan gas yang menyusut sehingga terjadi gaya tarik menarik, serta gerakan berputar yang sangat cepat dan teratur, terbentuk piringan seperti cakram

8. Salah satu bukti adanya pertemuan antarlempeng tektonik adalah....
- A. adanya batas daratan dan lautan
  - B. adanya gerak samudera yang terlihat menumpang diatas kerak benua
  - C. adanya gua-gua bawah tanah
  - D. adanya minyak bumi dan bahan tambang mineral
  - E. adanya gempa bumi dan kegiatan kegunungan

9. Perhatikan gambar berikut :



Planet ini berjarak kira-kira 1.427.000.000 km dengan matahari, planet ini mempunyai 3 cincin tipis yang arahnya selalu sejajar dengan equator. Gambar tersebut merupakan karakteristik planet....

- A. Merkurius
  - B. Venus
  - C. Bumi
  - D. Saturnus
  - E. Uranus
10. Salah satu dampak yang timbul akibat gerak tektonik epirogenesa adalah terbentuknya....
- A. Teras pantai bertingkat dipulau Timor
  - B. Rangkaian pegunungan bukit Barisan di pulau Sumatera
  - C. Patahan Lembang di Bandung, Jawa Barat
  - D. Patahan Semangko dipulau Sumatera
  - E. Kompleks gunung Bromo diprovinsi Jawa Timur

11. Ciri-ciri lapisan atmosfer :
- 1) pada lapisan ini terjadi inversi suhu artinya suhu udara bertambah tinggi seiring naiknya ketinggian
  - 2) suhu rata-rata mencapai maksimum sekitar 57°C
  - 3) pada ketinggian diatas 30km terbentuk lapisan Ozon
  - 4) terdapat lapisan stratopause
- Merupakan ciri-ciri lapisan atmosfer....
- A. Troposfer
  - B. Stratosfer
  - C. Mesosfer
  - D. Thermosfer
  - E. Eksosfer

12. Angin adalah udara yang bergerak dari daerah yang bertekanan maksimum kedaerah yang bertekanan minimum. Faktor-faktor yang mempengaruhi kecepatan angin adalah....
- A. Besar kecilnya gradien-gradien barometrik
  - B. Sudut datang sinar matahari
  - C. Lamanya penyinaran
  - D. Ketinggian tempat
  - E. Banyak sedikitnya awan

13. Angin yang bertiup terus-menerus dari daerah maksimum subtropik utara dan selatan (30°-40°) menuju daerah khatulistiwa disebut....
- A. Angin muson
  - B. Angin passat
  - C. Angin darat
  - D. Angin lembah
  - E. Angin fohn

14. Alat untuk mengukur kelembaban udara disebut....
- A. higrometer
  - B. termometer
  - C. barometer
  - D. fluviometer
  - E. salinitas

15. Perhatikan gambar berikut!



Adanya pertemuan massa udara panas dengan massa udara dingin pada gambar menimbulkan hujan....

- A. Zenit
- B. Orografis
- C. Frontal
- D. Siklonal
- E. Muson

16. Klasifikasi iklim :

- 1. Padi
- 2. Kelapa
- 3. Jagung
- 4. Kopi
- 5. Sayuran

Menurut Yunghuhn membuat klasifikasi iklim berdasarkan ketinggian tempat dan jenis vegetasinya. Zona iklim panas ditunjukkan nomor....

- A. 1,2, dan 3
- B. 2,3, dan 4
- C. 3,4 dan 5
- D. 1,3, dan 5
- E. 2,3, dan 5

17. Perhatikan gambar berikut!



Kawasan hutan pada gambar adalah....

- A. Hutan musim
- B. Hutan meranggas
- C. Hutan hujan tropis
- D. Hutan sabana
- E. Hutan padang rumput

18. La Nina merupakan salah satu gejala perubahan iklim global. Dampak La Nina bagi Indonesia adalah....

- A. Indonesia mengalami musim kemarau yang lebih panjang daripada keadaan normal
- B. Indonesia mengalami musim hujan yang lebih panjang daripada keadaan normal
- C. Indonesia mengalami hujan salju pada musim pancaroba
- D. Indonesia dilanda puting beliung pada musim pancaroba
- E. Indonesia mengalami pengurangan luas hutan konservasi

19. Batu yang digunakan untuk campuran pembuatan semen adalah....

- A. Batu apung
- B. Batu gamping

- C. Batu granit
- D. Batu koral
- E. Batu serpih

20. Proses penghancuran massa batuan, tanpa mengubah struktur kimiawi batuan tersebut tetapi merupakan penghancuran bongkah batuan menjadi bagian-bagian yang lebih kecil disebut....

- A. Pelapukan biologi
- B. Pelapukan mekanik
- C. Pelapukan organik
- D. Pelapukan kimiawi
- E. Proses oksidasi

21. Gambar bentuk lipatan!



Bentuk lipatan pada gambar adalah....

- A. Lipatan tegak
- B. Lipatan miring
- C. Lipatan menggantung
- D. Lipatan isoklinal
- E. Lipatan rebah

22. Pernyataan :

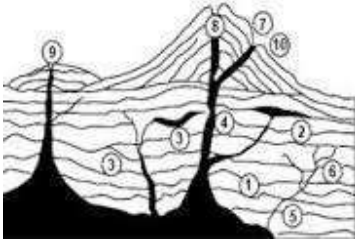
- 1) dekstral
- 2) sinistral
- 3) fleksur
- 4) block mountain
- 5) tektogenesis

Bentuk-bentuk patahan/retakan pada batuan yang telah mengalami pergeseran ditunjukkan nomor....

- A. 1,2, dan 3
- B. 2,3, dan 4
- C. 3,4, dan 5
- D. 1,3, dan 4
- E. 2,4, dan 5



23. Gambar penampang gunung api!



Berdasarkan gambar posisi batolit dan diatrema ditunjukkan nomor....

- A. 1 dan 10
- B. 1 dan 4
- C. 2 dan 5
- D. 3 dan 6
- E. 7 dan 8

24. Salah satu faktor yang mempengaruhi tipe letusan gunung api adalah....

- A. Pergeseran lapisan batuan
- B. Tingkat kedahsyatan letusan
- C. Banyaknya semburan gas
- D. Tekanan gas magnetik
- E. Banyaknya material padat

25. Gempa bumi yang terjadi akibat aktivitas tektonik yaitu retakan/patahan, jenis gempa ini merupakan jenis gempa yang terkuat dan meliputi areal yang luas.

Jenis gempa ini adalah....

- A. Gempa vulkanik
- B. Gempa runtunan
- C. Gempa tektonik
- D. Gempa linier
- E. Gempa central

26. Proses presipitasi dan perkolasi dari siklus hidrologi pada gambar adalah nomor....



- A. 1 dan 2
- B. 2 dan 3
- C. 3 dan 4
- D. 4 dan 5
- E. 1 dan 5

27. Pola aliran sungai yang ditunjukkan pada gambar adalah....



- A. Pola radial sentripetal
- B. Pola radial sentrifugal
- C. Pola denritik
- D. Pola trellis
- E. Pola retagular

28. Air tanah yang memancar ke luar dari lapisan batuan yang bersifat kedap, disebut....

- A. Air freatik
- B. Air aquifer
- C. Air artesis
- D. Air tanah dalam
- E. mata air

29. Pada saat terjadinya gempa di sekitar pantai dan diikuti surutnya air laut, maka yang harus anda lakukan adalah....

- A. Membantu mencari informasi tentang gempa
- B. Mencari tempat yang lebih tinggi
- C. Mengidentifikasi kekuatan gempa
- D. Menghimbau masyarakat untuk segera menggungsi
- E. Menghubungi pihak-pihak yang berwajib

30. Tanah yang menjadi endapan lumpur yang dibawa oleh aliran sungai dinamakan....

- A. Tanah podzolik
- B. Tanah pasir
- C. Tanah humus
- D. Tanah organosol
- E. Tanah alluvial

31. Di pulau Kalimantan terdapat banyak rawa. Jenis tanah yang terdapat didaerah tersebut adalah....

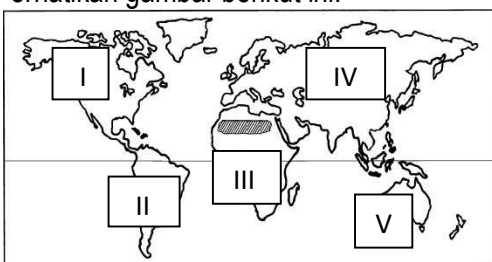
- A. andosol
- B. laterit
- C. margel
- D. gambut
- E. terarosa

32. Pemanfaatan lahan yang memiliki kemiringan lereng 55%, untuk pertanian agar kesuburan tanah tetap terjaga dilakukan dengan cara....

- A. membuat terasering
- B. Membajak searah kemiringan lereng

- C. Menanam tanaman yang berusia muda
  - D. Ladang berpindah-pindah
  - E. menanam dengan hortikultura
33. Proses infiltrasi air ditentukan oleh....
- A. Kelembaban tanah dan persebaran vegetasi
  - B. Porositas batuan dan kelembaban tanah
  - C. Kesuburan tanah dan porositas batuan
  - D. Persebaran vegetasi dan kesuburan tanah
  - E. Musim dan aktifitas manusia
34. Migrasi harian disebut juga mobilitas ulang-alik. Contoh kegiatan mobilitas ulang alik adalah....
- A. Karyawan bekerja pada perusahaan dengan tugas berkeliling ke kota-kota di seluruh pelosok negeri
  - B. Karyawan sebuah perusahaan swasta di Jakarta yang bermukim di Bogor , setiap hari pulang dan pergi menggunakan kereta api komuter
  - C. Karyawan yang bekerja di satu kota kembali ke daerah asalnya pada akhir pekan
  - D. Pedagang sayuran dari daerah pegunungan setiap hari menjual dagangannya di pasar desa di kaki pegunungan
  - E. Patani menjadi pekerja lepas di perkotaan selama beberapa waktu selama menunggu masa tanam dimulai
35. Salah satu ciri fauna Indonesia bagian barat adalah....
- A. Mamalia dan bertubuh besar
  - B. Tidak terdapat ikan air tawar
  - C. banyak binatang berkantung
  - D. Banyak jenis burung berwarna indah
  - E. Binatangnya besar dan berbulu tebal
36. Masalah sosial yang dialami oleh daerah tujuan urbanisasi adalah....
- A. Tingkat kriminalitas semakin meningkat
  - B. Jumlah permukiman kumuh meningkat
  - C. Harga lahan di pusat kota semakin mahal
  - D. Jumlah lapangan kerja semakin sedikit
  - E. Biaya perawatan kesehatan semakin mahal

37. Perhatikan gambar berikut ini!



Habitat antelop, prairie dog, salamander, dan bison ditunjukkan nomor....

- A. I
- B. II
- C. III
- D. IV
- E. V

38. Perhatikan tabel jumlah penduduk kota X !

No.	Kelompok Umur	Jumlah Penduduk
1.	0-14 tahun	23.000 jiwa
2.	15-64 tahun	20.000 jiwa
3.	> 64 tahun	7.000 jiwa

Berdasarkan kondisi kependudukan tersebut pemerintah setempat berencana menambah jumlah sekolah dan pabrik tekstil. Kebijakan pemerintah tersebut berdasarkan pada alasan....

- A. Kota X memiliki angka pengangguran yang tinggi
- B. Kualitas sumber daya manusia di kota X tergolong rendah
- C. Sebagian besar penduduk kota X berada pada usia muda dan usia produktif
- D. Tingkat pendidikan di kota X tergolong rendah
- E. Sebagian besar penduduk kota X berusia tua

39. Perhatikan pernyataan berikut!

- 1) menyejukkan dan membersihkan udara
- 2) sebagai media peramalan iklim dan cuaca
- 3) mengurangi pemanasan global
- 4) membentuk awan
- 5) sebagai lokasi penyimpanan air tanah

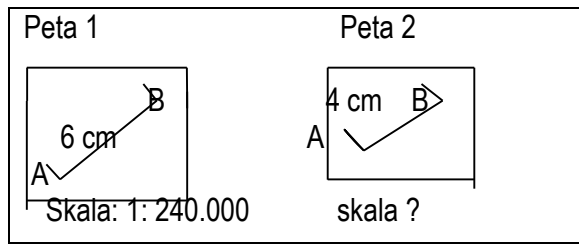
Pernyataan diatas yang menunjukkan manfaat sumber daya hutan bagi lingkungan alam adalah....

- A. 1,3, dan 5
- B. 1,4, dan 5
- C. 2,3, dan 5
- D. 2,4, dan 5
- E. 3,4, dan 5

40. Manfaat hutan sangat penting bagi bangsa, negara, bahkan tatanan alam dipermukaan bumi. Berikut ini adalah salah satu fungsi strategis dari hutan adalah....

- A. Perlindungan dan kelestarian
- B. Keindahan dan kelestarian
- C. Pertahanan dan perlindungan
- D. Pengatur tata air dan iklim
- E. Kelestarian sumber daya alam nabati

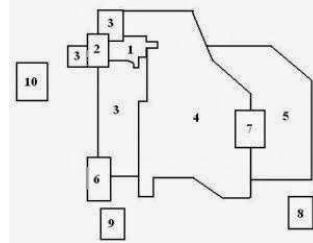
41. Dengan membandingkan skala peta 1 seperti gambar maka peta 2 mempunyai skala....



- A. 1 : 140.000  
B. 1 : 160.000  
C. 1 : 200.000  
D. 1 : 280.000  
E. 1 : 360.000
42. Penerapan prinsip keefisiensi dalam pemanfaatan bahan tambang adalah....
- A. Melarang berbagai usaha pertambangan agar hasil tambang tidak habis  
B. Menghemat penggunaan bahan tambang sehingga masih bisa dinikmati generasi mendatang  
C. Mengekspor bahan tambang sebesar-besarnya untuk kepentingan ekonomi  
D. Mengelola bahan tambang secara maksimal untuk mendapat keuntungan yang besar  
E. Membuka daerah pertambangan baru untuk mendapatkan hasil tambang sebesar-besarnya
43. Pemanfaatan sistem informasi geografi (SIG) dibidang perencanaan ruang adalah....
- A. Kawasan lahan potensial dan lahan kritis  
B. Kawasan lahan pertanian dan perkebunan  
C. Memantau luas wilayah bencana ala  
D. Menyusun rencana pembangunan kembali daerah bencana  
E. Pengembangan kawasan permukiman
44. Pernyataan :
- 1) Desa sebagai pemasok bahan mentah, pangan bagi kota
  - 2) Desa sebagai penyedia tenaga kerja bagi kota
  - 3) Desa sebagai penyedia objek wisata bagi masyarakat
  - 4) Desa sebagai pemasok IPTEK bagi masyarakat kota
  - 5) Desa sebagai penyedia sarana telekomunikasi bagi kota
- Potensi desa dalam kaitannya dengan perkembangan kota dan desa. Desa sebagai kawasan hinterland bagi kota adalah nomor....

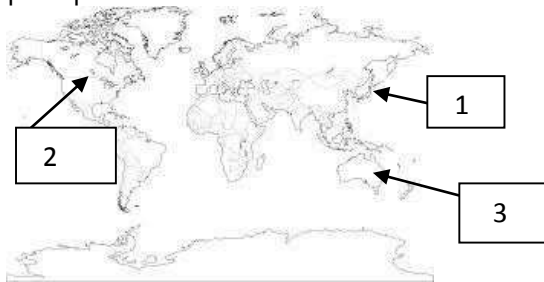
- A. 1,2, dan 3  
B. 2,3, dan 4  
C. 3,4, dan 5  
D. 1,3, dan 5  
E. 2,4, dan 5

45. Zona kawasan permukiman kaum buruh dan kawasan industri pada gambar adalah nomor....



- A. 1 dan 2  
B. 3 dan 4  
C. 5 dan 6  
D. 7 dan 8  
E. 3 dan 9
46. Faktor-faktor yang mempengaruhi terjadinya relokasi industri adalah....
- A. Upah buruh dinegara berkembang lebih murah  
B. Bertambahnya tingkat polusi dinegara maju  
C. Berkurangnya tingkat polusi udara dinegara berkembang  
D. Mulai pudarnya nilai/norma masyarakat dikota  
E. Meningkatnya arus urbanisasi dikota
47. Kelompok negara yang termasuk negara berkembang adalah....
- A. India, Nigeria, dan Jerman  
B. Pakistan, Jepang, dan Irak  
C. Aljazair, Singapura, dan Italia  
D. Bolivia, Amerika Serikat, dan Honduras  
E. Thailand, Paraguay, dan Tunisia
48. Negara maju dianggap sebagai negara mandiri yang telah mencapai kemajuan disegala bidang. Hal ini dibuktikan dengan...
- A. Tingkat pengangguran dan buta huruf yang rendah  
B. Tabungan untuk pengebangan industri yang tinggi  
C. Tingkat ekonomi dan penguasaan teknologi yang tinggi  
D. Pengaruh hasil industri dipasar Internasional yang besar  
E. Jumlah penduduk usia produktif yang memadai

49. Negara-negara maju yang diberi angka 1, 2, dan 3 pada peta adalah....



- A. Afrika, Australia, dan Filipina  
B. Jepang, Amerika Serikat, dan Australia  
C. Cina, Selandia Baru, dan Jepang  
D. India, Argentina, dan Papua Nugini  
E. Afrika, Filipina, dan Selandia Baru
50. Ciri objek yang terlihat pada citra :
- 1) Rona : cerah
  - 2) Bentuk : berupa garis sejajar
  - 3) Situs : didaerah dataran
  - 4) Warna : hitam
  - 5) Ukuran : panjang dan lebar  $\pm 80$  cm
- Berdasarkan ciri-ciri identifikasi objek, dapat disimpulkan objek yang tergambar pada citra adalah....
- A. Batas wilayah  
B. Jalan raya  
C. Jalan tanah  
D. Saluran irigasi  
E. Rel kereta api